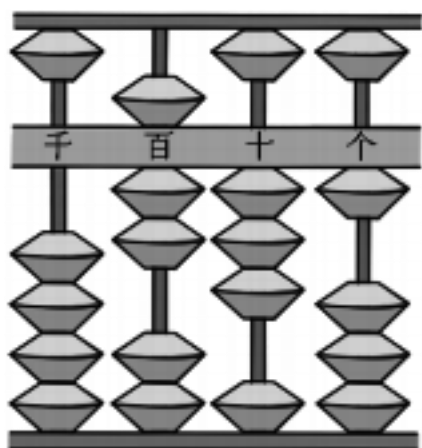


# 苏教版小学二年级下册数学期中测试卷

考试时间：60 分钟、满分：100 分


## 一、填空。(每空 1 分，共 22 分)

1. 由 6 个百和 8 个十组成的数是( )；7 个一和 5 个百合起来是( )。
2. 用算盘记数时，要拨珠靠梁，一个下珠表示( )，一个上珠表示( )，



算盘上表示的数是( )。

3. 一块橡皮 8 角钱，小明带了 2 元钱，最多能买( )块这样的橡皮。
4. 在  $\square \div 6 = \square \dots \dots \square$  中，余数最大是( )。
5. 在  $\square \div \square = \square \dots \dots 6$  中，除数最小是( )。
- 6.



你能把这些数按从小到大的顺序排一排吗？



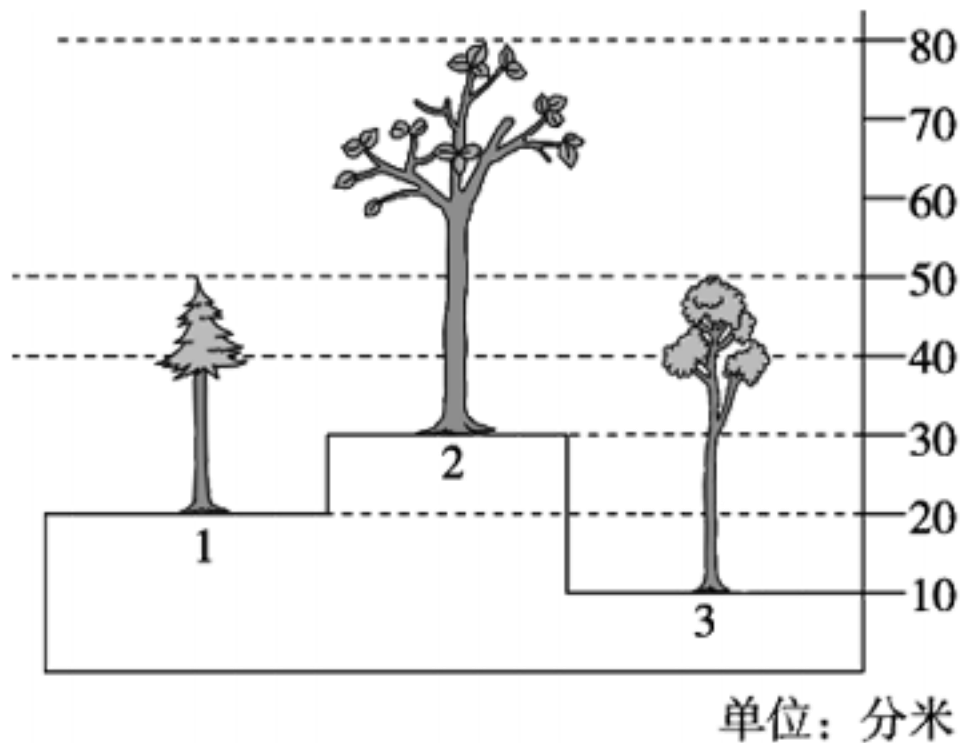
7. 在\_\_\_\_上填上合适的数字。

$$564 < \underline{\quad} 39$$

$$5 \underline{\quad} 7 < 542$$

$$5 \underline{\quad} 6 > \underline{\quad} 72$$

8. 比一比，填一填。



(1) ( ) 号树最高，是 ( ) 分米。

(2) ( ) 号树最矮，是 ( ) 分米。

(3) 2 号树和 3 号树相差 ( ) 分米。

## 二、选择。(每题 2 分，共 10 分)

1. 个位和百位上的数字都是 6，十位上的数字是 2，这个数是 ( )。

A. 662

B. 626

C. 262

2. 下面各数中，( ) 最接近 400。

A. 396

B. 499

C. 405

3. 小红家有 156 本书，小明家的书比小红家多得多，小明家可能有 ( )

本书。

A. 148

B. 158

C. 418

4. 按规律填数:186, 285, 384, ( )。

A. 385

B. 485

C. 483

5. 下表是某线路车上午的发车时间, 第四班车的发车时间最有可能是 ( )。

车次	开车时间
第一班	7:30
第二班	8:15
第三班	9:00
第四班	

A. 9:15

B. 9:45

C. 11:00

三、用竖式计算。(每题 2 分, 共 6 分)

$$45 \div 6 =$$

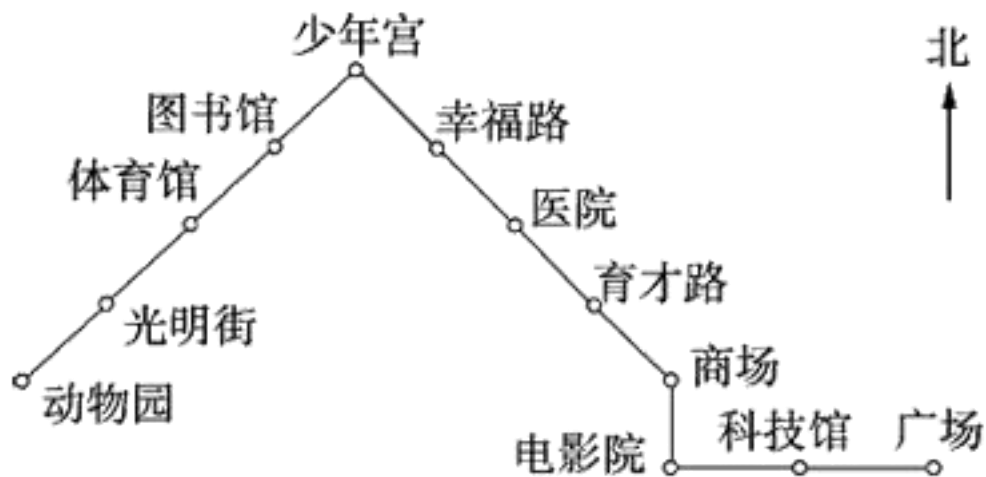
$$49 \div 9 =$$

$$59 \div 8 =$$

四、写出下面各钟面上的时间。(每空 1 分，共 16 分)



五、下面是 1 路公交车的行驶路线图，看图填空。(每空 1 分，共 11 分)



1. 从动物园出发到医院，要先向( )行驶 4 站到少年宫，再向( )行驶( )站到医院。
2. 从广场出发到体育馆，要先向( )行驶( )站到电影院；再向( )行驶( )站到商场；然后向( )行驶( )站到少年宫，最后向( )行驶( )站到体育馆。

六、想一想，按事件发生的先后顺序连一连。(8 分)



七、解决问题。(每题 3 分，共 15 分)

1. 一碗牛肉面 5 元，17 元最多能买几碗牛肉面？还剩几元？

2. 李老师带领 38 名同学去划船，每条船限乘 6 人，至少要租几条船？



3. 有 56 块糖果，如果每人分 9 块，可以分给几个人？还剩几块？

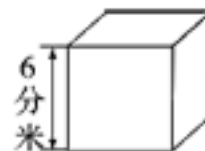
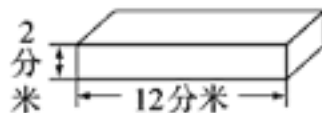
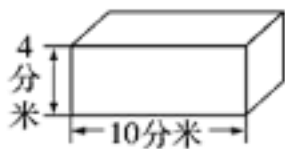
八、用数字卡片 **6** , **3** , **0** , **0** 摆出一个四位数。(每题 2 分，共 6 分)

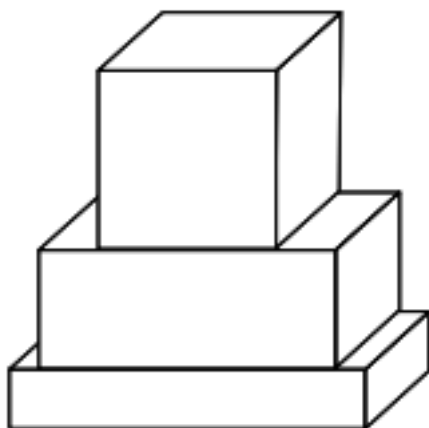
1. 摆出的四位数中，由 3 个千和 6 个十组成的数是( )；

2. 摆出的四位数中，最接近 6000 的数是( )；

3. 摆出的四位数中，需要读出“零”的最大数是( )。

九、看图回答问题。(6 分)





用上面的木块搭出的

的高是多少分米？

[参考答案]

一、

1. 680 507
2. 1 5 731
3. 2
4. 5
5. 7
6. 260 512 1729 3459 3468
7. 6 3 7 5(答案不唯一)
8. (1)2 50  
(2)1 30  
(3)10

二、

- 1.B 2.A 3.C 4.C 5.B

三、

- 7……3 5……4 7……3

四、


- 1 20 1:20 3 35 3:35 7 55 7:55 6 5 6:05

五、

- 1.东北 东南 2
- 2.西 2 北 1 西北 4 西南 2

六、





七、

1.  $17 \div 5 = 3$  (碗)  $\cdots \cdots 2$  (元)
2.  $38 + 1 = 39$  (人),  $39 \div 6 = 6$  (条)  $\cdots \cdots 3$  (人),  $6 + 1 = 7$  (条)
3.  $56 \div 9 = 6$  (个)  $\cdots \cdots 2$  (块)

八、

1. 3060      2. 6003      3. 6030

九、12 分米