

# 2020-2021学年第二学期期中综合能力检测卷

数学 一年级 下册 冀教版

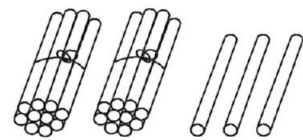
时间:60分钟 满分:(100+10)分

题号	一	二	三	四	五	六	总分	附加题
得分								

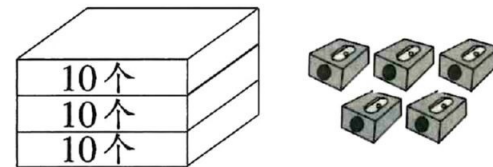
rèn zhēn tián xiě

## 一、认真填写。(每空1分,共28分)

1.



( )个十和( )个一



( )个十和( )个一

2. 3元5角 = ( )角

50分 = ( )角

16角 = ( )元( )角

3角6分 = ( )分

3. (2019 邢台)79 里面有( )个十和( )个一;3 个十和 4 个一组成的数是( ),这个数读作( )。

4. 填一填,圈一圈。



(1)上面一共有( )个物品。

(2) 的左边有( )个物品, 的右边有( )个物品。

(3)把从右往左数的第 4 个物品圈起来。

5. (2019 石家庄)和 71 相邻的数是( )和( )。

6. (2018 石家庄)每本画册 4 元,亮亮买了 2 本,他付了 , 应找回( )元。

7. 看钟表,写时间。



( )



( )



( )



( )

8. 用“大一些”“小一些”“大得多”“小得多”说出 35、68、27、60、41 各数之间的关系。

35 比 41( );

68 比 27( );

68 比 60( );

35 比 68( )。

pàn duàn zhèng wù

duì de huà

cuò de huà

## 二、判断正误。(对的画“√”,错的画“×”)(8分)

1. (2018 邯郸)上下楼梯,都靠右行。

( )

2. 两位数都比一位数大。

( )

3. 表示的时刻都是大约 7 时。

( )

4. 1 张 1 元的人民币可以换 5 枚 1 角的硬币。

( )

zé yōu lǚ qǔ

jiāng zhèng què dá àn de xù hào tián zài kuò hào lǐ

## 三、择优录取。(将正确答案的序号填在括号里)(8分)

1. 36 后面第 5 个数是( )。

①31

②40

③41

2. 由 6 个十和 7 个一组成的数是( )。

①67

②76

③60

3. (2019 保定)一个数比 30 多一些,比 70 少得多,那么这个数可能是( )。

①35

②60

③65

4. 张阿姨要买一件 35 元的 , 她可以选择( )付款。



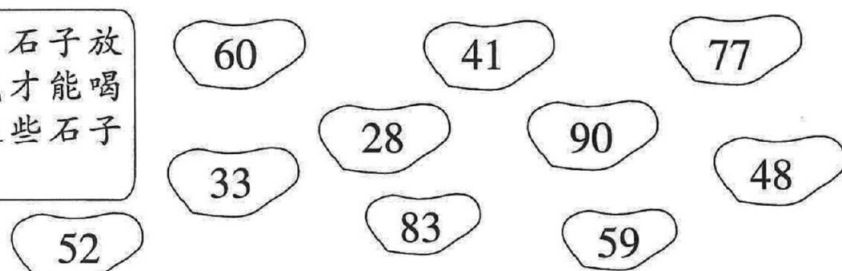


dòng shǒu quān yì quān

#### 四、动手圈一圈。(6分)



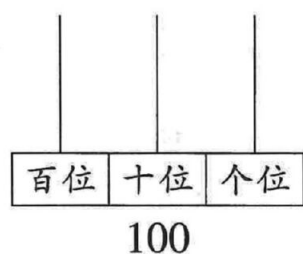
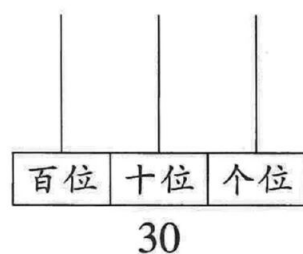
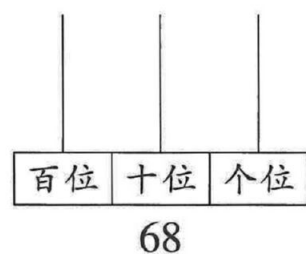
将大于50的石子放入瓶子里,我才能喝到水,请把这些石子圈出来。



àn yāo qiú zuò tí

#### 五、按要求做题。(24分)

##### 1. 根据所给的数画珠子。(9分)

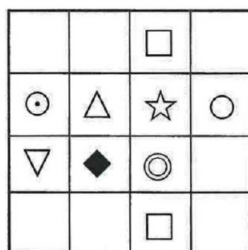


##### 2. (2019 衡水)填一填,画一画。(12分)

(1)◆的左边是( ),上面是( )。

(2)☆在△的( )边,在◎的( )面。

(3)从上往下,第( )行第1个是▽,请在第4行第2个空格里画☺。



##### 3. (2019 邯郸)10元钱正好能买下面哪两种玩具?圈一圈。(3分)



6元8角



4元7角



8元



3元



5元3角

jiě jué wèn tí

#### 六、解决问题。(26分)

1. (朝霞原创)为庆祝中华人民共和国成立70周年,邯郸市在全市范围内开展中小學生“中华经典诵读”比赛。红红和亮亮都是朗读爱好者,他们每天都坚持朗读。(5分)



红红

我每天朗读25篇诗文。



亮亮

我每天朗读的比红红多一些。

亮亮每天可能朗读多少篇诗文?(在合适答案的下面画“√”)

15	30	70

##### 2. 猜一猜。(8分)



小明

我家养鸡40只。



小丽

我家比小明家少一些。



小红

我家比小明家多得多。

小丽家养鸡多少只?(画“√”) 小红家养鸡多少只?(画“○”)

10	34	15

45	48	85

##### 3.



5元5角



9元2角



9元5角



25元5角

(1)用15元正好能买上面哪两种物品?(算一算)(6分)

(2)小文买了一辆玩具汽车和一本故事书,付给售货员20元,够吗?(7分)

fù jiā tí

#### 附加题。(10分)

小军有3张 、3张  和3张 ,他要买下面的手工艺品,可以怎样付款?




28元

# 2020-2021学年第二学期期中综合能力检测卷 参考答案

## 数学 一年级 下册 冀教版

一、1. 2 3 3 5 2. 35 5 1 6 36

3. 7 9 34 三十四

4. (1) 8 (2) 2 4 (3) 

5. 70 72 【点拨】本题考查 100 以内数的认识。和 71 相邻的两个数,是它的前面第一个数和后面第一个数,分别是 70、72。

6. 12 【点拨】本题考查元、角、分的实际应用。一本画册 4 元,两本画册需要  $4 + 4 = 8$  (元),付了 20 元,应该找回  $20 - 8 = 12$  (元)。

7. 12 时 6 时 1 时 9 时

8. 小一些 大得多 大一些 小得多

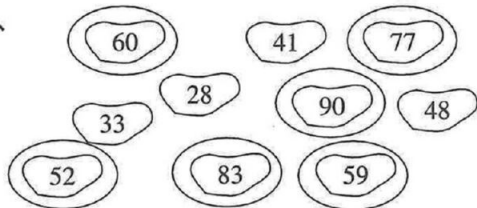
二、1.  $\checkmark$  2.  $\checkmark$  3.  $\checkmark$

4.  $\times$  【点拨】本题考查人民币的换算。1 元 = 10 角,所以 1 张 1 元可以换 10 枚 1 角的硬币。

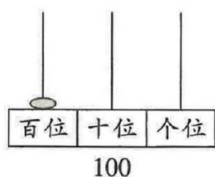
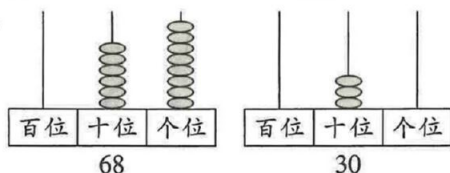
三、1. ③ 【点拨】本题考查 100 以内数的认识及数的顺序。要求一个数后面第几个数是几,先按照数的顺序写出来,如本题中 36、37、38、39、40、41、42、43……36 后面第 5 个数是 41。

2. ① 3. ① 4. ③

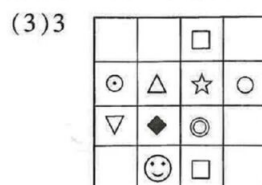
四、



五、1.



2. (1)  $\nabla$   $\triangle$  (2) 右 上



3.



六、1.

15	30	70
	$\checkmark$	

2.

10	34	15	45	48	85
	$\checkmark$				○

3. (1) 玩具汽车和玩具熊

$5 \text{ 元 } 5 \text{ 角} + 9 \text{ 元 } 5 \text{ 角} = 15 \text{ 元}$

(2)  $5 \text{ 元 } 5 \text{ 角} + 9 \text{ 元 } 2 \text{ 角} = 14 \text{ 元 } 7 \text{ 角}$

$14 \text{ 元 } 7 \text{ 角} < 20 \text{ 元}$  够

### 大人辅导延展

一个名人说过:“书是人类进步的阶梯。”我们的国家领导人习近平总书记也号召我们要热爱读书,读书不仅能让我们进步,还能开阔我们的视野。小朋友们,课余时间要多读书哦!

附加题

方法一:付 1 张 10 元、3 张 5 元、3 张 1 元

方法二:付 2 张 10 元、1 张 5 元、3 张 1 元