


2020~2021 学年度第二学期二年级 数学学习质量阶段性练习试题

题号	一	二	三	四	五	六	总评	等级
得分								
评价人								
复核人								

一、用心填一填。(每空1分,算式2分,共24分)

1、把()条鱼平均分给()只小猫,每只小猫分()条鱼。算式:_____。



2、计算 $14 \div 2 = ()$ 时,用到的乘法口诀是(),根据这句口诀再写出一个算式_____。

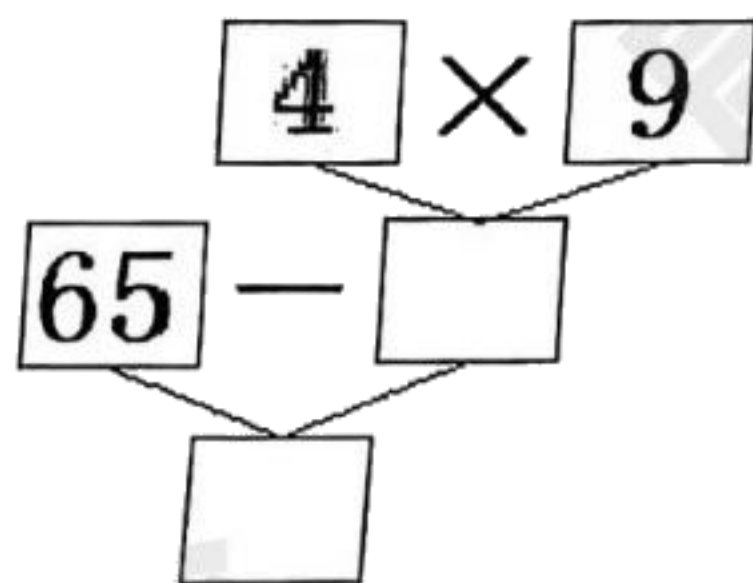
3、 $24 \div 3 = ()$,表示把24平均分成()份,每份是()。

4、被除数是54,除数是9,商是()。

5、27根小棒可以摆()个 , 32根小棒可以摆()个 .

6、一辆  有4个车轮,()辆  有28个车轮。

7、




综合算式:_____。

8、在 \bigcirc 里填上“+”、“-”、“ \times ”或“ \div ”。

$21 \bigcirc 7 = 3$ $9 \bigcirc 3 = 6$ $32 \bigcirc 8 = 40$ $4 \bigcirc 4 = 16$

二、判断。对的在括号内打“√”,错的打“ \times ”。(每题2分,共10分)

9、 $8 \div 8 = 1$ 。 ()

10、 分针在钟面上的运动是平移。 ()

11、每份分得同样多，叫平均分。 ()

12、从 10 里面连续减 2，减 5 次后结果是 0。 ()

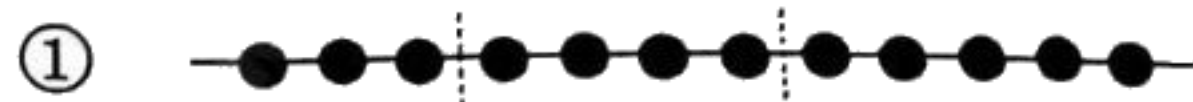
13、像 $45-4\times 5$ 这样的算式按照从左往右的运算顺序计算。 ()

三、精心选一选。将正确答案的序号填在 () 里。(每题 2 分，共 10 分)

14、下面是轴对称图形的是 ()。



15、把 12 颗珠子平均分成 4 份，下列分法正确的是 ()。



16、下列算式中，() 的商是 4。

① 2×2

② $16\div 4$

③ $16\div 2$

17、 $8+4\div 4$ 和 $(8+4)\div 4$ 的计算结果 ()。

① 都是 3

② 都是 9

③ 不一样

18、一本故事书有 40 页，看了 8 页后，剩下的 4 天看完，平均每天看几页？

列式正确的是 ()。

① $(40-8)\div 4$

② $40-8\div 4$

③ $40-8\times 4$

四、细心算一算。(22 分)

19、直接写出得数。(每题 1 分，共 10 分)

$34+9=$

$42\div 6=$

$7\times 8=$

$62-4=$

$5\times 5=$

$18\div 6=$

$12\div 3=$

$36\div 9=$

$91-70=$

$40\div 8=$

20、计算。(每题 3 分, 共 12 分)

① $(66-18) \div 8$ ② $74 - (36+19)$ ③ $72 \div 8 \times 7$ ④ $54 \div (2 \times 3)$

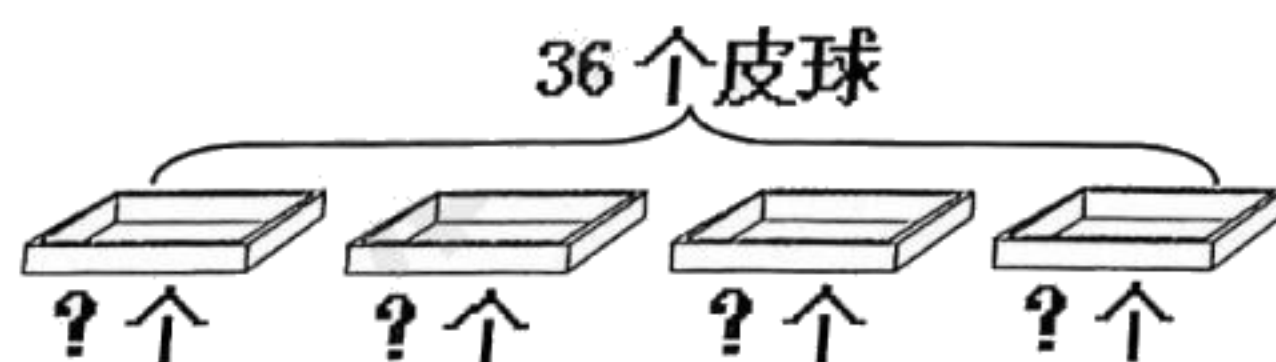
五、动手操作。(共 6 分)

21、下面的哪些图形可以通过平移相互重合? 连一连。(6 分)



六、解决问题。(共 28 分)

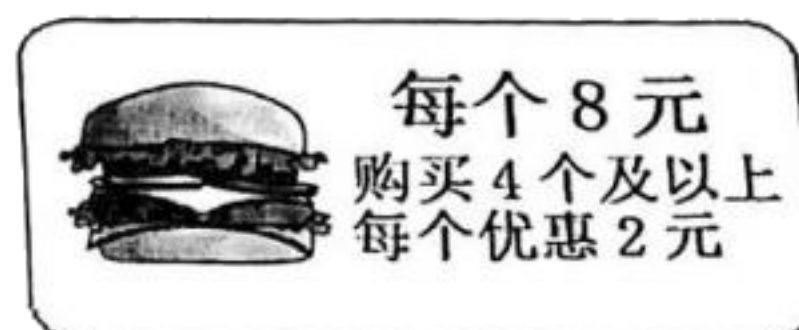
22、36 个皮球, 平均放到 4 个盒子里, 每个盒子放几个? (5 分)



23、面包房上午烤了 90 个面包, 中午卖了 64 个, 下午又烤了 37 个, 面包房下午有多少个面包? (5 分)



24、王老师本来准备买 3 个汉堡，你认为她应该怎么买？（5 分）



25、妈妈做了 30 个包子，送给邻居李奶奶 14 个后，将剩下的包子装在 4 个袋子里，平均每个袋子装多少个？（5 分）

26、下图是记录二（1）班同学最喜欢吃的水果情况。（每人选一项）（8 分）

苹果	正 正 正
梨	正
香蕉	正 一
桔子	正 正 正 下

① 把记录的结果填在下表中。（4 分）

水果	苹果	梨	香蕉	桔子
人数				

② 二（1）班共有 （ ）人。（1 分）

③ 最喜欢吃（ ）的人数最多，最喜欢吃（ ）的人数最少。
（2 分）

④ 老师要在午餐后分发水果，他应该准备的（ ）最多。（1 分）