

# 2020-2021学年第二学期期中综合能力检测卷

数学 二年级 下册 冀教版

时间:60分钟 满分:(100+10)分

题号	一	二	三	四	五	六	总分	附加题
得分								

## 一、填一填。(第8题2分,其余每空1分,共37分)

- 3个百,5个十和7个一组成的数是( ),读作( )。
- (2018 青岛)700里面有( )个百;486里面有( )个百,( )个十和( )个一。
- 在括号里填上合适的单位。  
卢沟桥全长约267( ) 一只鸭重2( )  
我的手掌宽7( ) 一袋白糖重500( )
- $\square \div \triangle = 5 \cdots 2$ ,除数最小是( ),此时被除数是( )。
- 在○里填上“>”“<”或“=”。

$$400 \bigcirc 299 \quad 9 \text{ 分米} \bigcirc 1 \text{ 米} \quad 350 \text{ 克} \bigcirc 5 \text{ 千克}$$

$$608 \bigcirc 806 \quad 40 \text{ 厘米} \bigcirc 8 \text{ 分米} \quad 170 \text{ 千克} \bigcirc 170 \text{ 克}$$

## 6. 按规律填数。

- 360,370,( ),390,( ),( );
- 990,880,( ),660,( ),( )。

7.  $300 \text{ 克} + 700 \text{ 克} = ( ) \text{ 克} = ( ) \text{ 千克}$

7 米 5 分米 = ( ) 分米

8. 将583、358、468、508、610这5个数按从大到小的顺序排列起来是( )。

## 9. □里最大能填几?

$$\square \times 6 < 27 \quad \square \times 8 < 70 \quad \square 82 < 634$$

$$58 > 9 \times \square \quad 84 > 9 \times \square \quad \square 46 < 346$$

10. 红红一家到石家庄市动物园游玩并拍了很多照片,爸爸洗出来100张照片,外婆拿走了34张,剩下的放到相册里,每8张放一页,能放满( )页,余下( )张。

## 二、判一判。(对的画“√”,错的画“×”)(5分)

- “660”中的两个“6”表示的意义相同。( )
- 1千克和999克相差1克。( )
- (2018 南京) $65 \div 8$ 的余数和商相等。( )
- (2019 沧州)1千克棉花和1000克铁比较,铁比较重。( )
- $\square \triangle \bigcirc \square \triangle \bigcirc \cdots$ 第20个图形是 $\triangle$ 。( )

## 三、选一选。(将正确答案的序号填在括号里)(10分)

- 十位上是6的数是( )。  
①650 ②167 ③486
- $\bigcirc \div \triangle = \square \cdots 7$ ,除数可能是( )。  
①6 ②8 ③7
- (2018 石家庄)下图中辣椒长( )厘米。



- ①12 ②11 ③10
- (朝霞原创)小猪奇奇领着弟弟乔乔去看望猪爷爷,给猪爷爷带了2千克水果,他们回家时,猪爷爷又让他们带走了1000克,猪爷爷还剩下( )水果。  
①1000 千克 ②1 千克 ③8 千克
- 二年级有278人,三年级的人数比二年级多一些。三年级可能有( )人。  
①264 ②285 ③502

## 四、用竖式计算。(12分)

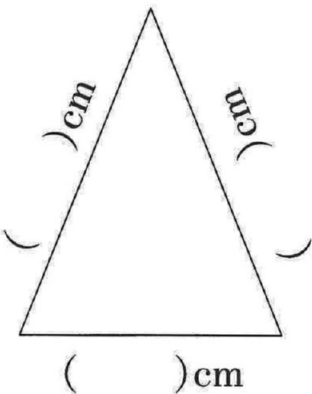
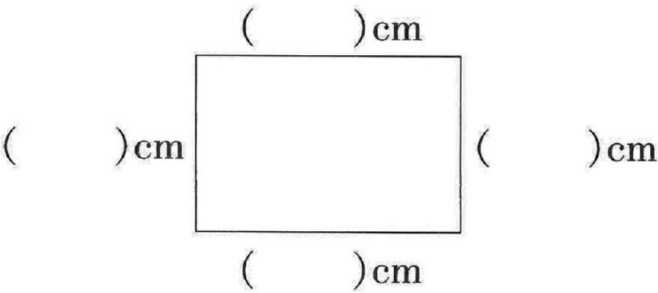
$$26 \div 3 = \quad 36 \div 7 = \quad 40 \div 6 =$$

$$45 \div 8 = \quad 22 \div 5 = \quad 83 \div 9 =$$

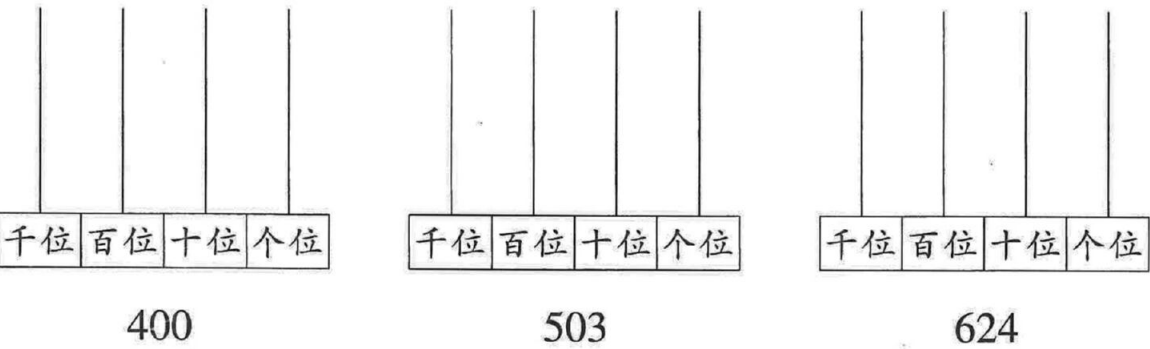
五、动手操作。(15分)

1. 画一条比8厘米短3厘米的线段。(2分)

2. 量一量,填一填。(7分)



3. 看数画珠子。(6分)



六、解决问题。(21分)

1. 在“书送光明”的活动中,一、二、三年级的小朋友给希望小学捐书。(4分)

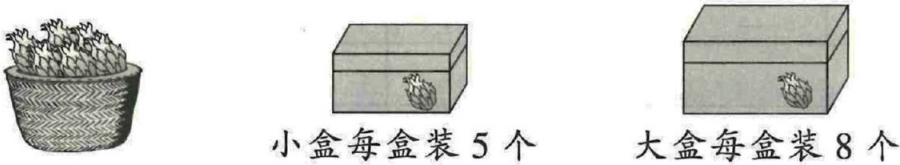


一年级捐了多少本书?(画“√”)三年级捐了多少本书?(画“△”)

96本	122本	153本	288本

2. 为加大学生活动量,育苗小学增加了一些体育器材。学校新买了26个篮球,平均分给二年级4个班,每个班分几个?还剩几个?(4分)


3. 有38个火龙果要包装成盒。



(1)如果都用小盒包装,至少需要几个盒子?(4分)

(2)如果都用大盒包装,至少需要几个盒子?(4分)

4. (2019 深圳)淘气有46个○,最多能拼成多少个奥运五环标志?(5分)



附加题。(10分)

下面这把尺子上只有4个刻度能看清,其他刻度都磨损掉了。想一想,用这把尺子可以量出几种长度?分别写出来。





# 2020-2021学年第二学期期中综合能力检测卷 参考答案

## 数学 二年级 下册 冀教版

一、1. 357 三百五十七 2. 7 4 8 6

3. 米 千克 厘米 克 4. 3 17

5. > < < < < >

6. (1) 380 400 410 (2) 770 550 440

7. 1000 1 75

8.  $610 > 583 > 508 > 468 > 358$

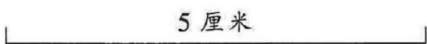
9. 4 8 5 6 9 2


10. 8 2 【点拨】本题考查有余数除法的实际应用。本题是易错题,易错点是容易因为分不清需要装多少张照片而出错。爸爸一共洗出来100张照片,外婆拿走了34张,剩下  $100 - 34 = 66$  (张),这66张要放在相册里,每8张放一页,列式为  $66 \div 8 = 8$  (页)……2(张),即能放满8页,余下2张。

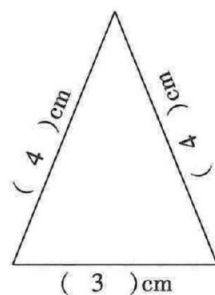
二、1. × 2. √ 3. × 4. × 5. √

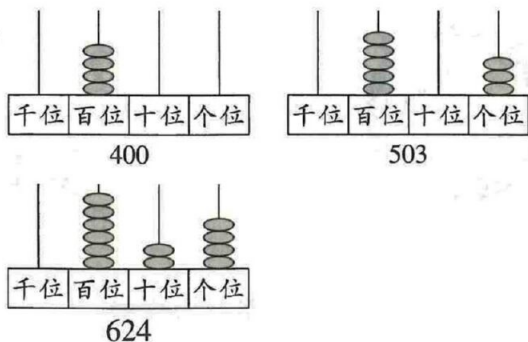
三、1. ② 2. ② 3. ③ 4. ② 5. ②

四、8……2 5……1 6……4 5……5 4……2  
9……2

五、1. 

2. 



3. 

六、1. 

96 本	122 本	153 本	288 本
	√		△

2.  $26 \div 4 = 6$  (个)……2(个)

3. (1)  $38 \div 5 = 7$  (个)……3(个)

至少需要 8 个盒子

(2)  $38 \div 8 = 4$  (个)……6(个)

至少需要 5 个盒子

4.  $46 \div 5 = 9$  (个)……1(个)

最多能拼成 9 个奥运五环标志

【点拨】本题考查有余数除法的实际应用。由图可知,拼成一个奥运五环标志需要 5 个○,一共有 46 个○,  $46 \div 5 = 9$  (个)……1(个),所以最多能拼成 9 个奥运五环标志,还余 1 个○。

### 附加题

6 种,长度分别是 1 厘米、2 厘米、3 厘米、4 厘米、6 厘米、7 厘米。

【点拨】本题考查缺刻度直尺的度量。要求这把尺子可以量出多少种长度,找出 0,1,3,7 之间有多少种距离即可。0 到 1 之间是 1 厘米,0 到 3 之间是 3 厘米,0 到 7 之间是 7 厘米,1 到 3 之间是 2 厘米,1 到 7 之间是 6 厘米,3 到 7 之间是 4 厘米,所以可以量出的长度有 1 厘米、2 厘米、3 厘米、4 厘米、6 厘米、7 厘米,共 6 种。解决这个问题时要按顺序找出距离,不要有遗漏哟!