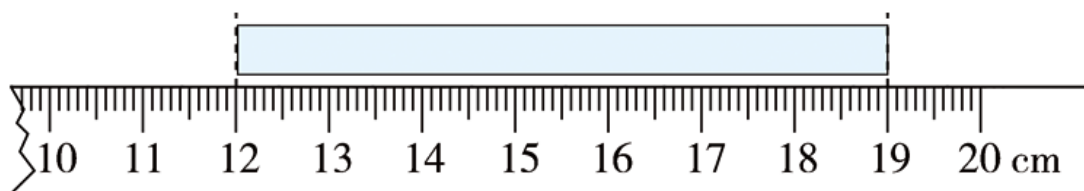


# 冀教版小学二年级下册数学期中测试卷

考试时间：60 分钟、满分：100 分

## 一、填一填。(每空 1 分, 共 17 分)

1. 一袋白糖重 500 克, ( ) 袋这样的白糖重 1000 克。
- 2.



这段直尺大约长 1( ), 上面的纸条长( ) 厘米。

3. 在( ) 里填上 “>” “<” 或 “=”。

30 分米( ) 3 米

8 米( ) 9 分米

200 厘米( ) 30 分米

7 分米( ) 70 厘米

4. 正方形有( ) 条边, ( ) 个角, 每个角都是( ) 角。

5. 在  $\square \div 8 = \bigcirc \cdots \triangle$  中,  $\triangle$  代表的数最大是( )。

6. 从 76 里面连续减 8, 减了( ) 次, 还余 4。

7. 比最大的三位数少 8 的数是( ), 它是由( ) 个百、( ) 个十和( ) 个一组成的, 读作( )。

## 二、判断。(每题 2 分, 共 12 分)

1. 小红家到学校大约有 20 厘米。( )
2. 1 千克棉花比 1 千克铁轻。( )
3. 230 和 360 中的 “3” 表示的意义完全相同。( )
4. 在  $\diamond \div 5 = 7 \cdots \bigcirc$  中,  $\diamond$  代表的数最大是 40。( )
5. 把 36 个苹果放在 9 个盘子里, 每个盘子里一定放 4 个苹果。( )
6. 平行四边形的对边相等, 对角也相等。( )

## 三、选一选。(每题 2 分, 共 10 分)

1.  $8 \times \square < 7 \times 6$ ,  $\square$  里最大能填( )。

A. 2

B. 7

C. 5

D. 4

2. 有 11 人要坐车，每辆车限乘客 4 人，他们至少需要( )辆这样的车。

A. 3

B. 4

C. 2

D. 5

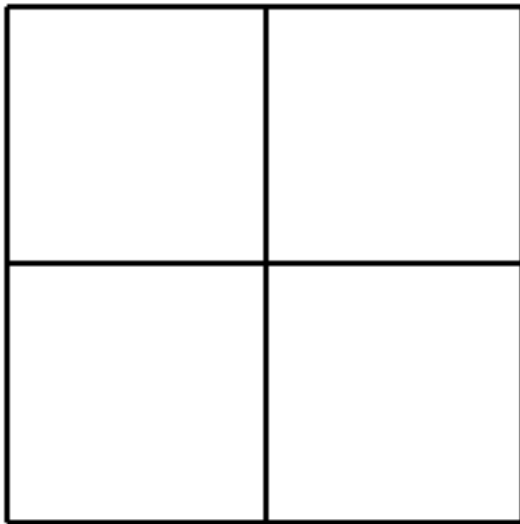
3. 有 1 串彩灯，按照 2 绿、3 黄、4 红的规律排列，第 37 盏彩灯是( )色的。

A. 绿

B. 红

C. 黄

4. 下图中共有( )个正方形。



A. 4

B. 5

C. 6

D. 7

5. 同学们进行射击比赛，得分规则如图 1 所示。甲、乙、丙三名同学中，( )

同学的得分最多，( )同学的得分最少。

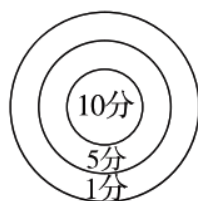
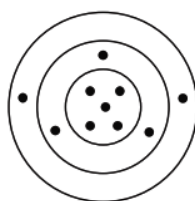
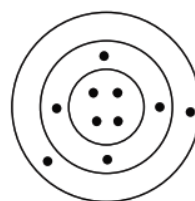


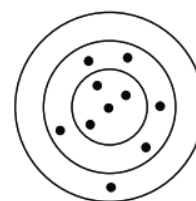
图 1



甲



乙



丙

A. 甲

B. 乙

C. 丙

#### 四、计算。(36 分)

1. 直接写得数。(每空 1 分，共 8 分)

$$71 \div 9 = ( ) \cdots ( )$$

$$64 \div 7 = ( ) \cdots ( )$$

$$57 \div 8 = ( ) \cdots ( )$$

$$34 \div 6 = ( ) \cdots ( )$$

2. 看图列式计算。(每空 1 分，共 16 分)


(1)



$$( ) \div ( ) = ( ) (\text{个}) \cdots ( ) (\text{个})$$

$$( ) \div ( ) = ( ) (\text{盘}) \cdots ( ) (\text{个})$$

(2)



$$( ) \div ( ) = ( ) (\text{条}) \cdots ( ) (\text{条})$$

$$( ) \div ( ) = ( ) (\text{盘}) \cdots ( ) (\text{条})$$

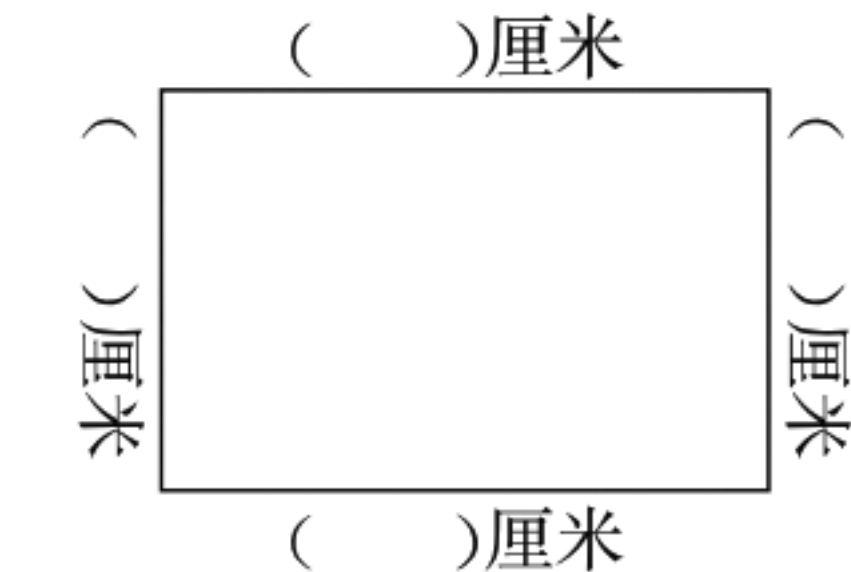
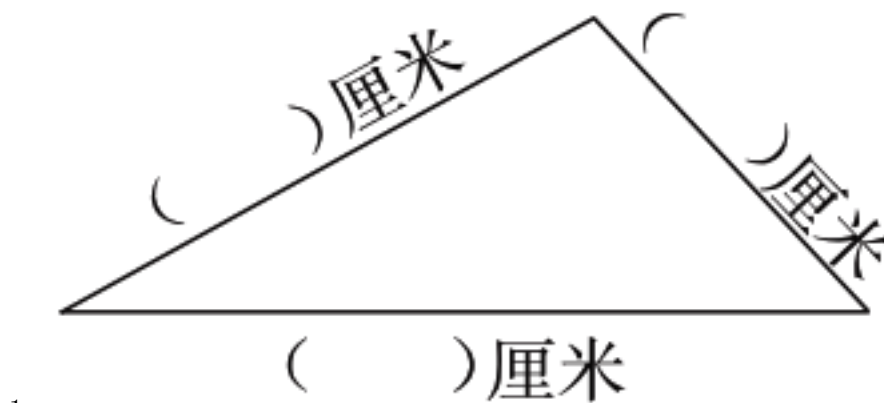
3. 用竖式计算。(每空 1 分，共 12 分)

$$\begin{array}{r} \square \\ 7 \overline{) 54} \\ \square \square \\ \hline \square \end{array}$$

$$\begin{array}{r} \square \\ 9 \overline{) 82} \\ \square \square \\ \hline \square \end{array}$$


$$\begin{array}{r} \square \\ 8 \overline{) 73} \\ \square \square \\ \hline \square \end{array}$$

五、量一量，填一填。（每空 1 分，共 7 分）

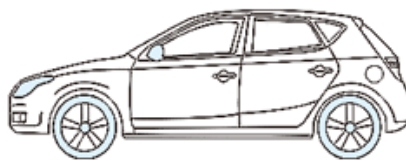


六、解决问题。（18 分）

1. 二(1)班有 34 名同学去旅游。（4 分）



中巴车限乘客 9 人



小汽车限乘客 4 人

(1) 如果都坐小汽车，那么至少需要租几辆？

口答：至少需要租( )辆。

(2) 如果都坐中巴车，那么至少需要租几辆？

口答：至少需要租( )辆。

2. 二(3)班全体同学准备参加学校举行的体操比赛。(4 分)



我们男生有 25 人。



我们女生有 20 人。

(1) 二(3)班一共有多少人？

口答：二(3)班一共有( )人。

(2) 做操时，每 8 人站一排，可以站几排？还剩几人？

口答：可以站( )排，还剩( )人。

3. 姐姐比弟弟高多少分米？合多少厘米？(4 分)



弟弟

我的身高是 14 分米。



姐姐

我的身高是 16 分米。

口答：姐姐比弟弟高( )分米，合( )厘米。

4. 晶晶用一根 5 米长的彩带扎了 6 个礼品盒，还剩 2 分米。平均每个礼品盒用彩带多少分米？(6 分)

口答：平均每个礼品盒用彩带( )分米。

[参考答案]

一、

1. 2
2. 分米 7
3. = > < =
4. 4 4 直
5. 7
6. 9
7. 991 9 9 1 九百九十一

二、

1. × 2. × 3. × 4. × 5. × 6. √

三、

1. C 2. A 3. A 4. B 5. A B

四、

1. 7 8 9 1 7 1 5 4
2. (1) 23 4 5 3 23 5 4 3  
(2) 13 3 4 1 13 4 3 1
- 3.

$\begin{array}{r} \boxed{7} \\ 7 \overline{) 54} \\ \underline{\boxed{49}} \\ \boxed{5} \end{array}$	$\begin{array}{r} \boxed{9} \\ 9 \overline{) 82} \\ \underline{\boxed{81}} \\ \boxed{1} \end{array}$	$\begin{array}{r} \boxed{9} \\ 8 \overline{) 73} \\ \underline{\boxed{72}} \\ \boxed{1} \end{array}$
------------------------------------------------------------------------------------------------------	------------------------------------------------------------------------------------------------------	------------------------------------------------------------------------------------------------------

五、

1. 3 2 4
2. 3 2 2 3

六、

1. (1) 9      (2) 4

2. (1) 45      (2) 5    5

3. 2    20

4. 8