

2020-2021 学年下学期期中教学质量监测

一年级数学试题

(总分:100★, 时间:40 分钟)

条形码粘贴处  
(请水平张贴, 不要倾斜)

一、我会填空。(24 颗☆)

1. 39 和 41 中间的数是 ( ), 这个数再加上 ( ) 个十是 80。

2. 用 

2
1
5
3
4
6

 围成一个 , “5”的对面是“( )”, “2”的对面是“( )”。

3. 比 15 少 6 的数是 ( ), 47 比 30 多 ( )。

4. 一个两位数, 个位上是 6, 十位上是 8, 这个数是 ( )。

5. 69 是一个 ( ) 位数, 一个一个地数, 69 前面的第二个数是 ( ); 70 后面的第二个数是 ( )。

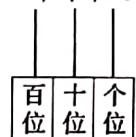
6. 按照规律写数。

28、30、( )、34、( )。

7. 最大的两位数是 ( ), 最小的两位数是 ( ), 相差 ( )。

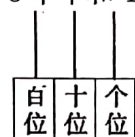
8. 画一画, 写一写。

4 个十和 8 个一



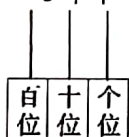
( )

8 个十和 4 个一



( )

5 个十



( )

9. 在○里填上“>”、“<”或“=”。

41 ○ 45

8+3 ○ 9+2

14-5 ○ 8+2

65 ○ 60+5

56-6 ○ 36-30

88-10 ○ 78+10

二、我是小法官。(对的打“√”, 错的打“×”) (5 颗☆)

1. 从右边起, 第一位是十位, 第二位是个位。 ( )

2. 77 中两个 7 表示的意义相同。 ( )

3. 两位数一定比一位数大。 ( )

4. 86 读作八六。 ( )

5. 一个一个地数, 和 50 相邻的两个数是 49 和 51。 ( )

三、我会选择(将正确答案的序号填在括号里)。(12 颗☆)

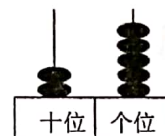
1.

上面的小棒可以用哪个数表示 ( )。

A. 46 B. 64 C. 10

2. 右图, 这个数读作 ( )。

A. 25 B. 二十五 C. 五十二



3. 与  $13-6$  的结果相同的算式是 ( )。

A.  $12-6$  B.  $15-9$  C.  $14-7$

4. 66 和 72 之间有 ( ) 个数。

A. 5 B. 6 C. 7

5. 至少要 ( ) 根同样的小棒才能拼成一个长方形。

A. 4 B. 6 C. 8

6. 90 比 28 ( ), 28 比 30 ( )。

A. 多得多 B. 多一些 C. 少一些

四、我会直接写得数 (12 颗☆)

$14-8=$

$13-6=$

$77-7=$

$28+20=$

$6+9=$

$16-8=$

$17-7+4=$

$13-4-6=$

$16-7=$

$85-20=$

$27-7+8=$

$9+4-6=$



# 五、我会操作 (10 颗星)



按颜色分:

	灰色	白色
个数		


按形状分:

	圆柱	正方体	圆	三角形
个数				

如果分为两组, 还可以怎样分? 把分组的结果表示出来。

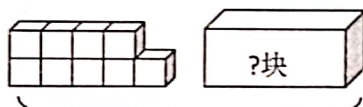
个数		

# 六、我会看图列式计算 (6 颗星)



? 个

$$\square \bigcirc \square = \square$$



18 块

$$\square \bigcirc \square = \square$$

# 七、我会解决问题。 (31 颗星) (第 1 题 3 星, 第 2-5 小题 16 星, 第 6-7 小题 12 星)

1. 小强今年 12 岁, 爷爷的年龄比小强大得多! 爷爷的年龄有多大?

用 “ $\triangle$ ” 标出。

15 岁	25 岁	58 岁

2. 盘子里有 16 个草莓, 小敏和弟弟吃了 9 个, 盘子里还有多少个草莓?

$$\square \bigcirc \square = \square ( )$$

3. 小松鼠运松果。已经运了 8 个, 还剩下 9 个没有运完, 这堆松果

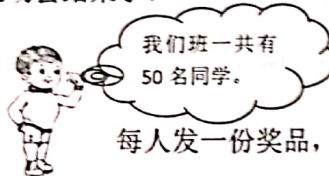
一年级数学 第 3 页 (共 4 页)

一共有多少个?  $\square \bigcirc \square = \square ( )$

4. 开联欢会搬椅子, 一共要搬 56 把, 我们已经搬了 6 把, 还要再搬多少把?

$$\square \bigcirc \square = \square ( )$$

5. 运动会结束了。



每人发一份奖品, 够吗?



6.



① 小红比小明少了多少个气球? ② 小明和小红一共有多少个气球?

$$\square \bigcirc \square = \square ( )$$

$$\square \bigcirc \square = \square ( )$$

7. 动物园有猴子 35 只, 孔雀 10 只, 熊猫 7 只。

(1) 孔雀和熊猫一共有多少只?

$$\square \bigcirc \square = \square ( )$$

(2) 猴子比孔雀多多少只?

$$\square \bigcirc \square = \square ( )$$

一年级数学 第 4 页 (共 4 页)



扫描全能王 创建