

2020-2021 学年度第二学期期中教学质量检测 一年级数学试题

(时间: 60 分钟 满分 100 分)

一、直接写出得数。(每题 1 分, 共 20 分)

$11-4=$

$16-9=$

$40+8=$

$14-7+9=$

$17-9=$

$14-5=$

$65-5=$

$8+5-4=$

$15-8=$

$13-7=$

$18-6=$

$6+8-10=$

$12-7=$

$15-6=$

$38-30=$

$16-8+9=$

$13-5=$

$12-8=$

$76-70=$

$26-20+5=$

二、认真读题, 正确填写。(每空 1 分, 共 33 分)

1. 按顺序填数。

95	94			91	90	
----	----	--	--	----	----	--

55	60				80
----	----	--	--	--	----

2. 48 里面有 () 个十和 () 个一。6 个一和 8 个十是 ()。

3. 一个数个位上是 9, 十位上是 7, 这个数是 (), 读作 (), 与它相邻的两个数分别是 () 和 ()。

4. 在下面的○里填上“+”或“-”。

$60 \bigcirc 7 = 67$

$17 \bigcirc 8 = 9$

$13 \bigcirc 8 = 5$

$46 \bigcirc 40 = 6$

5. 在下面的○里填上“>”、“<”或“=”。

$9+50 \bigcirc 62$

$12-3 \bigcirc 7$

$70+8 \bigcirc 80+7$

$13-4 \bigcirc 8$

$69-9 \bigcirc 64$

$14-8 \bigcirc 15-7$

6. 至少需要 () 个同样的小正方形, 才能拼成一个大正方形。

7. 在下面的 () 里填上合适的数。

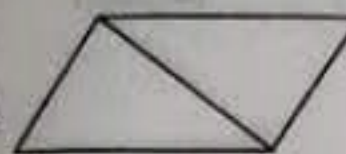
$$(\quad) + 90 = 98$$

$$11 - (\quad) = 8$$

$$57 - (\quad) = 50$$

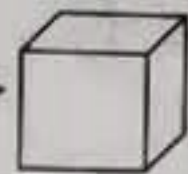
$$14 - (\quad) = 5$$

8. 有 74 个苹果, 10 个装一袋, 可以装满 () 袋, 还剩 () 个。

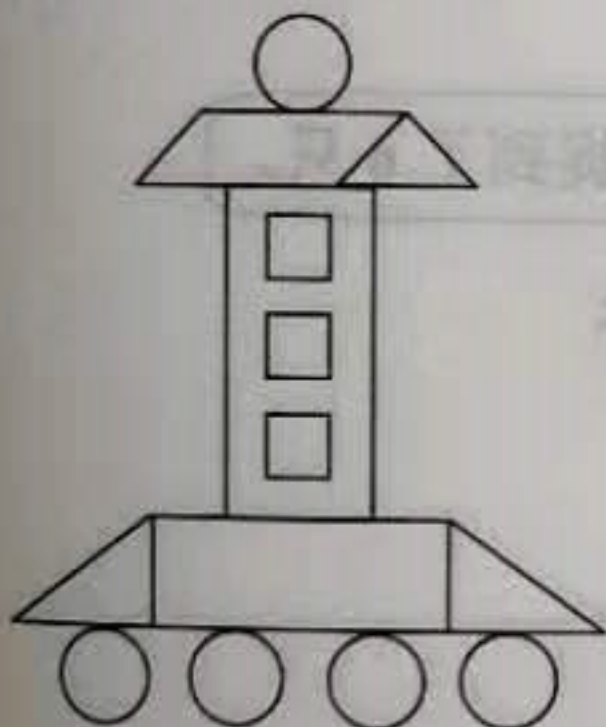
9.  如左图, 是由 2 个 () 形拼成的 () 形。






10. 折一折, 用

	5	
2	4	1
	3	

 做一个 , “4” 的对面是 ()。

三、认真数一数, 填一填。(每空 1 分, 共 5 分)



() 个 
 () 个 
 () 个 
 () 个 
 () 个 

四、一 (1) 班同学参加课外兴趣小组的情况如下图。(共 9 分)



根据左边的统计结果填写下表并填空。

项目	舞蹈	绘画	唱歌	书法	跳绳
人数					

1. 参加 () 兴趣小组的人数最多, 参加 () 兴趣小组的人数最少。

2. 参加跳绳和绘画兴趣小组的一共有 () 人。

3. 参加唱歌的比参加舞蹈的少 () 人。

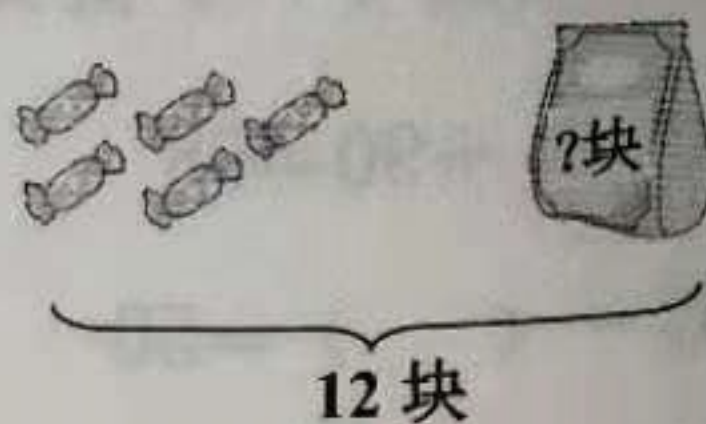
五、看图列式计算。(每题3分,共9分)

1.



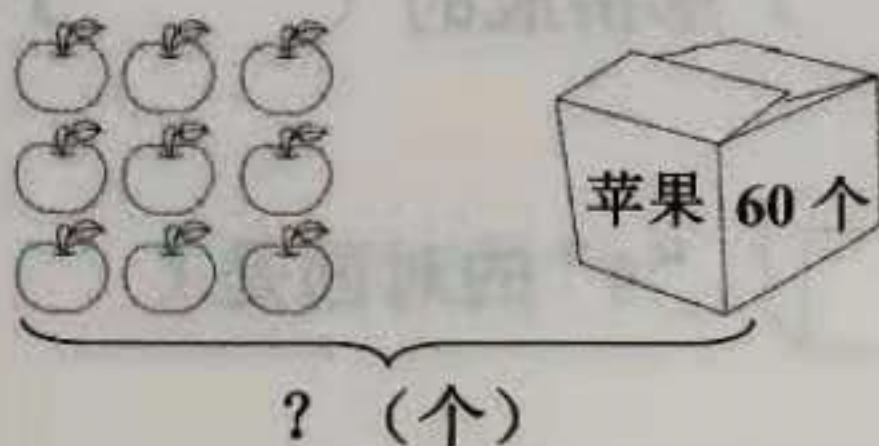
$$\square \bigcirc \square = \square \text{ (本)}$$

2.



$$\square \bigcirc \square = \square \text{ (块)}$$

3.



$$\square \bigcirc \square = \square \text{ (个)}$$

六、解决问题。(每题4分,共24分)

1.



我和儿子一共捉了15只害虫。



我只捉到了6只。


儿子

青蛙妈妈捉到了几只害虫?

$$\square \bigcirc \square = \square \text{ (只)}$$

2.

我搬了30根木头。



我搬了8根木头。



大象和小象一共搬了多少根木头?

$$\square \bigcirc \square = \square \text{ (根)}$$

3.

我已经写了 68 个毛笔字。

我已经写了 60 个。

李红

赵娜

李红比赵娜多写了几个毛笔字？

$$\square \bigcirc \square = \square \text{ (个)}$$

4.

我们有 16 个蘑菇和 5 个大萝卜。

送给奶奶 9 个蘑菇。

还有几个蘑菇？

$$\square \bigcirc \square = \square \text{ (个)}$$

5.

有 45 个小朋友，如果每人发一朵小红花，还差 5 朵。

我们已做好了多少朵小红花？

$$\square \bigcirc \square = \square \text{ (朵)}$$

6. 小动物们搬西瓜。40 只小象和 8 只松鼠都搬一个，一次能搬完吗？



$$\square \bigcirc \square = \square \text{ (个)}$$

$$\square \bigcirc \square$$

☐ (填“能”或“不能”)

一年级数学期中试题（参考答案及评分标准）

1、直接写出得数。（每题 1 分，共 20 分）

7	7	48	16
8	9	60	9
7	6	12	4
5	9	8	17
8	4	6	11

2、认真读题，正确填写。（每空 1 分，共 33 分）

1、(93) (92) (89) (65) (70) (75)

2、(4) (8); (86)

3、(79) (七十九) (78) (80)

4、 \bigoplus \bigotimes \bigotimes \bigotimes

5、 $\bigcirc<$ $\bigcirc>$ $\bigcirc<$

$\bigcirc>$ $\bigcirc<$ $\bigcirc<$

6、(4)

7、(8) (3)

(7) (9)

8、(7) (4)

9、(三角) (平行四边)

10、(6)

三、认真数一数，填一填。(每空 1 分，共 5 分)

(2) (3) (3) (5) (1)

四、一(1) 班同学参加课外兴趣小组的情况如下图。(共 9 分)

(9) (6) (5) (4) (7)

1、(舞蹈) (书法)

2、(13)

3、(4)

五、看图列式计算。(每题 3 分，共 9 分)

1、 $59-50=9$

2、 $12-5=7$

3、 $9+60=69$ 或 $(60+9=69)$

(注：若算式错，每题扣 3 分；若算式对，得数错，应扣 1 分)

6、解决问题。（每题 4 分，共 24 分）

1、 $15-6=9$

2、 $30+8=38$ 或 $(8+30=38)$

3、 $68-60=8$

4、 $16-9=7$

5、 $45-5=40$

6、 $40+8=48$ 或 $(8+40=48)$ （2 分）

$48>46$ 或 $(46<48)$ （1 分）

能（1 分）

（注：若算式错，扣 4 分；若算式对，得数错，应扣 1 分）