

2020—2021 年度第二学期期中质量测评

二年级数学 (人教版)

卷首寄语：“信心是基石，拼搏是保障，拥有信心才能拥抱成功。”请集中精力，开动脑筋，发挥出你的聪明才智，取得优异的成绩！

本试卷总分 100 分，考试时间 60 分钟。

题号	一	二	三	四	五	六	总分
得分							

一、填空。(共 21 分)

1. $28 \div 7 = (\quad)$ ，表示把 28 () 分成 7 份，每份是 ()，还可以表示 () 里面有 4 个 ()，其中 () 是被除数，() 是除数，() 是商。

2. 姐姐用 32 元可以买 () 杯 8 元 1 杯的奶茶。


3. 用“七九六十三”这句口诀，写出两道乘法和两道除法算式：

乘法算式：_____


除法算式：_____

4. 14 与 22 的和是 ()，这个和除以 6 得 ()。

5. 二(1)班有女生 25 人，男生 20 人，每 5 人一组去植树，可以分成 () 个小组，列综合算式是 ()。

6.  姐姐生日收到一盒巧克力(如左图)，送给弟弟 6 颗后，剩下的留给自己，假如姐姐每天吃 3 颗，连续吃 () 天，能全部吃完。

7. 在括号里填上“平移”或“旋转”。



二、选择。(共12分)

1. 下面图形中, 是轴对称图形的是 ()。



2. 要使 $5 \times (\square + 5) = 40$, \square 里应填 ()。

① 8

② 3

③ 4

3. 右边的对称图形共有 () 条对称轴。

① 1

② 5

③ 无数



4. 把18枝花插在2个花瓶里, 一个花瓶里插6枝, 另一个花瓶里插 () 枝。

① 9

② 12

③ 3

5. 一盒粉笔, 把它们平均分成6份, 正好分完。这盒粉笔最少有 () 根。

① 36

② 18

③ 6

6. 哥哥给了弟弟8个绿色玻璃球, 4个红色玻璃球, 15个黄色玻璃球, 弟弟把它们放在3个盒子里, 每个盒子里放的球一样多, 每个盒子里放了 () 个。

① 7

② 8

③ 9

三、直接写得数。(共9分)

$56 \div 7 =$

$64 \div 8 =$

$7 \times 9 =$

$48 \div 8 =$

$72 \div 9 =$

$20 \div 5 - 3 =$

$16 + 54 \div 6 =$

$20 + 12 \div 6 =$

$45 \div 9 + 6 =$

四、计算题。(共22分)

1. 根据表格列出相应的综合算式。(6分)

(1)

被除数	$77 - 29$
除数	8

(2)

被减数	66
减数	$36 \div 4$

综合算式: _____

综合算式: _____

2. 脱式计算。(12分)

$$36 \div 4 \times 8$$

$$75 - 7 + 13$$

$$55 + 5 \times 8$$

$$56 - (46 - 19)$$

$$88 - (18 + 16)$$

$$99 - 54 - 45$$

3. 看图列式并计算。(4分)



$$(\quad) \div (\quad) = (\quad)$$

五、根据所给提示完成二(1)班同学最喜欢的4种图书的人数统计表,并回答问题。
(共14分)

- 提示: ①喜欢看历史书的有6人; ②喜欢看故事书的比喜欢看历史书的多4人;
③喜欢看童话书的人数比喜欢历史书的人数多6人;
④喜欢看童话书的人数比喜欢漫画书的人数少3人。

1. 填表。

课外书种类	历史书	故事书	童话书	漫画书
人数(人)				


2. 最喜欢看()的人数最多, 最喜欢看()人数最少;
3. 如果二(1)班要设立图书角, 应该多摆放()书。

六、解决问题。（共 22 分）

1. 一瓶维生素片，娜娜每天吃 3 次，每次吃 3 片。娜娜每天吃几片？7 天后，这瓶维生素还剩多少片？（6 分）



80 片

2.  原价是 7 元桶，现在促销是 30 元 6 桶，现在平均每桶的价钱比原价便宜多少元？（6 分）

3.

价目表		
旋转木马	每人每次 8 元	每辆坐 3 人
碰碰车	每人每次 9 元	每辆坐 2 人
观光船	每人每次 7 元	每艘坐 9 人

- (1) 明明有 24 元，可以坐几次旋转木马？（5 分）

- (2) 二（3）班有 40 人要坐观光船，租 4 艘，够不够？（5 分）