

宁阳县第二小学 2020 至 2021 学年第二学期
二年级下册数学期中试卷

一、填空。(18 分, 每空 1 分)

- (1) $80\text{dm} = () \text{cm}$ $60\text{mm} = () \text{cm}$ $7\text{km} = () \text{m}$
- (2) $37 \text{ 厘米} + 63 \text{ 厘米} = () \text{ 厘米} = () \text{ 分米}$
- (3) 与 999 相邻的两个数是 () 和 ()。
- (4) 黄河的全长五千四百六十四千米, 写作 () 千米。
- (5) 4 个百和 8 个一合起来是 ()。
- (6) 4600 里面有 () 个百。
- (7) 4986 最高位上的数字是 ()。
- (8) 由 7 个千、8 个百、3 个十和 6 个一组成的是 ()。
- (9) 由 0、1、9 组成的最大三位数是 (), 最小三位数是 ()。
- (10) 填上适当的长度单位。

学校里旗杆高 7 () 字典厚 3 ()
汽车每小时行驶 60 () 小兔子身长 4 ()

二、判断: 对的画“√”, 错的画“×”。(5 分, 每题 1 分)

- 1、最大的四位数与最大的三位数的差是 9900。()
- 2、九千零五, 写作: 900005。 ()
- 3、正方形的四条边都相等, 四个角都是直角。()
- 4、一个图形的四条边相等, 这个图形一定是正方形。()
- 5、十张作业本纸大约 1 分米。()

三、选择: 把正确答案的字母序号填写在括号中。(5 分, 每题 1 分)

- (1) 下面各数中, () 数中的“6”表示 6 个百。

A. 3060 B. 6003 C. 3600

- (2) 四位数中最大的数是 ()。

A. 1000

B. 1001

C. 9999

(3) 正方形具有而长方形不具有的特征是 ()。


A. 对边相等

B. 四角相等

C. 四条边相等



长方形



正方形

(4) 下面三个长度中, 最长的是 ()。

A. 3 千米

B. 400 米

C. 5000 分米

(5) 在下面数中, 最接近 500 的是 ()

A. 401

B. 498

C. 503

D. 599

四、在 () 里填上 “<”、“>” 或 “=”。(4 分, 每题 1 分)

2036 ○ 978

140 毫米 ○ 14 厘米

1001 ○ 998

最小的四位数 ○ 最大的三位数

五、计算。(24 分)

1. 直接写得数。(10 分, 每题 1 分)

$500 + 400 =$

$5000 + 2000 =$

$120 + 50 =$

$830 + 50 =$

$870 - 40 =$

$450 + 40 =$

$1000 - 200 =$

$148 + 251 =$

$6000\text{m} + 2000\text{m} = (\quad) \text{ km}$

$2\text{m} - 2\text{dm} = (\quad) \text{ dm}$

2. 估算(5 分, 每题 1 分)

$297 + 386 \approx$

$492 + 346 \approx$

$198 + 195 \approx$

$730 - 223 \approx$

$986 - 184 \approx$

3. 用竖式计算(划横线的验算)。(10 分, 后两题每题 3 分)

$857 - 119 =$

$485 + 244 =$

$\underline{462 - 153 =}$

$\underline{273 + 142 =}$

4. 列式计算。(4 分, 每题 2 分)


①两个数的和是 385, 其中一个加数是 269, 另一个加数是多少?

②一个数是 652, 它比另一个数少 128, 另一个数是多少?

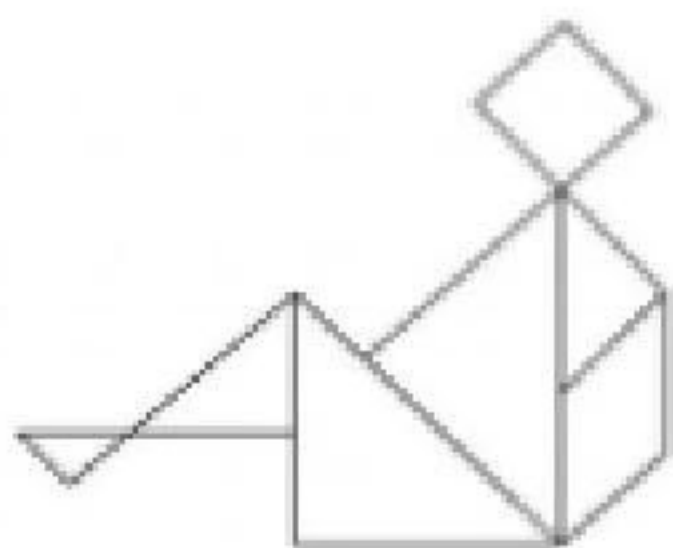
六、画一画。(6 分, 每题 2 分)

1. 画一条 3 厘米 8 毫米的线段。

2. 请在点子图上画一个正方形和一个五边形。



七、数一数。(3 分, 每空 1 分)



图中有()个 \triangle ,
()个 \square ,
()个 \square 。

八、估一估。(2 分)



我有一本书, 比连环画厚得多, 比故事书薄一些。



淘气的书可能有多少页? 在合适的页数下面画“√”。

80 页	120 页	289 页

九、解决问题。(28 分)

1. 一本书有 298 页，小强看了 154 页，大约还有多少页没看？
2. 新河小学有男生 880 人，有女生 790 人，男生比女生多多少人？
3. 一套西装原来卖 568 元，现在比原来涨价 145 元。现在一套西装多少元？
4. 粮店运进 920 千克大米，第一天卖了 360 千克，第二天卖了 340 千克，两天一共卖了多少千克？
5. 明明在做一道减法题时，把减数 34 看成了 43，算出来的结果是 26。正确的计算结果是多少？
6. 小红家和小明家在同一条直线上，小红家到学校 352 米，小明家到学校 135 米，小红家到小明家有多远？
7. 一个书包的价钱是 85 元，一个游戏机的价钱是 112 元，拿 200 元能同时买到这两样物品吗？

十、附加题：(5 分)

小明、小军和小亮想跟王老师和李老师分别照一张像，他们一共要照几张