

二年级数学试题

(时间: 60 分钟 满分 100 分)

一、争当计算小能手。

1. 直接写出下列各题的得数。(共 20 分)

$42 \div 6 =$

$24 \div 8 =$

$27 \div 3 =$

$14 \div 2 =$

$18 \div 2 =$

$36 \div 9 =$

$54 \div 9 =$

$40 \div 5 =$

$32 \div 8 =$

$48 \div 8 =$

$35 \div 5 =$

$15 \div 3 =$

$45 \div 9 =$

$63 \div 7 =$

$72 \div 9 =$

$64 \div 8 =$

$56 \div 7 =$

$28 \div 4 =$

$21 \div 7 =$

$16 \div 2 =$

2. 计算下列各题。(每题 2 分, 共 12 分)

$96 - (24 + 36)$

$58 + 36 \div 4$

$85 - 18 \div 3 =$

$(82 - 34) \div 6$

$35 + 59 - 26$

$63 \div (46 - 37)$

二、认真读题, 正确填写。(每空 1 分, 共 21 分)

1. 国旗升起是 () 现象, 工作中的电风扇是 () 现象。

2. 一包酸奶 5 元, 45 元能买 () 包这样的酸奶。算式是 ()。

3. 在下面的○里填上“+”、“-”、“×”或“÷”。

$27 \bigcirc 9 = 18$

$8 \bigcirc 7 = 56$

$54 \bigcirc 9 = 6$

$72 \bigcirc 9 = 81$

4. 在下面的括号里填上合适的数。

$() \div 4 = 9$

$48 \div () = 8$

$56 + () = 64$

$() \div 7 = 7$

5. 在下面的○里填上“>”、“<”或“=”。

$$12 \div 3 \bigcirc 24 \div 4 \quad 40 \div 5 \bigcirc 42 \div 7 \quad 35 \div 7 \bigcirc 45 \div 5$$

$$54 \div 6 \bigcirc 21 \div 3 \quad 32 \div 4 \bigcirc 72 \div 8 \quad 18 \div 3 \bigcirc 28 \div 7$$

6. 二年级体育兴趣小组有男生 35 人，女生 19 人，这个兴趣小组一共有（ ）人，如果把他们平均分成 6 组，每组有（ ）人，列综合算式是（ ）。

三、我会统计。（每空 1 分，共 9 分）

参加的项目	篮 球	跳 绳	足 球	踢毽子
人数（人）	正正正	正正正下	正正正正正正	正正正正下

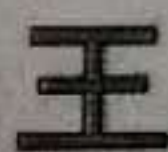
1. 把上面的统计结果填在下表中。

参加的项目	篮 球	跳 绳	足 球	踢毽子
人数（人）				

- 参加（ ）项目的人数最多，参加（ ）项目的人数最少。
- 参加足球的人数比参加跳绳的多（ ）人。
- 参加篮球的人数比参加踢毽子的少（ ）人。
- 参加跳绳的和参加踢毽子的一共有（ ）人。

四、连一连。（共 8 分）

1. 下面的图形分别是哪张对折的纸上剪下来的？（4 分）



2. 下面的哪些图形可以通过平移互相重合? (4分)



五. 看图列式计算 (每题 3 分, 共 6 分)

1.



48 元



每束 8 元

? 元

2.



每个? 元



26 元

53 元

六. 解决问题。(每题 4 分, 共 24 分)

1、



东东

我有 63 元。

东东的钱可以买几杯咖啡?



7 元/杯

口答: 可以买 杯咖啡。

2、

妈妈, 我捉了 37 只害虫。





孩子, 我比你多捉了 19 只害虫。



小青蛙和妈妈一共捉了多少只害虫?


口答: 小青蛙和妈妈一共捉了 只害虫。

3、李红带了87元去商场买了一盒薯条,剩下的钱还能买几个汉堡?



口答: 剩下的钱还能买 个汉堡。


4、同学们去实验基地参加义务劳动,
这些同学共需要多少顶帐篷?



口答: 这些同学共需要 顶帐篷。

5、旅行社组织游客去世博园参观, 下面是租车的情况。

大车每辆可以坐7人,
小车每辆可以坐4人。



大、小两种车各租
了5辆, 正好坐满。

一共有多少人去参观?

口答: 一共有 人去参观。

6、二年级同学参加读书活动, 每组有9人, 分成了6组, 其中女同学有38人, 男同学有多少人?



口答: 男同学有 人。