

2020-2021 学年下学期期中教学质量监测

二年级数学试题

(总分:100★, 时间:40 分钟)

条形码粘贴处
(请水平张贴, 不要倾斜)

一、我会填空。(共 25 颗☆。每空 1 颗☆)




- 在计算 $48 \div 8 = ()$ 时, 用到的乘法口诀是 $()$, 其中被除数是 $()$, 商是 $()$ 。
- $24 \div 3 = 8$ 读作: $()$, 表示把 $()$ 平均分成 $()$ 份, 每份是 $()$ 。
- $45 - (18 + 19)$ 先算 $()$ 法, 计算 $62 - 6 \times 8$ 先算 $()$ 法。
- 54 里面有 $()$ 个 6, 算式为: $()$ 。
- 将下列算式填在合适的 $()$ 里。
 $28 \div 7$ $63 \div 7$ 7×3 $42 \div 6$
 $() > () > () > ()$
- 在括号里填上合适的数。
 $7 \times () = 56$ $24 \div () = 8$ $() \div 9 = 4$ $72 \div () = 8$
- 在 \bigcirc 里填上 “+” “-” “ \times ” 或 “ \div ”。
 $15 = 47 \bigcirc 32$ $24 \bigcirc 14 = 10$ $27 \bigcirc 3 = 30$ $7 \bigcirc 4 = 28$ $27 \bigcirc 3 = 9$

二、我会判断(对的打“√”, 错的打“ \times ”) (5 颗☆)。

- 8 块糖分 4 份, 每份一定是 2 块。 $()$
- 小林和 6 名同学一共栽了 42 棵树, 平均每人栽 7 棵树。 $()$
- 如果一个算式里有括号, 应先算括号里面的。 $()$
- 7 与 3 的和乘 5, 积是多少? 列式是 $7 + 3 \times 5$ $()$

- 小文把水壶盖拧得太紧了, 老师帮他拧开, 这种现象是平移。 $()$

三、我会选择(将正确答案的序号填在括号里)。(6 颗☆)

- 下面不属于旋转现象的是 $()$
A. 旋转木马 B. 电风扇扇叶转动 C. 乘电梯下楼
- 小红 3 分钟叠了 12 只千纸鹤, 她 8 分钟能叠 $()$ 只千纸鹤。
A. 24 B. 32 C. 12
- 与算式 $42 - 24 - 12$ 得数不相等的算式是 $()$
A. $42 - 12 - 24$ B. $42 - (24 + 12)$ C. $42 - (24 - 12)$
- 商是 6 的算式是 $()$
A. $18 \div 6$ B. 2×3 C. $48 \div 8$
- 下列图形不是轴对称图形的是 $()$ 。
A.  B.  C. 
- 11 个苹果, 每 2 个摆一盘, 可以摆 $\underline{\quad}$ 盘, 还剩 $\underline{\quad}$ 个。 $()$
A. 5 0 B. 6 0 C. 5 1

四、我会计算。(26 颗☆)

1. 口算。(8 颗☆)

$$\begin{array}{llll} 8 \div 2 \times 3 = & 54 \div 9 = & 42 \div 6 + 2 = & 18 + 9 = \\ 49 - 30 = & 72 \div 8 = & 15 + 7 - 2 = & 48 \div 8 = \end{array}$$

2. 脱式计算(18 颗☆)

$$63 - 27 + 35 \qquad 14 + 5 \times 7 \qquad 88 - (46 - 18)$$

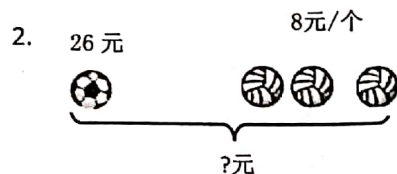
$$(18 + 24) \div 6 \qquad 72 \div (23 - 14) \qquad 36 \div (3 \times 3)$$



五、看图列式计算。(6 颗☆)



算式: _____



算式: _____

六、生活中的数学。(32 颗☆)

1. 一本书 36 页。(4 颗☆)



我每天看 6 页,
几天可以看完?

2. 三个班共植树 95 棵, 一班植树 32 棵, 二班植树 28 棵, 三班植树多少棵?(4 颗☆)

3. 食堂运进 56 袋大米, 已经吃了 24 袋, 剩下的还够吃 8 天, 平均每天吃几袋大米?(4 颗☆)

4. 龙龙比西西少买多少张?(4 颗☆)

我买了 4 套明信片。

龙龙



每套 8 张



我买了 6 套明信片。

西西

5. 逛超市。(16 颗☆)



45 元



6 元



() 元



13 元



5 元

(1) 青青的钱正好够买 7 辆玩具汽车, 青青有多少元钱?

(2) 买 1 双鞋的钱, 正好买 5 个皮球。1 个皮球几元钱?

(3) 丽丽有 53 元钱, 买一个地球仪后, 剩下的钱可以买几辆小汽车?

(4) 请你再提出一个数学问题并解答。

