

文科综合

考生注意：

- 1. 本试卷满分 300 分，考试时间 150 分钟。
- 2. 考生作答时，请将答案答在答题卡上。选择题每小题选出答案后，用 2B 铅笔把答题卡上对应题目的答案标号涂黑；非选择题请用直径 0.5 毫米黑色墨水签字笔在答题卡上各题的答题区域内作答，超出答题区域书写的答案无效，在试题卷、草稿纸上作答无效。
- 3. 做选考题时，考生须按照题目要求作答，并用 2B 铅笔在答题卡上把所选题目的题号涂黑。
- 4. 本卷命题范围：高考范围。

一、选择题：本题共 35 小题，每小题 4 分，共 140 分。在每小题给出的四个选项中，只有一项是符合题目要求的。

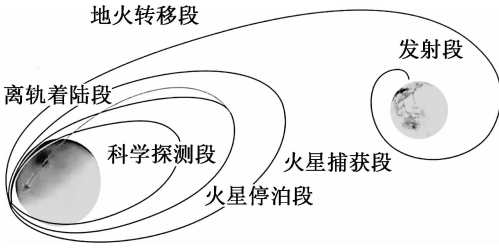
北京时间 2021 年 2 月 10 日 19 时 52 分，中国首次火星探测任务天问一号探测器实施近火捕获（被火星引力场捕获）制动！成为我国第一颗人造火星卫星，实现了“绕、着、巡”第一步“绕”的目标，环绕火星获得成功。计划于 2021 年 5 至 6 月择机实施火星着陆，开展巡视探测。右图示意天问一号绕转阶段。读图，完成 1~2 题。

1. 天问一号探测器实施近火捕获制动时

- A. 成为自然天体
- B. 伦敦与北京两地日期不同
- C. 洛杉矶(118°W)可能繁星满天
- D. 地球上旧的一天比重大

2. 天问一号从“绕”到“巡”期间

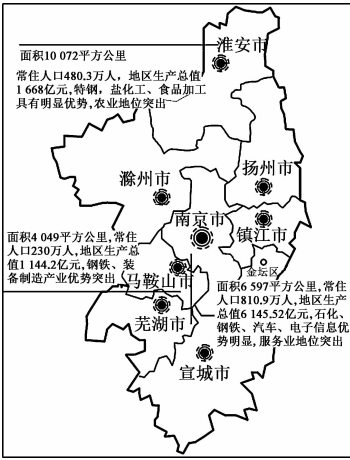
- A. 文昌卫星发射塔日出塔影朝向西南
- B. 北京长安街路灯亮灯逐日提前
- C. 北极地区极昼范围逐渐扩大
- D. 索马里东侧海域的寒流势力增强



2021 年 2 月，国家发展改革委关于同意南京都市圈发展规划的复函发布，南京都市圈是以南京为中心的经济区域带，位于中国东部、长江中下游沿江城市地带核心地区，地跨苏皖两省，是中国第一个规划建设的跨省都市圈。都市圈是城市化发展到成熟阶段的最高空间组织形式。右图为南京都市圈示意图。读图，完成 3~4 题。

3. 建设“南京都市圈”有利于


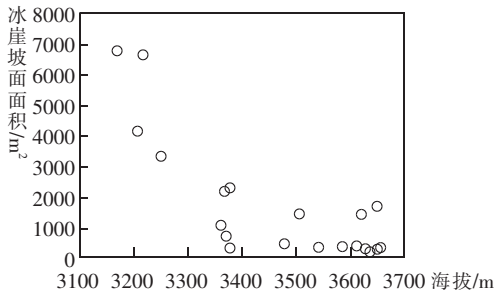
- A. 优化配置生产要素，加强城市分工与协作
- B. 促进郊区城市化、逆城市化发展
- C. 有效遏制城市环境恶化
- D. 提高中小城市服务等级



4. 随着南京都市圈的发展,南京市

- A. 与周边城市的经济差距加大
- B. 影响其发展的区位因素在不断变化
- C. 热岛效应减弱
- D. 对周边城市的辐射带动减弱

在西天山托木尔型冰川的消融区内,分布着大量冰崖和冰湖,它们是冰川运动、热力作用和流水作用的共同产物。托木尔型冰川的特征之一是其消融区内存在大量的表碛覆盖。表碛指冰川表面覆盖的岩石碎屑等杂质。下面两图分别为冰崖坡面面积与冰崖海拔关系散点图和冰崖下部形成的冰湖景观图。读图,完成 5~7 题。



5. 下列关于冰崖坡面面积的说法,正确的是

- A. 海拔越低,面积越小
- B. 与地形起伏有关
- C. 温度越低,面积越大
- D. 与山地坡向无关

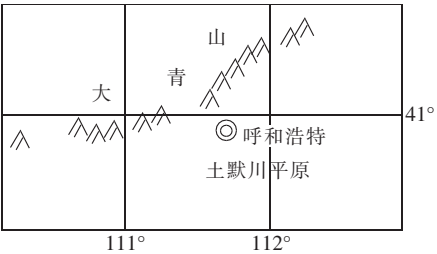
6. 表碛物对冰崖和冰湖形成的主要作用是

- A. 表碛物起保温作用,减少雪面热量损失
- B. 表碛物质量大,使雪层更加致密
- C. 表碛物反射率低,吸收更多太阳辐射
- D. 表碛物盐度高,加速冰川消融

7. 下列关于冰湖的叙述,正确的是

- A. 主要由流水侵蚀作用形成
- B. 冰崖对冰湖起到束水作用
- C. 冰湖堤坝非常稳固
- D. 湖水主要为地下水补给

云计算服务包括海量数据存储、数据处理等,是基于互联网的相关服务的增加、使用和交互模式。云计算中心基地的云储存对电的消耗较大,数据中心需要不断地降温来达到恒温的环境。呼和浩特市和林格尔新区已建成全国最大的云计算基地。读呼和浩特市位置示意图,完成 8~9 题。



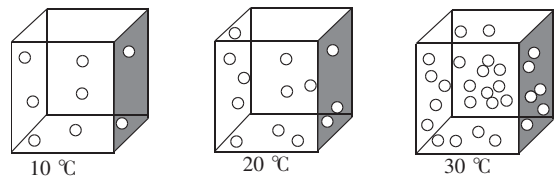
8. 和林格尔新区云计算基地在设计时较少考虑的因素是园区

- A. 地质条件的稳定性
- B. 环境质量
- C. 劳动力丰歉程度
- D. 电力供应状况

9. 下列最适宜与和林格尔新区云计算基地达成合作共识的是

- A. 国家部委公共信息平台试点
- B. 蒙牛乳业生产中心
- C. 袁隆平水稻生产技术研究
- D. 呼和浩特节能制造

饱和湿度是表示在一定温度下,单位体积空气中所能容纳的最大水汽量。超过饱和湿度,水蒸气就会凝结变成水滴。读不同气温时的饱和湿度图(图中“○”数量的多少示意水汽含量的高低),完成 10~11 题。



10. 下列叙述正确的是
- A. 随气温升高,饱和湿度变大                                  B. 随气温升高,水汽更易凝结
- C. 随气温下降,降水概率变小                                  D. 随气温下降,水汽四散逃逸
11. 某冷锋过境时没有产生降水,其原因可能是
- A. 冷气团温度过低    B. 冷气团水汽含量少
- C. 暖气团气压偏低    D. 暖气团水汽含量少
12. 2020 年 12 月 11 日,随着连淮扬镇铁路淮镇段开通运营,连云港、淮安、扬州、镇江地区部分县市与南京、上海、杭州等长三角中心城市实现了无缝对接。假设其他条件不变,下图能够正确反映连锁铁路贯通对该线汽车客运公司影响的是(P 为价格,Q 为数量,D<sub>1</sub>、D<sub>2</sub>为变化前后的需求曲线,S<sub>1</sub>、S<sub>2</sub>为变化前后的供给曲线)
- A                                  B                                  C                                  D
13. 《国企改革三年行动方案(2020—2022 年)》的实施意味着这 3 年是国企改革关键阶段,“抓重点、补短板、强弱项”是该方案发力的关键方向,坚持深化国企市场化改革不动摇,充分发挥国有经济的制度优势。要充分发挥这一制度优势,就必须
- ①让公有资产在社会总资产中占优势    ②增强国有企业在各行业的控制地位    ③优化国有资本布局以聚焦实体经济    ④完善具有中国特色的现代企业制度
- A. ①②                                  B. ①④                                  C. ②③                                  D. ③④
14. 为了更好发挥积极财政政策的效能,2020 年我国建立了中央财政纾困资金直达基层和企业机制。截至 10 月底,通过国有财政资金直达机制累计支出惠企资金 5800 亿元,其中直接助企纾困的政策资金支出 1060 亿元。下列选项能反映这一政策传导路径的是
- A. 财政资金直达→减少挪用滞留→缓解企业资金困难→促就业保民生
- B. 财政资金直达→节省拨付时间→增加企业利润收入→提质量增效益
- C. 财政资金直达→拓宽拨付渠道→降低企业生产成本→降消耗促环保
- D. 财政资金直达→加快资金周转→增强企业创新能力→去库存提效益
15. 2020 年 11 月,东盟十国以及中、日、韩等 15 个国家正式签署了以降低关税壁垒为主要内容的《区域全面经济伙伴关系协定》(RCEP)。协定的签定标志着全球规模最大的自由贸易协定正式达成。协议的签定

①符合发展多边主义和自由贸易的要求 ②使全球最大的多边贸易组织得以建立 ③有利于我国发展更高层次的开放型经济 ④为解决世界性贸易纠纷制定了基本原则

A. ①② B. ①③ C. ②④ D. ③④

16. 发展社会主义民主政治就要保证人民依法实行民主选举、民主协商、民主决策、民主管理、民主监督,保障人民知情权、参与权、表达权、监督权,最广泛地动员和组织人民依法管理国家和社会事务、管理经济和文化事业。这说明

①社会主义民主的本质是公民当家作主 ②我国是人民民主专政的社会主义国家 ③我国人民民主专政切实具有制度保障 ④人民民主具有广泛性和真实性的特点

A. ①③ B. ①④ C. ②③ D. ②④

17. 为了提供普惠均等、便捷高效、智能精准的公共服务,以数字正义推动实现新时代更高水平的公平正义,人民法院全面推进一站式多元解纷和诉讼服务体系建设,依托“一站、一网、一号”通办工程,让老百姓打官司只进一个门、最多跑一次、可以不要跑。材料表明

①我国在推进国家治理体系和治理能力现代化 ②我国的国家机关都能够坚持为人民服务的宗旨 ③人民的合法权益必须通过司法机关来有效维护 ④我们的政府能够建设成便民利民有权威的政府

A. ①② B. ①③ C. ②④ D. ③④

18. 2021年1月15日,全国政协农业和农村委员会全体会议在京举行。会议强调要围绕深入学习贯彻中共十九届五中全会精神,强化专门协商机构职能,强化委员责任担当,做到建言资政与凝聚共识双向发力,在服务新时代“三农”工作大局中展现新作为、作出新贡献。由此可见

①要把协商民主的独特优势发挥出来 ②民主党派要积极履行参政议政职能 ③政协积极履行团结和民主两大职能 ④政协是共产党领导的多党合作机构

A. ①② B. ①④ C. ②③ D. ③④

19. 2020年9月,埃及和中国签署了《将汉语纳入埃及中小学作为选修第二外语的谅解备忘录》。这体现了两国特殊的友好关系,是两国民心相通、人文交流的新起点,为两国教育和文化合作打开新的大门,为中埃全面战略伙伴关系增添新的动力。这说明

①文化交流有利于促进世界文化的发展 ②文化既是民族的、又是世界的 ③文化交流能够实现东西方文化的趋同 ④埃及民众增强对中华文化认同

A. ①② B. ①③ C. ②④ D. ③④

20. 晋察冀边区革命纪念馆(右图是该馆内的聂荣臻元帅的铜像)在2012年被命名为“河北省中共党史教育基地”。纪念馆内运用大量珍贵的照片、文物以及先进的声、光、电、幻影成像等高科技手段,充分展示晋察冀军民在抗日战争和解放战争中所创下的光辉业绩,已成为全国30多家机关、企业和40多家大中专院校的爱国主义教育基地。可见,该纪念馆

①是我们国家历史文化成就的重要标志 ②充分发挥了党的历史资政育人的作用 ③用党的实践创造和历史经验砥砺品格 ④是中华民族精神的集中体现

A. ①② B. ①④ C. ②③ D. ③④



21. 许多人总抱怨天气预报员是最不靠谱的人,说多云却下雨,说大雪却没见着雪花,其实,天气预报面对的是一个充斥着蝴蝶效应的混沌天气系统。因此所做出的各种预测,只能是一种

概率。这说明

①思维和存在总是具有同一性 ②物质的运动是绝对的、无条件的、永恒的 ③世界上没有不可认识之物 ④把握事物本质联系必须充分发挥主观能动性

A. ①②

B. ①③

C. ②④

D. ③④

22. 2020 年,来自广东小县城的五条人乐队辗转于各种大型演出现场的舞台,成为年度值得回味的文化符号。他们有意地把粤语、潮汕方言融入歌曲,尽管姿态上“土里土气”,但他们关心全球化、贫富分化、打工子弟生存境况等宏大主题。材料体现的哲理是

①创新推动人类思维和文化的发展 ②人民群众是社会物质财富创造者 ③要用批判与革命的精神看待世界 ④矛盾同一性和斗争性会相互转化

A. ①③

B. ①④

C. ②③

D. ②④

23. 民生是最大的政治,改善民生是最大的政绩。把人民群众的获得感、幸福感、安全感作为评判领导干部推动高质量发展的重要标准,把为民造福作为最重要的政绩。这一做法的哲学依据是

①人民群众是历史的创造者,要坚持群众观点和群众路线 ②领导干部要坚持权为民所用,情为民所系,利为民所谋 ③价值观能够指导人们正确认识世界和成功改造世界 ④正确的价值判断和价值选择必须遵循社会发展规律

A. ①②

B. ①④

C. ②③

D. ③④

24. 西周时期,周公将远古到殷商的原始礼仪加以整理、改造,确定了一整套典章、制度、规矩、仪节,成为对中国传统文化、宗教思想影响至深的“周礼”。这主要说明了“周礼”

A. 旨在传播中国传统文化

B. 出于加强皇权的需要

C. 维护了社会治安稳定

D. 具有现实导向和继往开来的特点

25. 从秦汉开始,地方官员不仅不能在本籍任职,而且在异地任职的期限一般也不会很长。此做法

A. 强化了皇权专制统治

B. 旨在加强中央集权

C. 杜绝了政治腐败现象

D. 完善了地方监察体系

26. 在唐贞观、永徽时期,永业田只有五品以上勋官和“家贫卖供葬”及“狭乡乐迁就宽者”一般百姓方可货卖;开元二十五年(公元 737 年),《田令》又增补了“流移者(包括未经政府批准的流亡人户)”也可货卖。这种变化反映出当时

A. 流民问题日趋严重

B. 阶级矛盾尖锐

C. 土地买卖限制放宽

D. 政府管理失控

27. 北宋初期,行使监察职能的御史弹劾官员时很少涉及宰相。至北宋中期,御史监察宰相而且与宰相“分为敌垒,以交战于廷”。御史和宰相的关系变化反映了

A. 专制主义得到进一步强化

B. 宰相已经失去了行政权

C. 御史和宰相互相牵制、互为仇敌

D. 监察官员与宰相权力相等

28. 江南制造总局采用机器生产的无烟火药达到世界先进水平,但整体而言,其军备生产品质并不好,且生产成本高于直接购买,出现了“造枪不如买枪”“造船不如买船”的局面。主要原因在于

A. 洋务企业缺乏科技人才与管理

B. 西方国家享有协定关税等特权

C. 洋务派崇尚西方技术产品

D. 外国资本主义企业的压制

29. 辛亥革命“在新的权利与义务关系的基础上重建统一的政治共同体。从此,中国的政治发展不再依托以臣民政治文化为载体的消极被动的政治认同”。这是指辛亥革命

A. 结束了封建帝制

B. 使民主共和观念逐渐深入人心

C. 打击了帝国主义在华侵略势力

D. 促进了中国民族资本主义发展

30. 近代有广泛社会影响的报纸《申报》在 1919 年报道中写道：“传播此种思想之发源地，实在北京一隅，他们倡导改良文学之论，一方面为消极的破坏，力抨旧文学之弱点，一方面则为积极的建设，亟筑新文学之始基。”文中的“他们”还
- A. 掀起二次革命  
B. 倡导“实业救国”  
C. 倡导民主科学  
D. 主张“尊孔复古”
31. 1979 年，我国社会商品零售总额、农副产品收购总额和工业生产资料销售总额中国家定价的比重分别是 97%、92.6% 和 100%，到 1992 年时上述三个指标分别为 93.2%、81.1% 和 73.8%。据此可知当时
- A. 农村经济体制改革成效显著  
B. 计划经济体制开始被打破  
C. 市场经济改革成为社会共识  
D. 计划经济特征仍十分明显
32. 从习惯法到成文法、从公民法到万民法，体现了罗马法不断完善的过程。下列表述正确的是
- A. 《十二铜表法》使平民的利益开始受到法律保护  
B. 公民法侧重公民政治权利的保障，私法规范空缺  
C. 万民法扩大了公民法范畴，实用性、适应性相当强  
D. 自然法直接源于普罗泰戈拉学说，提倡人人平等
33. 杰里·本特利在《新全球史》中写道：在 1400—1800 年间，欧洲航海家的一系列杰出的探险之旅将他们带到了世界上除极地以外的各个海域。航海事业是昂贵的事业，然而私人投资者与政府却有极强的动力经营海上探险业，并且为船队提供资金和航海技术。由此可见推动这一时期航海活动的因素有
- ①西班牙统治者鼓励发展资本主义工商业 ②资本主义经济发展对资本的渴求 ③蒸汽轮船发明，成为当时主要的航海工具 ④欧洲航海家勇于探险、开拓的精神
- A. ①②③④  
B. ②④  
C. ①②④  
D. ②③④
34. 美国 1787 年宪法规定了美国总统拥有提名高官、否决国会的立法与统帅军队等大权，但同时美国总统又受到国会与联邦法院的制约，这说明美国总统
- A. 像英国君主一样，没有实权  
B. 不能代表美国政府行使外交权  
C. 所拥有的权力具有相对性  
D. 对国会与联邦法院负责
35. 达尔文晚年在《人类的由来》一书中，不仅用进化的观点分析解释人的生物性结构的形成和发展，同时从性选择、亲情角度用进化的观点研究人类道德意识的起源和道德行为问题，提出了他的“道德进化论”思想。材料现象反映出
- A. 生物进化论不符形势需要  
B. 进化理论应用领域扩展  
C. 道德进化论成为社会主流  
D. 达尔文研究方向的变化

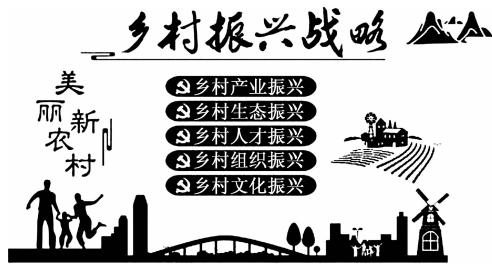
二、非选择题：共 160 分。第 36~42 题为必考题，每个试题考生都必须作答。第 43~47 题为选考题，考生根据要求作答。

(一)必考题：共 135 分。

36. 阅读图文材料，完成下列要求。(22 分)

材料一 2021 年 2 月 21 日，《中共中央国务院关于全面推进乡村振兴加快农业农村现代化的意见》正式对外发布。这是 2021 年中央一号文件，也是 21 世纪以来指导“三农”工作的第 18 个中央一号文件。文件中强调“推进农村一二三产业融合发展示范园和科技示范园区建设”、“坚决守住 18 亿亩耕地红线”、“走中国特色社会主义乡村振兴道路，加快农业农村现代化”。

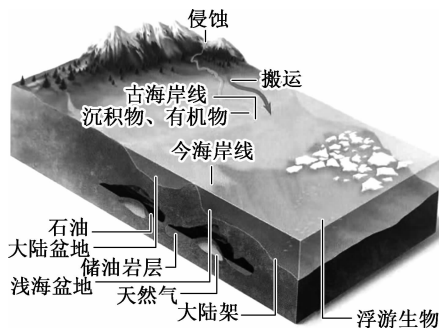
材料二 下图为乡村振兴战略图。



- (1)结合材料一分析我国实施农村三产融合发展的必要性。(8分)
- (2)一号文件为什么要强调我国要“坚决守住 18 亿亩耕地红线”?(6分)
- (3)请你结合材料谈谈我国实施乡村全面振兴可采取哪些措施?(8分)

37. 阅读图文材料，完成下列要求。(24 分)

亚马尔半岛位于俄罗斯西部，接近亚欧大陆的最北端，大部分时间被极寒的冰雪天气笼罩，春夏季冰雪消融，表层冻土变沼泽。该地蕴藏着巨大的地下油气资源，探明能源储量 25%，该地油气资源开采和运输都困难重重，冬季是开采的最佳季节。目前中国参建亚马尔 LNG 和北极-2LNG(液化天然气,Liquefied Natural Gas, 简写 LNG)能源开发。全球未开发的油气资源北极地区量最多、潜力最大。下面图 a 为北极地区油气资源形成示意图，图 b 为亚马尔液化天然气运输路线图。



图a



图b

- (1)推断北极地区油气资源的形成过程。(4分)
- (2)简析北极地区能源开采，冬季比夏季更合适的原因。(6分)
- (3)列举极地能源开发需要克服的困难。(6分)
- (4)对比冬夏亚马尔液化天然气运输路线的优缺点。(8分)

38. 阅读材料,完成下列要求。(14 分)

**材料一** “如果你控制了粮食,你就控制了所有的人。”这句话道出了粮食安全就是生命线的道理。2020 年,我国粮食进口量再创新高。虽然稻谷和小麦连续多年产大于需,但是优质小麦和大米供给不足;国家大力鼓励生猪生产,由此带动饲用玉米和大豆需求大幅增长;我国粮食生产的规模化和组织化程度与发达国家相比有较大差距导致国内外粮价倒挂。

**材料二** “五谷者,万民之命,国之重宝。”保障粮食安全,关键在于落实藏粮于地、藏粮于技战略,保障重要农产品有效供给和促进农民持续增收。严守耕地红线,落实最严格的耕地保护制度,加强农田水利建设;要坚持农业科技自立自强,加快推进农业关键核心技术攻关,打一场种业翻身仗;坚持完善最低收购价政策,扩大完全成本和收入保险范围,发展适度规模经营;推动品种培优、品质提升、品牌打造和标准化生产。

运用经济生活知识回答下列问题:

(1)结合材料一,说明我国粮食进口量再创新高的原因。(6 分)

(2)结合材料二,谈谈国家是如何保障粮食安全,保“万民之命”的。(8 分)

39. 阅读材料,回答问题。(12 分)

为了广泛征求公众意见,以提高立法的科学性,体现立法的民主性,2020 年 7 月 21 日,第十三届全国人大常委会第十九次会议在对《中华人民共和国乡村振兴促进法(草案)》进行了初次审议后,将草案向社会公布。

2020 年 12 月 22 日,十三届全国人大常委会第二十四次会议听取了宪法和法律委员会关于乡村振兴促进法草案修改情况的汇报。

二审稿吸收了部分社会公众、一些全国人大常委会委员等人的建议,在立法宗旨中更加充分地体现了全面推进乡村振兴战略实施的目标任务。草案规定:为了全面实施乡村振兴战略,促进农业全面升级、农村全面进步、农民全面发展,加快农业农村现代化,全面建设社会主义现代化国家,制定本法。

根据部分民主党派成员和政协委员等人的建议,二审稿规定了实施乡村振兴战略应遵循的原则,即:全面实施乡村振兴战略,应当坚持中国共产党的领导,贯彻创新、协调、绿色、开放、共享的新发展理念,走中国特色社会主义乡村振兴道路。

部分人大代表建议增加巩固脱贫攻坚成果、建立脱贫攻坚与乡村振兴衔接机制的内容。对此,二审稿修改为:各级人民政府应当采取措施增强脱贫地区内生发展能力,持续推进脱贫地区发展,健全防止返贫监测和帮扶机制,建立解决相对贫困的长效机制,实现巩固拓展脱贫攻坚成果同乡村振兴有效衔接。

二审稿所作的修改体现了政治生活中的哪些知识?

40. 阅读材料,完成下列要求。(26 分)

**材料一** 中华法系是中华民族数千年法律实践的结晶,自原始社会末期至近代,源远流长,独树一帜。以中国传统思想为理论基础,糅合了法家、道家、阴阳家学说的精华。但是,传统的中华法系并没有形成一部单独的民法典。经长久酝酿,于2015年开始启动民法典的编纂工作,其中,坚持法与时转、与时俱进这一代代相传的立法指导思想,以开放的姿态兼收并蓄、创新发展。现今编制单独的民法典,是适应社会主义市场经济发展的新要求,满足现代社会的新需求。它重视传统,却不是中国已有民事法律规范的拼凑汇编;它借鉴国外先进立法成果,却不是外国民法典的机械照搬,而是以中国特色社会主义法治理论为指导,立足我国国情和实际,具有鲜明的中国特色、实践特色和时代特色。2020年5月28日,十三届全国人大三次会议正式通过《中华人民共和国民法典》。

**材料二** 《中华人民共和国民法典》2021年1月1日起施行,这是一部社会生活的百科全书,人民民事权利的保护法典。近年来,因救人反被告的事件多次发生,“扶不扶”“救不救”一度困扰公众。为杜绝“英雄流血又流泪”的现象,《民法典》明确了侵权人和受益人的各自责任,其中第一百八十四条规定,因保护他人民事权益使自己受到损害的,由侵权人承担民事责任,受益人可以给予适当补偿……。因自愿实施紧急救助行为造成助人损害的,救助人不承担民事责任。全国各地也将依据《民法典》的规定,针对见义勇为为认定和免责等修订相关的地方性法律法规,如大幅提高见义勇为者的奖励金额和保障措施,见义勇为行为造成的相关损失将由政府兜底保障等,同时通过召开先进单位及好市民评选工作新闻发布会等措施,在全社会形成做好人好事的风气,进而培育和践行相互救助的社会主义核心价值观。

- (1)结合材料一,运用文化生活的有关知识,说说中华传统法思想的特点和作用。(10分)
- (2)结合材料二,请运用寻觅社会的真谛的有关知识,简要分析出台《民法典》相关规定及各地细化见义勇为为认定和免责条款的哲学依据。(12分)
- (3)作为新时代的青少年,我们要知法懂法守法,请你就青少年如何学习民法典提出两条合理建议。(4分)

41. 阅读材料,完成下列要求。(25 分)

**材料一** 全球化促进生产、资源、人员、贸易、投资和金融等生产要素全球化配置,降低成本和提高效率。经验显示,一国经济开放程度与其人均GDP增长之间成正比。无论一个国家的发展模式如何调整变化,不考虑全球化因素,不利用全球化的机遇,就不可能探索出先进的发展模式……现行国际体系的主要特征是,由西方特别是美国主导,国家间名义上平等而事实上不平等,国际组织作用有限,霸权主义和“问题国家”得不到有效制约。现行国际体系在应对日益增多的全球性问题方面日渐乏力,其调整、完善和转型乃大势所趋。

——摘编自黄志军《经济全球化条件下的社会制度建设与创新思考》

**材料二** 经济全球化是一项正在进行的工作,它对经济和社会的长期影响还不十分明显。对它的支持者来说,经济全球化最大效率地提供了市场,迅速地将商品和服务引向需要的领域,并总是能期望得到最大的回报。全球化的支持者也认为对于发展中国家来说,这种新的

经济形式是唯一走向繁荣的道路。对它的批评者来说,全球经济是难以驾驭的力量,这种力量既不是不可避免的,也不是人们想要得到的,这种力量使非常少的人获益而使许多人贫穷,他们声称全球化削弱了地区和政府的权力,并且将这种塑造经济和政治命运的权力移交给如国际货币基金组织、世界贸易组织这样的跨国公司和全球性机构。

——摘编自[美]杰里·本特利、赫伯特·齐格勒《新全球史》

- (1)根据材料一、二,指出经济全球化的作用。(8分)
- (2)根据材料并结合所学知识,分析经济全球化带来的问题。(10分)
- (3)综上所述,谈谈你对经济全球化的认识。(7分)

42. 阅读材料,完成下列要求。(12分)

材料

时间	事件
17—18世纪	清朝处于鼎盛时期;茶叶、瓷器大量输往欧洲,中国在对外贸易中处于出超地位。
19世纪中后期	两次鸦片战争,签订一系列不平等条约,逐渐沦为半殖民地半封建社会;甲午战争后,签订《马关条约》,允许日本在中国设厂;沙俄通过一系列不平等条约割占中国一百五十多万平方千米的领土。
1900—1949年	清政府时期,签订《辛丑条约》,沦为洋人统治中国的工具。北洋政府时期:签订“二十一条”,巴黎和会上中国外交失败。国民政府时期:中国抗日战争配合了世界反法西斯战争,提高了中国的国际地位。
1949—1978年	新中国成立第一年与十多个国家建立外交关系;新中国成立之初美国等帝国主义国家对中国采取外交孤立政策;1971年中国恢复在联合国的合法席位;20世纪70年代初国际社会兴起与中国建交的热潮。
1978年以来	实施改革开放,陆续开放一些沿海城市;香港、澳门相继回归;加入亚太经合组织;成立上海合作组织。

根据材料信息并结合所学知识,围绕我国对外政策的历史变迁,自拟一个论题,并予以阐述。(要求:写明论题,史实准确,史论结合)

(二)选考题:共25分。请考生从2道地理题、3道历史题中每科任选一题作答。如果多做,则每科按所做的第一题计分。

43. [地理——选修3:旅游地理](10分)

冰川旅游是以现代冰川或冰川遗迹资源为主要吸引物,集冰川观光、体验、探险、科考、科普、教育于一体的高山专项旅游项目。冰川徒步是最传统也是最普遍的冰川旅游形式。随着气候变暖,冰川退缩和冻土解冻,使得冰川旅游也面临着许多发展困境,而有专家指出,气候变暖能促进冰川旅游的发展,但需防范其给冰川旅游带来的旅游风险。



分析气候变暖对冰川旅游的促进作用及由此带来的旅游风险。

44. [地理——选修 6:环境保护](10 分)

生态环境部、商务部、发展改革委、海关总署发布《关于全面禁止进口固体废物有关事项的公告》。公告明确,自 2021 年 1 月 1 日起,我国将禁止以任何方式进口固体废物,禁止我国境外的固体废物进境倾倒、堆放、处置。



我国禁止进口固体废物所采取的环境管理手段有哪些?除此以外,我国还可以采取哪些措施防治固体废物污染?

45. [历史——选修 1:历史上重大改革回眸](15 分)

阅读材料,完成下列要求。

材料一 1856 年,亚历山大二世向莫斯科贵族发表演说时说:“到处在谣传,我要给农民自由,这是不公正的,……但是,遗憾的是,农民和他们的地主之间存在着敌对情绪,并因此发生了许多不服地主管束的事情。……因而,从上面解决要比从下面解决好得多。”

——摘编自孙成木《俄国通史简编》

材料二 1868 年 4 月的一天,日本京都皇宫的大殿内,天皇率领群臣宣读誓词:“广兴会议,万机决于公论;上下一心,大展经纶;官武一体以至庶民,各遂其志,务必人心不倦;破历来之陋习,基于天地之公道;求知识于世界,大力振兴皇基。”这就是日本历史上著名的“五条誓文”。

——摘编自《中国近代史》

材料三 1898 年 6 月 11 日,光绪帝颁布明定国是上谕,上谕说:“数年以来,中外臣工讲求时务,多主变法自强。……惟是风气尚未大开,论说莫衷一是,或托于老成忧国,以为旧章必应墨守,新法必当摒除,从喙哓哓,空言无补。……嗣后中外大小诸臣,自王公以及士庶,各宜努力向上,发愤为雄,以圣贤义理之学,植其根本,又须博采西学之切于时务者,实力讲求,以教空疏迂谬之弊”。以皇帝名义“诏定国是”,其目的是“以变法为号令之宗旨,以西学为臣民之讲求,著为国是,以定众向,然后变法之事乃决,人心乃一,趋向乃定。”

——摘编自梁启超《戊戌政变记》

(1) 根据材料,结合所学知识,指出上述三国解决社会危机的角度(或者侧重点)有何不同?

上述三国采取的改革方式有何相同之处?(9 分)

- (2)上述三国改革出现了不同的结果,结合所学知识,分析影响改革成败的因素主要有哪些?  
(6分)

46.[历史——选修3:20世纪的战争与和平](15分)

阅读材料,完成下列要求。

**材料一** 经过腥风血雨,第一次世界大战终于落下帷幕。然而即将到来的世界是什么样子?甲、乙同学对此各有不同的看法。同学甲:战争已经永久地结束了。真正的持久的和平已经来临,你们看,各国不正在为争取和平而努力吗?同学乙:战争并没有结束。新的世界大战已经悄悄拉开序幕。

**材料二** 2006年10月13日下午,第61届联合国大会192个与会国的代表以热烈的掌声通过决议,正式任命韩国外交通商部长潘基文为下一任联合国秘书长。潘基文从而成为联合国历史上第八任秘书长,也是继缅甸的吴丹之后第二位来自亚洲的联合国秘书长。潘基文说:“当前,我们面临一个比任何时期都需要联合国有所作为的时代。我会认真履行《联合国宪章》所赋予的职责,为推动和平、发展和增进人权做最大的努力。”

(1)根据材料一,并结合所学知识论证材料中的某一个观点。(7分)

(2)根据材料二,并结合当今世界局势特点,谈谈你对潘基文讲话的理解。(8分)

47.[历史——选修4:中外历史人物评说](15分)

阅读材料,完成下列要求。

**材料一** 胸怀智勇者,无所畏恐,轻捷地步向通往王座之路,明知险阻重重偏向上攀登;皇冠千斤重,他不予掂量,坚定又镇静,兴冲冲向头部压去,怡然自得,视之如桂冠……

——歌德《论拿破仑》

**材料二** 欧洲则普遍认为,由人民自己治理国家,最终只会导致无政府主义和天下大乱。但不管怎样,华盛顿并没有顺应当时的潮流,为世上多添一项王冠。然而世界却将因多了一位总统,而使王冠从此暗淡无光甚至难以戴稳。

——陈森《华盛顿——美国的开国元勋》

(1)你认为拿破仑称帝就意味着法国恢复了大革命前的封建专制了吗?为什么?(8分)

(2)如何理解材料二中的“世界却将因多了一位总统,而使王冠从此暗淡无光甚至难以戴稳”?综合以上材料,并结合所学知识,请你谈谈特定历史时期影响政治体制选择的因素。(7分)