

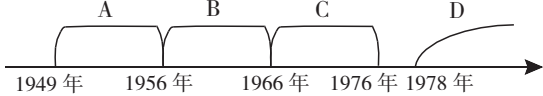
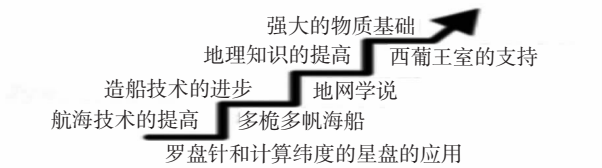
历史试题

温馨提示:

1. 本学科试卷分试题卷和答题卡两部分,考试时量为 90 分钟,满分为 100 分。
2. 请你将姓名、准考证号等相关信息填写在答题卡上。
3. 请在答题卡上作答,答在本试题卷上无效。

一、选择题(本大题共 20 道小题,每小题 2 分,共 40 分。且每小题只有一项最合题意。)

1. 《小雅黄鸟》是中国古代第一部诗歌总集《诗经》中的一首诗。诗中写道“黄鸟黄鸟,无集于谷,无啄我粟。……”以粟作为主要粮食作物的原始居民是
A. 元谋人 B. 半坡人 C. 北京人 D. 河姆渡人
2. 获取有效信息是历史学习的重要方法之一。符合“西周”、“天子——诸侯——卿大夫——士”等信息的古代政治制度是
A. 分封制 B. 禅让制 C. 郡县制 D. 宗法制
3. 2019 年 3 月 24 日,法国总统马克龙向到访的中国国家主席习近平赠送了一份特殊礼物——1688 年法国出版的首部《论语导读》法文版原著。该特殊礼物反映出法国很早就有学者宣传
A. 墨家思想 B. 法家思想 C. 道家思想 D. 儒家思想
4. 下列关于春秋时期诸侯争霸战争的评价,正确的是
①争霸战争给社会带来种种灾难
②在争霸过程中,有些诸侯国被消灭,有利于国家走向统一
③在争霸过程中,秦国通过商鞅变法加强了自身的实力
④各民族频繁接触,促进了民族融合
A. ①②④ B. ②③④ C. ①③④ D. ①②③④
5. “舟师识地理,夜则观星,昼则观日,阴时则观指南针。”说明指南针的价值是
A. 天文观测 B. 天气预报 C. 航海探索 D. 地理测量
6. “一个中国人的名字,像航标灯一样闪耀在茫茫夜海整整 600 年。这个犹如启明星般的名字,曾点燃 15 世纪海上文明的曙光,引领了一个时代的航路。”材料评价的是
A. 张骞通西域 B. 马可·波罗访华 C. 郑和下西洋 D. 鉴真东渡
7. 1895 年 3 月,邵阳市籍湘军将领魏光燾率部抗击进犯牛庄(辽宁省境内)的敌军,三换坐骑,浴血奋战,表现出了不畏强暴勇于抗争的英雄气概。材料中的敌军是指
A. 英军 B. 英法联军 C. 日军 D. 八国联军
8. 中华人民共和国的成立开辟了中国历史新纪元。“新纪元”是指中国实现了
A. 全境解放 B. 民族独立 C. 社会主义 D. 国家富强
9. “魂飞万里,盼归来,此水此山此地。百姓谁不爱好官?把泪焦桐成雨……为官一任,造福一方,遂了平生意,……”习近平总书记这首词称赞的历史人物是
A. 雷锋 B. 焦裕禄 C. “铁人”王进喜 D. 周恩来

10. 香港、澳门回归祖国的时间是
- 1997 年 12 月 30 日、1999 年 12 月 30 日
 - 1997 年 12 月 30 日、1999 年 12 月 20 日
 - 1997 年 7 月 1 日、1999 年 12 月 30 日
 - 1997 年 7 月 1 日、1999 年 12 月 20 日
11. 委内瑞拉已故总统查韦斯特别推崇毛泽东思想,曾表示“我是伟大舵手毛泽东的崇拜者和追随者”。下列关于毛泽东思想的叙述中,不正确的是
- 以毛泽东同志为主要代表的中国共产党人集体智慧的结晶
 - 是马列主义和基本原理同中国革命的具体实践相结合的产物
 - 是被实践证明了的关于中国革命和建设的正确的理论原则和经验总结
 - 核心是建设有中国特色社会主义理论
12. 如图,哪个字母所代表的时期属于“社会主义现代化建设的新时期”?
- A
 - B
 - C
 - D
- 
13. 台湾问题不同于香港问题,因为就其性质而言,属于
- 我国内政问题
 - 恢复行使主权问题
 - 民族统一战线问题
 - 收回殖民地问题
14. 社会成员按血统、职业和肤色分为四个等级。每个等级之间的社会地位和法律地位是世袭的,彼此之间的职业和身份有严格区别,不同等级之间严禁通婚。这反应的是
- 中国古代分封制
 - 西欧封建等级制度
 - 印度种姓制度
 - 奴隶共和制
15. 有人说:“在中世纪,人类意识…一直处在—层共同的纱幕下,处于睡眠或半醒状态。这层纱幕是由信仰、幻想和幼稚的偏见织成的…在意大利,这层纱幕最先烟消云散。”最先促使“这层纱幕”“烟消云散”的是
- 文艺复兴
 - 启蒙运动
 - 新航路开辟
 - 资产阶级革命
16. 观察如图知识结构图,
- 这一结构图适用于说明
- 文艺复兴的原因
 - 新航路开辟的条件
 - 法国大革命的影响
 - 明治维新的背景
- 
17. “把商品、货币、市场机制引进到苏联的社会主义建设里面去,在马克思主义的发展史上,这是一个重大突破”这是对苏俄哪一政策的评价
- 新经济政策
 - 战时共产主义政策
 - 农业集体化政策
 - 斯大林模式

- 二、非选择题(共 60 分,第 21~24 题依次是 14 分、14 分、16 分、16 分)

材料一：自秦朝起，中国形成了一个以汉族为主体的统一的大国……比起秦以前的封建时代来，显然是进入了新的时代，他和他的统治机构，显然比前一时代的封建国家起着较多的作用。因此，他创建的许多制度，是符合当时社会的需要的。后来延续二千年之久的封建体制，基本上是秦制的逐步演变，秦是一个值得重视的朝代。

材料二:隋唐时期是我国历史上少有的繁荣与开放的时代,各个领域的建树熠熠生辉。……唐代我国社会经济发展繁荣。当时社会稳定,经济发展,士人读书风气盛行,教育事业也因此发展,文学艺术繁荣。中外交往出现了盛况空前的局面。日本、大食、天竺等国纷纷遣使到唐朝……日本先后 13 次派出遣唐使,使团庞大,居各国之首。

材料三：清朝对出海贸易的商船装载货物重量有严格的限制，甚至规定只准带铁锅一口，每人只许带铁斧一把；船上所有人员必须详细登记姓名，年龄、面貌、履历、籍贯等；船只预先规定往返日期，每人每日只许带米两升。

(3)结合材料三和所学知识回答:清朝实施的这一政策使当时中国的世界地位发生了怎样的变化?这种政策推行近 200 年,被哪场战争所改变,中国开始沦为半殖民地半封建社会?(4 分)

(4)综合上述材料并结合所学知识,谈谈你获得的启示(2分)

22. (14分)在人类历史发展的长河中,东西方文化各放异彩,并相互交流,交相辉映。阅读材料,探究问题。

【探究一】中国古代的文化成果


材料一



图一 刻有文字的甲骨



图二 后世流传的一种《论语》版本(书影)



图三 造纸工艺流程想象图(局部)

(1)就史料的来源来看,材料一中可信度最高的是哪一个?(写出图片编号即可)并请指出图三造纸工艺的发明者(4分)

【探究二】东西方文化的交融

材料二 2017年5月14日,习近平总书记在“一带一路”国际合作高峰论坛开幕式上的演讲中指出:古丝绸之路跨越尼罗河流域、两河流域、印度河和恒河流域、黄河和长江流域

(2)根据材料二结合所学知识回答,公元前4世纪的哪一重大事件使希腊文化传播到了东方? 在古丝路上谁被誉为传播东西文化的使者?(4分)

材料三 右图是文艺复兴时期意大利威尼斯一位画家的作品《群神宴》。画面上,众神或坐或立,谈笑宴饮,穿着打扮与常人无异。画中盛放水果和汤的三件器皿都是来自中国明朝的青花瓷。



- (3)根据材料三并结合所学知识指出,《群神宴》中众神的形象、举止与人无异,轻松随意、个性张扬,画家为什么会这样塑造?当时中国明朝的青花瓷器为什么会出现在欧洲,请说明理由。(4分)

【探究三】对东西方文化交流的认识

- (4)根据以上材料并结合所学知识,谈谈你对中西方文化关系的认识。(2分)

23. (16分)世界历史潮流波澜壮阔,近代大国崛起各具特色,它们的发展道路和经验教训,启迪着今天,也影响着未来。阅读材料,回答问题。

材料一 1861年后,俄国外出谋生的农民数量逐渐增多。19世纪90年代末,俄国矿山和铁路等部门的工人人数增加到279.2万人。这些为俄国经济的发展提供了必要的条件。

材料二 政治改革:明治政府强制实行“版籍奉还”、“废藩置县”政策,将日本划分为3府72县,建立中央集权式的政治体制;文明开化:社会文化方面,提倡学习西方社会文化及习惯,翻译西方著作;殖产兴业:引进西方近代工业技术,设立工部省管理工商业,改革土地制度,废除原有土地政策,许可土地买卖,实施新的地税政策;教育方面,设立文部省,颁布教育改革法令——《学制》,发展近代资产阶级性质的义务教育;军事方面,改革军队编制,陆军参考德国训练,海军参考英国海军编制。

材料三 美国自1776年诞生,至今只有230多年的历史,可以说是一个年轻的国家……美国崛起于19世纪后半期到20世纪上半期,首先集中解决了国内的统一和制度问题。在第二次工业革命中,这个新兴的工业国家以重大科技发明为基础,在19世纪末迅速赶超欧洲强国。通过两次世界大战,美国获得了对欧洲的巨大债券和战争赔偿,实现了世界范围的财富从欧洲向美国的转移。以第二次世界大战为标志,美国完成崛起的过程,取代英国成为世界霸权国家。但却成为世界唯一的超级大国,它的发展引起了世人的瞩目。……在美国南达科他州黑山地区的拉什莫尔国家公园里有座山峰,山峰顶上雕刻着四位已故美国总统的雕像,他们被认为是美国历史上最伟大的四位总统——华盛顿、杰弗逊、林肯、罗斯福。

- (1)材料一中现象的出现和当时政府的哪一重大举措有关?对俄国历史发展进程有何影响?(4分)

- (2)材料二是某国改革的内容,请写出其中影响最深远的措施。(2分)

- (3)上述三则材料给了你哪些启示?(2分)

(4)依据以上三则材料,对下面表述作出判断:和材料内容相符合的,在括号内划“√”;违背材料所表达意思的在括号内划“×”。(8分)

- ①()明治政府“废藩置县”、殖产兴业、实施新的地税政策
- ②()1776年美国获得真正独立,至今只有200多年的历史。
- ③()第一次工业革命中,美国以重大科技发明为基础,在19世纪末迅速赶超欧洲强国。
- ④()美国是世界超级大国之一。

24. (16分)中国共产党的100年,是开创历史、奠定基业、开辟未来的100年。阅读材料,结合所学知识回答问题

材料 近代以后,由于西方列强的入侵,中国逐步沦为半殖民地半封建社会,山河破碎,民不聊生。为了挽救民族危亡、争取民族独立,无数仁人志士进行了艰苦探索,太平天国运动、洋务运动、戊戌变法、义和团运动相继爆发,然而都未能取得成功。辛亥革命虽然推翻了清政府的腐朽统治,但无法改变中国落后挨打的命运。

……中国共产党一经成立,就义无反顾肩负起实现中华民族伟大复兴的历史使命,中华民族在绝境中终于迎来了新的生机。毛泽东同志指出:“实现中国的独立自由是一个伟大的任务”。为了完成这个“伟大的任务”,我们党团结带领中国人民进行28年浴血奋战,打败日本帝国主义,推翻国民党反动统治,完成新民主主义革命,建立了中华人民共和国,中华民族赢得了历史性的新生。

百年初心,历久弥坚;使命在肩,永不止步。党的十九届五中全会提出,全面建成小康社会、实现第一个百年奋斗目标之后,我们要乘势而上向第二个百年奋斗目标进军,到2035年基本实现社会主义现代化。

(1)有学者指出,从1901年到1920年期间,中国历史表现为“谷底”时期,……1921年以后,中国的历史发展趋势就主要表现为“上升”了。请问中国完全沉沦到“谷底”的标志性事件是什么?为什么说中国的历史发展趋势是从1921年以后开始“上升”的?(4分)

(2)“党团结带领中国人民进行28年浴血奋战”“28年”是指从哪年到哪年?(2分)

(3)新中国成立后,国际地位不断提高,外交成果累累。请用发生在1971年的一件大事来说明(2分)

(4)根据材料并结合所学知识,写一篇历史小论文。要求:题目自拟,观点明确,史论结合,表述成文,不少于100个字。(8分)