

2021 年春期九年级调研测试

历史

注意事项:

1. 本试卷共 6 页,分为选择题和非选择题,满分 50 分,考试时间 50 分钟。
2. 开卷考试,可查阅参考资料,但应独立答题,禁止交流资料。
3. 本试卷上不要答题,请按答题卡上注意事项的要求直接把答案填写在答题卡上。答在试卷上的答案无效。

选择题(共 20 小题,20 分)

下列每小题列出的四个选项中,只有一项是最符合题目要求的。请将正确选项的英文字母代号涂写在答题卡相应位置上。

1. 下列三幅图片共同反映了



刻有文字的甲骨



《伤寒杂病论》



老子像

- A. 殷商甲骨,汉字之源
 - B. 中华文化,源远流长
 - C. 天下医学,皆源于豫
 - D. 思想璀璨,老家河南
2. 中国第一部诗歌总集《诗经》中,河南篇目作品占三分之一之多。唐代三大诗人河南有其二。河南著名文学家蔡文姬、潘安、谢灵运、江淹、韩愈、刘禹锡、元稹、李贺、李商隐等。这说明河南
- A. 是唐朝诗歌的起源地
 - B. 是华夏姓氏的发源地
 - C. 是中国文学的发祥地
 - D. 是中国思想文化的核心
3. 中国古代青铜器按用途可划分为酒器、食器、乐器、兵器、车马器等。在酒器类中又有爵、角、觥、尊、壶、勺、禁等,而每一器种在每个时代都呈现不同的风采,同一时代的同一器种的式样也多姿多彩。这说明我国古代青铜器
- A. 造型丰富,品种繁多
 - B. 纹饰精美,内涵丰富
 - C. 多元互鉴,多姿多彩
 - D. 制作工艺,世界领先

4. 他所述对策得到了武帝的赏识,使儒学一跃而登上了封建王朝统治思想的宝座,从此实现了历代儒家所追求的以儒学来“修身、齐家、治国、平天下”的夙愿。他所述“对策”是
 A. 焚书坑儒 B. 实行推恩 C. 独尊儒术 D. 八股取士
5. 日本人吟唐诗,好唐乐,发展唐绘,行唐礼,穿唐服,食唐式点心,用唐式餐具,唐风大为盛行。这说明了
 A. 日本奢靡之风盛行 B. 日本文化交流具有双向性
 C. 唐朝文化风靡世界 D. 日本深受唐朝文化的浸染
6. 下表所示史实共同反映了宋代

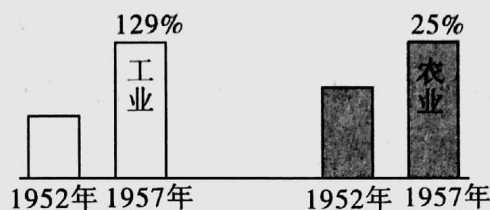
农业	“苏湖熟,天下足”;棉花种植由南向北推进
手工业	景德镇成为瓷都;广州、泉州、明州的造船业世界领先

- A. 农业的发展 B. 南方经济发展 C. 手工业兴盛 D. 商业繁荣
7. 西汉时,该地区正式归属中央政权;唐朝先后在该地区设府;清朝时平定了该地区少数民族贵族发动的叛乱,后来设立管理该地区的军政长官,大大加强了中央政府对该地区的管辖。“该地区”是
 A. 蒙古 B. 西藏 C. 新疆 D. 云南
8. 帝国主义通过这个条约从政治、经济、军事等方面对中国进行严酷的控制和勒索,使中国的主权几乎丧失殆尽,这个条约也是清统治者给自己立下的空前的卖身契。“这个条约”指的是
 A. 《南京条约》 B. 《北京条约》 C. 《马关条约》 D. 《辛丑条约》
9. 维新派活动范围很有限,基本局限于一些官僚士大夫和知识分子,没有得到广大人民群众的支持。这说明
 A. 维新派脱离人民群众 B. 维新派缺乏经验
 C. 西方列强支持维新变法 D. 顽固派反对变法
10. 抗日战争开始时,中国的国际地位无足轻重,没有与强国平等对话的资格。到了抗日战争后期,情况发生了根本性变化,中国的国际地位空前提高。这一时期中国的国际地位变化主要是因为中国
 A. 是世界最早进行反法西斯战争的国家 B. 众志成城谋发展,综合国力大幅度提高
 C. 是进行反法西斯战争时间最长的国家 D. 为世界反法西斯战争作出了重大贡献
11. “《中国土地法大纲》的实施,使得贫雇农基本获得相当于平均水平的土地和其他生产、生活资料,经济上的这种史无前例的变化,使亿万农民迸发出难以估量的革命热情。”据此可知,土地改革
 A. 改变了贫雇农的地位 B. 促进了社会主义经济发展
 C. 废除了土地剥削制度 D. 为抗日战争胜利奠定基础

12. 1922 年民族资本家张謇说：“百里一税，二百里再税，道路梗阻，节节为厉，行之愈远，则商货成本愈重，是禁止商货之流通，迫其近售，而罚其远行者也。”这表明

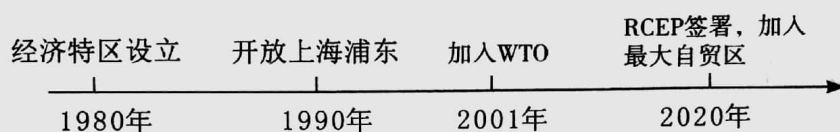
- A. 外国商品的倾销打击了民族工业
- B. 繁重的税收影响了民族工业的发展
- C. 封建官僚勒索成风
- D. 实业救国思想影响较大

13. 下图是中国工业总产值(1952—1957 年)与农业总产值(1952—1957 年)增长统计图,其反映了



- A. “一五”计划成就斐然
- B. 土地改革大大提高了农村生产力
- C. 农业合作化初显成效
- D. “大跃进”运动激发农民生产积极性

14. 下面示意图反映了我国



- A. 综合国力不断提升
- B. 对外开放不断扩大
- C. 成为全球第二大经济体
- D. 全面建成小康社会

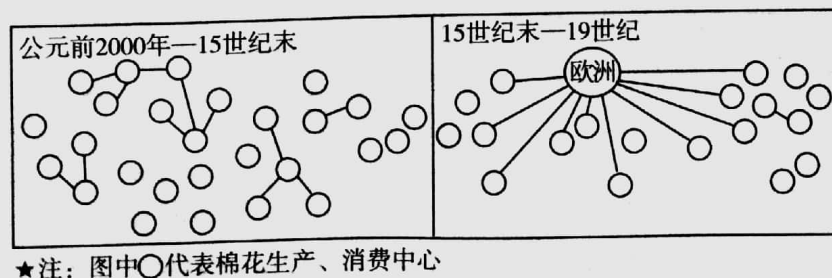
15. 这是世界司法史上的一项奇迹,前不见古人、后不见来者,因为坐在雅典法庭中的全都是些业余法官,大多数是庄稼汉、手工匠人、水手等体力劳动者。材料所述现象出现的主要原因是

- A. 公民司法意识淡薄
- B. 公民都十分精通法律
- C. 法律面前人人平等
- D. 公职人员由抽签产生

16. 由于土地是层层分封的,附庸只承认直接分封自己人为封主,与自己封主的封主则没有臣属关系,所以出现了“我的附庸的附庸,不是我的附庸”的现象。这一现象最早出现于

- A. 法兰克王国
- B. 古代日本
- C. 阿拉伯帝国
- D. 古代印度

17. 下图所示的是全球棉花贸易市场的空间变化,促使 15 世纪末产生这一变化的事件是



- A. 新航路的开辟
- B. 三角贸易
- C. 文艺复兴的兴起
- D. 拿破仑对外战争

18. 历史学家麦考莱认为,在 17 世纪开启之际,王权事实上占据着决定性的主宰地位;17 世纪结束之际……国王拥有立法权,不过他绝无胆量运用这一特权。国王有权任命大臣,不过下院的一通演说就可以随时迫使国王放弃任命。这一变化
- A. 源自《独立宣言》的发表
B. 说明法国建立了民主共和国
C. 表明英国君主立宪制确立
D. 源于美国实行三权分立体制
19. 苏维埃政府的这一政策,保证了外国商人有利可图,有钱可赚,也使苏俄冲破了资本主义国家的经济封锁。“这一政策”指的是
- A. 战时共产主义政策
B. 五年计划
C. 农业集体化
D. 新经济政策
20. 有这样一位作家,他一生写过 91 部小说,作品被誉为“法国社会的一面镜子”。“他”是
- A. 巴尔扎克
B. 梵高
C. 列夫·托尔斯泰
D. 莎士比亚

非选择题(共 5 小题,30 分)

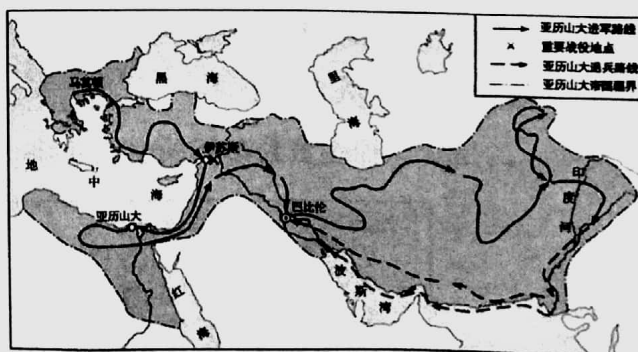
21. (6 分)阅读下列材料,回答问题。

材料一 通过丝绸之路,中国的丝绸、造纸术、火药、印刷术传到西方,同时佛教、伊斯兰教、阿拉伯的音乐舞蹈以及许多蔬菜瓜果,也沿着丝绸之路来到中国。丝绸之路



把古代中国文明、古代印度文明、古代波斯文明和古代罗马文明联结起来,几大文明之间相互交融、相互渗透,从而促进了人类文明的进步。

材料二 亚历山大东征,促进了东西方之间的联系,双方贸易往来更加频繁,许多希腊商人、学者和移民来到西亚、埃及,其生活方式、风俗、语言和文字由此传入东方,同时也从东方汲取了不少文化养分。



- (1) 据材料一和材料二,概括丝绸之路和亚历山大东征的异同点。(4 分)
- (2) 纵观历史长河,中华民族和平友好的对外交往历史源远流长,请再举出一例并加以说明。(2 分)

22. (7分) 阅读下列材料, 回答问题。

材料一 辛亥革命后中国的现状忽然使人们发现, 我们学习的西方的东西都是表层的、肤浅的; 西方的制度是建立在其身后的文化渊源之上的; 而中国文化、中国的国民性是我们建立西方政治制度的最大障碍, 唯有对中国的文化进行彻底的全面的改造, 才能实现中国的富强。

——《新文化运动与近代学习西方运动热潮的终结》

材料二 中华民国建立后, 从西方传入的民主、自由、平等、博爱等思想观念, 在当时的知识阶层, 尤其是青年学生中产生了越来越强烈的影响。窃取辛亥革命果实的袁世凯, 为实现独裁和专制, 推行孔教, 掀起了一股文化逆流。以陈独秀等为代表的进步知识分子, 从对辛亥革命的反思中认定必须根本改造国民性, 号召人们进行思想解放, 掀起了新文化运动。……它对中国传统文化的看法带有一定的片面性, 同时也没有和群众运动紧密结合, 但它仍然不失为一次伟大的思想解放运动。

——摘编自统编教材中国历史教学用书

- (1) 据材料一, 指出当时知识精英对实现中国富强途径认识的变化。(2分)
- (2) 据材料一和材料二, 概括新文化运动兴起的原因。(3分)
- (3) “新文化运动是一次伟大的思想解放运动。”结合所学知识谈谈你对这一观点的认识。(2分)

23. (6分) 阅读下列材料, 回答问题。

材料一



20世纪50年代从苏联购买的6607型主力战舰



我国国产航母山东舰

材料二 从沿岸近海到远海大洋, 从第一艘国产航母、大型驱逐舰下水到歼-15舰载战斗机交付使用, 从新型战斗机、预警机、反潜巡逻机整建制改装到新型导弹、鱼雷实现战斗部署, 人民海军逐步发展成为五大兵种齐全、核常兼备的战略性军种。从南海岛礁建设到海上维权, 从远海联合训练到亚丁湾护航, 海军各项建设更加符合强军兴军时代主题, 发展战略更加契合大国崛起进程, 兵力运用更加适应国家安全发展利益需求, 呈现出前所未有的生机和活力。

- (1)据材料一,概括指出我国海军建设发生的变化。(2分)
- (2)据材料二及所学知识,分析我国海军“呈现出前所未有的生机和活力”的原因。(3分)
- (3)综合上述材料,请你对海军的发展提一点建议。(1分)

24. (6分)阅读下列材料,回答问题。

材料一



1860年12月20日	南卡罗来纳州宣布脱离联邦
1861年1月	密西西比、佛罗里达、亚拉巴马、佐治亚、路易斯安那等州先后召开代表大会,均以压倒票数通过了脱离法令
1861年2月1日	得克萨斯州以166票比7票宣布退出联邦

材料二 1863年1月1日,“解放宣言”开始实施。北部人民为此受到极大鼓舞;广大自由黑人更是欢呼雀跃。南部黑人奴隶从中看到了自己的光明前途,大批逃往北部。“解放宣言”发表后,武装黑人的问题也随之迎刃而解。广大黑人踊跃参军,战斗激情十分高昂。

材料三 林肯受到如此广泛的崇敬与赞美,确实当之无愧。他在美国自由劳动制度与奴隶制度生死决战的关键时刻,领导美国人民进行一场维护进步与统一的斗争,平息了奴隶主的叛乱,推动了美国社会的发展。

——摘编自《美国史》

- (1)据材料一,指出当时美国面临着怎样的问题。(2分)
- (2)据材料二和材料三,概括指出林肯总统在美国内战中所作的重要贡献。(3分)
- (3)综上所述,你认为美国内战给我国的统一大业带来怎样的启示?(1分)

25. (5分)请对比下面图片反映的历史信息,并结合所学知识,写一篇80—120字的小短文。
(要求:题目自拟,史实正确,语句通顺,表述完整,体现两幅图片反映内容的比较)



签署《联合国宣言》



博鳌亚洲论坛2021年年会召开

参 考 答 案

2021 年春期九年级调研测试

历 史

选择题(共 20 小题,20 分)

题号	1	2	3	4	5	6	7	8	9	10
答案	B	C	A	C	D	B	C	D	A	D
题号	11	12	13	14	15	16	17	18	19	20
答案	A	B	A	B	D	A	A	C	D	A

非选择题(共 5 小题,30 分)

21. (1)相同点:加强了东西方之间的联系;促进了东西方贸易发展;促进了东西方文化交流;促进了人类文明发展;促进了不同文明的交融等。(2 分,任答两点即可,其他言之有理的答案也可)不同点:丝绸之路是和平交往,亚历山大东征是暴力冲突。(2 分,其他言之有理的答案也可)
- (2)鉴真东渡日本,传播了大唐文化,促进了中日友好交流。(2 分,其他符合题意的答案也可)
22. (1)从学习西方政治制度到学习西方思想文化。(2 分)
- (2)辛亥革命失败的教训;西方思想观念的传入和影响;袁世凯掀起尊孔复古文化逆流;进步知识分子的推动。(3 分,任答三点即可)
- (3)新文化运动动摇了封建道德礼教的统治地位,使中国人民接受了一次民主、科学的洗礼,为五四运动起了思想宣传和铺垫的作用,因此新文化运动是我国历史上一次伟大的思想解放运动。(2 分,意思相近即可)
23. (1)由以驱逐舰为主力到航母成为重要战力;由进口到国产。(2 分)
- (2)中国综合国力的提高;政府重视海军建设;海军实力不断壮大;海军兵种齐全,武器装备现代化;中国国防科技发展;国家注重海军战备训练;军队改革。(3 分,任答三点即可)
- (3)国家加大对海军的投入;推进新型作战力量建设;培养海军优秀人才;加紧研发新型战舰;加强海军信息化和智能化建设。(1 分,任答一点,言之有理即可)

24. (1) 因为奴隶制存废问题,南北矛盾尖锐;南部部分蓄奴州脱离联邦,国家面临分裂。(2 分)
- (2) 林肯政府废除了黑人奴隶制度,扭转了战局;林肯领导北方取得了内战的胜利,维护了国家统一;推动了美国社会的迅速发展。(3 分)
- (3) 坚决反对分裂,维护国家统一。(1 分,言之有理即可)

25. 【参考范文】 合作共赢

1942 年 1 月,《联合国宣言》的签署,标志着世界反法西斯联盟的正式形成。各国为了一个共同的目标,相互支援,协同作战,逐渐扭转了战争的形势。2021 年 4 月,博鳌亚洲论坛 2021 年年会召开,作为亚太地区最主要的高端对话平台,这次会议为亚洲乃至世界各国重塑增长信心、携手走出疫情阴霾,发挥了积极的作用。由此可见,面对人类面临的共同问题,世界各国应该携起手来共同应对。

【评分说明】 要求:题目自拟,史实正确,语句通顺,表述完整。

给分要点:自拟题目;(1 分)比较的角度;(2 分)史实正确;(1 分)表述完整。(1 分)

若小短文不足 80 字,酌情扣分。