

禄劝 2021 年初中学业水平模拟考试（二）
历史 试题卷

（本试卷共两个大题，29 个小题，共 8 页；考试用时 90 分钟，满分 100 分）

注意事项：

1. 本卷为**试题卷**，考生必须在**答题卡**上解题作答，答案书写在**答题卡**相应位置上，在试题卷、草稿纸上作答无效。
2. 考试结束后，请将**试题卷**和**答题卡**一并交回。

一、选择题（本大题共 25 小题，每小题 2 分，共 50 分。在每小题给出的四个选项中，只有一项是符合题目要求的）

1. 我们的祖先很早就在这块土地上生活、繁衍。有一种远古人类，已经懂得人工取火、会制造装饰品。请你判断这一远古人类是（ ）
A. 元谋人 B. 北京人
C. 山顶洞人 D. 类人猿
2. 文物是鲜活的历史。现存商朝青铜器中形体最大、最重的一件是（ ）
A. 青铜面具 B. 司母戊鼎
C. 四羊方尊 D. 青铜立人像
3. 乾隆二十二年，清政府规定：“凡外国商船只准在广州一地通商贸易。”这反映出清政府实行的对外政策是（ ）
A. 文字狱 B. 八股取士
C. 闭关锁国 D. 重农抑商
4. “英国割取香港，意味着获得了经营中国的基地；而五口开放则提供了由沿海推向内地的孔道。”此内容与下列哪一条约有关（ ）
A. 《南京条约》 B. 《北京条约》
C. 《马关条约》 D. 《辛丑条约》
5. 作为洋务派的代表，受命于危难之际，收复新疆，清政府在他的建议下于 1884 年设新疆行省。他是（ ）
A. 曾国藩 B. 李鸿章
C. 张之洞 D. 左宗棠
6. 康有为在自己的回忆录里记录了组织公车上书的行动。下面与公车上书有关的历史事件是（ ）
A. 太平天国运动 B. 戊戌变法
C. 义和团运动 D. 废除科举制

7. 1912 年 1 月 6 日，《时报》发表了一幅名为《元宵庆贺灯》的漫画（图 1），其中一个灯笼上写着“总统万岁、共和万岁”。这是为了庆祝（ ）




图 1

- A. 同盟会成立 B. 武昌起义成功
C. 中华民国建立 D. 新文化运动开始
8. “吾主张今日作文作诗……与其用三千年前之死字，不如用二十世纪之活字；与其作不能行远普及之秦汉六朝文字，不如作家喻户晓之《水浒》《西游》文字也。”胡适主张（ ）
A. 思想改良 B. 文学改良
C. 政治改良 D. 教育改良
9. “这所学校系孙中山在苏联的协助下建立的，校长蒋介石，其组织体制系参考苏联红军，对国民革命军各军事学校，甚至整个军事体系，均有深远的影响。”“这所学校”是（ ）
A. 京师同文馆 B. 京师大学堂
C. 北京大学 D. 黄埔军校
10. 著名作家臧克家在《红血洗过的战场》中写道：“在这里，我们用血写就了伟大的史诗！在这里，我们泄尽了敌人的底！在这里，我们击退寇兵！……台儿庄，一片灰烬；台儿庄的名字，和时间争长。”材料中所述这场战役的领导人是（ ）
A. 杨虎城 B. 李宗仁 C. 林彪 D. 彭德怀
11. 1936 年 12 月《桂林日报》登载李济深致国民政府电文：“陕变事起，曾……通电主张一致对外……况汉卿通电各项主张，多为国人所同情者，屡陈不纳，迫以兵谏，绝不宜以叛逆目之。”材料中的“陕变”是指（ ）
A. 九一八事变 B. 一·二八事变
C. 西安事变 D. 七七事变
12. 1949 年 9 月，在北平召开的中国人民政治协商会议第一届全体会议上，通过的起着临时宪法作用的文件是（ ）
A. 《中华民国临时约法》
B. 《中国人民政治协商会议共同纲领》
C. 《中华人民共和国土地改革法》
D. 《中华人民共和国宪法》

13. 1951 年，西藏地方政府派出以阿沛·阿旺晋美为首席代表的代表团抵达北京，与中央人民政府谈判，双方达成了和平解放西藏的协议，西藏获得和平解放。这标志着（ ）
- A. 祖国大陆获得了统一
B. 祖国获得了统一
C. 西藏确立社会主义制度
D. 西藏自治区成立
14. 改革开放以来，中国经济迅速发展起来。为了加强世界各国经济的交流，参与国际经济竞争，2001 年，中国加入了（ ）
- A. 联合国
B. 世界贸易组织
C. 欧盟
D. 上海合作组织
15. 香港、澳门自古以来就是中国领土不可分割的一部分。但由于历史的原因造成了香港、澳门与中国大陆长期的分离，直到 20 世纪末我国才对香港、澳门恢复行使主权。香港、澳门顺利回到祖国怀抱，得益于（ ）
- A. “九二共识”
B. 民族区域自治
C. “一带一路”
D. “一国两制”
16. 毛主席曾说：“为了反对帝国主义的侵略，我们一定要建立强大的海军。”中国人民解放军的第一支海军是（ ）
- A. 南洋舰队
B. 北洋舰队
C. 福建舰队
D. 华东军区海军
17. 2020 年 6 月 15 日晚，印度边防部队非法越过中印边界西段实控线，中国边防部队果断采取自卫措施，有效捍卫了国家主权和领土完整。印度军队的行为违反了（ ）
- A. 和平共处五项原则
B. 求同存异的方针
C. 共商共建共享原则
D. 全方位外交
18. 中国北斗卫星导航系统（DBS）是中国自行研制的全球卫星导航系统，是继美国全球定位系统（GPS），俄罗斯格林洛纳斯卫星导航系统（GLONASS）之后第三个成熟的卫星导航系统。下列科技成就中开我国卫星成功发射先河的是（ ）
- A. 东方红一号
B. 神舟一号
C. 神舟五号
D. 神舟六号
19. 通过“两河流域”“楔形文字”“汉谟拉比法典”等关键词，可以联想到的文明古国是（ ）
- A. 古埃及
B. 古印度
C. 古巴比伦
D. 古代中国
20. 日本文字在创制过程中借用了汉字的草书和楷书，形成了“平假名”和“片假名”。据此可以推知，日文形成于（ ）
- A. 大化改新时期
B. 幕府统治时期
C. 倒幕运动时期
D. 明治维新时期

21. 1787 年美国宪法是世界上第一部资产阶级成文宪法，对后来许多国家的政治变革产生了重要影响。图 2 反映了 1787 年美国宪法对国家权力实行（ ）

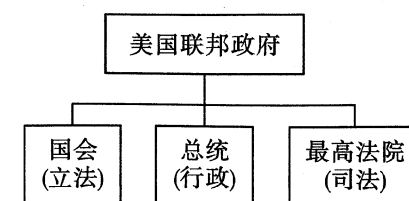


图 2

- A. 总统独裁
B. 君主立宪
C. 专制集权
D. 三权分立
22. 19 世纪末 20 世纪初，人类出现以石油为能源的新式交通工具，为其提供动力的机器是（ ）
A. 蒸汽机
B. 发电机
C. 内燃机
D. 电动机
23. 战争是残酷的，发生在 1916 年的战役，交战双方损失近百万人，因此这场战役有“绞肉机”“地狱”“屠场”之称。此战役是（ ）
A. 凡尔登战役
B. 莫斯科战役
C. 斯大林格勒战役
D. 诺曼底登陆
24. 一战结束后，德国 13% 的领土被割让，因此丧失了 15% 的耕地面积和 75% 的铁矿藏；德国还失去了全部殖民地和海外属地。导致这一局面出现的条约是（ ）
A. 《和平法令》
B. 《凡尔赛条约》
C. 《九国公约》
D. 《联合国宣言》
25. 《向日葵》以绚烂的色彩、奔放的笔触表达了狂热的情感，将形式美和意境美推到了难以企及的高度，其作者是（ ）
A. 凡·高
B. 达·芬奇
C. 莎士比亚
D. 毕加索

二、非选择题（本大题共4小题，第26题14分，第27题12分，第28题12分，第29题12分，共50分）

26. (14 分) 阅读下列材料, 回答问题。

材料一




图 3

材料二 为防止唐末以来武将专横跋扈的弊端重现，宋太祖有意重用文臣掌握军政大权。后继的宋太宗继续采取抑制武将、提升文官地位的政策，使文臣统兵的格局逐渐形成。当时的文官担任中央和地方的要职，甚至主持军务，地位和待遇高于武将。

——部编版教材《中国历史》（七年级下册）

材料三

时间	事件
1653 年	顺治帝赐予西藏佛教首领达赖五世金册、金印和“达赖喇嘛”封号
17 世纪后期	康熙帝三次亲征，平定蒙古族准噶尔部叛乱势力
1713 年	康熙帝册封西藏另一位佛教首领“班禅额尔德尼”封号
1727 年	设置驻藏大臣，监督西藏地方政务
18 世纪中期	乾隆帝平定大、小和卓叛乱，设置伊犁将军管辖新疆地区
1793 年	清朝颁布《钦定藏内善后章程》29 条，确定了金瓶掣签制度

——部编版教材《中国历史》（七年级下册）

(1) 根据材料一并结合所学知识，秦朝为加强对全国的统治，具体采取了哪两项措施？（4 分）

(2) 根据材料二，为改变地方节度使权力过大的问题，宋朝采取了什么政策？（4 分）

(3) 根据材料三，归纳清朝对边疆地区管理的主要方式。它们的共同作用是什么？（4 分）

(4) 根据上述材料并结合所学知识，概括我国古代国家地方治理的总体特点。（2 分）

27.（12 分）阅读下列材料，回答问题。

材料一 毛泽东最伟大的历史功绩，是在长期艰苦卓绝的革命实践中，开辟了一条独特的革命道路，在几次危急的时刻力挽狂澜，出奇制胜地挽救了革命，最终实现了民族独立。改变了中国近代历史的发展方向，实现了中国由弱到强、由衰而盛的伟大转折，为中华民族的振兴奠定了坚实基础、提供了根本保障。

——人民网

材料二 从 1953 年开始，随着大规模经济建设的开始，中国同时走上了快速推动工业化和向苏联模式的社会主义经济过渡道路……通过实行单一公有制，排除市场调节对优先快速发展重工业战略的妨碍，将资源配置控制在政府手中。

——武力《中华人民共和国经济史》

材料三 经过十多年改革，我国经济体制发生了巨大变化。以公有制为主体的多种经济成分共同发展的格局初步形成，农村经济体制改革不断深入，国有企业经营机制正在转换，市场在资源配置中的作用迅速扩大，对外经济技术交流与合作广泛展开，计划经济体制逐步向社会主义市场经济体制过渡。

——《中共中央关于建立社会主义市场经济体制若干问题的决定》

(1) 根据材料一，指出毛泽东在新民主主义革命时期的主要历史功绩。（2 分）

(2) 结合所学知识回答，材料二中“快速推动工业化”和“实行单一公有制”的主要措施分别是什么？（4 分）

(3) 根据材料三，指出我国经济体制改革主要涉及哪两个领域？改革以后的经济体制发生了怎样的变化？（4 分）

(4) 根据上述内容及所学知识，你认为影响我国发展的因素有哪些？（2 分）

28. (12 分) 阅读下列材料, 回答问题。

材料一 14 世纪中叶, 意大利的佛罗伦萨、威尼斯等地……出现了资本主义萌芽。形成中的资产阶级不满罗马教廷对精神世界的控制, 对教会宣扬的苦行禁欲、追求死后升入天堂的生活态度渐生异议, 要求建立一种以人中心而不是以神为中心的生活哲学; 他们提倡发扬人的个性, 追求享受现世生活。……它是一场反对教会“神权至上”和提倡人文主义的新文化运动, 促进了人们思想的大解放, 延续了近 300 年之久。

——部编版教材《中国历史》(九年级上册)

材料二 《共产党宣言》发表 170 年来, 马克思主义在世界上得到了广泛传播。在人类思想史上, 没有一种思想理论像马克思主义那样对人类产生了如此广泛而深刻的影响。马克思主义极大推进了人类文明进程, 至今依然是具有重大影响的思想体系和话语体系, 马克思至今依然被公认为“千年第一思想家”。

——习近平(2018 年纪念马克思诞辰 200 周年讲话)

材料三 19 世纪中期, 马克思和恩格斯共同创立了马克思主义理论。从此, 在科学理论的指导下, 国际工人运动进入一个新的历史时期, 法国巴黎的无产阶级进行了建立政权的第一次伟大尝试。

——部编版教材《中国历史》(九年级上册)

材料四 法治是人类文明进步的重要标志, 是治国理政的基本方式, 是中国共产党和中国人民的不懈追求。法治兴则国兴, 法治强则国强。

——中共中央印发《法治中国建设规划(2020~2025 年)》

(1) 材料一反映的是哪次思想解放运动? 根据材料一, 指出这一运动的核心思潮。(4 分)

(2) 根据材料二, 指出马克思主义诞生的标志及其重要历史意义。(4 分)

(3) 材料三中“无产阶级进行了建立政权的第一次伟大尝试”指的是哪一历史事件?(2 分)

(4) 根据上述材料并结合所学知识, 说说思想解放和社会发展之间的关系。(2 分)

29. (12 分) 阅读下列材料, 回答问题。

材料一 五四运动以彻底反帝反封建的革命性、追求救国强国真理的进步性、各族各界群众积极参与的广泛性, 推动了中国社会进步, 促进了马克思主义在中国的传播, 促进了马克思主义同中国工人的结合, 为中国共产党做了思想上干部上的准备, 为新的革命力量、革命文化、革命斗争登上历史舞台创造了条件, 是中国旧民主主义革命走向新民主主义革命的转折点, 在近代以来中华民族追求民族独立和发展进步的历史进程中具有里程碑意义。

——部编版教材《中国历史》(八年级上册)

材料二

事件	主要过程
拉丁美洲独立运动	18 世纪末 19 世纪初, 在美国独立战争和法国大革命的影响下, 拉丁美洲掀起了一场反抗殖民统治、争取民族独立的运动。起义烽火燃遍了北起墨西哥、南到阿根廷的广大地区。玻利瓦尔解放了哥伦比亚、委内瑞拉和厄瓜多尔等地, 成立了“大哥伦比亚共和国”。
印度民族大起义	1857 年, 印度土兵首先起来反抗英国殖民者, 农民、手工业者以及一些被剥夺了权力的印度王公也参加起义, 起义浪潮席卷了印度北部和中部。起义军夺取了德里。英军虽然武器先进, 但还是用了几个月的时间才攻陷德里。英军乘势进攻章西, 年轻的章西女王领导军民与英军展开激战。章西失陷后, 她率军转战外地。战斗中, 她身先士卒, 直到壮烈牺牲。

——部编版教材《中国历史》(九年级下册)

材料三 世界反法西斯战争促使了亚非拉人民的觉醒。战后, 以反抗殖民统治、争取民族独立为主要目标的民族意识得到了极大的增强, 这种意识转化为争取民族独立的行动, 掀起了民族独立运动的高潮。20 世纪 60 年代末, 新独立的国家已有 69 个, 此后增加到 120 多个。大批民族国家的独立, 造成了帝国主义全球殖民体系的彻底崩溃, 它们在国际舞台上日益发挥着重要的作用。

——摘编自王斯德《世界通史》

(1) 根据材料一, 指出五四运动的性质以及其在中国新民主主义革命进程中的地位。(4 分)

(2) 根据材料二, 指出两场运动的共同点。(2 分)

(3) 根据材料三, 归纳二战后亚非拉民族独立运动高涨的原因, 并指出其国际影响。(4 分)

(4) 根据上述材料并结合所学知识, 谈谈你对近代以来民族独立的认识。(2 分)