

2021 年河池市初中学业水平模拟考试卷 (三)

历史试题卷

(考试时间: 60 分钟 满分: 60 分)

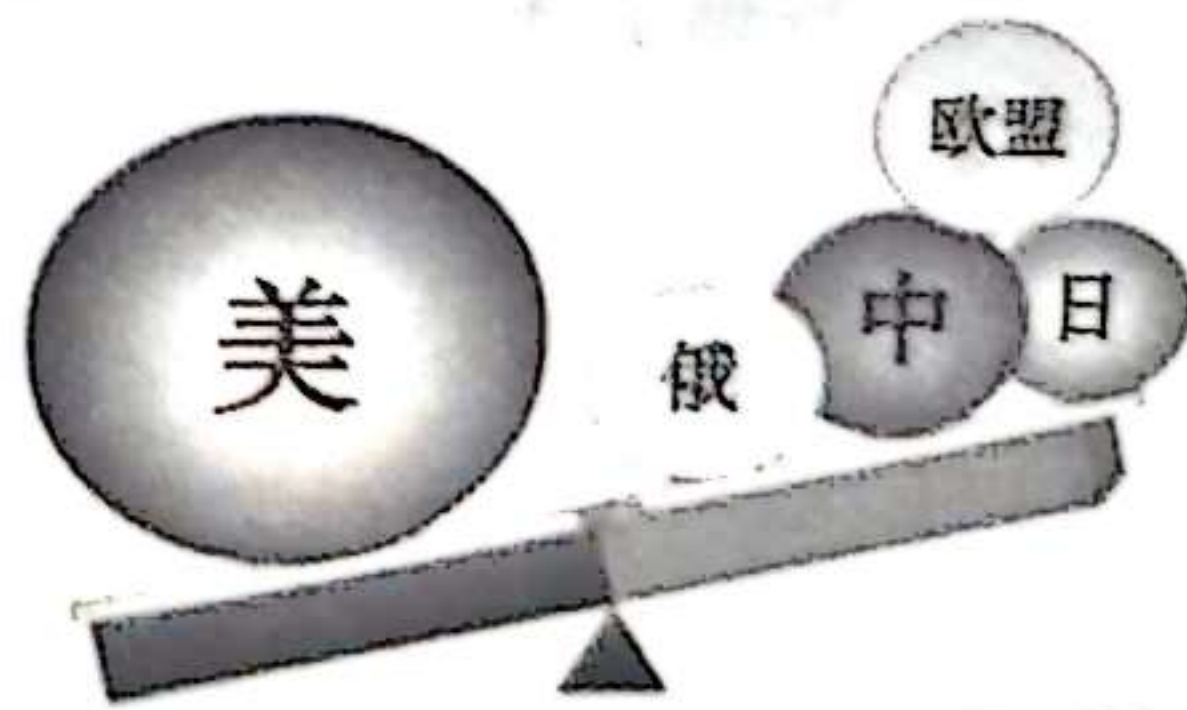
- 注意: 1. 本试题卷分第 I 卷和第 II 卷, 满分为 60 分, 考试时间 60 分钟。
2. 考生必须在答题卡上作答, 在本试题卷上作答无效。考试结束, 将本试题卷和答题卡一并交回。

第 I 卷 选择题 (共 30 分)

一、单项选择题 (共 15 小题, 每小题 2 分, 共 30 分。各小题的备选项中, 只有一个最符合题意)

1. 清政府割辽东半岛、台湾全岛及所有附属岛屿给日本……这是 () 条约的其中一项条款。
A. 《南京条约》 B. 《辛丑条约》 C. 《马关条约》 D. 《瑷珲条约》
2. 历史学习要学会区分历史史实和历史结论。下列各项中, 属于历史结论的是 ()
A. 英国以“亚罗号事件”为借口发动了第二次鸦片战争
B. 1858 年, 英法联军北上, 攻陷大沽炮台, 逼近天津
C. 八国联军侵华战争使中国完全沦为半殖民地半封建社会
D. 《北京条约》承认《天津条约》有效外, 又增开天津为商埠
3. “革命尚未成功, 同志仍须努力”。这两句话是 1923 年孙中山在中国国民党恳亲大会上的题词。“革命尚未成功”以下理解正确的是 ()
A. 没有完成反帝反封建的革命任务 B. 没有建立起中华民国
C. 没有促进资本主义发展 D. 辛亥革命的成果被袁世凯窃取了
4. 抗日民族统一战线正式形成的标志是 ()
A. 西安事变的和平解决
B. “九一八事变”
C. “七七事变”
D. 国民党发表中共中央提交的国共合作宣言
5. 中国共产党 100 年艰苦卓绝的奋斗历程中, 有两次具有重要意义的“伟大转折”, 最终领导中华民族实现了国家的独立与富强。两次“伟大转折”分别是指 ()
A. 中国共产党成立、抗战胜利 B. 抗战胜利、新中国诞生
C. 遵义会议、十一届三中全会 D. 新中国诞生、十一届三中全会
6. 我国经济体制改革的目标是建立社会主义市场经济体制。建立社会主义市场经济体制的决策是党在 () 会议上提出的?
A. 十二大 B. 十三大 C. 十四大 D. 十五大
7. 中国梦, 是中国共产党第十八次全国代表大会召开以来, 习近平总书记所提出的重要指导思想和重要执政理念, 正式提出于 2012 年 11 月 29 日。有关中国梦的表述正确的是 ()
A. 社会主义本质的基本内容 B. 中华民族伟大复兴的形象表达
C. 新民主主义阶段的总任务 D. 实现共产主义的中国表达

8. “四个全面”战略布局是新形势下中国共产党治国理政的总方略。“四个全面”是指()
- ①全面建成小康社会 ②全面实施“一带一路” ③全面推进依法治国
④全面从严治党 ⑤全面深化改革
- A. ②③④ B. ①②③ C. ①③④⑤ D. ①②④
9. 15 世纪后期, 西欧形成了一股寻金热。一位西班牙殖民者说: “我们西班牙人人都受着一种心病的折磨, 这种病只有黄金才能治愈。”这一“心病”直接推动了西欧()
- A. 新航路的开辟 B. 文艺复兴的兴起
C. 工业革命的爆发 D. 科学革命的开展
10. 正如恩格斯说的一样“拿破仑走到哪里, 哪里的福役劳动、代役租、对老爷的贡赋等一大堆陈腐废物, 连同老爷本身, 就像被魔杖点了一下似的立即消失”。据此可知, 拿破仑对外战争()
- A. 打击了欧洲封建势力 B. 扩大了法国的疆域
C. 促进了工商业发展 D. 稳定了法国的政局
11. 17、18 世纪, 资产阶级革命的时代来临。英、法、美等欧美国家都先后完成了资产阶级革命, 早期资产阶级革命的共同作用是()
- A. 都推翻了欧洲封建制度 B. 都引发了第一次工业革命
C. 标志着世界近代史的开端 D. 都促进了资本主义的发展
12. 两次工业革命分别使人类进入了“蒸汽时代”和“电气时代”, 都大大提高了生产力水平。区分它们主要是根据()
- A. 能源动力 B. 通信技术 C. 交通工具 D. 机械设备
13. 马克思主义, 英文是 Marxism, 是马克思主义理论体系的简称, 是关于全世界无产阶级和全人类彻底解放的学说。马克思主义诞生的标志是()
- A. 共产主义者同盟代表大会召开 B. 巴黎公社成立
C. 1848 年《共产党宣言》发表 D. 1848 年欧洲革命爆发
14. 1944 年 6 月 6 日凌晨, 美英盟军 100 多万人从英国出发, 强渡英吉利海峡, 在法国北部地区登陆, 开辟了欧洲第二战场, 使法西斯德国陷入盟军的两面夹击之中。这次战役是()
- A. 中途岛战役 B. 斯大林格勒战役
C. 诺曼底登陆战 D. 柏林战役
15. 如图所示, 反映了当今世界政治格局的特点是()
- A. 两极格局开始建立
B. 多极化格局完全形成
C. 世界朝着多极化方向发展
D. 美、欧、日形成三足鼎立



第 II 卷 非选择题 (共 30 分)


二、非选择题 (16 题 10 分, 17 题 10 分, 18 题 10 分, 共 30 分)

16. 2021 年是建党 100 周年, 经过 100 年的不断发展, 中国共产党从小到大、从弱到强、从幼稚到成熟, 走出了具有中国特色的光辉之路。100 载风雨坎坷, 中国共产党领导全国各族人民开辟了一个文明古国走向复兴、惠及人类的崭新道路, 彰显了一个政党坚不可摧的宗旨信念和始终不渝的责任使命。


阅读材料，回答问题。

材料一：它的成立，是中国历史上开天辟地的大事。自从有了它，中国革命的面貌就焕然一新了。


材料二：



图一遵义会议旧址



图二中国接受日本投降书



图三 1949年10月1日下午3时，中华人民共和国举行开国大典，毛泽东在北京天安门城楼上宣告中华人民共和国、中央人民政府成立了。

- (1) 材料一中的“它”成立的标志是什么？根据所学知识指出，当时“它”的中心任务是什么？（2分）
- (2) 材料二图中图一是中国工农红军在长征途中召开的遵义会议的会址，这次会议有什么历史意义？（2分）
- (3) 材料二图中图二反映的是中国接受日本投降书的场景，结合所学知识归纳抗日战争胜利的原因有哪些？（2分）
- (4) 中华人民共和国成立有什么历史意义？（2分）
- (5) 根据上述材料，谈谈你从中得到的感悟。（2分）

17. 阅读材料，回答问题。

材料一：1978年12月，中共十一届三中全会在北京召开。这次会议冲破了长期“左”倾错误的严重束缚，确定了解放思想、开动脑筋、实事求是、团结一致向前看的指导方针，重新确立马克思主义的思想路线、政治路线、组织路线……

材料二：从特区可以引进技术，获得知识，学到管理，管理也是知识。特区成为开放的基地，不仅在经济方面，培养人才方面使我们得到好处，而且会扩大我国的对外影响。听说深圳治安比过去好了，跑到香港去的人开始回来，原因之一是就业多，收入增加了，物质条件也好多了，可见精神文明说到底是从物质文明来的嘛！

——邓小平

材料三：



沿海地区对外开放示意图

- (1) 十一届三中全会作出了怎样的重大决策？（2分）十一届三中全会有何重要意义？（2分）
- (2) 根据材料二，概括我国建立经济特区有哪些好处？（2分）
- (3) 根据材料三“沿海地区对外开放示意图”，回答：我国形成了什么样的对外开放格局？（2分）
- (4) 建党 100 年来，中国共产党的指导思想有了什么新发展？（2分）

18. 阅读材料，回答问题。

材料一：政治上，废藩置县，加强中央集权；经济上，推行地税改革，以“殖兴产业”为口号，大力发展近代经济。

材料二：1920 年年底，苏维埃俄国三年国内战争逐渐平息。但是，工厂停工，农业产量急剧下降。面对严重的危机，政府必须调整政策。

——摘自人教版《世界历史》九年级下册

材料三：1929 年 10 月下旬，美国股票价格突然暴跌。一场规模空前的经济大危机迅速席卷了整个资本主义世界……大量企业破产，银行倒闭……穷人们常常食不果腹，衣不御寒……

——摘自人教版《世界历史》九年级下册

- (1) 材料一是日本历史上哪次改革的内容？（1分）这次改革对日本的发展有什么影响？（2分）
- (2) 面对严重的危机，1921 年苏俄实施了什么政策？（1分）这一政策对俄国有什么积极影响？（2分）
- (3) 面对材料二中的危机美国政府采取了什么政策？（1分）这一政策有什么积极影响？（2分）
- (4) 综合上述材料，你得到什么启示？（1分）