

二〇二一年初中学业水平模拟考试

历史 试题卷

(满分 100 分)

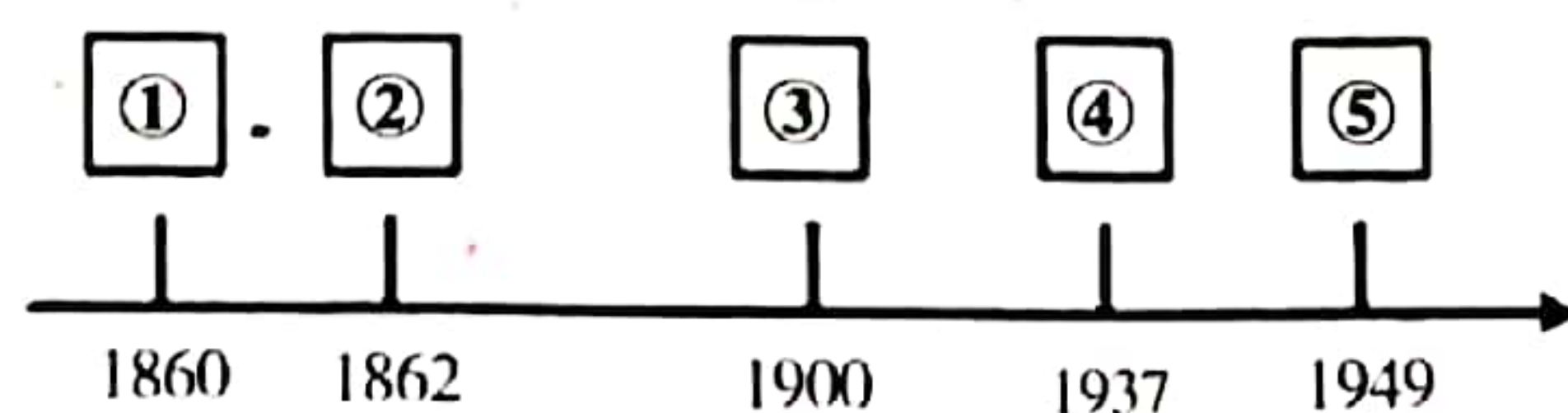
注意事项:

1. 本卷为**试题卷**。考生必须在**答题卡**上解题作答。答案应书写在**答题卡**的相应位置上,在**试题卷**、草稿纸上作答无效。
2. 考试结束后,请将**试题卷**和**答题卡**一并交回。

第 I 卷 (选择题,共 50 分)

一、**选择题**(本大题共 25 个小题,每小题 2 分,共 50 分。在每小题所列出的四个选项中,只有一项是最符合题目要求的)

1. “春种一粒粟,秋收万颗籽。”据考古发现,使用磨制石器、种植粟的是
A. 北京人 B. 山顶洞人 C. 河姆渡人 D. 半坡居民
2. 习近平主席在出访中亚和东南亚国家期间,先后提出建设“丝绸之路经济带”和“21 世纪海上丝绸之路”(简称“一带一路”)的重大倡议,得到国际社会的高度关注。中国古代陆上“丝绸之路”的出现与下列哪一事件有关
A. 张骞通西域 B. 鉴真东渡 C. 玄奘西游 D. 郑和下西洋
3. “东汉末年分三国”。奠定三国鼎立局面的战役是
A. 淝水之战 B. 巨鹿之战 C. 官渡之战 D. 赤壁之战
4. 在中国古代,出现过许多次盛世局面。下列盛世的出现使唐朝进入鼎盛时期的是
A. “光武中兴” B. “开元盛世” C. “贞观之治” D. “文景之治”
5. 从唐朝中期开始的经济重心南移,最后完成的时间是
A. 唐朝后期 B. 北宋 C. 南宋 D. 元朝
6. 我国延续了一千多年的丞相制度废除于
A. 秦朝 B. 汉朝 C. 唐朝 D. 明朝
7. 清朝时期,民间流传着一则谚语:“和珅跌倒,嘉庆吃饱。”这则谚语所反映的社会现象是
A. 朝廷统治稳固 B. 官吏两袖清风,为百姓谋取福利
C. 人民丰衣足食 D. 吏治败坏,官吏贪污受贿成风
8. 北京作为中国的政治文化中心,见证了中国近代历史的风云变化。下面年代尺中,对发生在北京地区的重大事件描述准确的是



①第二次鸦片战争期间,英法联军火烧圆明园摧残文明 ②地主阶级创办京师大学堂,成为中国近代教育的开端 ③八国联军占领北京,义和团在中外反动势力下被 压 ④卢沟桥“七七事变”,标志抗日民族统一战线正式建立 ⑤北平和平解放,平津战役胜利,使华北全境基本解放

A. ①②③

B. ①③④

C. ①③⑤

D. ②③⑤

9. 在抗击新冠肺炎疫情期间,钟南山院士称赞武汉“本来就是一座英雄的城市”。作为“英雄的城市”,武汉曾爆发了

A. 萍浏醴起义

B. 安庆起义

C. 黄花岗起义

D. 武昌起义

10. 中国共产党在中国历史上第一次提出彻底的反帝反封建的民主革命纲领是在

A. 中共一大

B. 中共二大

C. 遵义会议

D. 中共七大

11. 了解因果关系,是历史学习的基本要求之一。以下因果关系表述错误的是

A. 洋务运动——为中国的近代化开辟了道路

B. 辛亥革命——结束了我国两千多年的封建制度

C. 西安事变和平解决——抗日民族统一战线初步形成

D. 刘邓大军挺进大别山——人民解放军转入战略进攻

12. “钟山风雨起苍黄,百万雄师过大江。虎踞龙盘今胜昔,天翻地覆慨而慷”。毛泽东诗句所反映的历史事件是

A. 淮海战役取得胜利

B. 日本无条件投降

C. 中华民国临时政府成立

D. 人民解放军占领南京

13. 提出“实业救国”的口号,并身体力行,创办大生纱厂的是

A. 李鸿章

B. 张謇

C. 杨靖宇

D. 左宗棠

14. 西藏自古以来就是中国领土不可分割的一部分,2021年是西藏和平解放多少年

A. 60

B. 65

C. 70

D. 75

15. 习近平主席说:“一个有希望的民族不能没有英雄,一个有前途的国家不能没有先锋。”2018年4月27日,全国人民代表大会常务委员会通过《中华人民共和国英雄烈士保护法》。下列人物哪些是抗美援朝时期的英雄

①黄继光 ②董存瑞 ③邱少云 ④张自忠

A. ①③

B. ②③

C. ①②

D. ②④

16. “四个全面”战略布局,是新形势下中国共产党治国理政的总方略,是实现“两个一百年”奋斗目标、走向中华民族伟大复兴中国梦的“路线图”。其中,为着力推进党的建设而采取的战略举措是

A. 全面深化改革

B. 全面从严治党

C. 全面建成小康社会

D. 全面推进依法治国

17. 被世界上越来越多的国家接受,成为处理国与国之间关系的基本准则的是周恩来在1953年底提出的

A. 和平共处五项原则

B. 民族区域自治制度

C. “求同存异”方针

D. “一国两制”的构想

18. 下列史实按顺序排列正确的是

①“东方红1号”升天 ②社会主义制度确立 ③重返联合国 ④粉碎“四人帮” ⑤加入世界贸易组织

A. ①②③④⑤ B. ①②④③⑤ C. ②①④⑤③ D. ②①③④⑤

19. 一部印度电影里有这样的一句台词:法官的儿子永远是法官,小偷的儿子永远是小偷。这种阶级歧视是源自于

A. 禅让制度 B. 种姓制度 C. 封君封臣制度 D. 科举制度

20. 被誉为欧洲中世纪教育“最美好的花朵”是

A. 行会 B. 教会 C. 庄园 D. 大学

21. “南美解放者杯”是世界足球的重大赛事,而“南美解放者杯”的创立是为了纪念

A. 华盛顿 B. 章西女王 C. 克伦威尔 D. 玻利瓦尔

22. 二战后期,苏、美、英三国首脑在苏联召开了一次重要的会议,讨论了组建联合国、对德国进行分区占领等问题,这次会议对二战后世界的基本格局产生了重大影响。这次会议是

A. 开罗会议 B. 慕尼黑会议 C. 雅尔塔会议 D. 波茨坦会议

23. 医疗、养老、教育等社会保障制度是当今世界各国普遍关注的重大问题。下列国家中最早颁布《社会保障法》的是

A. 联邦德国 B. 英国 C. 法国 D. 美国

24. 新冠肺炎疫情发生后,线上娱乐变得异常活跃,手游与短视频成为打发时间的重要方式;人们外出采购减少,线上生鲜订单激增;线上教育与办公平台由于疫情影响获得了更多机构与企业入驻。这些变化说明

A. 互联网取代了传统的交往方式 B. 信息技术深刻影响了社会生活
C. 知识经济提高了社会生产效率 D. 科技发展推动企业经营创新

25. “全球化”已经成为当前世界上最热门的话题之一。经济全球化为各个国家提供了更多的发展机会,同时,也加剧了全球范围内文明和价值观的冲突。面对这种情况我们不应该

A. 趋利避害,因势利导 B. 发挥自身优势,参与国际分工,开拓国际市场
C. 努力构建公正、合理的国际经济新秩序 D. 反对全球化,不与发达国家交往

第Ⅱ卷 (非选择题,共50分)

二、非选择题(本大题共4个小题,第26题12分,第27题12分,第28题12分,第29题14分,共50分)

26. 中华民族的文明是一个非常早熟的文明,它是世界上唯一未曾中断的文明。阅读材料,回答下列问题。(12分)

材料一:中国建立的层层分封的“封建制度”,但时间上比欧洲早了一两千年,而且在形式上也比欧洲更整饬有序……乃至秦朝,中国又率先在人类史上建立了最大的郡县制君主专制国家,建立了当时国家对人民最严格、最精密的控制。

——张宏杰《简读中国史》

材料二:中国是创造“现代国家”的第一个世界文明……但是半封闭的地理环境以及周边民族

文化上的普遍落后使中国早期文明遇到的挑战很小,从而使它丧失了探索农业文明以外其他文明形式的动力。

—— 汤恩比《历史研究》

材料三:中国通过改革开放,经济迅速发展,国家综合实力显著增强。2010年,中国的经济规模已经位居世界第二,仅次于美国。中国的和平崛起对世界格局产生了重大影响。

—— 摘自部编版《世界历史·九年级下册》

请回答:

- (1)材料一中所言的“层层分封的‘封建制度’”指的是什么? 秦朝确立专制主义中央集权制度是采纳了诸子百家中的哪家思想?(4分)
- (2)根据材料二,清朝实行的哪一政策可以证明“它丧失了探索农业文明以外其他文明形式的动力”? 根据所学,请你列举一项古代欧洲文明的成就(政治、经济、军事均可,任意写一例)(4分)
- (3)根据所学,新中国成立后奉行何种外交方针? 经济规模位居世界第一的美国,在建国之前曾是殖民地,通过哪场战争摆脱了英国的殖民?(4分)

27. 安全是保障人民生命财产、维护国家稳定发展、促进世界和谐进步的前提和基础。阅读下列材料,回答问题。(12分)

【国防安全】

材料一:嘉靖三十七年(1588年),戚继光发现浙江金华府义乌县的矿徒“剽悍可用”,于是招募了3000人组成“戚家军”。经过严格训练,操练新阵法,“戚家军”成为一支勇猛善战的劲旅。


—— 摘编自朱绍侯等《中国古代史(下)》

- (1)根据材料一,结合所学知识指出戚继光被称为我国的民族英雄他最突出的功绩是什么?(2分)

【生命安全】

材料二:第一次世界大战以极其残酷的杀戮为主要特点。大约900万人战死,2000多万人受伤,350万人终生残疾。德、俄、法、奥的伤亡人数占全部伤亡人数的66.6%。

——《中外历史纲要(下)》



一战墓地

- (2)根据材料二,结合所学知识回答第一次世界大战爆发的导火线是什么?(2分)指出第一次世界大战中因残害众多生命被形容为“地狱”的战役。(2分)

【粮食安全】

材料三：如右图



(3)图中人物为我国的粮食安全作出了巨大贡献,他是谁?(2分)

【信息安全】

材料四：社会信息化带给人们便利的生活,也带来种种弊端。它使保护个人隐私变得越来越困难,甚至影响着个人生命、财产安全;它让网络成为良莠不齐的各种意见的汇集地,甚至成为个别别有用心国家、集团或个人利用的工具。

——《中外历史纲要(下)》

(4)材料四是什么革命带来的影响?(2分)

(5)综合上述材料,请你任选一个角度,谈谈如何保障安全促进社会和谐。(2分)

28. 阅读下列材料,结合所学知识回答相关问题。(12分)

材料 有学者对共产党的发展历程作了如下解说。

- ①1921年,中国共产党成立,是中国历史上开天辟地的大事
- ②国民党一大的召开标志着国共合作正式形成
- ③中国共产党开辟了农村包围城市,武装夺取政权的革命道路
- ④中国共产党高瞻远瞩,从民族利益出发,和平解决西安事变
- ⑤中国抗战历程表明,中国共产党领导的人民抗日力量,是取得抗战胜利的决定性力量
- ⑥1949年中华人民共和国成立
- ⑦1956年一五计划和社会主义改造完成
- ⑧1978年实现改革开放
- ⑨1982年邓小平第一次提出建设有中国特色社会主义命题
- ⑩1997年香港回归;1999年澳门回归

(1)以上解说中,哪些属于中国共产党领导的新民主主义革命时期的探索? 哪些属于社会主义新时期的探索?(4分)

(2)请你选择材料中的一项或者多项信息,根据材料并结合所学知识,对中国共产党的发展历程进行解说。(要求:观点明确,体现材料主 ;史论结合,解说条理清楚。8分)

29. 一个民族要崛起,要有三个方面的改变:第一是人心的改变;第二是政治制度的改变;第三是器物 and 经济的改变。阅读材料,回答问题。(14分)

【思想与文化】

材料一:“人是一件多么了不起的杰作! 多么高贵的理性! 多么伟大的力量! 多么文雅的举动! 在行动上多么像一个天使! 在智慧上多么像一个天神! 人是宇宙的精华! 万物的灵长!”

—— 莎士比亚《哈姆雷特》

【民主与法制】

材料二:



图1: 纪念币




图2: 1787年华盛顿在制宪会议上




图3: 法国1789年《人权宣言》

【经济与科技】

材料三: 然而今天, 金属和塑料补充了石块和木头, 铁路、汽车和飞机取代了牛、马和驴, 蒸汽机、内燃机和原子动力(原子能)代替风和人力来推动船……电使蜡烛黯然失色, 并已成为只要按一下开关, 便可做大量功的动力之源。

—— 斯塔夫里阿诺斯《全球通史》

- (1)材料一反映了世界近代史上哪一次思想文化运动? 这一运动的核心思想是什么?(4分)
- (2)图一是英国为纪念《权利法案》颁布300周年发行的纪念币。这部文献颁布后英国逐渐形成了哪一政治体制? 图二所示会议颁布了哪一部重要的法律文献? 图三所示文献反映了哪些进步的思想主张?(4分)
- (3)依据材料三并结合所学知识, 简析改良蒸汽机的发明有什么历史意义? 从材料中指出一项属于第二次工业革命的发明成果?“电使蜡烛黯然失色”, 电力的广泛应用使人类社会进入哪一个时代?(4分)
- (4)实现中华民族伟大复兴的中国梦, 是民族的梦, 也是每个中国人的梦。综合上述材料, 对实现中华民族伟大复兴中国梦有哪些启示?(2分)