

2020-2021 学年度下期期末学业水平测试

一年级数学


题号	一	二	三	四	五	六	七	总分
得分								

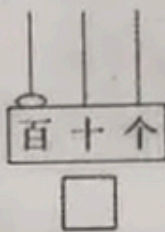
一、我会填一填。(每空1分,共34分)


1. 十位上是6,个位上是3的数是(),这个数读作()。

2. 从 $\begin{array}{r} 30-8=22 \\ 20 \quad 10 \\ \quad \quad 2 \end{array}$ 可以看出,在计算 $30-8$ 时,先算(),再算()。

3. 看图填一填。(4分)

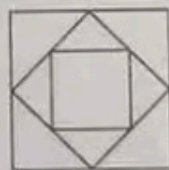






$$\square < \square < \square$$

4. 右图有()个□,有()个△。



5. 括号里填上“>”“<”或“=”。

9元()8元8角 100分()1元 5元2角()52分

6. 找规律,填数。

(1) 24, 34, 44, (), (), 74, 84, ()。

(2) (), 40, 36, 32, 28, (), (), (), 12。

(3) 30, 35, 40, (), (), 55, 60, (), 70, 75, ()。

7. ()比49少3, ()比35多2, 100比()多30。

8. 填上相同的数。(2分)

$$71 - () = 63 + () \quad 48 + () = 60 - ()$$

9. 最大的两位数是(),与它相邻的两个数是()和()。

10. 文文看一本书, 前3天看了49页, 第4天应从第()页开始看。

11. 一个数在70和80之间, 个位上的数比十位上的数多2, 这个数是()。

二、小法官, 巧判断。(对的打“√”, 错的打“×”, 每小题1分, 共5分)

1. 72比18多得多, 比80少一些。 ()

2. 29的十位上是9。 ()

3. 2张5元是8元。 ()

4. 36后面第3个数是39。 ()

5. “99”中的两个“9”表示的意义不一样。 ()

三、我会选一选。(将正确答案的序号填在括号里, 每小题2分, 共12分)


1. 一个计算器的价格大约是()。

A. 1角8分

B. 1元8角

C. 18元

2. 小松鼠可能采了()个松果。



大松鼠

我采了69个松果。

我采的比你多一些。



小松鼠

A. 50

B. 75

C. 98



3. 一块蛋糕4元8角, 一根火腿肠5元1角, 蛋糕比火腿肠()。

A. 贵



B. 便宜

C. 一样

4. 下列动物中, 与其他几个不是同一类的是()。



5. 下面是鸭子和公鸡起床的时间, ()起的晚。



6. 用9、0、5、2四个数中的两个数组成的两位数中, 最大的是()。

A. 90

B. 59

C. 95

四、我是计算小能手。(共 17 分)

1. 口算。(6 分)

$70 - 30 =$

$13 - 6 =$

$35 - 20 =$

$18 + 40 =$

$71 - 9 =$

$48 + 7 =$

$100 - 40 =$

$73 - 2 =$

$49 - 8 =$

$16 + 50 =$

$18 - 9 =$


$8 + 9 =$

2. 填表。(5 分)

被减数	56	57	35		100
减数	30		7	20	
差		9		44	9

五、数一数，完成下列各题。(11 分)

1.



(1) 统计并涂色。(7 分)

故事会									
画册									
数学本									
写字本									
图画本									

(2) 一共有 () 本。


(3) 数学本与写字本一共有 () 本。

2. 数一数，填一填。(4 分)

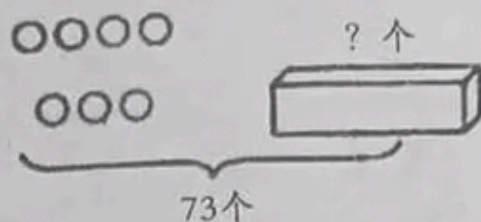
\triangle	\bigcirc
() 个	() 个



六、看图列式计算。(6分)



$$\square \bigcirc \square = \square \text{ (条)}$$



$$\square \bigcirc \square = \square \text{ (个)}$$

七、解决问题。(共15分)

1. 淘气去书店买了一本《少儿百科》，付给售货员阿姨50元，找回13元，一本《少儿百科》多少元？(4分)

2. 小刚有90元，先买泡泡机用去10元，又买了一个20元的风筝，小刚还剩多少元？(5分)



10元



20元

3. 踢球比赛。(6分)

我踢了66个。



明明

我踢了50个。



小华

我再踢10个就和明明一样多了。



小刚

(1) 小刚踢了多少个？

(2) 明明比小华多踢了多少个？