

七年级数学期中试题答题卡



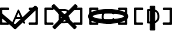
姓名
班级

考
试
号

0	0	0	0	0	0	0	0	0	0	0
1	1	1	1	1	1	1	1	1	1	1
2	2	2	2	2	2	2	2	2	2	2
3	3	3	3	3	3	3	3	3	3	3
4	4	4	4	4	4	4	4	4	4	4
5	5	5	5	5	5	5	5	5	5	5
6	6	6	6	6	6	6	6	6	6	6
7	7	7	7	7	7	7	7	7	7	7
8	8	8	8	8	8	8	8	8	8	8
9	9	9	9	9	9	9	9	9	9	9

注意
事项

1、选择题部分必须使用 2B 铅笔填涂；非选择题部分必须使用 0.5 毫米的黑色签字笔书写，字体工整、笔迹清楚。
2、请按照题号顺序在各题目的答题区域内作答，超出答题区域书写的答案无效；在草稿纸、试题卷上答题无效。
3、保持卡面清洁，不要折叠、不要弄破，禁用涂改液，涂改胶条。

填涂样例	正确填涂 	缺考标记 
	错误填涂: 	

一、选择题（请用 2B 铅笔填涂）

1	<input type="checkbox"/> A	<input type="checkbox"/> B	<input type="checkbox"/> C	<input type="checkbox"/> D
2	<input type="checkbox"/> A	<input type="checkbox"/> B	<input type="checkbox"/> C	<input type="checkbox"/> D
3	<input type="checkbox"/> A	<input type="checkbox"/> B	<input type="checkbox"/> C	<input type="checkbox"/> D
4	<input type="checkbox"/> A	<input type="checkbox"/> B	<input type="checkbox"/> C	<input type="checkbox"/> D
5	<input type="checkbox"/> A	<input type="checkbox"/> B	<input type="checkbox"/> C	<input type="checkbox"/> D
6	<input type="checkbox"/> A	<input type="checkbox"/> B	<input type="checkbox"/> C	<input type="checkbox"/> D
7	<input type="checkbox"/> A	<input type="checkbox"/> B	<input type="checkbox"/> C	<input type="checkbox"/> D
8	<input type="checkbox"/> A	<input type="checkbox"/> B	<input type="checkbox"/> C	<input type="checkbox"/> D

请在各题目的答题区域内作答，超出黑色矩形边框限定区域的答案无效

二、填空题（每小题 3 分，共 30 分）

9. _____	10. _____	11. _____
12. _____	13. _____	14. _____
15. _____	16. _____	17. _____
18. _____		

请在各题目的答题区域内作答，超出黑色矩形边框限定区域的答案无效

请在各题目的答题区域内作答，超出黑色矩形边框限定区域的答案无效

三、解答题（共 96 分）

19. 计算：（本题满分 8 分）

(1) $-2^2 + (p - 3.14)^0 - (-\frac{1}{3})^{-1}$ ； (2) $2021^2 - 2020 \times 2022$

20. （本题满分 8 分）因式分解：

(1) $x^2 - 4$ ； (2) $6ab^2 - 9a^2b - b^3$.

21. （本题满分 8 分）先化简，再求值：

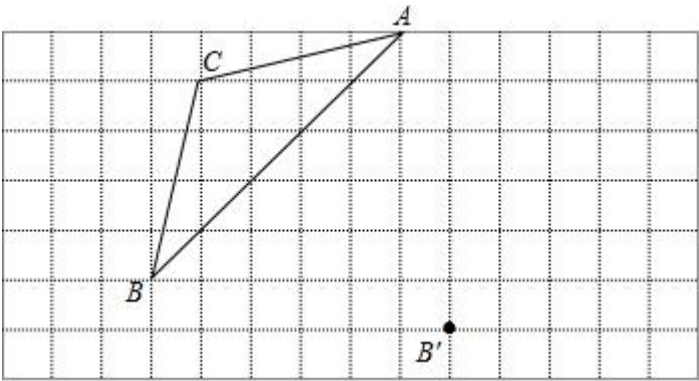
$x(x - 4y) + (2x + y)(2x - y) - (2x - y)^2$ ，其中 $x = -2$ ， $y = -1$.

请在各题目的答题区域内作答，超出黑色矩形边框限定区域的答案无效

请在各题目的答题区域内作答，超出黑色矩形边框限定区域的答案无效

22. （本题满分 8 分）

- (1) 画出 $\triangle A'B'C'$ ；
(2) 连接 AA' 、 CC' ，那么 AA' 与 CC' 的关系是 _____；
(3) $\triangle ABC$ 的面积是 _____.



23. （本题满分 10 分）

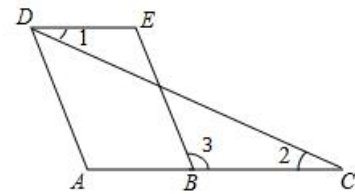
(1)

(2)

请在各题目的答题区域内作答，超出黑色矩形边框限定区域的答案无效

请在各题目的答题区域内作答，超出黑色矩形边框限定区域的答案无效

24. (本题满分 10 分)



25. (本题满分 10 分)

(1) $a = \underline{\hspace{2cm}}$, $b = \underline{\hspace{2cm}}$.

(2)

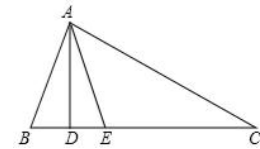
(3)

请在各题目的答题区域内作答，超出黑色矩形边框限定区域的答案无效

请在各题目的答题区域内作答，超出黑色矩形边框限定区域的答案无效

26. (本题满分 10 分)

(1)



(2)

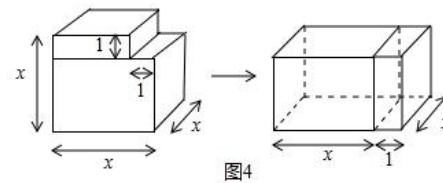
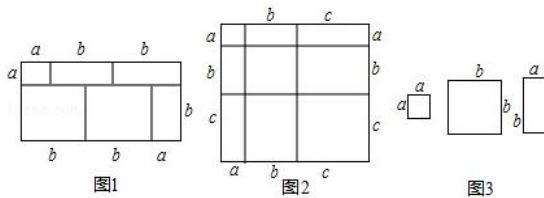
27. (本题满分 12 分)

(1) $\underline{\hspace{2cm}}$;

(2)

(3) $x + y + z = \underline{\hspace{2cm}}$;

(4) $\underline{\hspace{2cm}}$.

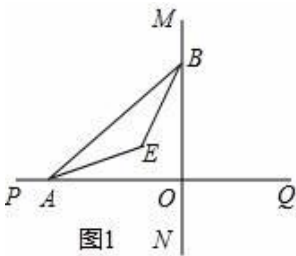


请在各题目的答题区域内作答，超出黑色矩形边框限定区域的答案无效

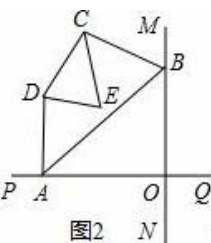
请在各题目的答题区域内作答，超出黑色矩形边框限定区域的答案无效

28. (本题 12 分)

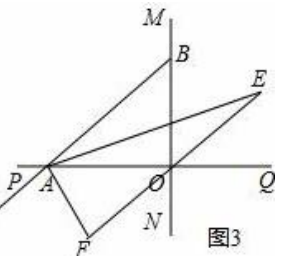
(1)



(2)



(3)



请在各题目的答题区域内作答，超出黑色矩形边框限定区域的答案无效