

# 历史与社会·道德与法治

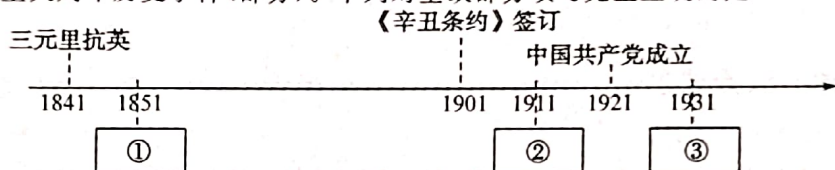
## 卷 I

说明:本卷有 20 小题,每小题 1.5 分,共 30 分。

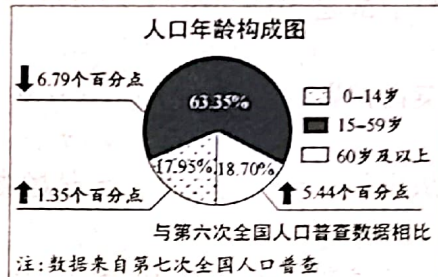
1. 中共中央政治局常务委员会于 2020 年 12 月 3 日召开会议,习近平总书记主持会议并发表重要讲话指出,经过 8 年持续奋斗,我们如期完成了新时代 ▲ 目标任务。  
A. 污染防治 B. 脱贫攻坚 C. 疫情阻击 D. 乡村振兴
2. 据新华社 2021 年 3 月 20 日电,考古工作者在 ▲ 遗址新发现 6 座“祭祀坑”,目前已出土金面具残片等重要文物 500 余件。  
A. 井头山 B. 双槐树 C. 三星堆 D. 郭元咀
3. 建党百年来,中国共产党经历了许多重要历史事件,其中就有“西安事变”和“皖南事变”。按照我国现行的行政区划,发生这两个事件的省级行政区分别是  
A. 陕西 安徽 B. 山西 福建 C. 山西 安徽 D. 陕西 福建
4. 根据不同的自然条件,人们创造了各具特色的区域生活。下列选项中组合正确的是

选项	国家或城市	区域特色
A	以色列	“羊比人多”的国家
B	澳大利亚	世界著名的石油宝库
C	威尼斯	世界著名的汽车城
D	开普敦	有非洲的“小欧洲”之称

5. 作为中世纪欧洲封建制度的维护者——骑士阶层,纵横欧洲近 1000 年,它的兴衰与中国传入的两项发明直接相关。这两项发明分别是  
A. 马镫 火药 B. 指南针 火药 C. 印刷术 指南针 D. 马镫 印刷术
6. 有历史学者提出,历史是人自己的历史,人性和人的心理是历史发展的原因所在,必须排除上帝决定人类历史的观点。这种观点最早可能出于  
A. 古代希腊时期 B. 文艺复兴时期 C. 启蒙运动时期 D. 工业革命时期
7. 下图是我国近代重大周年历史事件(部分)。下列对空缺部分填写完全正确的是



- A. ①鸦片战争爆发 ②甲午战争爆发 ③一二·九运动
  - B. ①金田起义 ②武昌起义 ③九一八事变
  - C. ①洋务运动开始 ②中华民国成立 ③卢沟桥事变
  - D. ①《天津条约》签订 ②黄花岗起义 ③一·二八事变
8. 1941 年 10 月,日本新任首相东条英机组织了一个“充满火药味的内阁”,并决定,通过外交或武力手段,在这年年底之前跟美国算帐。为此,日本  
A. 发动了不列颠之战 B. 实施了诺曼底登陆  
C. 发动了中途岛海战 D. 制造了珍珠港事件
  9. 右图是我国人口年龄构成图。下列对该图解读正确的有



第 9 题图

新中国成立后,大批身在海外的科学家,毅然放弃国外优越的工作环境和生活条件,与国内科学家一起投身新中国的建设,在极其艰苦的条件下,取得了一系列的科技成就。据此回答 10~11 题。

10. 成就彪炳史册。下列科技成就中,按取得的先后顺序排列正确的是  
①第一颗原子弹爆炸成功 ②东方红一号发射成功  
③籼形杂交水稻培育成功 ④第一颗氢弹爆炸成功  
A. ①②③④ B. ②①④③  
C. ①④②③ D. ④①③②
11. 品质润泽人心。我们能从这些科学家身上汲取的精神养分有  
①坚韧不拔、自强不息的生命态度 ②国家利益至上的坚定信念  
③扶危济困、扬善抑恶的处事准则 ④不计代价与回报的奉献精神  
A. ①②③ B. ①②④  
C. ①③④ D. ②③④



12. 漫画中的青少年无疑是值得我们点赞的。因为他做到了

- ① 珍爱生命, 拒绝不良诱惑
- ② 保护自己, 不与他人交往
- ③ 行己有耻, 守住行为底线
- ④ 遇到侵害, 学会依法求助

- A. ①②
- B. ①③
- C. ②④
- D. ③④



第 12 题图

13. 2021 年 3 月 5 日, 十三届全国人大四次会议在京开幕, 近 3000 名全国人大代表出席大会, 其中少数民族代表有 438 位, 全国 55 个少数民族都有本民族的代表。这一现象充分表明

- A. 我国坚持民族平等原则
- B. 公民都享有选举权与被选举权
- C. 我国坚持民主集中制原则
- D. 人民可直接参与管理国家事务

14. 2021 年 1 月 15 日, 教育部印发《关于加强中小学生手机管理工作的通知》, 部分内容见右图。该手机禁令的顺利实施, 需要我们

- ① 恪守诚信准则, 主动上交手机
- ② 接受外在约束, 全凭父母监督
- ③ 摆脱网络依赖, 学会“信息节食”
- ④ 珍惜受教育权利, 履行受教育义务

- A. ①②③
- B. ①②④
- C. ①③④
- D. ②③④

原则上不得将个人手机带入校园。学生确有将手机带入校园需求的, 须经家长同意、书面提出申请, 进校后应将手机由学校统一保管, 禁止带入课堂。

第 14 题图

15. 面对新冠肺炎疫情, 中国在全球范围内率先控制住疫情, 在保护人民群众生命安全的同时, 出台了一系列宏观政策, 将中小微企业作为扶持重点。这说明

- ① 国家尊重和保障人权
- ② 我国寻求新的经济增长点
- ③ 政府进行科学宏观调控
- ④ 非公有制经济占主体地位

- A. ①③
- B. ①④
- C. ②③
- D. ②④

16. 我国社会主义民主是一种新型的民主, 是从中国社会土壤中生长出来的。下列对我国社会主义民主的认识正确的有

- ① 我国民主道路的选择取决于宪法规定
- ② 人民当家作主是社会主义民主政治的本质特征
- ③ 协商民主是我国社会主义民主政治的特有形式
- ④ 社会主义民主的目的在于保障最广大人民的利益

- A. ①②③
- B. ①②④
- C. ①③④
- D. ②③④

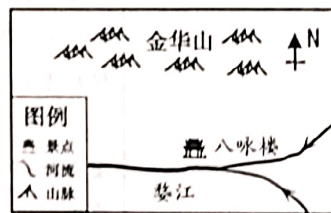
17. 国家主席习近平在第三届中国国际进口博览会开幕式上指出, 让中国市场成为世界的市场、共享的市场、大家的市场, 为国际社会注入更多正能量。这表明中国

- A. 参与国际事务, 主导全球规则制定
- B. 贡献中国智慧, 建设全球治理体系
- C. 提供中国方案, 倡导国际关系民主化
- D. 坚持合作共赢, 构建人类命运共同体

游秀美婺州, 品八婺文化。回答 18~20 题。

18. 【古楼咏风流】金华八咏楼瑰丽典雅, 一代才女李清照曾客居于此。遥想当年春分日, 李清照面朝婺江, 登楼远眺, 初升的太阳大致在她的

- A. 左边
- B. 右边
- C. 前面
- D. 后面



第 18 题图

19. 【古桥历风雨】位于义乌市雅治街村的古月桥, 建造于宋嘉定六年(1213 年), 历经 800 余年的风雨剥蚀, 仍保存十分完整, 从未修缮。对此推断最合理的是

- A. 建造时经济重心开始向南方转移
- B. 嘉定年间义乌市隶属于江浙行省
- C. 历经了南宋的衰亡和元朝的统一
- D. 能为研究明清建筑提供实物资料

20. 【古剧展风貌】婺剧《真理的味道》以新视角、新手法和新的舞美设计, 把乡情、乡趣、风土人物巧妙地串联, 展现出婺剧的新风貌, 吸引了大批年轻观众走进剧院。据此判断, 古老的剧种焕发生机直接得益于

- A. 对优秀传统文化的创新性发展
- B. 坚持改革开放的政策
- C. 对文明、和谐的价值目标的追求
- D. 多样文化的可选择性



## 卷 II

说明:本卷有 5 小题,共 50 分。

21. (10 分)穿越高原雪山,谋划区域发展。阅读材料,回答问题。

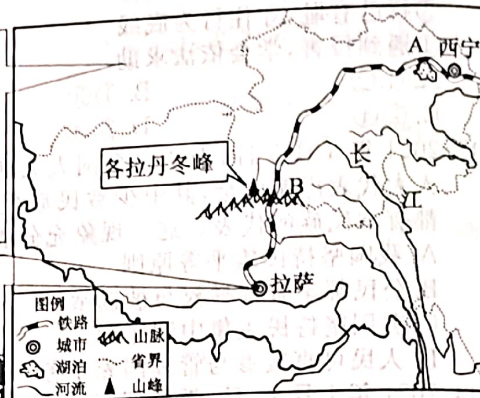
(1)写出青藏铁路沿线经过的我国最大的湖泊 A 和山脉 B 的名称。(2 分)

(2)请分别指出制约我国青藏地区和西北地区农业生产发展的自然因素。这两个地区在发展农业生产的有利自然条件方面有何相同点。(4 分)

(3)指出青藏地区主要的特色旅游资源。概括青藏地区发展特色旅游业对该地区文化建设产生的积极影响。(4 分)

资料卡

我国西北地区深处内陆。这里既有高原和盆地,也有草原和荒漠。独特的自然风光与人文风貌令人神往。



22. (10 分)回望农耕文明,厚植“三农”情怀。阅读材料,回答问题。

材料一:

春秋战国	汉代	魏晋南北朝	唐代	宋代
中国进入铁器时代,开始出现铁农具,并已使用①。	铁农具数量大大增加,出现了曲柄锄、大镰、耒耨等新式农具。	南方相对北方较为稳定,经济得到迅速发展,太湖、鄱阳湖和洞庭湖流域,是当时的重要粮仓。	改进耕作技术,出现了②和筒车,粮食总产量持续增加。	江南地区处于长期相对和平的环境,农业发展很快,③跃居粮食产量的首位。

材料二:中国古代封建政府确实减轻农民纳税应役负担的第一个黄金时期,是西汉初年的“文景之治”时期……第二个黄金时期是唐太宗统治的贞观年间(公元 627—649 年)。

——摘编自陈明光《中国古代的纳税与应役》

(1)请将材料一表格中的①②③处填写完整。(3 分)

(2)结合所学知识,列举能印证材料二说法的相关史实。(4 分)

(3)根据上述材料,概括促进中国古代农业发展的因素。(3 分)

23. (10 分)走进法治天地,感受法律关爱。阅读材料,回答问题。

【法治短讯】2020 年,十三届全国人大及其常委会先后制定或修改了 21 部法律、法规,内容涉及退役军人保障、未成年人保护等社会生活各个领域。2021 年全国人大常委会还将审议 45 件法律案。

【法律小聚会】



(1)根据【法治短讯】,指出全国人大及其常委会所行使的职权,并写出该短讯内容体现出的法律特征。(2 分)

(2)特殊的关爱给特殊的你。参照刑法修正案的自述,指出另外两部法律的“特殊关爱”体现在何处。(4 分)

(3)上述两则材料分别带给我们哪些启示?(4 分)

24. (10 分)赓续革命精神,绽放时代光芒。阅读材料,回答问题。

材料一:五四运动(与以往的爱国运动)就大不相同。它所牵动的社会面非常之广,不仅有学生、工人、商人、市民、士兵,还有乡镇的农民群众等。斗争于北京发生,蔓延到全国各地……表现出不达目的誓不罢休的顽强意志,使反动势力张皇失措……启蒙推动了救亡,推动了五四运动的发生和发展;救亡又是启蒙的有机延伸和继续,并最终导致马克思主义在中国的广泛传播。

——摘编自金冲及《二十世纪中国史纲》

(1)根据材料一,概括五四运动的特点,并结合所学知识指出五四精神的核心内涵。(4 分)





材料二:中国共产党革命精神是党不断从弱小走向强大、从苦难走向辉煌、从胜利走向胜利的制胜秘诀,是中国共产党人绵延生长、赓续传承的血脉基因与精神密码。在革命、建设和改革近百年实践进程中,中国共产党革命精神从起源到成熟、完善,业已成为内涵丰富、特质鲜明的精神谱系。

——摘自朱永刚《中国共产党革命精神谱系演化逻辑、共生特质与传承创新研究》

(2)根据材料二提炼一个观点,并运用所学知识加以论证说明。(6 分)

(温馨提示:本问采用分层给分,要求观点鲜明,史论结合,逻辑严密)

25. (10 分) 读懂浙江答卷, 展现少年抱负。阅读材料, 回答问题。

浙江答卷	
<p>★ 浙江数据 ★</p> <p>2020 年</p> <p>全年生产总值 64613 亿元, 增长 3.6% </p> <p>城乡居民人均可支配收入分别为 62699 元和 31930 元, 增长 4.2% 和 6.9% </p> <p>城乡居民收入比缩小到 1.96:1 </p> <p>常住人口城镇化率从 70% 提高到 71% </p>	<p>★ 浙江实践 ★</p> <p>浙江始终牢记政府前面“人民”二字。省政府出台区域协调财政专项激励政策, 继续推进山区海洋携手并进; 打造“掌上办事之省”, 全省政务服务事项网上可办比例 100%, 掌上可办比例超 80%; 推动全省旅游景区、文化场馆、公共体育场馆等公共场所建设; 等等。</p> <p>★ 浙江蓝图 ★</p> <p>浙江努力打造三大科创高地……美丽中国先进示范区、省域现代治理先行示范区等“四高地”“两区一家园”, 一幅宏伟蓝图正徐徐铺展。</p>

- (1) 数据书就答卷。根据“浙江数据”, 概括浙江所取得的成绩。(3 分)
- (2) 实干创造幸福。指出“浙江实践”体现的发展思想, 并结合该材料简要分析浙江省是如何践行这一发展思想的。(5 分)
- (3) 少年接续奋斗。根据“浙江蓝图”, 谈谈少年的你将用怎样的实际行动交出自己的答卷。(2 分)