

一年级数学

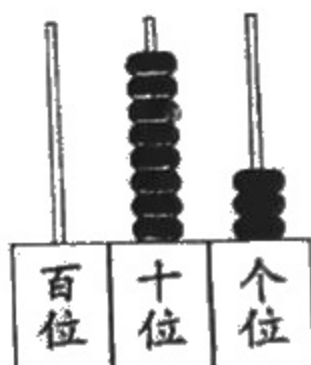
座号

题号	一	二	三	四	五	六	总分
得分							

得分 评卷人

一、填一填。(共 28 分)

1. 看图写数, 并读数。(6 分)



写作: _____

读作: _____



写作: _____

读作: _____



写作: _____

读作: _____

2. 比 90 少 6 的数是 (), 比 38 多 2 的数是 ()。
3. 56 是由 () 个十和 () 个一组成的。
4. 妈妈把饺子每 10 个盛一盘, 一共盛了 5 盘, 还余下 4 个。妈妈一共煮了 () 个饺子。
5. 一张 100 元可以换 () 张 10 元。
6. 一本字典的价格是 36 元, 如果购买一本字典全用 20 元一张的钱付款, 至少要付 () 张。
7. 按规律填一填, 画一画。(5 分)

(1) 10、15、20、()、()

(2) 26、20、()、()

(3)



(4) (), (), (), (), (), (), (), ()

8. 算一算, 填一填。(6分)

40 角 = () 元

9 角 = () 分

5 元 = () 角

82 角 = () 元 () 角

4 元 5 角 = () 角

1 元 - 3 角 = () 角 = () 分

9. 在 ○ 里填上 “>” “<” 或 “=”。(4分)

$20+60$ ○ $30+50$

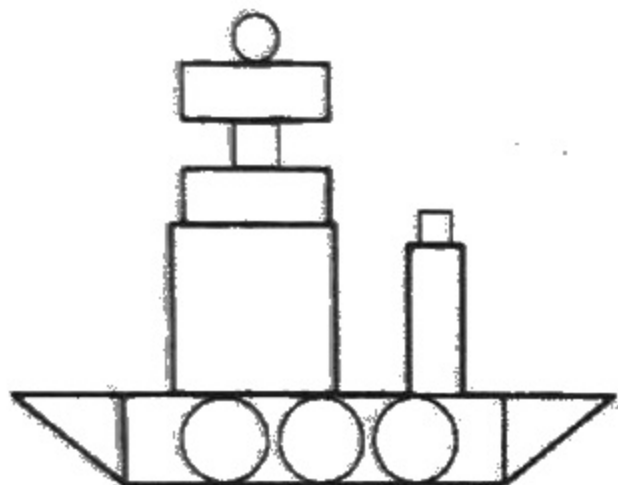
$6+47$ ○ 62

$76-8$ ○ $76-7$

$40-1$ ○ 38

得分	评卷人

二、数一数。(4分)



有 () 个 □

有 () 个 长方形

有 () 个 三角形

有 () 个 ○

得分	评卷人

三、分一分。(8分)

1. 图片中的 8 个人, 分成 2 组, 可以怎样分?
把分组的结果填在表格中。(4分)

人 数		



2. 你认为还可以怎样分? 写出你的想法和分组的结果。(4分)

得分	评卷人

四、算一算。(前 3 列每小题 1 分, 后 1 列每小题 2 分, 共 20 分)

$54-7 =$

$28+60 =$

$66-5 =$

$100-50-8 =$

$6+49=$

$35+7=$

$64+8=$

$50+(20-4)=$

$92-6=$

$18+9=$

$83-10=$

$47-(23+7)=$

$63-3=$

$75+6=$

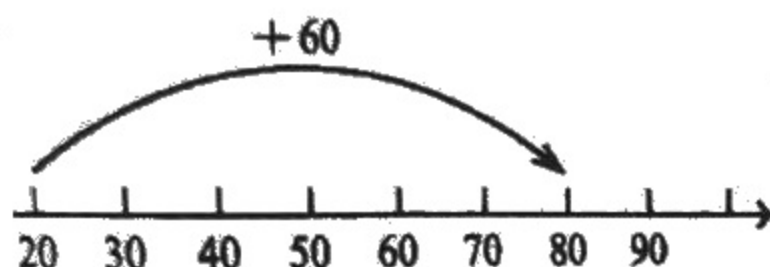
$37-3=$

$55+10-4=$

得分	评卷人

五、看图列式计算。(8分)

(1)



$\square \bigcirc \square = \square$

(2)



$\square \bigcirc \square = \square \text{ (人)}$

得分	评卷人

六、解决问题。(32分)

1. 跳绳比赛。(9分)



依依

我跳了40下

我跳的比依依多一些



牛牛

我跳了35下



甜甜

(1) 牛牛跳了多少下? 在合适的答案下面画“√”。(1分)

100下	53下	38下

(2) 依依和甜甜一共跳了多少下?(4分)

口答: 依依和甜甜一共跳了 \square 下。

(3) 依依比牛牛少跳多少下?(4分)

口答: 依依比牛牛少跳了 \square 下。

2. 原来有多少个面包? (5分)



我们班有42人，
每人分1个面包。

还剩7个面包。



口答：原来有 个面包。

3.



原来有24只船

一班划走6只

现在还剩多少只船?

(5分)

口答：现在还剩 只船。

4. 29个苹果，9个装一盒，可以装满几盒? (5分)

口答：可以装满 盒。

5. 用49元，正好可以买下面哪两件物品? 先将这两样物品圈起来(1分)，再列式算一算(4分)。



39元



46元



48元



3元



10元

口答：49元正好可以买 和 。

6. $32-20=12$ 可以解决生活中的什么问题? 请你举一个例子。(3分)