

贴条码处

三年级数学

满分:100分

| 题号 | 一 | 二 | 三 | 四 | 五 | 六 | 总分 |
|----|---|---|---|---|---|---|----|
| 得分 | | | | | | | |

请在各题目的答题区域内作答,超出黑色矩形边框限定区域的答案无效

| 评卷人 | 得分 |
|-----|----|
| | |

一、快乐选一选。(将正确答案的序号填在括号里)(10分)

1. 小强满 20 岁的时候,只过了 5 个生日,他的生日是()。

- A. 2 月 28 日 B. 2 月 29 日 C. 3 月 29 日

2. 右面图形的面积是()平方厘米。

(每个 \square 代表 1 平方厘米)

- A. 22 B. 24

3. 下面算式中,()的商最接近 80。

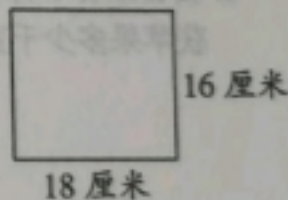
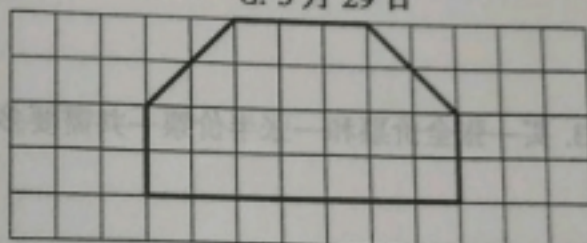
- A. $250 \div 3$ B. $236 \div 2$ C. $481 \div 6$

4. 中国“天宫一号”载人航天器绕地球飞行一圈需要 90 分钟。绕地球 13 圈,需要()分钟。

- A. 103 B. 117 C. 1170

5. 佳佳从右边的长方形纸上剪下一个最大的正方形,正方形的面积是()平方厘米。

- A. 256 B. 288 C. 324



| 评卷人 | 得分 |
|-----|----|
| | |

二、公正判一判。(对的打“√”,错的打“×”)(5分)

- 一年有 12 个月,其中有 7 个大月,5 个小月。 ()
- 两位数乘两位数,积一定是四位数。 ()
- 右面是图书馆的开放时间,图书馆全天开放 6 小时 30 分钟。 8:30~16:00 ()
- 486 除以 8,商是 60,余数是 6。 ()
- 有两个边长是 10 厘米的正方形拼成一个长方形,长方形的面积是 200 平方厘米。 ()

| 评卷人 | 得分 |
|-----|----|
| | |

三、认真填一填。(每空 1 分,共 26 分)


1. 在 1880 年,1987 年,2000 年,2010 年,2021 年中,平年有()个,闰年有()个。

请在各题目的答题区域内作答,超出黑色矩形边框限定区域的答案无效

2. (1) 17:28 是下午(), 21:40 是晚上()。

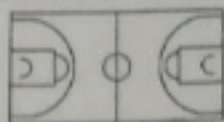
(2) 晚上 11 时用 24 计时法表示是()。

3. 在()里填写适当的单位名称。



一个信封的面积

是 150()



篮球场的面积是

420()



课桌桌面的面积是

48()



一块手帕的面积是

400()

4. 5 平方分米 = () 平方厘米

8 平方米 = () 平方分米

600 平方分米 = () 平方米

200 平方厘米 = () 平方分米

5. 在○里填上“>”“<”或“=”。

$$980 \div 2 \bigcirc 49$$

$$20 \times 17 \bigcirc 350$$

$$708 \div 3 \bigcirc 260$$

$$65 \times 13 \bigcirc 650$$

$$909 \div 9 \bigcirc 100$$

$$58 \times 15 \bigcirc 870$$

6. 根据右图填一填。

(1) 体育馆在学校的()面。

(2) 邮局在商场的()面。

(3) 电影院在公园的()方向。

(4) 商场在公园的()方向。

| | | |
|-----|----|-----|
| 体育馆 | 学校 | 图书馆 |
| 博物馆 | 公园 | 邮局 |
| 电影院 | | 商场 |

北
▲

7. 参加学校乒乓球比赛的所有队员分成了 18 个小组, 每个小组有 12 人。参赛队员一共有()人。

8. 把一根长 20 厘米的铁丝围成一个正方形, 这个正方形的面积是()平方厘米。

9. 一辆出租车一个星期(7 天)收入 896 元钱。如果每天工作 8 小时, 平均每小时收入()元钱。

评卷人 得分

四、细心算一算。(30 分)

1. 口算。(6 分)

$$180 \div 6 =$$

$$250 \div 5 =$$

$$480 \div 4 =$$

$$90 \times 40 =$$

$$60 \times 70 =$$

$$720 \div 9 =$$

$$70 \times 80 =$$

$$80 \times 30 =$$

$$80 \times 90 =$$

$$13 \times 50 =$$

$$240 \div 4 =$$

$$480 \div 8 =$$

2. 列竖式计算。(8 分)

$$903 \div 7 =$$

$$827 \div 5 =$$

$16 \times 48 =$

$92 \times 31 =$

3. 计算下面各题。(12分)


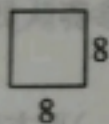
$624 \div 4 \div 2$

$27 \times 18 - 400$

$(724 - 118) \div 6$

$56 \div 2 \times 88$

4. 计算下面各图形的面积。(单位:厘米)(4分)



| 评卷人 | 得分 |
|-----|----|
| | |

五、动手做一做。(10分)

下面是育人小学三(3)班学生的数学成绩记录单。

男生数学成绩记录单

| 学号 | 成绩 | 学号 | 成绩 | 学号 | 成绩 |
|----|----|----|-----|----|-----|
| 1 | 及格 | 4 | 不及格 | 7 | 优 |
| 2 | 优 | 5 | 良 | 8 | 不及格 |
| 3 | 良 | 6 | 良 | 9 | 良 |

女生数学成绩记录单

| 学号 | 成绩 | 学号 | 成绩 | 学号 | 成绩 |
|----|----|----|----|----|-----|
| 10 | 优 | 13 | 及格 | 16 | 不及格 |
| 11 | 良 | 14 | 良 | 17 | 不及格 |
| 12 | 及格 | 15 | 优 | 18 | 良 |

1. 把这些数据整理在下表中。(8分)

| 性别 | 人数 | 成绩 | | | |
|----|----|----|---|----|-----|
| | | 优 | 良 | 及格 | 不及格 |
| | 男生 | | | | |
| | 女生 | | | | |


2. 三(3)班数学成绩得()的人数最多,有()人。(2分)

评卷人 得分

六、解决问题。(19分)

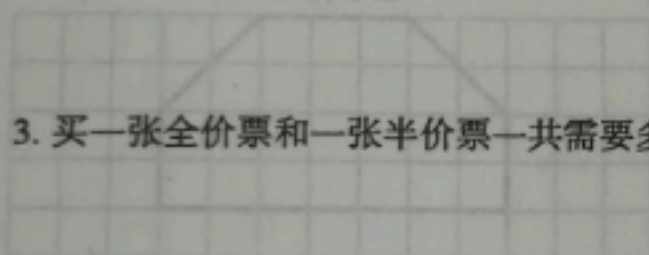
1. 278元买皮球,可以买多少个,还剩多少钱?(3分)

| | | | | | | |
|---|---|---|---|---|---|---|
| 位 | 百 | 十 | 个 | 元 | 角 | 分 |
| | | | | | | |



5元

2. 给一张桌子配桌布,桌布长90厘米,宽70厘米。这块桌布的面积是多少平方厘米?合多少平方分米?(3分)



3. 买一张全价票和一张半价票一共需要多少钱?(4分)

全价票每张318元。



4. 芸芸家有6行苹果树,每行8棵,今年平均每棵收获苹果25千克。今年芸芸家一共收获苹果多少千克?(4分)

5. 乐乐家的卧室地面长6米,宽4米。用边长是2分米的正方形地砖铺卧室地面,需要多少块?(5分)

密

封

线

编:金老
审:赵老
校:刘老