

# 九年级历史试题

(满分 100 分 时间 70 分钟)

## 注意事项:

1. 答卷前,考生务必将自己的姓名、准考证号填写在试题卷和答题卡上,并将准考证号条形码粘贴在答题卡上的指定位置。
2. 请将选择题答案用 2B 铅笔填涂在答题卡指定题号里;将非选择题的答案用 0.5 毫米黑色墨水签字笔直接答在答题卡上对应的答题区域内,答在试题卷上无效。
3. 考生必须保持答题卡的整洁。

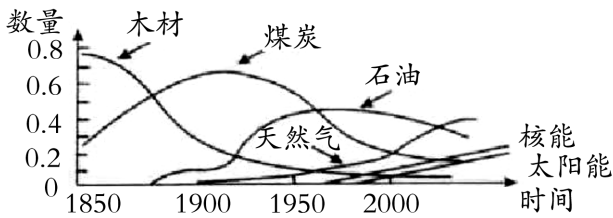
## 一、单项选择题(每小题 2 分,共 50 分)

1. 发生在 18 世纪末 19 世纪初,涉及地区广,卷入人口多,斗争时间长,沉重地打击了西班牙和葡萄牙殖民统治的是  
A. 拉丁美洲独立运动  
B. 第一次亚非会议的召开  
C. 非洲独立运动高潮  
D. 巴拿马收回运河区主权
2. “这些曾经在乡村拥有一望无际的大片土地的所有者,一旦沦为居住泥棚、仅有几只瓦锅的佃户,其对英国殖民者的恐惧、不满和仇恨再也无法控制,因而一些爱国封建王公成了大起义的领导者”,材料描述的是  
A. 美国独立战争  
B. 拉美独立运动  
C. 印度民族大起义  
D. 非暴力不合作运动
3. 1876 年一位俄国地主写道:“解放法令颁布十五个月后,当我再看到农民时,我只有敬慕他们。他们同以前的主人交谈时,就像一个平等的人在另一个平等的人交谈。”俄国农民的变化主要在于  
A. 人人得到了一小块份地  
B. 从法律上获得了人身自由  
C. 完全摆脱封建地主的控制  
D. 彻底摆脱沙皇专制统治
4. 19 世纪中后期,日本以纺织业为重点的轻工业发展特别迅速,到 1890 年,日本已从棉纺进口国变为棉纺出口国。这主要得益于  
A. 实施殖产兴业政策  
B. 推行文明开化政策

C. 废除封建等级制度

D. 建立中央集权制度

5. 下图是资本主义世界工业发展示意图,从中可以看出资本主义工业发展速度在 1870 年后发生显著变化。导致变化的根本原因是



A. 殖民扩张

B. 资本主义制度开始确立

C. 开始使用大机器生产

D. 第二次工业革命的开展

6. 英国科学家达尔文的墓志铭是:“他把世界翻了个,虽然并不完全。”“他把世界翻了个”是指达尔文

A. 发现美洲新大陆

B. 提出万有引力定律

C. 揭开工业革命的序幕

D. 提出进化论观点

7. 下面是张历史知识卡片,请选择合适的主题

主题: \_\_\_\_\_

①1914 年 6 月 28 日,奥匈皇储遇刺。

②1916 年,“凡尔登绞肉机”

③这是一场非正义的掠夺战争。

A. 三国同盟与三国协约

B. 萨拉热窝事件

C. 第一次世界大战

D. 凡尔登战役

8. 凯恩斯在评价“凡尔赛——华盛顿体系”时说:“它是一个残忍的胜利者在文明史上所干出的最凶暴的行为之一”。下列有关这个“体系”的表述不正确的是

A. 根据巴黎和会 and 华盛顿会议而建立

B. 无法根除帝国主义国家间的矛盾

C. 帝国主义重新瓜分世界的新体系

D. 顾及到弱小国家和民族的利益

9. 下面是某次辩论中辩论双方的观点。双方辩论的是哪国经济体制的影响?

正方:它使该国在较短时间内跻身于工业化国家的行列

反方:它造成该国经济部门发展的严重失调和农业长期停滞不前。

A. 列宁领导下的苏俄

B. 斯大林执政时的苏联

C. 罗斯福执政时的美国

D. 卡达尔领导下的匈牙利

10. 甘地领导了印度的民族解放运动,下列描述符合甘地非暴力不合作运动的是

A. 实行了多方面西方化的社会变革    B. 基本上完成印度的独立大业

C. 是反抗殖民统治的独特道路        D. 进程中始终坚持非暴力

11. 1944 年 6 月 6 日凌晨,美英盟军 100 多万人从英国出发,强渡英吉利海峡,在法国北部地区登陆,开辟了欧洲第二战场,使法西斯德国陷入盟军的两面夹击之中。这次战役是

A. 中途岛战役    B. 斯大林格勒战役    C. 诺曼底登陆战    D. 柏林战役

12. 电影往往是社会现实的一种反映。1948 年后,美国好莱坞拍摄了以苏联对美国威胁为主题的《铁幕背后》、《红色威胁》等电影。这反映的现实背景是

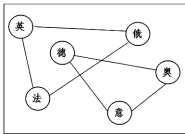
A. 国际反法西斯联盟建立                B. 美苏冷战中的对峙

C. “一超多强”局面形成                D. 世界格局的多极化

13. “他摆弄这个国家,就像家庭主妇摆弄卷心菜一样。他以为只要把外面的烂叶子剥掉,就会有里面的好心子,他不停地剥下去,一直到剥光为止。”一位苏联杂志主编这样讽刺戈尔巴乔夫。他摆弄的这个国家的最终结局是

A. 经济日益强大    B. 国家走向解体    C. 社会政局安定    D. 各种矛盾缓和

14. 历史漫画或历史示意图能生动的再现历史。下列漫画和示意图反映当今世界政治格局的是

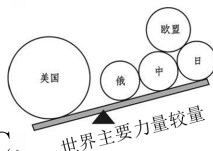


A.

《凡尔赛和约》：德国的绞刑架



B.



C.



D.

15. 第二次世界大战是一场规模空前的反法西斯战争,以法西斯势力的彻底失败告终。

下列史实与结论的搭配,哪一项是法西斯彻底失败的主要原因

A. 斯大林格勒战役——二战的转折点

B. 诺曼底登陆——欧洲第二战场的开辟

C. 雅尔塔会议——协调了盟国战胜德日法西斯的步伐

D. 《联合国宣言》发表——正义力量的联合

16. 二战后西欧主要资本主义国家和日本的经济恢复和发展迅速,西欧和日本经济高速

发展的原因上的共同点不包括

- A. 美国的帮助
- B. 都抓住了第三次科技革命
- C. 都制定了符合本国国情的经济发展政策
- D. 都因为朝鲜战争的刺激

17. 有人断言：欧洲曾是两次世界大战的发源地，但是从今天的形势看，欧洲再次爆发大规模战争的可能性几乎不存在了。他得出这一结论的依据应是

- A. 联合国作用加强
- B. 两极格局已经结束
- C. 欧洲联盟的建立
- D. 和平与发展已成时代主题

18. 1984 年日本文部大臣在北大的演讲中指出“日本是缺乏资源的国家，是用教育的作用来开采人的脑力、心中的智慧资源和文化资源的。这是今天日本在经济上、社会上、文化上获得发展的原动力。”根据材料可见，当今日本经济发展的一个重要原因是

- A. 大量进口原料
- B. 大力发展科技教育
- C. 美国的经济援助
- D. 推行非军事化政策

19. 20 世纪 90 年代以来，美国新经济的主要特征是

- A. 信息化、速度化
- B. 全球化、产业化
- C. 信息化、全球化
- D. 全球化、速度化

20. 二战后，亚非拉国家为捍卫国家主权、发展经济进行了不懈的斗争，殖民体系崩溃，标志着世界殖民体系最终瓦解的是

- A. 万隆会议的召开
- B. 古巴走上社会主义道路
- C. 纳米比亚的独立
- D. 收回了巴拿马运河主权

21. 2011 年 5 月，美国总统奥巴马宣布，美军击毙了“九一一”事件的主要策划者本拉登，并宣称这是国际反恐斗争的重大胜利，同时，北约国家对利比亚的轰炸还在继续。联系之前的科索沃战争、伊拉克战争等，这些事件反映的历史现象是

- A. 两极格局形成
- B. “冷战”局面还在继续
- C. 世界经济出现全球化趋势
- D. 国际格局多极化趋势曲折发展

22. 德国生产的欧宝轿车，车身产自德国，轮胎来自比利时，避震器来自意大利，排气管来自瑞典，座椅来自匈牙利，仪表盘来自瑞士。这体现了

- A. 世界文化的多元发展
- B. 高科技推动经济的发展

C. 世界经济的全球化趋势

D. 世界政治格局的多极化趋势

23. 20 世纪 50—70 年代,日本经济保持着 9.6% 的高增长率。这除了日本自身的努力外,还得益于哪一国家的扶持?

A. 美国

B. 苏联

C. 中国

D. 法国

24. “西欧国家感到,美苏两国对西欧都有野心,要提高自身的安全系数,提高西欧国家的国际地位,加快经济发展,必须密切联系、加强合作。”于是西欧国家在 20 世纪 60 年代建立了

A. 三国同盟

B. 轴心国

C. 欧洲共同体

D. 欧洲联盟

25. 下列有关三次科技革命成果及其影响的组合,完全正确的一项是

A. 瓦特改良蒸汽机——大工厂的发展

B. “旅行者号”试车成功——水上交通迅速发展

C. 电动机的发明——汽车成为一种大众化的交通工具

D. 生物工程——促使了电子计算机的发明

## 二、材料分析题(26 题 16 分,27 题 14 分,28 题 20 分,共 50 分)

26. 资本主义制度经历了建立发展、调整完善的过程,由大西洋沿岸逐步扩展到世界范围。阅读下列材料,回答相关问题。(16 分)

材料一:未经议会同意,国王无权废除法律或停止法律的执行;不经国会同意,国王不能征税;不经国会同意,国王不能在和平时期维持常备军;会回必须定期召开;议员选举不受国王的干涉。

材料二:我们以这些殖民地的善良人民的的名义和权力,谨庄严宣告:我们这些联合殖民地从此成为,而且名正言顺地成为自由独立的合众国,它们解除对英王的一切隶属关系。而它们与大不列颠王国之间的一切政治联系也应从此完全废止。

材料三:在权利方面,人们生来是而且始终是自由平等的。

法律是公共意志的表现,所有公民有权参与法律的制定。

材料四:下列是一组重要历史人物图片。



亚历山大二世

图一



林肯

图二



明治天皇

图三

回答下列问题：

- (1)材料一出自哪一法律文献？这个文件的颁布对该国产生了怎样的影响？（2分）
- (2)材料二出自哪一历史文献？它的发表有何历史意义？（2分）
- (3)材料三出自哪一法律文献？把这次资产阶级革命推向高潮的是谁？（2分）
- (4)材料四中的图一亚历山大二世领导的改革是什么？（2分）如何评价这次改革？（2分）
- (5)说出材料四中图片二林肯在南北战争中的主要贡献。（2分）
- (6)说出材料四中图三人物明治天皇领导的改革的性质及改革中最有远见的措施？（2分）
- (7)材料四中三个事件产生了什么共同影响？（2分）

27. 经济结构调整和经济体制改革，是经济发展和社会进步的必由之路，是每个国家实现国富民强、民族振兴的重要过程和手段。阅读材料，回答问题。（14分）

材料一 1920年，三年国内战争结束。苏俄却遇到了巨大困难……人民生活困苦……第二次世界大战中，苏联为世界反法西斯战争做出重要贡献。——摘编自《世界史》

材料二 （经济大危机下）千百万人只因像牲畜那样生活，才免于死亡。宾夕法尼亚州的乡下人吃野草根、蒲公英；肯塔基州的人吃紫罗兰叶、野葱、勿忘我草、野莴苣以及一向专给牲口吃的野草。城里的孩子妈妈在码头上徘徊等待，一有腐烂的水果蔬菜扔出来，就上去同野狗争夺。——威廉·曼彻斯特《光荣与梦想》

材料三 俄国1861年农奴制改革后，农民缴纳的巨额赎金为发展大工业增添了新的资金来源；获得解放的2000多万农民为大工厂提供了充足的自由劳动力；农村自然经济的进一步瓦解扩大了国内市场。——摘编自《世界史》

材料四 “大约在150年前，（一个）位于太平洋西岸的岛国，在西方殖民者坚船利炮的

胁迫下遭遇生存危机。出人意料的是,它将此作为自己弃旧图新的契机…”

——电视片《大国崛起》解说词

(1)为解决材料一中“人民生活困苦的问题,1921 年苏俄实施了什么政策? 后来,苏联领导人又采用什么建设模式为苏联取得反法西斯战争的胜利奠定物质基础?(2 分)

(2)面对材料二中的危机美国政府采取了什么对策?(2 分)这一对策的中心措施及主要特点各是什么?(2 分)

(3)据材料三指出俄国这场改革为其资本主义的发展提供了哪些条件。(3 分)

(4)材料四中的“岛国”指的是哪个国家?(1 分)19 世纪 60 年代末,该国抓住机遇“弃旧图新”,是以什么重大事件为起点走上崛起之路的?(2 分)

(5)纵观经济发展模式的调整过程,你能得出什么启示?(2 分)

28. 20 世纪经历了两次世界大战和一个长达近半个世纪的“冷战”,导致了世界格局的三次大变化。20 世纪八九十年代,东西方冷战结束,国际形势趋于缓和,和平与发展成为世界的发展趋势。结合下列材料,进行探究。(20 分)

材料一:协约国同德国及其盟国签订的一系列合约,构成了重建欧洲、西亚和非洲的国际新秩序。华盛顿会议的核心是中国问题,与会国签订了一个公约。

——王斯德《世界通史》

材料二:



图片一



图片二



图片三

材料三:当令世界,各国相互依存、休戚与共,我们要继承和弘扬联合国宪章的宗旨和原则,构建以合作共赢为核心的新型国际关系,打造人类命运共同体。

——习近平在联合国大会一般性辩论时的讲话

材料四:《北大西洋公约》第 5 条规定:“对欧洲或北美一个或数个缔约国的武装进攻,应视为对缔约国的全体之攻击”。

材料五:当今世界实际形成了美国、日本、欧盟、中国、俄罗斯五个力量中心。五个力量

中心的存在,在很大程度上影响着世界各个地区和许多国家。五个力量中心之间存在的相互竞争、相互制约的关系,使军事霸权主义受到更多的制约和限制,有利于世界的安全与稳定。

请回答:

- (1)材料一中协约国同德国签订的“和约”及关于中国问题的“公约”分别指什么?由此确立了怎样的国际政治格局?(3分)
- (2)根据材料二中图一,结合所学知识指出第二次世界大战胜利的根本原因。(2分)
- (3)依据材料二中的图二、图三,并结合所学知识回答,当今支撑、协调世界经济和政治的两大支柱分别是什么国际组织?图二所示组织的成立反映了世界发展的哪一趋势?(3分)
- (4)第二次世界大战中的哪次国际会议决定成立联合国?根据材料三指出,构建新型国际关系我们需要坚持的核心理念。(2分)
- (5)依据材料四中《北大西洋公约》成立的北约组织,是二战后美国针对苏联等社会主义国家采取哪一政策在军事上的表现?(1分)该政策在政治和经济方面的具体表现分别是什么?(2分)北约组织的建立,苏联成立哪一组织与之对抗?(1分)形成的世界格局是什么?(1分)
- (6)从材料五看出当今世界政治格局的发展趋势是什么?(2分)结合所学指出在新的世界政治格局形成过程中,具有决定性作用的因素是什么?(2分)在新的格局形成过程中,标志广大发展中国家已成为国际舞台上的一支重要力量的事件是什么?(1分)