

注意事项:

1. 答卷前,考生务必用 0.5 毫米黑色签字笔将自己的姓名、准考证号、座号填写在试卷和答题卡规定的位置。考试结束后,将本试卷和答题卡一并交回。
2. 答题注意事项见答题卡,答在本试卷上不得分。

第 I 卷(选择题 共 50 分)

一、选择题(每题 2 分,共 50 分。在每题所列出的四个选项中,只有一项是最符合题目要求)

1. 亚历山大东征后,在古印度地区出现了犍陀罗艺术,其艺术特征是以希腊、罗马式装饰手法表现中亚和印度次大陆地区的题材,如当地佛像多鼻梁较高,头发呈现波浪状,并身着长袍(如下图)。这表明亚历山大东征

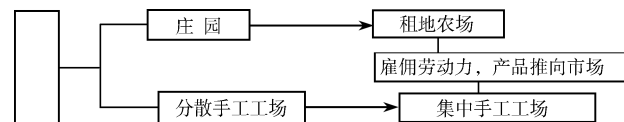


- A. 使亚历山大帝国长治久安
 - B. 世界开始从分散联合为一体
 - C. 给东方文明带来巨大破坏
 - D. 促进了东西方文化的大交汇
2. 在西欧,庄园为领主提供日常消费的面粉、奶酪、火腿、蔬菜等食物,也为领主提供衣物、鞋帽等。庄园里有铁匠、金银匠、皮鞋匠、面包师等各色工匠制造不同的物品。这说明西欧庄园

- A. 具有自给自足特征
 - B. 是独立的政治单位
 - C. 具有地方管理功能
 - D. 是地方经济的中心
3. 如下图是宁夏回族自治区援助巴基斯坦的抗疫物资,上面写有“兄弟同心,共克时艰”,巴方表示“穆斯林皆兄弟,感谢中国宁夏穆斯林兄弟的无私帮助”。由此推测巴基斯坦国内占有主导地位的宗教可能是



- A. 佛教
 - B. 基督教
 - C. 伊斯兰教
 - D. 犹太教
4. 下图是某同学设计的思维导图。应在空白框中填上



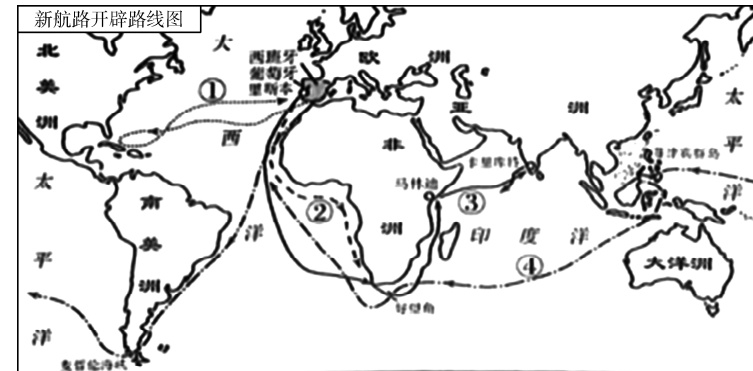
- A. 西欧封君封臣制最终走向崩溃
 - B. 西欧开始使用机器大生产
 - C. 西欧生产组织形式资本主义化
 - D. 西欧庄园制经济开始兴起
5. 有学者认为,文艺复兴时“人们不再满足于坐在那里当观众,而由皇帝和教皇告诉他们如何做、如何想。他们要在生活舞台上充当演员,他们坚持要对自己个人的思想进行表达。”这说明文艺复兴运动

- ①肯定人的价值和尊严
- ②否定了天主教会权威
- ③冲破了封建等级观念
- ④促进资本

主义的发展

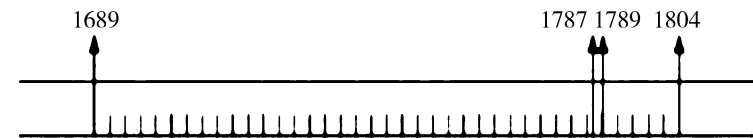
- A. ①②
- B. ③④
- C. ①③
- D. ②④

6. 时空观念是历史学科五大核心素养之一。观察下面“新航路开辟路线”图,选出图中路线对应事件说法错误的一组是



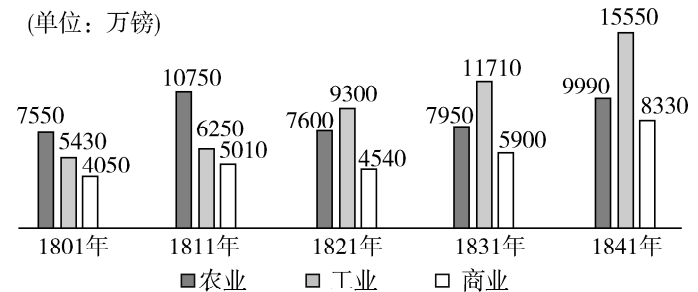
- A. ①—哥伦布发现美洲新大陆
 - B. ②—迪亚士发现“好望角”
 - C. ③—达·伽马到达印度
 - D. ④—麦哲伦完成环球航行
7. “论从史出”是学习历史的重要方法之一。“英国从奴隶贸易中所得到的资金甚至超过了国内的积累。英国重要的商业和船运业中心利物浦,本是一个荒僻的小村落,在奴隶贸易中发展成英国的第二大港口。”从这段史料可以看出奴隶贸易

- A. 促进了英国的资本主义发展
 - B. 促进了新航路的开辟
 - C. 给英国带来大量黑人劳动力
 - D. 是英国资本积累的唯一途径
8. 对下图所示年代尺解读最全面、最准确的是



- A. 欧洲资产阶级革命
 - B. 拿破仑对外战争
 - C. 工业革命与殖民扩张
 - D. 欧美民主化进程
9. “它武装了人类,使虚弱无力的双手变得力大无穷,健全了人类的大脑以处理一切难题。它为机械动力在未来创造奇迹打下了坚实的基础。”这是 1819 年一位去世伟人讣告中的赞词,赞词中的这位伟人是

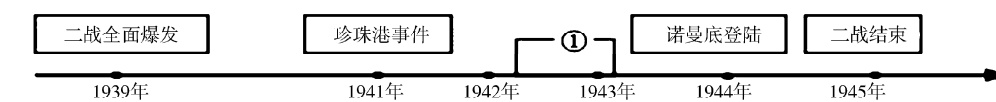
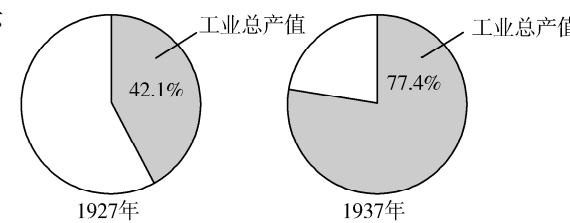
- A. 瓦特
 - B. 爱迪生
 - C. 牛顿
 - D. 卡尔·本茨
10. 如图是 1801 - 1841 年英格兰农业、工业、商业产值示意图,导致各产业数据变化的原因是



- A. 英国资产阶级革命
B. 第一次工业革命
C. 英国的殖民扩张
D. 第二次工业革命
11. 下图为国际社会主义运动整体发展趋势示意图,其中②处对应的历史事件是
- 空想到科学 ① 理论到实践 ② 理论到现实 ③ 一国到多国
- 1848年 1871年 1917年
- A. 英国宪章运动 B. 《共产党宣言》发表 C. 法国巴黎公社 D. 俄国十月革命
12. 列宁评价巴黎公社时说:“巴黎公社打碎了资产阶级国家机器,走了具有全世界历史意义的第一步。”对这句话理解最准确的是
- A. 巴黎公社在世界范围内产生了广泛影响
B. 巴黎公社是最早的国际工人运动
C. 巴黎公社是世界上第一个无产阶级政权
D. 巴黎公社推翻了资产阶级统治并取得了最终胜利
13. 民族独立和民族解放是不可抗拒的时代潮流。下列图片中的人物是反抗殖民统治、争取民族独立的英勇战将,有关他们的说法符合史实的是
- ①图一和图二中的人物都是反抗英国的殖民统治 ②三者都领导人民完成了民族独立和解放大业 ③三者都属于亚非拉美的民族独立运动 ④图三中的人物被誉为“南美的解放者”
- 图一 图二 图三
- A. ①②③ B. ①② C. ②③ D. ①④
14. 他的西化在很大程度上实现了为俄国打开一扇“面向西方的窗户”的目标,但这些变化就性质而言,基本上是军事的、经济和技术的变化,而且它们仅仅影响了全体居民中为数不多的上层阶级中一些持赞同态度的成员。材料中的“他”
- A. 开启了俄国近代化进程
B. 使俄国走上资本主义发展道路
C. 彻底清除了俄国社会发展的障碍
D. 被称为农奴“解放者”
15. 1897年,柏林举办了第一届国际车展,它成为德国汽车工业领先世界的重要标志。为汽车工业发展作出了突出贡献的德国工程师有
- ①戴姆勒 ②瓦特 ③卡尔本茨 ④亨利福特
- A. ②③ B. ①④ C. ①③ D. ②④
16. 右图是某中学校服上的标签,标签上“人造纤维”的发明者是
- A. 诺贝尔 B. 海厄特 C. 福特 D. 夏尔多内
17. 史论结合是历史学科的重要特点之一。在历史学习的过程中,要注意区分史实与史论。下列表述中,属于“史论”的是
- A. 一战爆发之后,意大利参加了协约国集团作战
B. 1916年,德、法两国军队在凡尔登展开了血战
C. 一战是帝国主义争夺霸权和殖民地的不义之战
D. 一战中,交战国使用了坦克和潜艇等新式武器
18. 《震撼世界的十天:苏联的诞生》是美国著名记者约翰·里德在亲历十月革命后写成的纪

实作品。由于取材严谨,立场客观,被誉为不可多得的研究十月革命的经典著作。你认为十月革命带给当时世界的最大“震撼”是

- A. 推翻了沙皇专制统治
B. 标志着科学社会主义诞生
C. 第一次尝试建立无产阶级政权
D. 世界上第一个社会主义国家诞生
19. 在俄罗斯长篇小说《切温古尔》中有这样一段话;“令人费解的是,(红军来了)分了土地,却又把每一粒粮食收走了。你倒是自己去尝尝这样的滋味吧!”为改变这种情况,苏俄开始实施
- A. 新经济政策
B. 农业集体化
C. 土地改革政策
D. 社会主义工业化
20. 右图为苏联工业总产值的比重变化示意图,此示意图说明苏联
- A. 新经济政策政策成效显著
B. 完成了农业集体化
C. 实现了国家工业化
D. 发展模式单一僵化
21. 为纪念第二次世界大战胜利75周年,2020年6月24日,俄罗斯在莫斯科红场举行了盛大的阅兵游行。回顾二战进程,示意图①处应该填写



- A. 德国突袭苏联
B. 斯大林格勒保卫战
C. 莫斯科保卫战
D. 柏林战役
22. 杜鲁门说:“杜鲁门主义和马歇尔计划是一个胡桃的两半。”以下说法不符合这一含义的是
- A. 都是冷战政策的重要组成部分
B. 目的都是反苏反共以遏制共产主义
C. 都是以军事援助为主要形式
D. 都是以美国的自身利益为出发点
23. 2020年是非洲获得完全独立30周年。30年前,标志着非洲国家摆脱了殖民枷锁的事件是
- A. 利比亚独立 B. 埃及独立 C. 纳米比亚独立 D. 万隆会议的召开
24. 二战后,联合国的成立反映了世界人民的愿望。下列关于联合国的表述不正确的是
- A. 1945年10月,联合国正式成立
B. 联合国是人类构建世界和平的成果
C. 联合国的职能主要是制定和规范多边贸易协定、组织贸易谈判、解决贸易争端等
D. 联合国的主要机构有联合国大会、联合国安全理事会、联合国秘书处等
25. 右图漫画给我们最重要的启示是
- A. 坚持绿色发展理念
B. 放缓经济发展速度
C. 温室效应环境恶化
D. 严格控制人口增长

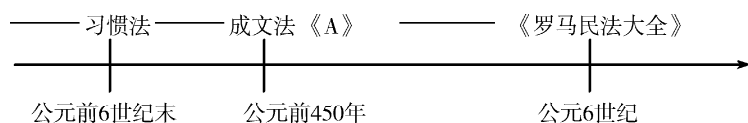


第Ⅱ卷(非选择题 共50分)

二、非选择题(共4道题50分。其中,第26题13分,27题13分,第28题12分,29题12分)

26. (13分)民主与法制建设经历了一个漫长而曲折的过程。2021年1月1日起,《中华人民共和国民法典》正式实施,这是我国的首部民法典,我国的民法制度进入“民法典时代”。阅读下列材料,回答相关问题。

材料一 法学方面的成就是罗马人最伟大的成就之一。罗马法的发展演变历程如下图所示:



(1)结合所学知识,写出材料一A处的法律文献的名称及其历史地位。材料中《罗马民法大全》又有何深远影响?(4分)

材料二 有人认为:英国的“光荣革命”既不是一次微不足道的政变,也不是一次以建立“平衡宪法”为归宿的政治妥协,而是议会与国王权力关系史上的决定性转折点。

(2)根据所学知识分析,材料二中议会与国王权力关系发生了怎样的变化?最终英国确立了什么样的政体?(3分)

材料三 美国的共和政体吸收了雅典民主的理念,保障“人民”对政府的参与、信任和制约,意在追求“全体公民的最大幸福”。它用代表制改造了罗马的公民大会,使之成为“委托——代理”的“间接民主”机构。它借鉴了君主制的长处,强化了行政权的功能和作用,并将它赋予单独一个人行使。同时,美国的建国者还从历代的分权理论和制度中获得借鉴,把它加以改造,转化为一种复合的分权制衡体制,以防止政府某一支侵夺或垄断权力,从而保证“有限政府”理念的实现。

——李剑鸣《“共和”与“民主”的趋同》

(3)以美国1787年宪法内容为例,说明美国中央政府内部是如何“保证‘有限政府’理念实现”的?(3分)。

材料四 伏尔泰曾说,在法国旅行需要经常更换法律,就像经常更换马匹一样。法国直到1804年以后才成为一个法律上的整体……

(4)材料四中“法国直到1804年以后才成为一个法律上的整体”主要得益于哪一部法律文件?这部法律文件有何价值?(3分)

27. (13分)2020年5月23日,习近平总书记看望参加政协十三届三次会议的经济界委员时,强调要“在危机中育新机、于变局中开新局”。九年级1班以“危机·新机·新局”为主题开展了研究性学习。

材料一 100多年前,在西方殖民者坚船利炮的胁迫下,日本遭遇了巨大的生存危机。日

本启蒙学者福泽谕吉当时出版了一些介绍西洋文明的书籍……日本另一名学者井上馨提出要“化我国为欧洲帝国,化我人为欧洲国民”。一部分中下级武士以武力推翻了幕府统治。不久天皇实行了一系列改革,最终使日本成为东方世界第一个摆脱西方大国欺凌、顺利实现现代化的国家。

——《世界通史》

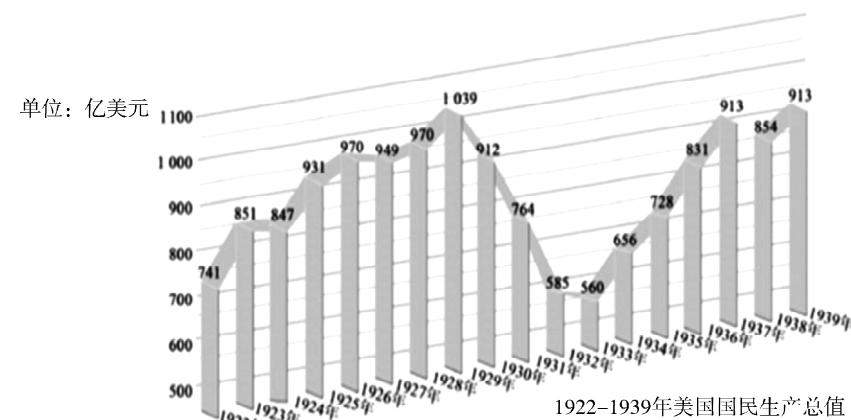
(1)材料一中,日本实行的这场改革史称什么?改革中的哪些措施实现了日本“化我国为欧洲帝国,化我人为欧洲国民”? (3分)

材料二 “很多人认为这种制度已经成为经济发展和国家生存的障碍……为了保持沙皇俄国的大国地位,沙皇正着手开始一项改革计划……社会改革为政府发起的工业化进程铺平了道路,使俄国在19世纪最后十年发生了转型。”

——杰里·齐格勒《新全球史》


(2)根据材料二指出“这种制度”指的是什么制度?面对俄国发展的障碍,哪位人物进行了改革?如何评价这场改革?(4分)

材料三



(3)根据材料三,指出1928—1932年美国国民生产总值变化的趋势。造成1928—1932年美国国民生产总值数据变动的直接原因是什么?面对危局,罗斯福上台后,采取了什么对策,有何特点?(4分)

材料四



2018年6月15日,美国政府宣布,针对进口中国的价值500亿美元商品加征25%关税。

2019年5月9日至10日,第十一轮中美经贸高级别磋商举行之际,美方宣布将对价值2000亿美元中国输美商品加征的关税从10%上调至25%。

——新华网

(4)今天,面对中美贸易战、科技战危局,作为爱国学生,请你为国建言献策。(2分)

28. (12分)习近平总书记强调:“人类是一个命运共同体,唯有团结协作才能应对各种全球性风险挑战。”阅读下列材料,回答相关问题。

材料一 你(丘吉尔)的电报是后来促使两国政府意见一致的起点。现在,正如你有充分的理由说的那句话,苏联和大不列颠已经结成战友。我(斯大林)毫不怀疑,尽管有困难,我们两国将有足够的力量去摧毁我们的共同敌人。

——《第二次世界大战回忆录》(英)丘吉尔

(1)材料一中苏联与英国的“共同敌人”是什么?根据所学知识回答,“苏联和大不列颠已经结成战友”的标志性事件是什么?列举一例苏联、英国为战胜“共同敌人”团结协作的重大行动。(3分)

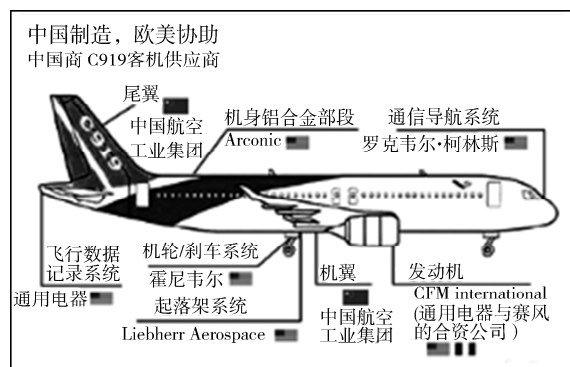
材料二 第二次世界大战使整个欧洲遭受到了几乎是致命的打击……导致了欧洲的整体衰落。不仅如此,欧洲还被苏联和美国划分为东西两大势力范围……只有走联合之路。于是,从经济上的煤钢联营入手,启动了西欧的联合进程。——《世界近现代史》

(2)根据材料二,概括二战后西欧诸国“走联合之路”的原因是什么?20世纪60年代,西欧诸国采取什么举措推动“西欧的联合进程”的?有何影响?(5分)

材料三 2020年6月28日,凝聚着国人梦想的具有自主知识产权的民用C919大型客机成功降落在新疆吐鲁番交河机场,开始进行高温专项试飞实验。

右图是C919主要供应商示意图。

(3)右图材料反映了当今时代经济发展的趋势是什么?20世纪90年代,哪一组织的成立最能体现这一趋势?(2分)



材料四 “大道不孤,天下一家。经历了一年来的风雨,我们比任何时候都更加深切体会到人类命运共同体的意义。我同国际上新老朋友进行了多次通话,出席了多场“云会议”,谈得最多的就是和衷共济、团结抗疫。疫情防控任重道远,世界各国人民要携起手来,风雨同舟,早日驱散疫情的阴霾,努力建设更加美好的地球家园。”

——2021年元旦习近平主席新年贺词

(4)根据材料四,谈一下在全球抗击疫情斗争中,我国是如何践行“人类命运共同体”理念的?(2分)

29. (12分)世界格局是指相对稳定的国际关系结构。20世纪,世界格局经历了多次大变动,对人类社会的发展产生了重要影响。作为21世纪的主人,青少年应当以史为鉴,放眼世界,关注国家的前途与命运。阅读下面材料,回答相关问题。

材料一 图片中的历史



图一 签署《凡尔赛和约》



图二 签署《九国公约》

(1)图一、图二反映的两次会议使帝国主义列强在一战后形成了哪一体系?简要评价这一体系。(4分)

材料二 天皇在内阁和政界元老的说教下决定投降,接受了同盟国的最后通牒,9月2日,在停泊在东京湾的美国军舰“密苏里号”战舰的甲板上,举行了正式的投降签字仪式。

——斯塔夫利阿诺斯《全球通史》

(2)这次投降仪式代表着哪次战争的结束?战争结束后构建的新的国际政治格局是什么?(2分)



材料三 “世界新秩序之所以不同于旧秩序,就是因为它不由大国主宰,而是由很多权力中心,每一个都独立活动。美国既是超级大国,也不是超级大国。美国是唯一的军事超级大国,但靠军事力量能解决的问题越来越少。至于其他问题,如经济问题,美国仅仅是一个大国,还有可与美国匹敌的其他国家。”

——1993年亨利·基辛格的谈话

(3)材料三反映出当今世界政治格局出现了怎样的趋势?当今“可与美国匹敌的其他国家”有哪些?(3分)

材料四 2016年以来,英国脱欧、意大利公投失败、半岛危机、叙利亚内战,一系列事件表明国际政治格局正发生着深刻变化。各国都力争在新的国际政治格局中占据主动和取得话语权。

——摘自《新华网》

(4)结合所学知识回答,在新的政治格局中取得“话语权”的决定因素是什么?你认为在新格局之下,中国应该如何应对?(3分)