


2020 年-2021 年度第二学期 西湖区小学数学一年级综合练习卷

一、填空题。

- 100 个一是(),它里面有()个十。
- 72 里面有()个十和()个一。
- 用 2 个  能拼成哪些图形? 能的在括号里画“√”
 三角形 正方形 平行四边形 圆
 () () () ()
- 最大的两位数是(),最小的两位数是(),它们相差()。
- 踢毽比赛,小明踢了 48 下。

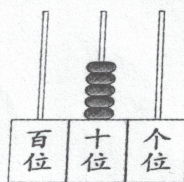
小红踢的比小明多得多,小亮踢的比小明少一些。

小红可能踢了多少下?(画“√”) 小亮可能踢了多少下?(画“√”)

45	50	92

15	45	50

6.



如果让你再拨一个算珠,你会拨在哪?(画出来)这时计数器上的数写作(),读作()。

7. 在○里填上“>”、“<”或“=”。

$72-7 \bigcirc 72-6$

$69+8 \bigcirc 8+69$

$51-3 \bigcirc 51-30$

$9 \text{ 元 } 5 \text{ 角 } \bigcirc 10 \text{ 元}$

$6 \text{ 元 } \bigcirc 10 \text{ 元 } - 4 \text{ 元 } 3 \text{ 角}$


8.




2角



5角

(1)用 1 元钱正好能买()块 。

(2)用 1 元钱正好能买()根 。

9. 根据规律填数。

(1) 36 30 24 18 () ()

(2) 1 3 6 10 15 () ()

10. 如果用★表示 10,用△表示 1。在最大数的括号里画“√”,最小数的括号里画“×”

△△△

△★△△ ()

△△△

△△△

★★★ ()

△△△

★★★

△★△ ()

座号

姓名

班级

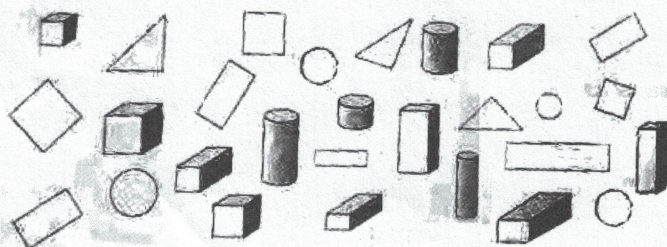
学校

密

封

线

11.



图形	立体图形	平面图形
数量		
个数		

二、计算。

$$\begin{array}{lllll}
 18-6= & 8+7= & 11-4= & 16-8= & 15-9= \\
 14-5= & 12-5= & 15-7= & 7+9= & 12-7= \\
 11-8= & 17-9= & 8+8= & 13-5= & 15-6= \\
 50+16= & 58-20= & 37+9= & 72-6= & 49+30= \\
 68-60= & 93+7= & 84-9= & 80-7= & 75-40= \\
 54-6+20= & 46-(3+27)= & 59-(12-3)= & 75-(45+30)= &
 \end{array}$$

三、解决问题。

1. 同学们浇树。小兰提 8 桶水浇了 22 棵,小明提 12 桶水浇了 30 棵。

(1)小兰和小明一共浇了几棵树? (2)小兰比小明少提几桶水?

2. 公交车上共有 45 名乘客,其中男乘客 20 名。到站下去 10 名,还剩多少名乘客?

3. 超市运进 45 箱苹果,上午卖出 15 箱,下午卖出 20 箱。超市还有多少箱苹果?

4. 下面是图书室有各种书的情况。

(1)故事书比漫画书多多少本?

故事书	科技书	漫画书
43 本	8 本	30 本

(2)科技书和故事书共有多少本?

(3)请你提出一个数学问题,并解答。