

座号：_____ 姓名：_____ 班级：_____ 学校：_____

2020—2021学年度第二学期
七年级地理(下册)测试卷(二)


(第八章 欧洲)

题号	一	二	合计
得分			

一、单项选择题(每小题 2 分,共 60 分)

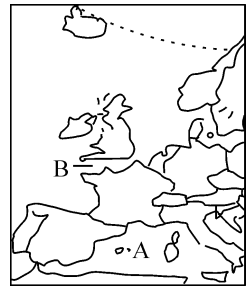
题号	1	2	3	4	5	6	7	8	9	10	11	12	13	14	15
答案															
题号	16	17	18	19	20	21	22	23	24	25	26	27	28	29	30
答案															

读欧洲地形图,回答 1—3 题。



1. 欧洲的地形特点是 ()
- A. 高原、山地为主,山区面积广大
- B. 东部、西部多山地,南部、北部多平原
- C. 地势南北低,中间高,起伏较大
- D. 地形以平原为主,是世界上平均海拔最低的大洲
2. 关于欧洲地形对气候的影响,说法正确的是 ()
- A. 平原面积广大,气候类型单一
- B. 地势低,终年高温多雨
- C. 山脉多东西走向,地势低平,有利于海洋湿润气流深入内陆
- D. 山脉阻挡,温带海洋性气候仅分布在西部沿海

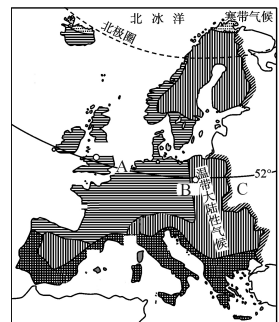
3. 受地形影响,欧洲河流 ()
- A. 流程较短 B. 水流湍急 C. 水量丰沛 D. 河网稠密
4. 西欧大部分地区属于典型的温带海洋性气候,其最主要的原因是 ()
- A. 大部分位于中纬度地区
- B. 海岸线曲折,各地距海不远
- C. 受来自海洋夏季风的影响
- D. 地势低平,盛行西风,又受到暖流的影响
5. 欧洲大部分位于五带中的 ()
- A. 北寒带 B. 北温带 C. 热带 D. 南温带
6. 关于欧洲西部人口的正确叙述是 ()
- A. 欧洲西部是世界上人口较稀疏的地区
- B. 在工业区,人口较稠密
- C. 欧洲西部人口自然增长率较低,但没有出现负增长的情况
- D. 欧洲人大多数是美洲人的后裔
7. 右图中 B 海峡是 ()
- A. 马六甲海峡 B. 土耳其海峡
- C. 霍尔木兹海峡 D. 英吉利海峡
8. 右图中 A 海沿岸的气候特征是 ()
- A. 夏季炎热干燥,冬季温和多雨 B. 全年降水均匀
- C. 夏季炎热多雨,冬季温和干燥 D. 全年高温多雨



9. 欧洲人酷爱乳产品和牛羊肉,这种饮食结构深受自然环境的影响。以下因果关系排列正确的是 ()
- ①多汁牧草,草场广布 ②欧洲人爱吃牛羊肉 ③地处中纬度大陆西岸的地理位置
- ④畜牧业发达 ⑤温带海洋性气候和以平原为主的地形
- A. ③①②④⑤ B. ③⑤①④② C. ⑤①③④② D. ②④③⑤①

读欧洲西部气候分布图,回答 10—11 题。

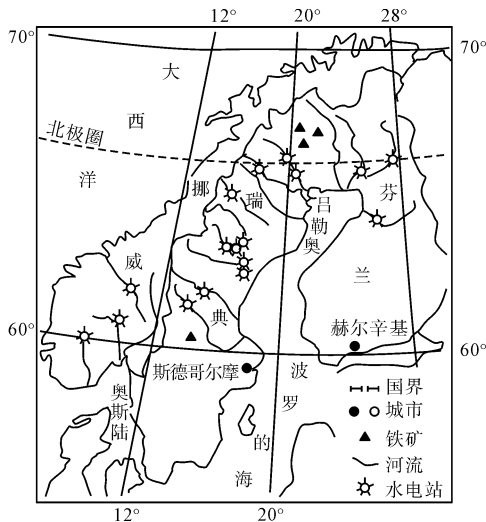
10. 图中 A 地气候类型应是 ()
- A. 温带海洋性气候
- B. 亚热带地中海气候
- C. 温带大陆性气候
- D. 寒带苔原气候



11. 对图中 A、B、C 三地的降水及气温年较差叙述错误的是 ()

- A. A 地的降水最多 B. B 地的气温年较差最大
C. 受气温影响, C 地民居的墙体最厚 D. C 地降水最少

联合国《2019 年世界幸福报告》幸福国度排名: 北欧三国中芬兰高居榜首, 挪威和瑞典分列第三、第七名。据此读图回答 12—14 题。



12. 北欧三国成为“幸福度排名前十的国家”, 其共同的特征主要有 ()

- ①经济总量居世界前列 ②人均收入高 ③自然环境优美 ④矿产资源丰富
A. ①② B. ②③ C. ③④ D. ①④

13. 瑞典是北欧三国中使用可再生能源比例最高的国家。与其他两个国家相比, 瑞典发展可再生能源的优势是 ()

- A. 太阳能分布广 B. 水能丰富 C. 风能充足 D. 铁矿储藏丰富

14. 欧洲流经国家最多的河流是 ()

- A. 伏尔加河 B. 多瑙河 C. 莱茵河 D. 泰晤士河

读北欧土地类型分布图, 回答 15—16 题。



15. 北欧地区 ()

- A. 森林广布 B. 耕地稀少 C. 多沙漠戈壁 D. 无可垦荒地

16. 去北欧地区旅游,下列景观能欣赏到的是 ()

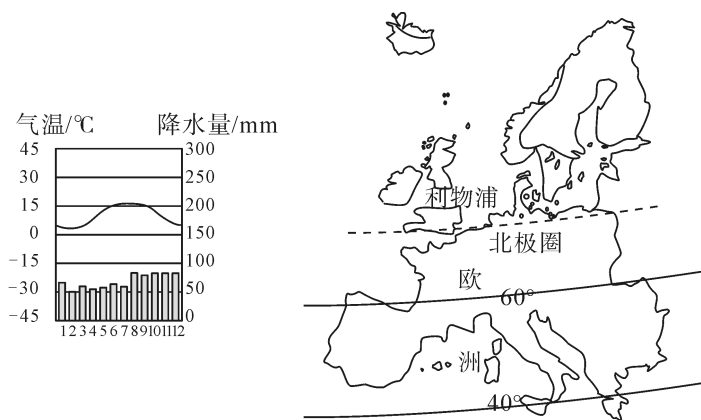
- A. 阳光海岸,沙滩椰林 B. 幽深的峡湾,午夜的太阳
C. 阿尔卑斯山的湖光山色 D. 塞纳河畔高耸的埃菲尔铁塔

17. 海峡是海洋运输的重要通道。下列表示直布罗陀海峡的是 ()



- A. 甲 B. 乙 C. 丙 D. 丁

读图,回答 18—19 题。



18. 下列描述符合欧洲地理位置特征的是 ()

- ①主要位于北温带 ②有北回归线穿过 ③西临太平洋 ④位于亚欧大陆西部
A. ①③ B. ②④ C. ①④ D. ②③

19. 利物浦的气候特征是 ()

- A. 终年寒冷干燥 B. 终年高温多雨
C. 终年炎热干燥 D. 终年温和湿润

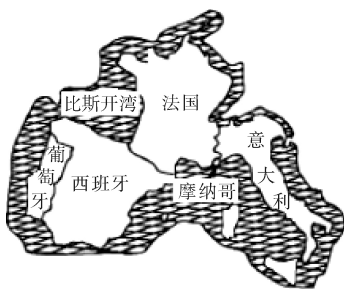
欧洲西部是指欧洲的西半部,是近代科学技术发展最早的地区。结合所学知识,完成 20—21 题。

20. 有关欧洲西部自然地理特征的叙述,正确的是 ()

- A. 北部深入北极圈以北 B. 地形多山地,平原只分布在南北两侧
C. 以地中海气候为主 D. 河流短小,水流湍急,航运价值低

21. 世界上发达国家最集中的地区是 ()
 A. 北美洲 B. 亚洲东部 C. 大洋洲 D. 欧洲西部
22. 欧洲联盟是一个 ()
 A. 世界性组织 B. 石油输出国组织
 C. 区域性国际组织 D. 世贸组织
23. 下列著名旅游资源与其所在国家的搭配,不正确的是 ()
 A. 埃菲尔铁塔——法国 B. 风车——荷兰
 C. 斗牛——意大利 D. 峡湾风光——挪威

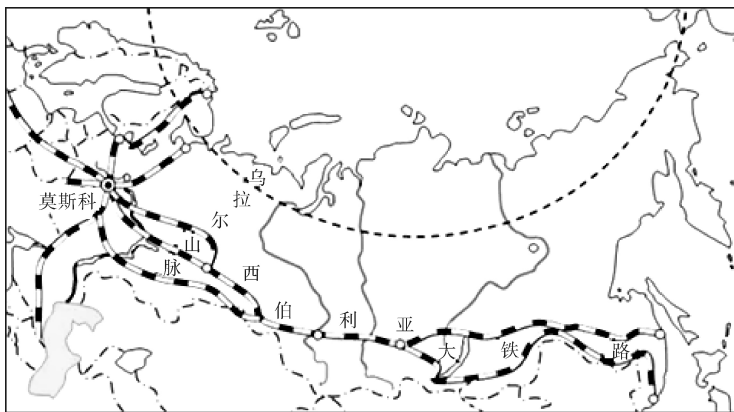
2019年3月,国家主席习近平首访欧洲意大利、摩纳哥、法国。结合下图,回答24—25题。



意大利、摩纳哥、法国简图

24. 关于意大利、摩纳哥、法国共同特征叙述正确的是 ()
 A. 官方语言为英语 B. 居民大多信仰伊斯兰教
 C. 以温带海洋性气候为主 D. 属于地中海沿岸的国家
25. 欧洲西部旅游业发达,其发展旅游业的优势条件有 ()
 ①丰富多样的旅游资源 ②接待能力不足 ③交通便利 ④居民收入低
 A. ①② B. ①③ C. ②④ D. ③④

看电影也能学地理,跟着《囡妈》一起游俄罗斯。该故事发生在北京—乌兰巴托—莫斯科的国际列车上。如图为俄罗斯铁路线分布示意图。读图完成26—27题。



往乌兰巴托、北京

26. 电影中的国际列车进入俄罗斯境内一路西行,沿途先后看到的景观是 ()



①贝加尔湖



②亚欧界碑



③鄂毕河



④首都风光

- A. ①②③④ B. ①③②④ C. ②③①④ D. ③②④①

27. 西伯利亚大铁路沿俄罗斯南部修建的主要原因是 ()

- ①地形平坦 ②气温较高 ③资源、工业区集中 ④人口、城市较多

- A. ①②③ B. ①③④ C. ①②④ D. ②③④

2019年12月2日下午17时,俄东线天然气管道正式投产通气。读下图完成28—30题。



28. 天然气相对于煤炭、石油的优点是 ()

- ①开采更容易 ②运输成本低 ③清洁且对环境影响小 ④成为家庭使用的能源更便利

- A. ①②③ B. ①②④ C. ①③④ D. ②③④

29. 中俄天然气东线管道在俄罗斯境内向北弯曲,最主要原因是 ()

- ①完全绕过冻土区域,便于施工 ②避免经过蒙古国境内 ③北部天然气产量大,气源充足 ④保护贝加尔湖地区的生态环境

- A. ①② B. ②③ C. ①④ D. ③④

30. 中俄天然气合作开发对中俄两国的影响,不正确的是 ()

- A. 加强俄罗斯能源开发力度,促进俄罗斯经济发展
B. 减轻俄罗斯能源压力
C. 增加我国清洁能源比重,降低对大气环境污染程度
D. 缓解我国能源供需矛盾,有利于国家能源安全

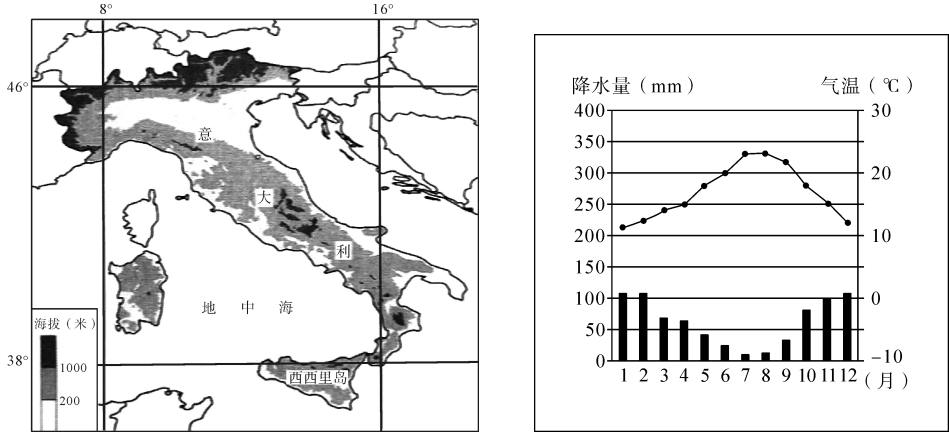
二、综合题(共 40 分)

31. 阅读图文材料,回答下列问题。(20 分)

材料一 柑橘是世界种植面积最大的水果,北半球主要分布在北纬 35°以南的区域,一般气温低于-8℃会冻伤,高于 37℃则停止生长。

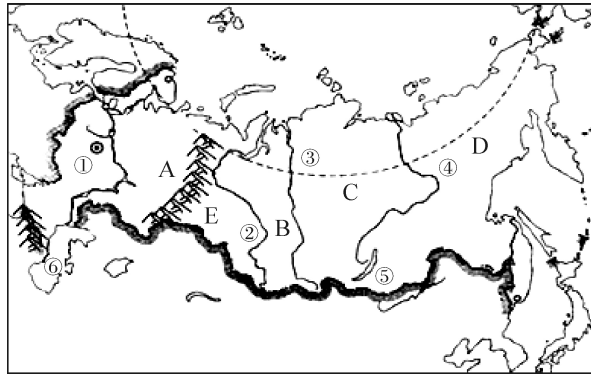
材料二 血橙是柑橘的一个品种,我国血橙主产区在四川、江西,一般 12 月上市。意大利西西里岛的血橙是世界上含维生素 C 最丰富的橙子,它一般 2 月初上市。首批进入中国市场的西西里血橙于 2019 年 2 月 5 日装箱,3 月 19 日运抵中国。

材料三 意大利示意图和西西里岛气温曲线与降水量柱状图



- (1)西西里岛位于意大利南端的_____海之中,38°N穿过该岛的_____部。(4 分)
- (2)右图的气候类型为_____,其气候特征是_____,
主要分布在欧洲的_____。(6 分)
- (3)根据气候特征判断,除了橙子,意大利还有哪些特产? 举两例。(4 分)
- (4)请简要列出西西里血橙进入中国市场的有利条件。(6 分)

32. 读俄罗斯图,回答问题。(20 分)



- (1) 俄罗斯地跨欧亚两大洲,首都是①_____ ;位于其境内的两大洲的分界线是_____ 山脉、_____ 河,位于北冰洋沿岸的终年不冻港是_____,因为有北大西洋暖流流经。(8 分)
- (2) 从河流②③④的流向,判断俄罗斯在亚洲部分地势特征是_____。(2 分)
- (3) 俄罗斯大部分地区属于_____ 气候。(2 分)
- (4) 俄罗斯国土面积居世界第一,但是很多农产品需要进口,主要原因是_____。(2 分)
- (5) 试分析俄罗斯的人口和工业主要分布在其国土的亚洲部分还是欧洲部分? 并分析其原因。(6 分)