

座号: _____

姓名: _____

班级: _____

学校: _____

题

答

题

不

可

线

封

密

2020—2021学年度第二学期
七年级地理(下册)测试卷(一)

(第七章 亚洲)

题号	一	二	合计
得分			

一、单项选择题(每小题 2 分,共 60 分)

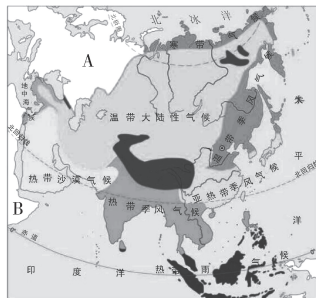
题号	1	2	3	4	5	6	7	8	9	10	11	12	13	14	15
答案															
题号	16	17	18	19	20	21	22	23	24	25	26	27	28	29	30
答案															

读亚洲大陆沿 30°N 地形剖面示意图(左图)、亚洲大陆沿 80°E 地形剖面示意图(右图),回答下列问题。



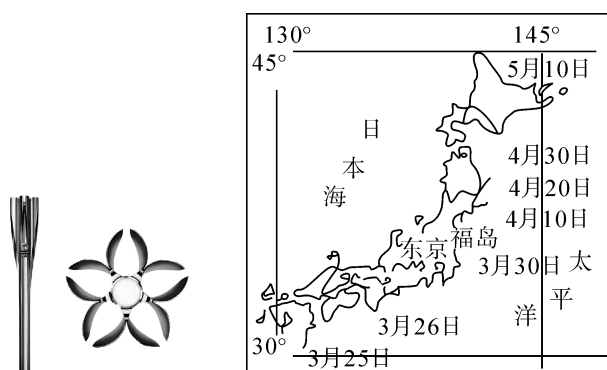
1. 亚洲地势特点是 ()
- A. 西部高,中部低 B. 东部高,西部低
- C. 中部高,四周低 D. 中部低,四周高
2. 下列关于亚洲河流特征叙述正确的是 ()
- ①河流短小湍急 ②呈放射状向四周奔流入海 ③河网稠密,水流平缓 ④内流区面积广大
- A. ①② B. ③④ C. ②④ D. ③④

读亚洲气候类型分布图,完成 3—4 题。



3. 与亚洲相邻的 A、B 两大洲分别是 ()
- A. 欧洲 北美洲 B. 非洲 南美洲
- C. 欧洲 非洲 D. 非洲 大洋洲
4. 亚洲气候的复杂多样,其中分布最广的气候类型是 ()
- A. 热带雨林气候 B. 温带大陆性气候
- C. 热带季风气候 D. 地中海气候
5. 夏季风强的年份,亚洲东部和南部可能出现的灾害是 ()
- A. 旱灾 B. 洪涝 C. 地震 D. 梅雨

日本被誉为樱花之国,东京奥运会传递的火炬设计灵感源自樱花。下面左图为日本火炬设计图;右图为日本樱花开放时间。读图文材料回答 6—8 题。

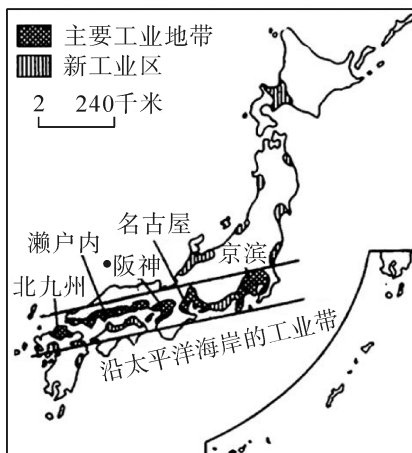


6. 关于日本位置的表述正确的是 ()
- A. 日本东临日本海,西临太平洋
- B. 日本大部分位于北温带,四季分明
- C. 福岛位于北海道岛上
- D. 因处在美洲板块和太平洋板块交界处,所以地震火山频发
7. 为了感受樱花的魅力,小明预计在明年 5 月初去日本看樱花,应去 ()
- A. 本州岛 B. 北海道岛
- C. 九州岛 D. 四国岛
8. 在樱花盛开的时节,日本人通常都是与家人和朋友一起到公园里一边观赏美丽的樱花,一边享用美味的赏花便当。下列食物中最不可能出现在赏花便当中的是 ()
- A. 生鱼片 B. 寿司 C. 烤全羊 D. 紫菜包饭

日本国土面积狭小,资源短缺,主要发展加工贸易经济。阪神工业区是日本最大的钢铁工业中心,如图示意日本主要工业中心图,据此完成 9—11 题。

9. 神户钢铁企业临港布局的主要目的是 ()

- A. 利用港区的廉价劳动力
- B. 利于海运和高铁“新干线”的衔接
- C. 接近国内主要消费市场
- D. 方便原料燃料的进口与产品的出口



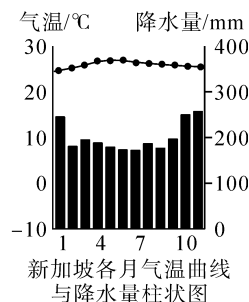
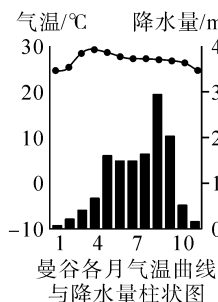
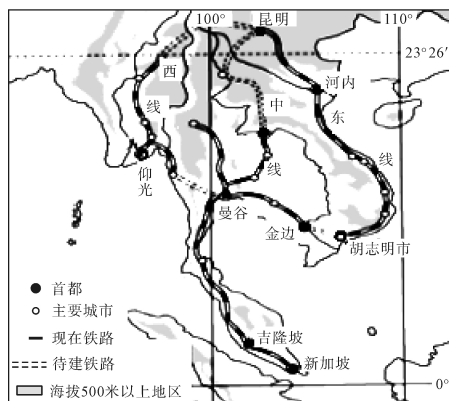
10. 近些年来日本传统加工贸易型工业不断向海外转移,具体表现为 ()

- A. 纺织工业向原料丰富的越南等地迁移
- B. 汽车工业向劳动力廉价的美国迁移
- C. 家电制造工业向市场广阔的中国迁移
- D. 造船工业向劳动力丰富的东南亚迁移

11. 20 世纪 80 年代至今,日本在美国投资已达 1 万亿美元,雇佣了近 7 万美国人,涉及钢铁、汽车、电力及电子等工作部门。对日本采取这种发展方式原因的描述,不正确的是 ()

- A. 日本国内资源贫乏
- B. 日本土地供应紧张,国内需求减少
- C. 日本人口老龄化严重,劳动力短缺
- D. 美国劳动力资源丰富,价格低廉

中国和泰国重启“大米换高铁”合作,即泰国用大米、橡胶等农产品支付中国高铁投资建设的一部分费用。这也是中国高铁“走出去”的重要事件之一。读下图,完成 12—14 题。



12. 泰国 ()

- A. 地处中纬地区,位于东南亚地区的南部
- B. 首都位于马来半岛,河流沿岸水运便利

C. 位于热带季风气候区,冬季寒冷干燥

D. 地势西北高东南低,河流水量大

13. “大米换高铁”的作用有 ()

①提高泰国大米等农产品出口量,促进生产

②增加泰国农民收入,提高生活水平

③缩短泰国通勤时间,提高运输效率

④加强中泰联系并惠及东南亚诸国

A. ①②

B. ③④

C. ①③④

D. ①②③④

14. 新加坡属于什么气候类型 ()

A. 热带季风气候

B. 热带雨林气候

C. 温带季风气候

D. 热带沙漠气候

中东被称为“三洲五海之地”,地理位置优越,石油资源丰富。如图为中东石油产区分布示意图,读图回答 15—16 题。

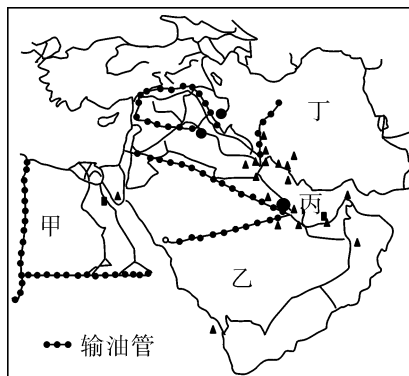
15. 图示区域人种、语言和宗教分别是 ()

A. 黑种人 阿拉伯语 伊斯兰教

B. 黄种人 汉语 佛教

C. 白种人 阿拉伯语 伊斯兰教

D. 白种人 英语 基督教



16. 中东地区成为世界热点地区的主要原因不包括 ()

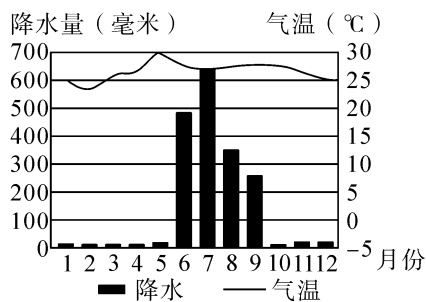
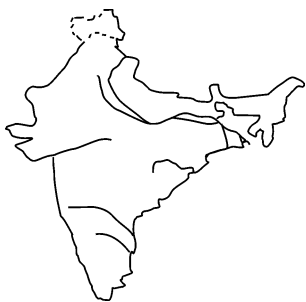
A. 宗教

B. 石油

C. 粮食

D. 淡水资源

印度人口居世界第二位,且还在以较快的速度增长。读印度示意图、印度某地气候资料图,回答 17—19 题。



17. 该气候的特点是 ()

A. 冬冷夏热,全年降水少

B. 全年高温多雨,季节变化小

C. 夏季高温多雨,冬季温和少雨

D. 全年高温,分明显的旱雨两季

座号：_____ 姓名：_____ 班级：_____ 学校：_____

18. 下列措施，利于减轻该国气象灾害的是 ()

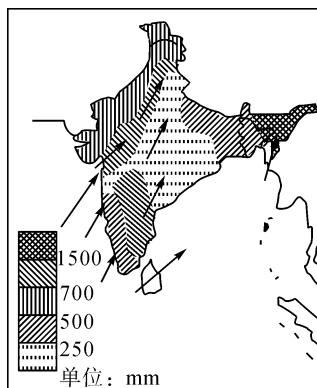
- A. 修建水利设施 B. 完善交通设施
C. 种植耐寒作物 D. 开拓国际市场

19. 印度人口的优势是 ()

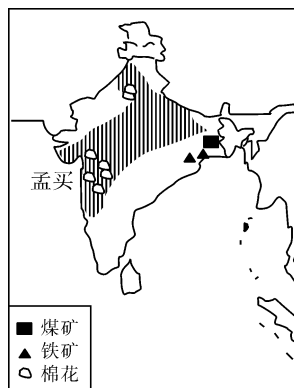
- ①消费市场大 ②劳动力丰富，价格低廉 ③人均耕地多，劳动生产率低 ④青少年比例高，老龄化程度低

- A. ①②③ B. ①②④ C. ①③④ D. ②③④

南亚地区旱涝灾害频发，给农业生产造成不同程度的损害。读图，完成 20—21 题。



南亚雨季降水量分布



南亚局部地区部分物产分布

20. 南亚地区旱涝灾害频发，主要受 ()

- A. 东南季风影响 B. 东北季风影响
C. 西南季风影响 D. 西北季风影响

21. “南亚局部地区物产分布”图上阴影部分所示区域种植的粮食作物主要是 ()

- A. 水稻 B. 棉花 C. 小麦 D. 青稞

猪笼草是一种能捕食飞虫的植物。图 1 为猪笼草在亚洲的分布示意图，图 2、3 分别为新加坡、曼谷气温年变化曲线和逐月降水量图。据此完成 22—24 题。



图 1

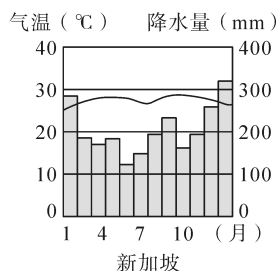


图 2

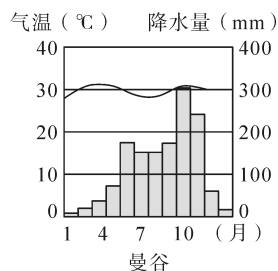


图 3

22. 猪笼草主要分布在 ()

- A. 西亚 B. 南亚 C. 东南亚 D. 东亚

23. 猪笼草分布区的主要气候类型有 ()

①热带雨林气候 ②热带季风气候 ③温带季风气候 ④温带大陆性气候

A. ①② B. ①③ C. ①④ D. ②③

24. 根据猪笼草在亚洲的分布特点,推测适宜猪笼草生长的气候条件可能是 ()

A. 气温低,年降水量少 B. 气温高,年降水量少
C. 气温低,年降水量多 D. 气温高,年降水量多

25. 关于亚洲自然地理特征的叙述,正确的是 ()

A. 以高山高原为主,平均海拔居各洲之首
B. 季风气候显著,包括热带、亚热带和温带三种季风气候类型
C. 大河都发源于中部高山地带,流入太平洋和印度洋
D. 湖泊分布广泛,有世界最大的淡水湖

26. 下列河流中流经国家最多的是 ()

A. 伊洛瓦底江 B. 湄公河 C. 湄南河 D. 红河

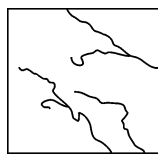
27. 下列示意图能够正确反映亚洲河流流向的是 ()



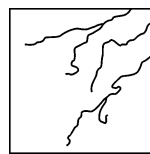
A



B



C

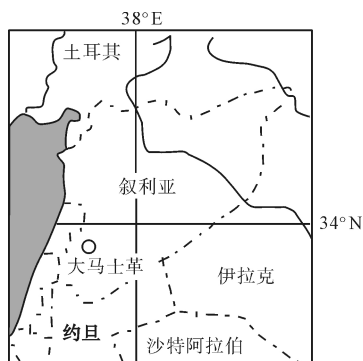


D

28. 关于世界第一大洲描述错误的是 ()

A. 是世界上面积最大的大洲 B. 是世界上跨经度最广的大洲
C. 是世界上跨纬度最广的大洲 D. 是世界上东西距离最长的大洲

位于亚洲西部的叙利亚是中东主要的石油出口国。2015 年有超过 400 万叙利亚人逃往国外,在土耳其境内的 180 多万叙利亚人是世界上最大的难民群体。据此完成 29—30 题。



29. 影响叙利亚人口大量迁移到国外的最主要因素是 ()

A. 气候 B. 经济 C. 战争 D. 教育

30. 叙利亚西部沿海地区分布的气候类型是

()

A. 热带沙漠气候

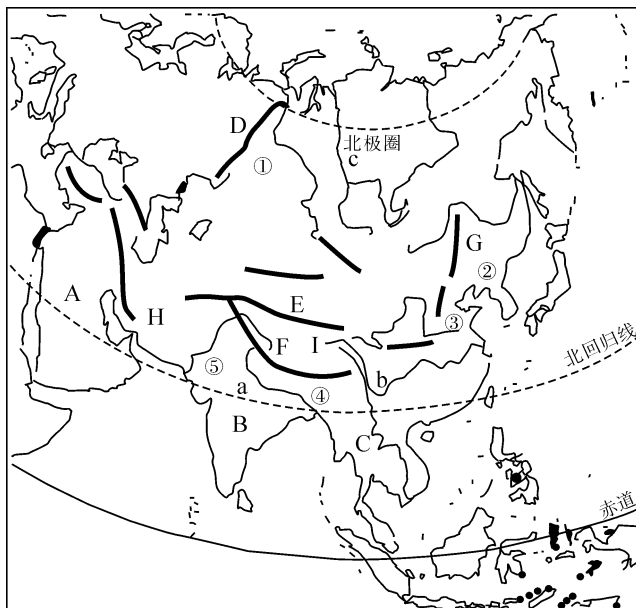
B. 地中海气候

C. 温带大陆性气候

D. 温带海洋性气候

二、综合题(共 40 分)

31. 读亚洲图,把图中字母和数码所代表的地理事物名称填写在横线上。(20 分)



(1) 写出图中字母代表的地理事物的名称。(8 分)

半岛:A. _____, B. _____。

山脉:F. _____。高原:I. _____。

(2) 中南半岛的地势特征是_____。(4 分)

(3) 试分析 C 半岛地区成为世界主要稻米产区的原因。(8 分)

地形方面:河流下游冲积平原及河口_____地带,地势低平,土壤肥沃。

气候方面:这里属于_____气候,水热条件充足,气候条件适宜水稻的生长。

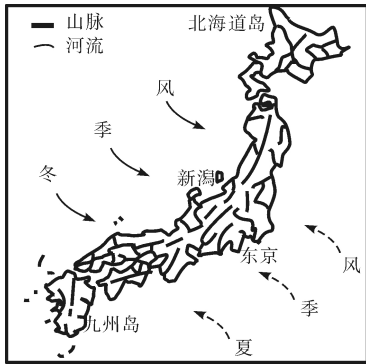
劳动力方面:_____。

生活习惯:长期以来,_____是当地居民的主要粮食。

32. 读图文材料,完成下列要求。(20 分)

材料一 日本是一个多山的岛国,面积狭小,森林广布。经济发达,工业发展水平高。靠近日本海一侧以及从本州北部到北海道地区,是大雪经常光顾的地区,日语中称为“豪雪地帯”。“合掌造”是指日本一种特殊的民宅形式,特色是以茅草覆盖的屋顶,呈人字型的屋顶如同双手合十一般,于是就被称为“合掌”。

材料二 左图为日本本土山河分布示意图,右图为豪雪地带的合掌造民居景观图



(1) 日本的夏季风主要来自_____洋,其沿岸地区降水主要集中在_____季节。(4 分)

(2) 日本河流众多,但流程都不长。简析其自然原因。(4 分)

(3) 日本工业高度发达,农业尤其是种植业在国家经济中地位相对稍弱。试分析日本发展种植业的不利条件。(4 分)

(4) 日本乡村传统民居多为木质结构,用轻便木材作为原料。请结合图文材料,并运用所学知识分析原因。(4 分)

(5) 结合图文材料,分析造成日本海沿岸冬季多降雪的原因。(4 分)