

座号：_____
姓名：_____
班级：_____
学校：_____

2020—2021学年度第二学期
七年级地理(下册)测试卷(五)

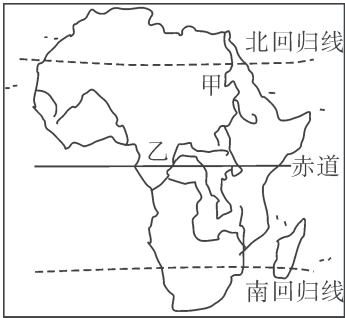
(第十章 非洲与大洋洲 第十一章 极地地区)

题号	一	二	合计
得分			

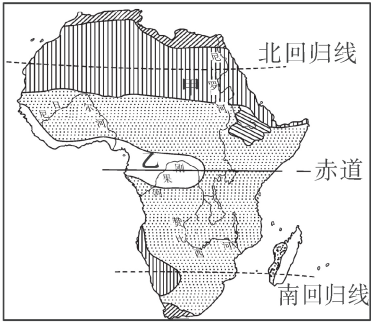
一、单项选择题(每小题 2 分,共 60 分)

题号	1	2	3	4	5	6	7	8	9	10	11	12	13	14	15
答案															
题号	16	17	18	19	20	21	22	23	24	25	26	27	28	29	30
答案															

读非洲河流分布图和非洲气候类型分布图,完成下列问题。



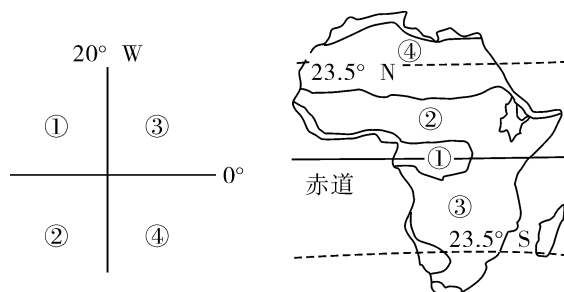
非洲河流分布图



非洲气候类型分布图

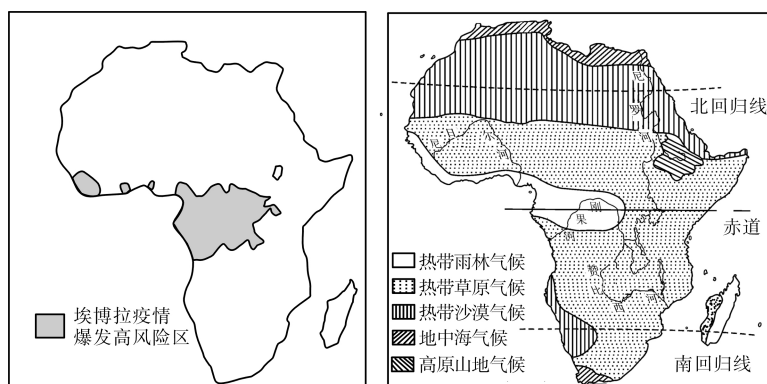
1. 非洲大部分位于五带中的 ()
- A. 北温带 B. 南温带 C. 热带 D. 寒带
2. 关于非洲气候的叙述,正确的是 ()
- A. 以温带气候类型为主 B. 刚果盆地以热带沙漠气候为主
- C. 东非高原以热带雨林气候为主 D. 气候类型大致南北对称分布
3. 对甲、乙两河的描述,正确的是 ()
- A. 甲河注入红海 B. 乙河是世界第一长河
- C. 甲河主要发源于热带草原气候区,下游会定期泛滥 D. 乙河流经热带雨林气候区,水量世界最大

读图回答下列问题。



4. 左上图中,①②③④地均位于大西洋两岸的陆地,则④大洲是 ()
- A. 欧洲 B. 南美洲 C. 非洲 D. 北美洲
5. 某地全年高温,7月干燥草木枯黄;1月湿热,植被茂盛。该地位于右上图中 ()
- A. ①地 B. ②地 C. ③地 D. ④地

西非埃博拉病毒,从2014年2月开始爆发于撒哈拉以南非洲。下图为埃博拉疫情爆发高风险区地图(图中颜色较深部分),完成下列各题。



6. 埃博拉疫情爆发高风险区所在的主要气候类型是 ()
- A. 热带雨林气候 B. 热带草原气候
- C. 热带沙漠气候 D. 地中海气候
7. 观察非洲气候类型分布图,有关非洲的叙述错误的是 ()
- A. 赤道横穿非洲中部
- B. 非洲北部有地中海气候分布
- C. 撒哈拉沙漠是世界最大的沙漠
- D. 马达加斯加岛东部是热带草原气候
8. 目前撒哈拉以南非洲社会经济虽然发展较快,但其社会经济的可持续发展还面临许多问题,主要有 ()

①人口增长过快 ②粮食短缺 ③矿产资源短缺 ④水土流失、土地荒漠化

A. ①②③

B. ①②④

C. ①③④

D. ②③④

9. 关于撒哈拉以南非洲说法错误的是

()

A. 以黑色人种为主

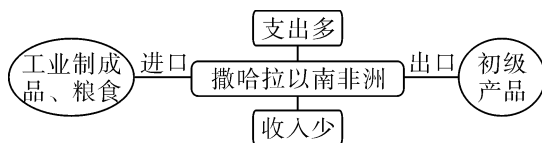
B. 努力发展民族工业,以改变长期殖民统治造成的经济依赖于单一产品的局面

C. 以热带气候为主

D. 人们酷爱乳产品和牛羊肉,称牧草为“绿色金子”

10. 如图所反映的是南非所在地区多数国家对外贸易的特点。下列叙述正确的是

()



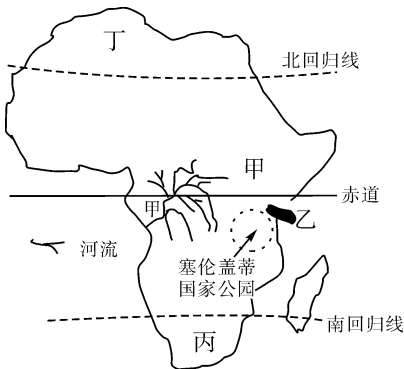
A. 制造业发达,从事制造业的人口多

B. 粮食产量高,出口量大

C. 在国际贸易中,处于有利地位

D. 许多国家的经济以出口初级产品为主

下图为非洲示意图,据图回答下列各题。



11. 撒哈拉以南非洲,大多数居民属于

()

A. 黄种人

B. 白种人

C. 黑种人

D. 混血种人

12. 坦桑尼亚塞伦盖蒂国家公园是世界著名的天然野生动物园。在此动物园我们找不到的动物是

()

A. 狮子

B. 大象

C. 长颈鹿

D. 牦牛

13. 关于甲河流特点的叙述,正确的是

()

A. 水能资源丰富

B. 世界第一长河

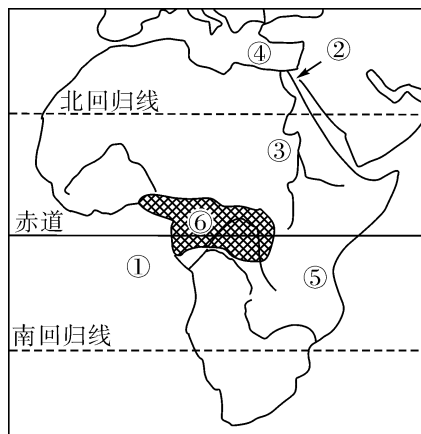
C. 含沙量大

D. 结冰期长

14. 7 月份的时候,非洲草原的动物应该在下列哪处 ()

- A. 甲处 B. 乙处 C. 丙处 D. 丁处

读非洲图,回答下面问题。



15. 非洲的临海①是 ()

- A. 太平洋 B. 大西洋 C. 印度洋 D. 北冰洋

16. ②是 ()

- A. 巴拿马运河 B. 直布罗陀海峡 C. 白令海峡 D. 苏伊士运河

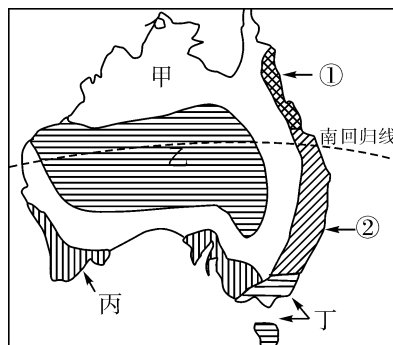
17. 下列各地中,气候的垂直地带性最明显的是 ()

- A. ② B. ③ C. ⑤ D. ⑥

18. 小微暑假随父母去非洲旅游,到了⑥地时会看到 ()

- A. 很热,滴雨未下,满眼是一望无际的沙漠
B. 阳光明媚,种植着葡萄、柑橘等作物
C. 很闷热,几乎天天下雨,到处是茂密的森林
D. 正值冬季,千里冰封,万里雪飘

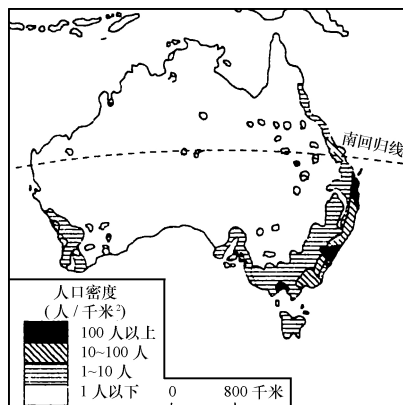
读澳大利亚气候类型分布图,完成下面问题。



19. 图中①②气候类型呈狭长分布的主要影响因素是 ()
- A. 纬度因素 B. 西风的影响
- C. 地形因素 D. 人类活动的影响

20. 某农场主计划从英国引种多汁牧草,应选择的地点是 ()
- A. 甲 B. 乙 C. 丙 D. 丁

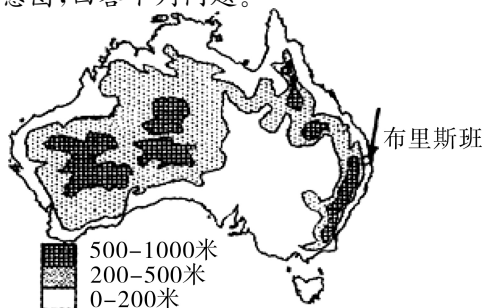
读澳大利亚人口和城市分布图,回答下面问题。



21. 从地球上的五带分布来看,澳大利亚地处 ()
- A. 热带和北温带 B. 北温带和北寒带
- C. 南温带和南寒带 D. 热带和南温带
22. 澳大利亚主要人种及通用语言是 ()
- A. 白种人 俄语 B. 白种人 英语
- C. 黄种人 汉语 D. 黑种人 拉丁语

23. 澳大利亚的人口和城市主要分布在 ()
- A. 大陆内部地区 B. 东南沿海地区 C. 西部高原地区 D. 大自流盆地
24. 决定澳大利亚人口分布的主要因素是 ()
- A. 纬度因素 B. 海陆位置 C. 气候因素 D. 矿产分布

读澳大利亚地形示意图,回答下列问题。

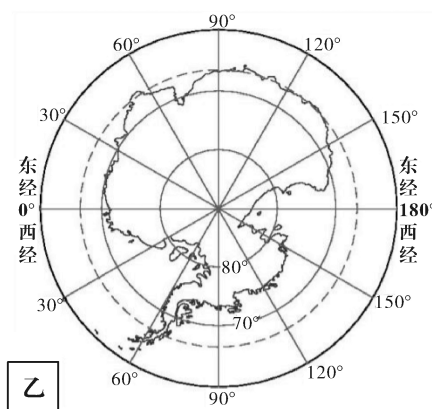
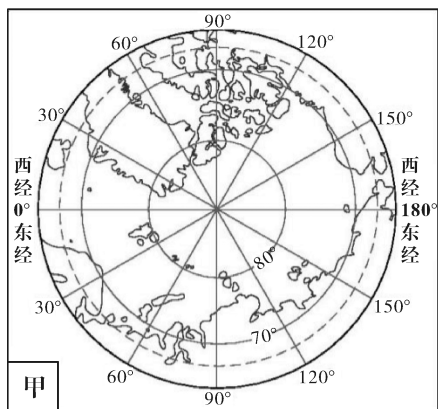


25. 布里斯班风光秀丽。由图推断,它东临的大洋是 ()
- A. 北冰洋 B. 太平洋
C. 大西洋 D. 印度洋

26. 根据图判断,下列描述最符合澳大利亚地势特征的是 ()
- A. 南北高,中间低 B. 中间高,四周低
C. 南部高,北部低 D. 东西高,中间低

27. 现在澳大利亚的经济支柱是 ()
- A. 制造业 B. 工矿业 C. 农牧业 D. 服务业

我国首艘自主建造的极地科学考察破冰船——“雪龙2号”于2019年7月11日在上海顺利交付,这标志着我国极地考察现场保障和支撑能力取得了新突破。读两极地区图,完成下列问题。



28. 甲图地区中 ()

- A. 有世界最为丰富的淡水资源
B. 有常住的白色人种——因纽特人
C. 蕴藏着丰富的石油、天然气等矿产资源
D. 降水量远少于乙地区

29. 乙图中按顺时针方向的地理事物是 ()

- A. 印度洋、大西洋、太平洋 B. 大西洋、印度洋、太平洋
C. 太平洋、印度洋、大西洋 D. 大西洋、太平洋、印度洋

30. 乙地区较甲地区的平均气温低,其原因是 ()

- ①该大洲极夜时间比北极地区长一个多月
②该大洲终年被冰雪覆盖,对阳光反射更强烈,吸收的热量更少

③该大洲的纬度位置比北极地区更高

④该大洲的地势比北极地区更高

A. ①③

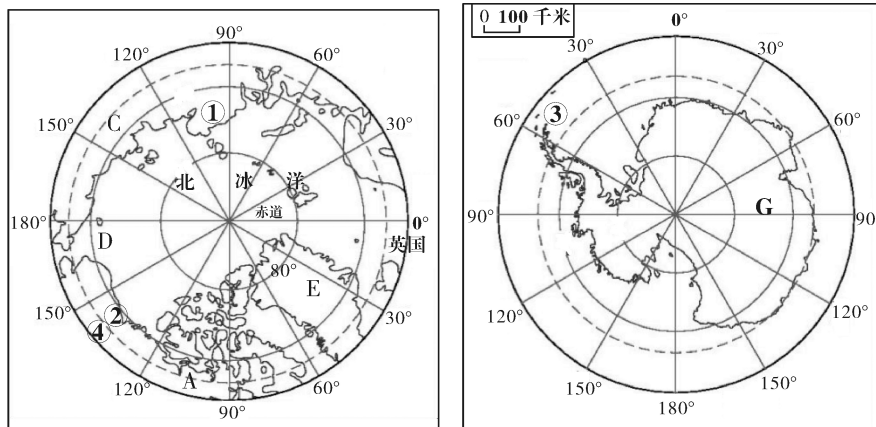
B. ②③

C. ②④

D. ①④

二、综合题(共 40 分)

31. 读极地地区图,完成以下要求。(20 分)



(1)写出上图字母及数字代表的地理事物的名称。(14 分)

大洲:A. _____,C. _____,G. _____。

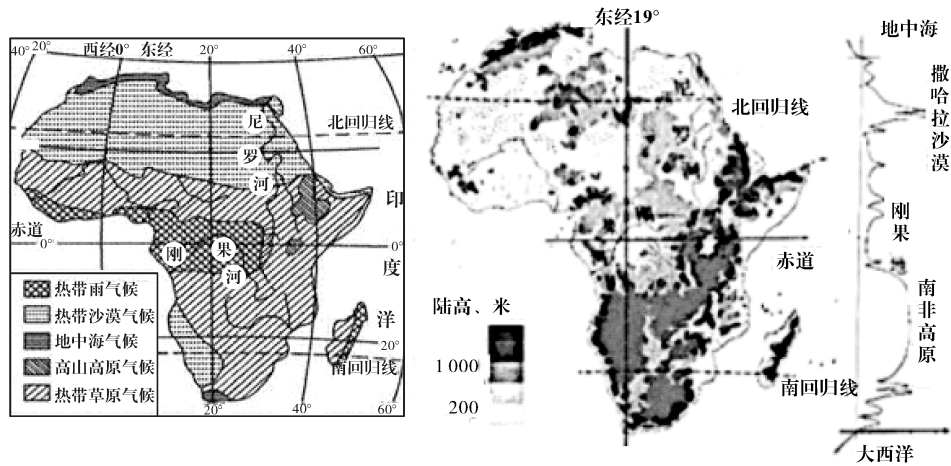
海峡:D. _____;岛屿 E. _____;

国家:② _____;大洋:③ _____。

(2)由于全球变暖,北极海域冰层减少,严重影响北极地区生态环境。在日常生活中,你可以注意哪些事情缓解这种情况?(至少写两点)(4 分)

(3)我国在南极建立考察站一般都选择 1、2 月份,请简述理由。(2 分)

32. 区域学习重在方法,让我们运用学习大洲的方法来认识非洲。左图为非洲气候类型分布图,右图为非洲地形图及沿东经 19° 地形剖面图。阅读图文资料,回答下列问题。
(20 分)



- (1) 定位置→找特殊纬线→大部分位于南回归线与_____之间,大部分位于东西半球中的_____。(4 分)
- (2) 析气候→读左图→气候类型以_____带气候为主,具有_____分布的规律,其中分布最广的气候类型是_____。(6 分)
- (3) 看地形→读地形图及地形剖面图→地形以_____、盆地为主。沿东经 19° 的地形剖面图可知地势特征_____。(4 分)
- (4) 撒哈拉以南非洲的许多国家,只生产和出口一种或者几种经济作物和矿产品,进口工业制成品,这种“单一商品经济”在国际贸易中处于不利地位。为改变这种局面,请你帮助这些国家提出发展建议。(6 分)