

2020-2021 学年度第二学期小学期末测试

一年级数学试卷

题号	一	二	三	四	五	六	七	总分
得分								

学 校

班 级

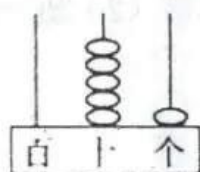
姓 名

座 号

密封线内不要答题

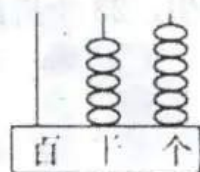
一、我会填（每空1分，共20分）

1. 看图写数和读数。



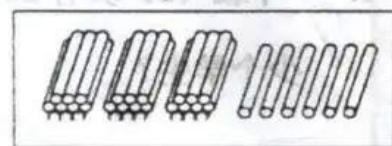
写作：()

读作：()



写作：()

读作：()



写作：()

读作：()

2. 与70相邻的两个数是()和()。

3. 从右边起，第一位是5，第二位是3，这个数是()。

4. 100表示()个一，也可以表示()个十。

5. 比16多4的数是()。

6. 50角=()元

70分=()角

1元-4角=()角

2角+8角=()元

7. 用 折成一个 ，数字“1”的对面是数字()。

8. 找规律，填一填。 2、4、6、8、()、()、()。

二、我会选。(将正确答案的序号填在括号里)(每题2分,共10分)

1. 小丽有25朵红花,黄花比红花多得多,黄花可能有()朵。

- ① 16 ② 28 ③ 80

2. 有45朵花,如果每10朵做一个花环,最多能做()个花环。

- ① 3 ② 4 ③ 5

3. 由5个十和4个一组成的数是()。

- ① 54 ② 45 ③ 50

4. 下面最接近70的数是()。

- ① 62 ② 78 ③ 68

5. 小菲的左边有5人,她的右边有9人,这一排一共有()人。

- ① 14 ② 15 ③ 16

三、我会算。(共30分)

1. 直接写出得数。(10分)

$44-4=$

$15-9=$

$30-20=$

$24+6=$

$85-5=$

$32-2=$

$60+6=$

$76-70=$

$89-9=$

$30+28=$

2. 比较大小。(8分)

$100 \bigcirc 98$

$36 \bigcirc 30+6$

$4 \text{元} \bigcirc 40 \text{分}$

$9 \text{元} 4 \text{角} \bigcirc 10 \text{元}$

3. 计算。(12分)

$93-(38-30)=$

$66-(17+3)=$


$5+70+10=$

$78-50+30=$

$80-(50-20)=$


$56-6-40=$

四、数一数。(共 8 分)



○ 有 () 个, □ 有 () 个,
△ 有 () 个, □ 有 () 个。

五、某市今年 2 月份的天气情况如图:(共 9 分)



1. 根据上图填写下表。

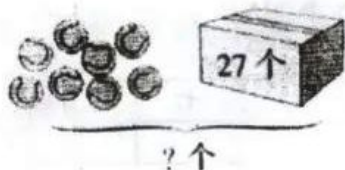
天气					
	晴	多云	阴	雨	雪
天数					

2. 这个月 () 的天数最多, 这个月 () 的天数最少。

3. 比 少 () 天; 比 多 () 天。

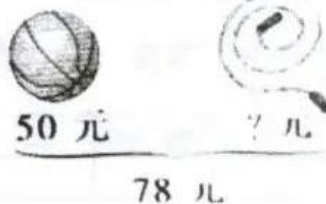
六、看图列式计算。(共8分)

1.



$$\square \bigcirc \square = \square \quad (\quad)$$

2.



$$\square \bigcirc \square = \square \quad (\quad)$$

七、用数学。(共15分)

1. 一年级(2)班有20个女生,23个男生,一年级(2)班一共有多少个学生?

答:一年级(2)班一共有 个学生。

2. 有24个苹果,小朋友们吃了一些后还剩6个,吃了多少个?

答:吃了 个。

3. 一年级(1)的图书角有科技书16本,借出8本后,又新购进6本,现在有多少本?

答:现在有 本。

密封线内不要答题