

2020-2021 学年度下期武侯区小学数学二年级下期

学业质量测评试题

(考试时间: 60 分钟)

题号	一	二	三	四	五	六	七	八	九	总分
得分										

一、计算。

1. 直接写得数。

$700 + 50 =$

$31 \div 5 =$

$4 \times 9 =$

$240 + 80 =$

$570 - 400 =$

$630 + 700 =$

$310 - 70 =$

$480 - 50 =$

$5100 + 200 =$

$600 + 300 =$

$900 - 500 =$

$340 + 30 =$

$250 + 300 =$

$1300 + 700 =$

$4400 - 400 =$

2. 用竖式计算下面各题。(带“☆”要验算)

$(1) 56 \div 8 =$

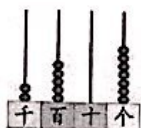
$(2) 60 \div 9 =$

$(3) 476 + 38 =$

$\star (4) 800 - 527 =$

二、填空。

1. 看图写数。



写作: \_\_\_\_\_

$2. 1 \text{ 小时 } 25 \text{ 分} = ( ) \text{ 分} \quad ( ) \text{ 米} = 4 \text{ 千米}$

$30 \text{ 毫米} = ( ) \text{ 厘米} \quad 80 \text{ 秒} = ( ) \text{ 分 } ( ) \text{ 秒}$



3. 在○里填上“>”“<”或“=”。

$$320 + 400 \bigcirc 320 + 40$$

$$7600 - 600 \bigcirc 7600 - 600$$

$$980 + 30 \bigcirc 30 + 980$$

$$800 - 70 \bigcirc 860 - 70$$

4. 计算“ $387 + 109 = ?$ ”时，( )位相加满十，向( )位进一。百位上计算的是( ) + ( ) = ( )。

5. 这枚回形针的长度是( )毫米。



6. 根据数的排列规律填数。

(1) 6350、6360、6370、( )、( )。

(2) 7700、7500、7300、( )、( )。

7. ( )里最大能填几？

( )  $\times 8 < 37$  用乘法口诀 ( )

$50 > ( ) \times 6$  ( )  $\times 7 < 41$

8. 按照玲玲每天跑步的米数，从大到小进行排列。

周一	周二	周三	周四	周五
700 米	730 米	760 米	860 米	1120 米


( )  $>$  ( )  $>$  ( )  $>$  ( )  $>$  ( )


三、判断题。(对的打√，错的打×)

1. 九千零五十，9和5之间有2个“0”。 ( )

2.  $33 \div 4 = 7 \dots \square$ ， $\square$ 里填5。 ( )

3. 爸爸的身高大约是17分米。 ( )


4.  正方形被挡住的角是直角。 ( )

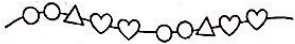
5.  还差5分就是4:00。 ( )



四、选一选。(把正确答案的字母填在括号里)

- 再添一根 ( ) 小棒就能拼成一个长方形。  

6厘米  
2厘米 

A. 4 厘米
B. 6 厘米
C. 7 厘米
-  按照这样的规律穿珠子, 第 15 颗是 ( )。  

A. ○
B. △
C. ♥
- 2547 中的“7”表示 ( )。  

A. 7 个十
B. 7 个百
C. 7 个一
- 100 米赛跑, 小军用了 13 秒跑完, 小勇用了 16 秒跑完, 小军比小勇 ( )。  

A. 慢 3 秒
B. 快 3 秒
C. 共 29 秒
- 缝纫店有 25 米布, 做一套衣服至少要用 3 米布, 最多能做 ( ) 套衣服。  

A. 9
B. 8
C. 7

五、认识时间。

1. 根据钟面写出时间



\_\_时\_\_分

:



\_\_时\_\_分

:




\_\_时\_\_分

:

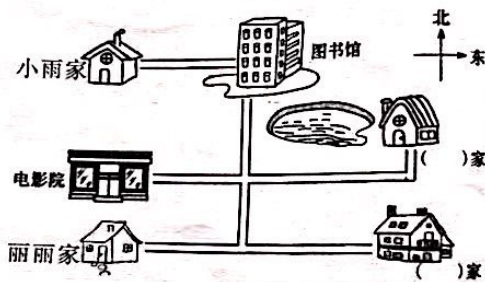


## 2. 写出经过时间。



放学路上用了\_\_\_\_分。

## 六、方向与位置。




乐乐家在我家的东面；乐乐的北面是小明家。



1. 根据丽丽的话，在括号里填出乐乐和小明的家。
2. 图书馆在小雨家的( )面，丽丽家在电影院的( )面，图书馆在电影院的( )方。

## 七、操作题。

1. 在方格纸上画长方形、正方形。



长方形

正方形

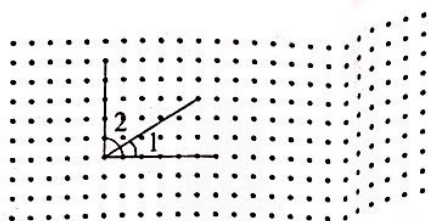
小学数学二年级(下)学业质量测评试题第4页(共6页)



扫描全能王 创建



2.



(1) 比较角的大小。( )  $>$  ( )

(2) 在点子图上画一个钝角  $\angle 3$ 。

## 八、解决问题。

1. 要把 60 枝玫瑰花全部插完, 至少需要几个这样的花瓶?  
每个花瓶最多插 9 枝




2. 每 4 根一样长的小棒搭一个正方形, 这样用 33 根小棒可以搭几个正方形, 还剩几根?

3. 蓝天小学一、二年级的学生要坐船去樱花岛植树。

一年级	197 人
二年级	196 人

限乘客 500 人



(1) 估计一下这艘船能不能把两个年级的学生都装下? 说明理由。

(2) 如果能, 还有多少个空座位?



4. 端午节到了，下面是二（1）班同学喜欢吃粽子记录单。



(1) 把记录的数量填在下面的表格里。（每个小朋友只能选一个口味）。

粽子种类	白水粽	豆沙粽	枣子粽	肉丁粽
人数（人）				

(2) 喜欢吃（ ）味的人数最多，喜欢吃（ ）味的人数最少。

(3) 一共调查了（ ）人。

九、先填空，再找出规律仿写两道。

$$102 = 99 + \square \quad 205 = 199 + \square \quad 508 = 499 + \square$$

仿写：  $\square = \square + \square$        $\square = \square + \square$

