

人
教
版

2021年春季学期素质教育综合测试卷(一)

一年级数学(综合)

总分: _____

(内容: 全册; 时间: 60分钟; 满分: 100分)

一、填一填。(第10题每空0.5分, 其余每空1分, 共34分)

1.



写作 () 一共有 () 根小棒 一共有 () 元钱
读作 ()

2. 10个十是 (); 68是由 () 个十和 () 个一组成。

3. 个位上是8, 十位上是4, 这个数是 ()。

4. 与50相邻的两个数是 () 和 ()。

5. 在32和40这两个数中, () 更接近37。

6. 找规律。

(1)

		60	61			65
--	--	----	----	--	--	----

(2) 😞 😞 😊 😞 😞 😊 😞 😞 😊 😞 _____

7. 1元 = () 角 78角 = () 元 () 角

8. 一个两位数, 个位上和十位上的数都是9, 这个数是 (), 比这个数多1的数是 ()。

9. 在□里填上合适的数。

$$30 + \square = 70$$

$$\square - 5 = 8$$

$$10 + 2 = \square + 4$$

10. 计算: $37 + 6 = \square$

想: 先算 $\square + 6 = \square$ 再算 $\square + \square = \square$

11. 比一比, 在○里填上“>”、“<”或“=”。

$74 + 5 \bigcirc 47 + 5$

$65 + 7 \bigcirc 7 + 65$

$63 - 9 \bigcirc 63 - 8$

$5 \text{元} \bigcirc 4 \text{元} 9 \text{角}$

12. 83 的 8 在 () 位上, 表示 ()。

二、直接写出得数。(每题 1 分, 共 23 分)

$74 + 6 =$

$53 - 30 =$

$94 - 60 =$

$87 - 50 =$

$16 - 7 =$

$45 - 9 =$

$83 - 20 =$

$15 - 8 + 54 =$

$13 - 5 =$

$25 + 8 =$

$28 + 30 =$

$53 - 9 - 7 =$

$35 - 5 =$

$37 + 60 =$

$14 - 6 =$

$73 - (3 + 17) =$

$56 + 7 =$

$34 - 20 =$

$24 - 8 =$

$38 + 4 + 50 =$

$9 \text{角} + 8 \text{角} = () \text{元} () \text{角}$

$5 \text{元} 6 \text{角} - 4 \text{元} = () \text{元} () \text{角}$

$5 \text{角} + 2 \text{元} 4 \text{角} = () \text{元} () \text{角}$

三、判断题。(对的在括号里打“√”, 错的打“×”)(5 分)

1. 53 读作五三。()

2. 88 中的两个“8”表示的意思不一样。()

3. 拼一个大正方形至少需要 8 个小正方形。()

4. 最大的两位数是 99, 最小的两位数是 9, 它们相差 90。()

5. 56 后面的 4 个数依次是: 57, 58, 59, 61。()

四、操作题。(5 分)

1. 右边的图形是长方体的哪个面? 用线连起来。(3 分)




下面

左面

后面

2. 画一画，下面这面墙缺少了（ ）块砖。（补1分，填1分，共2分）



五、选一选，请在正确答案下面打“√”。（3分）

1. 苹果有几个？



草莓 50 个



苹果比草莓少得多

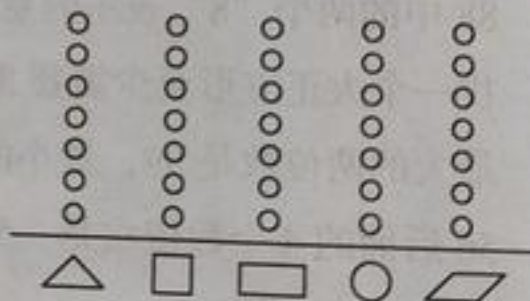
28 个	95 个	45 个

2. 小狗摘了多少个桃子？

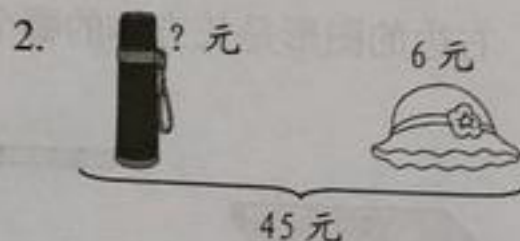
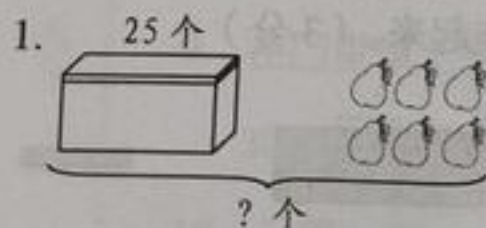


40 个	35 个	78 个

六、数一数，涂一涂。（5分）



七、看图列式计算。（5分）



$$\square \bigcirc \square = \square ()$$

$$\square \bigcirc \square = \square ()$$

八、解决问题。(共 20 分)

1. 草地上一群牛羊在吃草, 羊有 14 只, 牛有 5 只, 牛比羊少多少只?

(3 分)

$$\square \bigcirc \square = \square (\quad)$$

2. 超市运来 25 个西瓜和 9 个哈密瓜, 卖出了 6 个西瓜, 现在超市里还剩几个西瓜? (3 分)

$$\square \bigcirc \square = \square (\quad)$$

3. 黄老师给一(1)班 3 个组发口罩, 每组发 9 个, 一共发了多少个口罩? (4 分)

$$\square \bigcirc \square \bigcirc \square = \square (\quad)$$

4. (3 分)



数一数, 一共有 () 颗糖。圈一圈, 如果每 10 颗装一袋, 能装满 () 袋, 还剩 () 颗。

5.

文具盒	书包	水彩笔
9 元	40 元	? 元

(1) 黄老师买水彩笔和文具盒一共用去 29 元, 其中文具盒 9 元, 水彩笔多少钱? (3 分)

$$\square \bigcirc \square = \square (\quad)$$

(2) 小明拿 50 元去买一个文具盒和一个书包, 应找回多少钱? (4 分)

$$\square \bigcirc \square \bigcirc \square = \square (\quad)$$