

# 2021 年春季学期素质教育综合测试卷

## 一年级数学

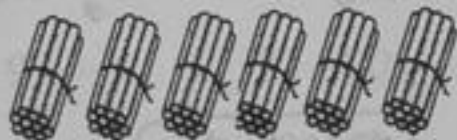
人  
教  
版

(内容: 全册; 时间: 60 分钟; 满分: 100 分)

总分: \_\_\_\_\_

### 一、想一想, 填一填。(每空 1 分, 共 31 分)

1.



共有 ( ) 捆小棒, 十位是 ( ), 个位是 ( ),  
是 ( ) 个十。 写作 ( )。

2. 写数: 三十五 ( ) 六十三 ( ) 七十二 ( )

3. 1 角 = ( ) 分 26 角 = ( ) 元 ( ) 角

4. 4 3 4 3 \_\_\_\_\_ 4 3

1 5 9 13 ( )

5. 用一张 10 元钱买右边一个皮球, 还找回 ( ) 元。



6. 58 这个数由 ( ) 十和 ( ) 个一组成。

7. 7 比 ( ) 少得多, 68 和 ( ) 同样多。

8. 在 ○ 里填上 “>”、“<” 或 “=”。

$$50 \bigcirc 40$$

$$39 + 40 \bigcirc 45$$

$$28 \bigcirc 82$$

$$10 - 2 - 3 \bigcirc 10 - (2 + 3)$$

学校

班别

姓名

座号

9. 40个苹果, 共有( )个十, 10个装一袋, 可以装( )袋。



10. 1张5角+3张1角=( )张1角。

11. 连续数一数, 再写出来。

87 \_\_\_\_\_

## 二、巧断案。(对的在括号里打“√”, 错的打“×”)(8分)

1. 比39多1是40。( )


2. 用  可以画图形 。( )


3. 鸡45只, 鸭20只, 鸭比鸡多15只。( )


4. 十个十个地数, 十个十是一百。( )


## 三、选一选。(把对的答案序号填在括号里)(8分)

1. 右图, 数一数, 第( )种形状最多。

① 

② 

③ 



2. 50个学生和3个老师, ( )瓶矿泉水够每人一瓶。

①55

②51

③50

3. 35是由( )组成。

①5个十和3个一

②3个十和5个一

③53个一

4. 第一筐的果比第二筐的果( )。

①多一些

②少得多

③多得多

④少一些



#### 四、我是小小神算手。(13分)

1.  $11 - 9 =$

$25 + 6 =$

$24 - 6 =$

$20 + 15 =$

$63 - 7 =$

$46 + 4 =$

$13 - 4 =$

$86 - 80 =$

$25 - 2 - 3 =$

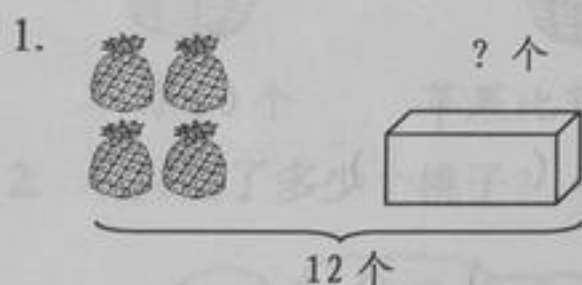
$5 \text{元} + 2 \text{元} 3 \text{角} =$

2.  $3 + 10 + 30 =$

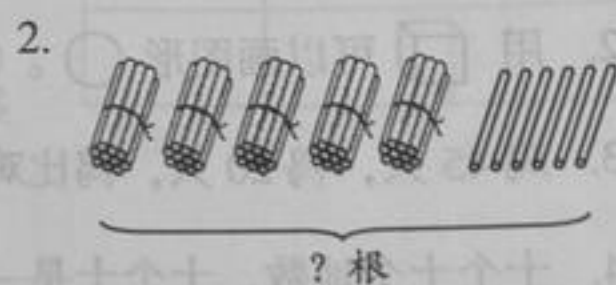
$60 - (16 + 4) =$

$20 + 35 - 7 =$

#### 五、我会看图列式。(8分)



$\square \bigcirc \square = \square (\text{个})$



$\square \bigcirc \square = \square (\text{根})$

#### 六、画一画，连一连。(8分)

1. 根据算式  $14 - 9 = 5$ ，分一分果，

在右图圈一圈表示。(2分)




2. 按形状个数，用铅笔在右图涂出来。(2分)




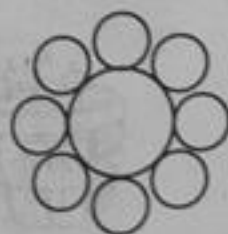
$\bigcirc$  2 个

$\square$  1 个

$\triangle$  4 个



3. 按规律，涂一涂。(4分)




七、我会用数学解决问题。(24分)

1.  比  少捡几个贝壳?

$$\square \bigcirc \square = \square (\text{个})$$



2. 还剩几个 ☆?



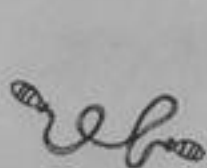
$$\square \bigcirc \square \bigcirc \square = \square (\text{个})$$

3. 一共钓了多少条鱼?



$$\square \bigcirc \square = \square (\text{条})$$

4. 用16元正好能买了两种物品, 是哪两种商品? 想好列算式。



4元



6元



7元



9元

$$\square \bigcirc \square = 16 (\text{元})$$