

学校\_\_\_\_\_

班级\_\_\_\_\_

姓名\_\_\_\_\_

2020—2021 学年度第二学期一年级数学学科学习质量自查

口算与笔算

一、直接写得数

$5+5=$

$13+6=$

$17-4=$

$19+4=$

$18-9=$

$3+46=$

$80-60=$

$72+7=$

$20+70=$

$78-7=$

$31+40=$

$89-40=$

$71-51=$

$43+34=$

$88-8=$

$90-20=$

$10+50=$

$94-4=$

$47+32=$

$83-22=$

二、竖式计算

$34+7=$

$76-7=$

$65+25=$

$86-68=$

$47+38=$

$98-39=$

$73+27=$

$100-39=$

三、在○里填上“>”“<”或“=”

$56+39 \bigcirc 39+56$

$16+73 \bigcirc 73+17$

$92-47 \bigcirc 92-48$

$62-45 \bigcirc 61-45$

# 2020——2021 学年度第二学期一年级数学学科学习质量自查

## 掌握与运用

### 我会填

1. 看图写数。



(      )



(      )



(      )

2. 按顺序写数。

27	29		33		
----	----	--	----	--	--

94		90			84
----	--	----	--	--	----

3. (1) 由 3 个十和 9 个一组成的数是 (      )；

(2) 87 是由 (      ) 个十和 (      ) 个一组成的。

### 我会连



我会解决

1.



10 元



9 元




56 元



68 元





? 元



和




一共多少元?




贵 11 元,



多少元?

(3) 笑笑用 100 元钱买一个 , 应找回多少元?

(4) 淘气有 39 元钱, 再加多少元就能买一套 ?

2. 图书室有 100 本书。

(1) 一班借走 17 本, 二班借走 25 本。一班和二班一共借走多少本?

(2) 图书室还剩多少本?

