

# 2021年春季期末水平测试 一年级数学试卷

题号	一	二	三	四	五	六	总分
得分							

卷首语：亲爱的小朋友，暑假就要来临了，这学期的数学学习你一定有很多收获吧？认真读题，仔细检查，相信你一定会有出色表现！

得分	阅卷人

## 一、我会填空。(24分)

1. 抄写下面两道算式并计算。

$$20 + 6$$

$$76 - 4$$

$$\begin{array}{|c|c|} \hline \square & \square \\ \hline \hline \end{array} + \begin{array}{|c|c|} \hline \square & \square \\ \hline \hline \end{array} = \begin{array}{|c|c|} \hline \square & \square \\ \hline \hline \end{array}$$

$$\begin{array}{|c|c|} \hline \square & \square \\ \hline \hline \end{array} - \begin{array}{|c|c|} \hline \square & \square \\ \hline \hline \end{array} = \begin{array}{|c|c|} \hline \square & \square \\ \hline \hline \end{array}$$

2. 下面的数都是用8颗珠子表示的，请写一写、读一读。



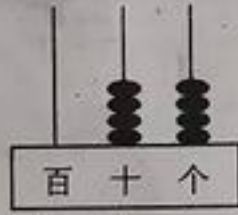
写作：( )

读作：( )



写作：( )

读作：( )



写作：( )

读作：( )

3. 找规律接着填。

(1) 7    11    15    ( )    ( )    27

(2) 60    55    50    ( )    ( )    35

4. 59 里面有( )个十和( )个一；4个十和7个一组成( )。

5. 按要求把下面的五个数填进括号里。

55

39

93

80

47

( ) < ( ) < ( ) < ( ) < ( )

6. 一个正方形可以剪成2个完全相同的( )形或( )形。

7. 一个加数是20，另一个加数是73，和是( )；减数是8，被减数是16，差是( )。

8. 在 ○ 里填上 “>” “<” 或 “=”。

$$38 \text{ 角} \bigcirc 5 \text{ 元}$$

$$60 \bigcirc 49$$

$$36 + 4 \bigcirc 34 + 6$$

$$32 - 7 \bigcirc 32 - 9$$

得分	阅卷人

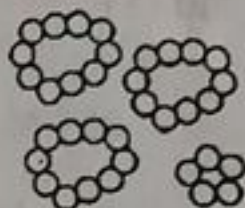

二、我会判断（对的在括号里打“√”，错的在括号里打“×”）。（5分）

- 90 前面的一个数是 89。 ( )
- $11-5=14-8$  ( )
- 100 比 99 多 1。 ( )
- 买一瓶酸奶需要 5 角。 ( )
- 用两个同样的三角形可以拼成一个平行四边形。 ( )

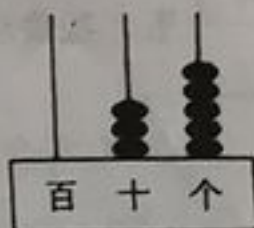
得分	阅卷人

三、我会选择（将正确答案的序号填在括号里）。（10分）

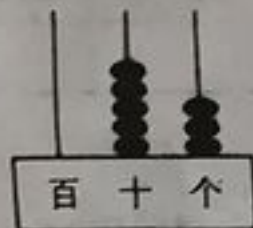
1. 右图( )表示的数与左图不一样。



①



②



③





2. 与 80 相邻的数是( )。
- ① 78 和 79      ② 79 和 81      ③ 81 和 82
3. 小天今年 10 岁，哥哥的年龄比他大得多，哥哥今年( )岁。
- ① 60      ② 12      ③ 19
4. 买一个书包付了 4 张 10 元，2 张 5 元，3 张 1 元。这个书包( )元。
- ① 47      ② 53      ③ 55
5. “小明和小刚一起去商店买乒乓球，小明买了 25 个，小刚买了 34 个。”根据这个信息，能算出( )。
- ① 小刚和小明一共拍多少下？      ② 小刚比小明多买了几个乒乓球？
- ③ 小刚比小明少多少支铅笔？

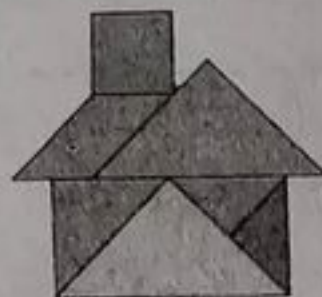
得分	阅卷人

四、我会操作。（7分）

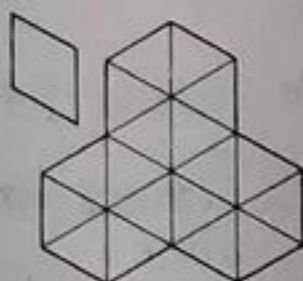


1. 学完图形的认识, 小丽拼了一座房子, 她用到了哪些图形? 各用了几个?  
数一数, 填在表格里。

				
个数				



2. 找到和左上角形状相同的图形,  
涂一涂, 最少找 3 个。



得分	阅卷人

### 五、我会计算。(30 分)

1.  $20+30=$

$63-3=$

$35+50=$

$38+8=$

$84-10=$

$50+8=$

$70-40=$

$13-7=$

$12-6=$

$43+50=$

$60+4=$

$68+20=$

$29+5=$

$14-8=$

$8+7=$

$52-7=$

2.  $74+6-30=$

$37-8-20=$

$81-(28+2)=$

3.  $9\text{角}-3\text{角}=(\quad)\text{角}$

$7\text{角}+9\text{角}=(\quad)\text{元}(\quad)\text{角}$

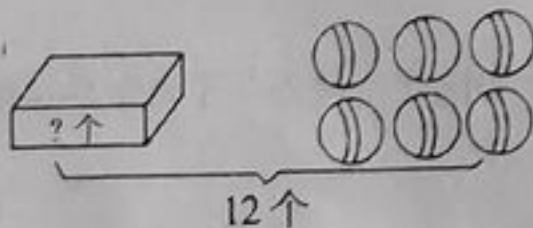
$5\text{元}+8\text{元}=(\quad)\text{元}$

$2\text{元}5\text{角}+3\text{角}=(\quad)\text{元}(\quad)\text{角}$

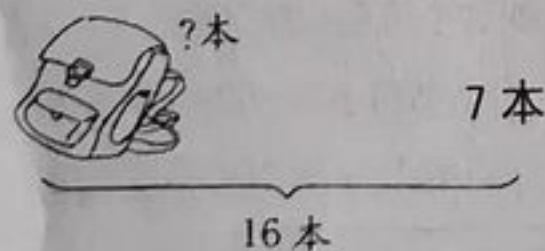
得分	阅卷人

### 六、我会解决问题。(24 分)

1.



$\square \bigcirc \square = \square (\text{个})$



$\square \bigcirc \square = \square (\text{本})$

2. 一共有 15 根木头, 大象运走了 6 根。还剩几根?

$$\square \bigcirc \square = \square \text{ (根)}$$

3. 河里有一群鸭, 小鸭有 26 只, 大鸭有 10 只。一共有多少只鸭?



$$\square \bigcirc \square = \square \text{ (只)}$$

4. 买 1 个羽毛球拍多少元?



$$\square \bigcirc \square = \square \text{ (元)}$$

5. 我比梅花鹿大 30 岁。

我比梅花鹿小 7 岁。

我今年 12 岁。



- (1) 大象今年几岁?

$$\square \bigcirc \square = \square \text{ (岁)}$$

- (2) 请你看图提一个数学问题, 并解答。

问题: \_\_\_\_\_

解答: \_\_\_\_\_