

绝密★启用前

2020-2021 学年度第二学期期末
教学质量调研 一年级数学 学科试卷

考试时间：60 分钟；满分：100 分

注意事项：

1. 答题前填写好自己的姓名、班级、考号等信息。
2. 请将答案正确填写在答题区域之内。

题号	一	二	三	四	五	六	总分
得分							

一、填一填。（共 26 分）

1.






() 个十和 () 个一，合起来是 ()，
读作 ()。


2. 32 里面包含 () 个十，() 个一；和 99 相邻的数有 ()、
()。

3. 5 元 = () 角

39 角 = () 元 () 角

4. 一张  可以换 () 张  和 () 张 .

5. 找规律填一填，画一画。

(1) 。

(2) 94, 87, 80, (), (), ()。

6. 在 ○ 里填上 “>”、“<” 或 “=”。

$$66-30 \bigcirc 63$$

$$54-9 \bigcirc 54-10$$

$$35+20 \bigcirc 37$$

$$4 \text{ 角 } \bigcirc 40 \text{ 分}$$

$$72+8 \bigcirc 8+72$$

$$6 \text{ 元 } - 4 \text{ 角 } \bigcirc 4 \text{ 元 } + 1 \text{ 元 } 5 \text{ 角}$$

7. 奶奶的岁数是比 71 大，又比 78 小的双数，奶奶最小是 () 岁。

考号

班级

姓名

学校

二、算一算。(共 20 分)

$70+5=$

$40+31=$

$83-2=$

$32+4=$

$60+30=$

$13-6=$

$20-7=$

$80-20=$

$52+8=$

$25+9=$

$85-8=$

$48-9=$

$38+20-4=$

$97-60+50=$

$87-(16+4)=$

$56-30+6=$

$70+23-80=$

$65-7-40=$

$39-(9-5)=$

$47+(18-9)=$

三、选一选，把正确序号填在括号里。(共 10 分)

1. 丽丽有 25 朵红花，黄花比红花多得多。黄花可能有 () 朵。

① 26

② 35


③ 80

4. 从 9、3、5 这三个数中选择两个数，组成最大两位数是 ()。

① 95

② 59

③ 99

3. 两个完全相同的  能拼成一个 () 图形。


① 圆

② 正方形

③ 长方形

4. 买一个铅笔盒要 8 元，下面的付钱方法正确的是 ()。

① 3 张 2 元和 3 张 1 元 ② 1 张 5 元和 3 张 1 元 ③ 1 张 5 元和 1 张 2 元

5. 有 45 朵 ，如果每 10 朵做一个花环，最多能做 () 个。

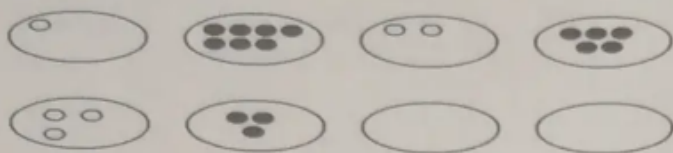
① 3

② 4

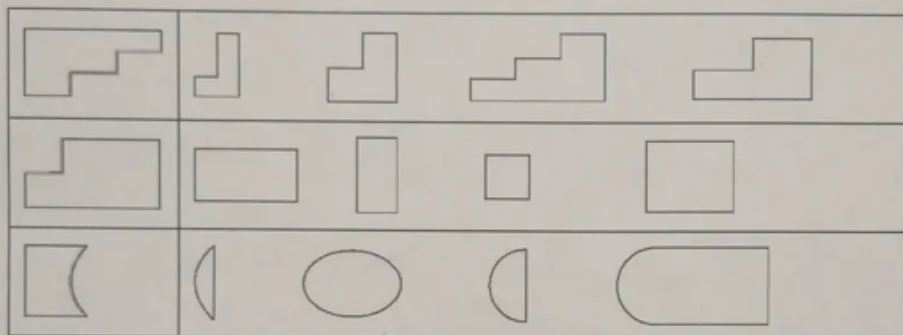
③ 5

四、画一画，圈一圈。(共6分)

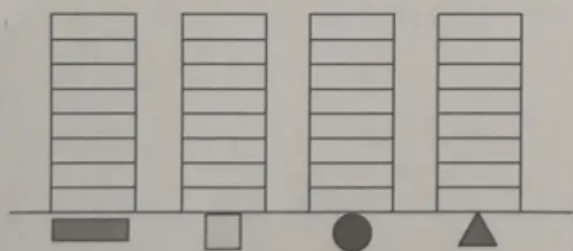

1. 找规律，画一画。



2. 右边的哪个图形能和左边的图形拼成一个长方形？请你把它圈起来。



五、分一分，涂一涂，再填一填。(共12分)



() 个 () 个 () 个 () 个

六、解决问题。(共26分)

1. 两只小猴一共摘了多少个桃？

我摘了 20 个桃

我摘了 18 个桃



口答：两只猴子一共摘了 () 个桃

2. 飞机场有 47 架飞机，飞走了 5 架，又飞回了 9 架。飞机场现在有多少架飞机？

口答：飞机场现在有（ ）架飞机。

2. 每条龙舟上有 8 个人，有 3 条龙舟，一共有多少个人？

口答：一共有（ ）个人。

3.



8 元



68 元



50

小明拿 70 元钱，买了  和 ，找回多少元？

口答：找回（ ）元。

4. 观察表格，完成下面问题。



(1) 把他们的名次排出来，填在表中。

跳绳成绩记录表

姓名	小江	小东	小丽	小曼
成绩	100 下	86 下	79 下	93 下
名次	第（ ）名	第（ ）名	第（ ）名	第（ ）名

(2) 第二名比第四名多跳（ ）下。

(3) 第三名再跳（ ）下，就和第二名同样多。