

学校\_\_\_\_\_

姓名\_\_\_\_\_

准考证号\_\_\_\_\_

注	1. 本调研卷共 10 页，满分 100 分，考试时间 90 分钟。
意	2. 在调研卷和答题纸上准确填写学校名称、姓名和准考证号。
事	3. 调研卷答案一律填涂或书写在答题纸上，在调研卷上作答无效。
项	4. 在答题纸上，选择题用 2B 铅笔作答，其他题用黑色字迹签字笔作答。

### 第一部分 选择题（每小题2分，共48分）

本部分共 24 小题。下列各题的四个选项中，只有一项是符合题意的。

1. 东胡林遗址位于北京市门头沟区，碳十四测年结果显示距今 11000-9000 年，遗址发现了房址、灰坑、火塘、墓葬等，出土了陶器、石器、骨器、蚌器以及大量动物遗骸，鉴定出了粟（如右图所示）和黍两种栽培谷物。据此，可以推断当时东胡林居民的生活状况是



东胡林出土的炭化粟粒

- A. 采集狩猎向农耕定居的过渡  
B. 使用旧石器并建立城邦国家  
C. 制定“夏历”指导农业生产  
D. 与“诸夏”长期交往并交融
2. 大禹治水的精神数千年来为人们景仰、传承和颂扬。大禹吸取父亲用“堵”的办法治水失败的教训，改用“通大川，决（疏通）壅塞，凿龙门……疏三江五湖，注之东海”（《吕氏春秋·古乐》），用疏导的办法治理了水患。《吕氏春秋》的记载彰显的大禹治水的精神是
- A. 公而忘私  
B. 勇于创新  
C. 严于律己  
D. 宽以待人
3. 《左传·昭公六年》记载“商有乱政，而作《汤刑》”，《竹书纪年》记载商代第 24 代商王祖甲“二十四年，重作汤刑”。殷墟出土的甲骨文中也有“王又作辟”“贞王闻惟辟”，学者注释：“辟，刑”。传世文献和出土文物能证实商朝
- A. 用刑罚来维持统治秩序  
B. 主张实行“礼治”  
C. 祖甲主张无为而治  
D. 郡县制度得到较好运行

4. 《史记·商君列传》中记载，商鞅的新法“行之十年，秦民大悦，道不拾遗，山无盗贼，家给人足。民勇于公战，怯于私斗，乡邑大治”。这段叙述表明
- A. 秦孝公任用商鞅变法的背景                      B. 商鞅变法的思想主张
- C. 商鞅变法的主要内容                              D. 变法后秦国社会治理的效果
5. 陆游诗中写道：“岷山导江书禹贡，江流蹴山山为动。呜呼秦守信豪杰，千年遗迹人犹诵。决江一支溉数州，至今禾黍连云种。”诗中的“秦守”是指
- A. 管仲                      B. 孙武                      C. 李冰                      D. 李斯
6. 《权利法案》第4条规定：“凡未经议会准许，借口国王特权，为国王而征税，或供国王使用而征收金钱，超出议会准许之时限或方式者，皆为非法。”该规定
- A. 巩固了国王的专制                                  B. 维护了人民的言论自由
- C. 限制了国王的权力                                  D. 规定了国王的宗教信仰
7. “他们联合抵制英国商品，袭击英国官员，组织了如波士顿倾茶事件这样的抗议活动……他们还召开了大陆会议，就反抗英国政策之事达成一致。1775年，局势已经极为紧张，英国军队和殖民地的民兵在波士顿附近的来克星顿爆发了战斗。”这段叙述反映的历史事件是
- A. 英国“光荣革命”                                  B. 美国独立战争爆发
- C. 法国大革命爆发                                      D. 印度民族大起义
8. 莱斯利·贝瑟尔主编的《剑桥拉丁美洲史》中指出，1800年西班牙王室禁止殖民地建立工厂，1801年又颁布命令称“殖民地工厂与蒸蒸日上的西班牙工业形成对立”，要求殖民地官员们对于殖民地工厂“以他们能够采取的最简便手段予以摧毁，甚至可以考虑……由王室国库接管”。材料能用来说明
- A. 拉丁美洲独立运动的原因                          B. 欧洲开始殖民扩张的背景
- C. 西班牙开辟新航路的动机                          D. 卡德纳斯改革取得的成果
9. 1853-1856年克里木战争中，英、法、土三国联军打败俄军，显露出俄国军事和经济的落后，加剧了俄国国内的社会矛盾。在内外交困的情况下，俄国
- A. 彼得一世鼓励兴办手工工场                      B. 沙皇专制被推翻
- C. 亚历山大二世废除农奴制度                      D. 实行余粮征集制
10. 《宅地法》规定：凡年满21岁，没有参加过叛乱，而且获得土地是以垦殖为目的的美国公民，只要交纳10美元登记费，就可以在美国西部得到一块不超过160英亩的土地。登记人连续耕种5年后，就可以成为这块土地的主人。这一法令实施的影响包括
- ①促进了美国西部领土的开发                      ②从法律上确认黑人奴隶解放
- ③有利于北方扭转被动的战局                      ④降低农业的产量以稳定价格
- A. ①②                      B. ③④                      C. ①③                      D. ②④

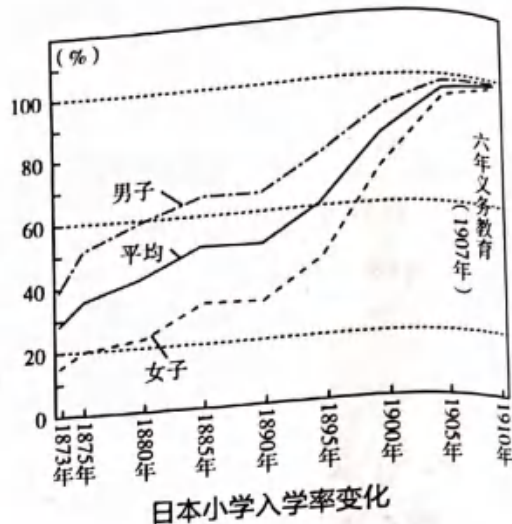


11. 阅读右边的图示（引自王新生《日本简史》）。这一历史现象出现的原因是

- A. 大化改新      B. 锁国政策  
C. 幕府统治      D. 明治维新

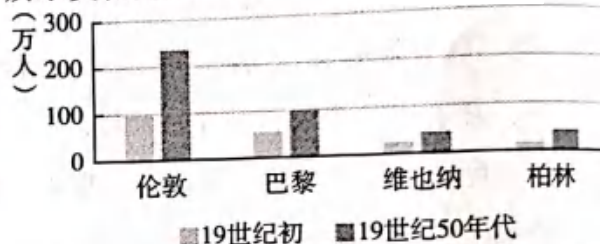
12. 为寻找灯丝的材料，做过数千次试验；为试制新的蓄电池，失败过八千次。这位科学家是

- A. 爱迪生  
B. 爱因斯坦  
C. 卡尔·本茨  
D. 莱特兄弟



13. 读“19世纪欧洲主要城市人口增长示意图”。图中所示变化的原因是

- A. 文艺复兴运动  
B. 新航路的开辟  
C. 工业革命发展  
D. 第一次世界大战



14. 李普曼是美国军事情报局在巴黎的宣传干将，专门负责撰写投放到敌方的传单。他在一份为鼓动敌方士兵投降的传单中，以俘虏的口吻写道：“不要为我担心，我已经不打仗了。我吃得很好。美军给战俘的食品定量和给他们自己的士兵一样多：牛肉、白面包、土豆、牛奶、黄油……”据此，可以说明

- A. 欧洲两大军事集团扩军备战      B. 萨拉热窝事件的背景  
C. 凡尔登战役异常惨烈      D. 美国已参加协约国一方作战

15. 一战期间，英国失去了 1/4 的对外投资，法国失去了 1/3 的对外投资，德国失去了全部对外投资，伦敦失去了世界金融中心的地位，而美国在战后成为世界上最大的债权国和资本输出国，日本经济也获得了发展。材料表明第一次世界大战的影响包括

- ①动摇了欧洲的优势地位      ②彻底瓦解了世界殖民体系  
③战后美日国际地位提升      ④各国建立起社会保障制度
- A. ①③      B. ②④  
C. ①②      D. ③④

16. 1922 年，华盛顿会议上签订的《九国公约》规定：“尊重中国之主权与独立，及领土与行政之完整……不得因中国状况，乘机营谋特别权利，而减少友邦人民之权利，并不得奖许有害友邦安全之举动。”这些规定对中国的影响是

- A. 中国成为大战的战胜国      B. 维持了列强共同支配中国局面  
C. 声援中华民族抗日战争      D. 中国成为联合国的创始会员国

17. 右图所示历史事件，对世界历史的影响是

- A. 揭开世界反法西斯战争的序幕
- B. 标志着欧洲战争策源地的形成
- C. 第二次世界大战规模达到最大
- D. 开辟反法西斯的欧洲第二战场

18. 某同学在学习第二次世界大战时，以 1942 年 1 月为界把战争进程划分为前后两个历史阶段：各国孤立反抗法西斯侵略、全世界反法西斯国家联合反抗侵略。该同学划分这两个阶段的标志性事件是

- A. 德国“闪电战”突袭波兰
- B. 《联合国宣言》发表
- C. 斯大林格勒战役胜利
- D. 意大利投降，法西斯同盟瓦解

19. 右图漫画是苏联杂志《鳄鱼》公开发表的杜鲁门的形象：用原子弹和美元武装自己，率领着温斯顿·丘吉尔等忠诚的跟随者，谋求世界统治地位。据此，可以推断当时美苏关系的态势是

- A. 各自独立抗击法西斯侵略
- B. 结成联盟共同反对法西斯
- C. 从战时盟友走向战后对抗
- D. 独立国家联合体对抗美国



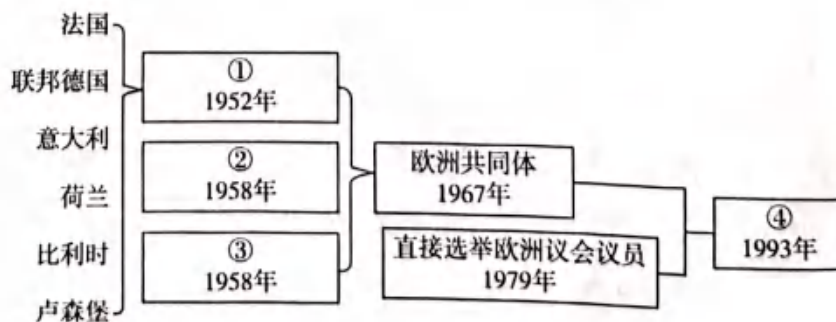
20. 1961 年，民主德国在东、西柏林之间修筑了柏林墙（如右图所示）。柏林墙的修筑，集中反映了当时的国际局势是

- A. 世界人民反法西斯
- B. 美苏处于“冷战”
- C. 世界经济全球化趋势加强
- D. 全球面临恐怖主义的威胁



21. 某位同学在整理战后资本主义发展的历史时，绘制了知识结构简图，如右图。其中④处应该填写的是

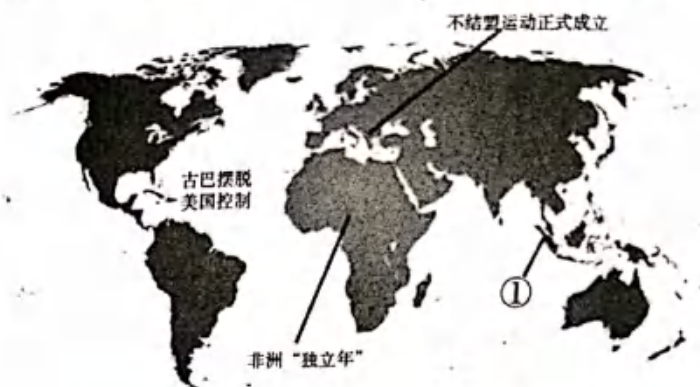
- A. 欧洲煤钢共同体
- B. 欧洲原子能共同体
- C. 欧洲经济共同体
- D. 欧洲联盟





22. 20 世纪五六十年代, 亚非拉民族解放运动迅速发展, 新兴民族独立国家开始联合反帝、反殖、反霸斗争。在下图所示①处发生的事件中, 周恩来提出的“求同存异”保证了会议顺利进行, 中国提出的和平共处五项原则也得到国际社会的认可。①处应填写的重大事件是

- A. 埃及华夫脱运动  
B. 万隆会议召开  
C. 巴拿马收回运河区的全部主权  
D. 纳米比亚独立



23. 马兹鲁伊在《非洲通史》中写道: 1962 年, 在阿尔及利亚的欧洲人外逃, 被弃的农场、工厂和地产由阿尔及利亚的农场劳工、工人等接管。自我管理的农业合作社组织形成, 经过国有化后取得合法地位。随后, 制造业、采矿业和石油部门也进行了国有化。到 20 世纪 60 年代末, 国营部门的产值占全国总产出的三分之一以上。这反映阿尔及利亚
- A. 经济发展的非殖民化  
B. 完全沦为法国殖民地  
C. 发展成为工业化国家  
D. 粮食问题和饥荒解决
24. 当代, 成为支撑、协调世界经济和政治的两大支柱, 推动世界和平与发展的国际组织是
- ①国际联盟 ②北大西洋公约组织 ③联合国 ④世界贸易组织
- A. ①②  
B. ②④  
C. ①③  
D. ③④

## 第二部分 材料分析题 (共52分)

25. (12 分) 考古·文明。经过几代考古人接续奋斗, 我国考古工作取得了重大成就, 延伸了历史轴线, 增强了历史信度, 丰富了历史内涵, 活化了历史场景。阅读下列材料, 回答问题。

【证据确认】2019 年, 世界遗产大会将良渚古城遗址列入《世界遗产名录》。世界遗产委员会给出的定位为: 它是代表史前稻作文明的最高成就, 中华五千多年文明史最直接、最典型、最有力的实证, 堪称人类早期城市文明的杰出范例。

材料一 良渚古城的城内建筑、城墙、外城郭以及水利系统的土石方工程量达  $1005 \text{ 万 m}^3$ 。其中, 良渚古城核心区面积约为  $6.3 \text{ km}^2$ , 是世界上同时期规模最大的城市系统之一。宫殿区营建在长方形人工土台上, 面积约  $30 \text{ 万 m}^2$ , 发现了 35 座长方形房址, 多为南北朝向, 排列整齐。

发掘的墓葬显示, 社会存在着明显的等级分化和职业差别。以 12 号墓规格最高, 出土了 600 余件 (组) 玉器, 包括体量最大的“玉琮王”和“玉钺王”, 标志着墓主人很有可能是一位同时掌握着神权、军权和王权的统治者。

以火耕、水耨技术为代表的原始稻作农业已经相当成熟。水稻的驯化历程基本完成, 出土了



大量稻作农业工具，水稻产量也大大增加。在一个大型灰坑遗迹（H11）中，出土约 1.3 万千克的炭化稻米。



良渚古城遗址及外围水利系统示意图

——宋姝等《良渚古城：中华 5000 多年文明的实证之城》，载《自然与文化遗产研究》2020 年第 3 期

**材料二** 关于良渚水坝的考古证据非常充足，其中一个最重要的证据是碳十四的测年数据，水坝碳十四测年数据在公元前 3100—公元前 2700 年之间。

——英国剑桥大学科林·伦福儒《世界早期复杂社会视野下的良渚古城》

(1) 世界遗产委员会对良渚古城遗址给出了定位，依据材料一、二列举相关证据。(3 分)

【铭文述史】“燕侯旨鼎”是在北京出土的西周早期青铜器。

**材料三** 铭文（如右图）：匱（燕）侯旨（zhǐ，“旨”的异体字）初见事，于宗周，王赏旨贝廿朋，用作（作）又（有）始（姁）宝尊彝。

意译就是：燕侯旨第一次因事到宗周来朝见，周王赏给旨贝二十挂，用来做有姁的宝器。

——摘编自唐兰《西周青铜器铭文分代史征》



(2) 旨是燕国第二代诸侯。铭文记载了燕侯旨的什么活动？(1 分) 这反映西周实行了什么政治制度？指出这一制度实行的历史作用。(3 分)

燕侯旨鼎。高 20.4cm，口径 16.9cm，重 1.9kg。日本京都泉屋博古馆藏。

【文史互证】

**材料四** 入（秦）境……及都邑官府，其百吏肃然，莫不恭俭、敦敬、忠信而不桡（kǔ，滥恶）……（士大夫）无有私事也，不比周，不朋党（重视处理公事，不结党营私）……

——《荀子·强国篇》

**材料五** 湖北云梦出土的秦简中，《语书》是秦国南郡行政长官腾于公元前 227 年发布的一道行政命令，写道：“凡良吏明法律令……恶吏不明法律令，不知事，不廉洁，无以佐上，偷惰疾事（指推脱事务），易口舌（搬弄是非），不羞辱，轻恶言而易病人（侮辱别人），无公端之心……”

——睡虎地秦墓竹简整理小组编《睡虎地秦墓竹简》

(3) 依据材料四、五，概括秦评判官吏优劣的标准。(2 分) 结合所学，说明战国时期秦国重视官吏任用的历史影响。(2 分) 谈谈你对人才选用的认识。(1 分)



26. (20分) 经济发展·社会生活。阅读下列材料, 回答问题。

材料一 春秋战国时期, 诸侯国普遍重视发展商业。齐桓公采纳管仲的建议, “使关市几(通“讥”, 查问)而不征”, 减轻了关税负担, 促进商品经济的发展, 增强了齐国的实力, 为称霸诸侯提供物质条件。

春秋时期, 各诸侯国的都城都设有市。都城以外的其他城邑和城乡之间也设有市场。战国时期, “市”的建立更为普遍, 东西南北的土特产品, 在中原市场上都可以买到。伴随着商品经济的发展, 涿、蓟、邯郸、临淄、宛等成为“富冠海内”的城市。一批巨商富比王侯。

——摘编自吴继轩《春秋战国时期的重商政策与商品经济的发展》

(1) 依据材料一说出春秋战国时期商品经济发展的表现, 结合所学分析其原因。(4分)

材料二 1493年, 哥伦布第二次远航时首次将甘蔗带到新大陆, 不久之后, 第一批奴隶也输送到这里。1627年, 美洲的巴巴多斯岛被宣布为英国殖民地, 殖民者发现蔗糖可以让人发家致富, 纷纷建立甘蔗种植园, 蔗糖变得越来越丰富而廉价。甜点成为欧洲多数人的标准饮食, 因为糖对穷人更有吸引力, 它能取代其他食物而让人填饱肚子。从1650年到1800年, 英国的蔗糖消费增长了近25倍。到1830年, 蔗糖产量在三十年里增长了233%。



西印度群岛甘蔗种植园中黑人奴隶劳作

——摘编自[美]西敏司《甜与权力: 糖在近代历史上的地位》

(2) 依据材料二并结合所学, 分析蔗糖风靡欧洲的背景。(4分)

材料三 18-19世纪英国殖民者一心想把印度变为本国的原料供应地, 在英国殖民者的压迫下, 印度向英国廉价出口大量棉花; 随后英国棉布倾销印度全境, 彻底占领了印度棉布市场。

——杜金骑《18-19世纪英国殖民统治对印度棉纺织业发展的影响探究》

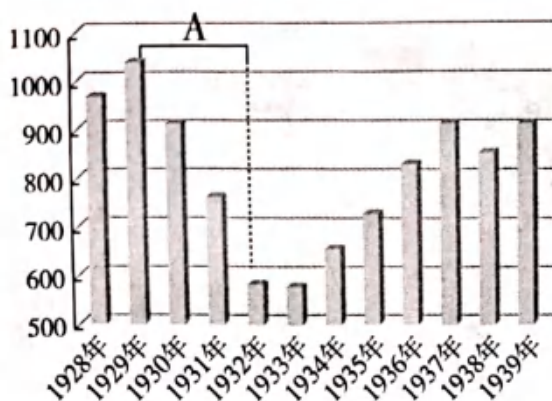
材料四 1920年9月, 在国大党加尔各答特别会议上, 甘地提出不合作议案, 还把“自治”列为不合作运动的目标, 并号召抵制英货以及建议大规模推行土布运动。甘地的议案通过了最终的表决。

——林太《印度通史》

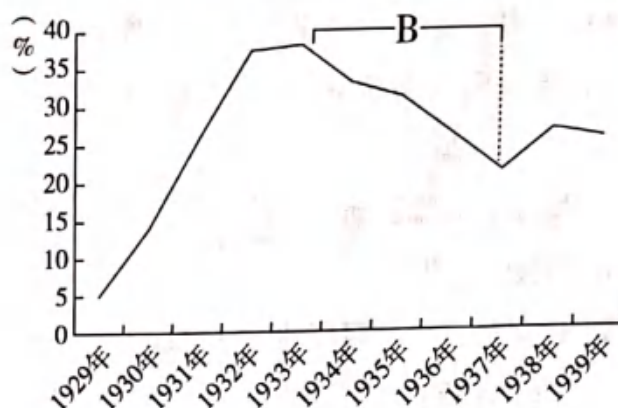
(3) 依据材料三、四并结合所学, 说明19世纪印度手工棉纺织业破产的原因。(2分) 简要评价甘地倡导的印度民族民主运动。(2分)

# 材料五 20 世纪二三十年代美国经济状况数据图表。

1928-1939年美国国民生产总值（单位：亿美元）



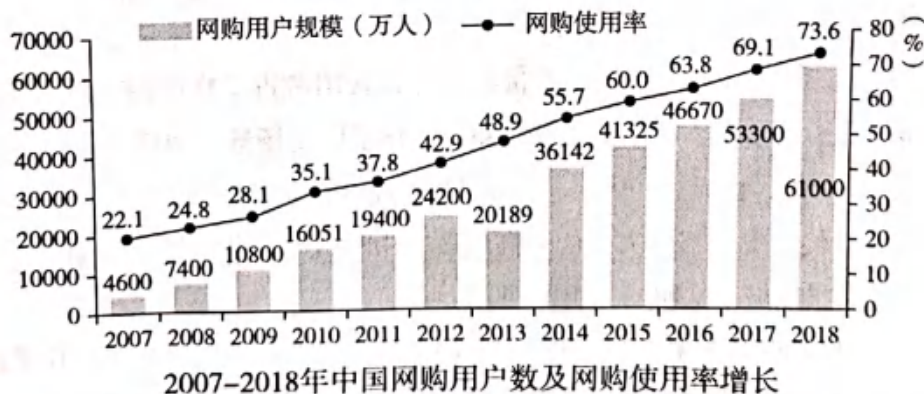
1929-1939年美国工人失业率（不包括农业工人）



- (4) 从图中所示 A、B 两个时段中任选一个时段，指出该时段美国经济领域数据变化的趋势（2 分），结合所学，说明这一变化的原因。（2 分）

材料六 科学技术创新和信息时代的到来为经济全球化解了技术问题。从 1930 年到 1990 年，空运的成本已从平均每英里 68 美分降到 11 美分，纽约与伦敦的三分钟的电话费从 244 美元降到 3 美元。信息技术的发展，使大量信息数据在全球范围内快速、经济地传递，使跨国公司的生产和管理不至于失控。此外，随着信息技术的发展，跨国公司的管理者可以在瞬息之间了解世界各地的市场行情，通过数据分析和计算，找到最有效的盈利机会。

——摘编自高德步、王珏《世界经济史》



- (5) 依据材料六，概括“信息时代”经济领域新发展的表现。（4 分）



27. (9分) 革命·建设。阅读下列材料, 回答问题。

材料一 《告工人、士兵和农民书》(1917年11月7日) 摘录:

临时政府已经被推翻。

苏维埃政权将向各国人民提议立即缔结民主和约, 立即在各条战线上停战。苏维埃政权将保证把地主、皇族和寺院的土地无偿地交给农民委员会处置; 将使军队彻底民主化, 以维护士兵的权利; 将规定工人监督生产; 将保证按时召开立宪会议; 将设法把粮食运往城市, 把生活必需品运往农村。

代表大会决定: 全部地方政权一律转归当地的工兵农代表苏维埃, 各地苏维埃应负责保证真正的革命秩序。

——据《列宁选集》第三卷

- (1) 依据材料一并结合所学, 概括苏维埃政权采取的革命措施。(4分) 指出1917年建立起来的苏维埃政权的性质。(1分)

材料二 第二个五年计划期间, 有4500个工业企业投产。其中, 投资在1亿卢布以上的巨大工程有35个。大机器制造工业大大超过了预定的指标, 比1932年的产量增长了2倍, 军事工业的实力有极大的增强。黑色冶金工业的增长率达到126.3%, 黑色金属和拖拉机及农业机器进口大幅度减少。出现了一批冶金、煤矿、机器制造和化工等重工业基地——全新的工业城市。工人阶级的队伍迅速壮大, 工人受教育的程度和掌握专业技能的程度也大大提高。城市人口激增。

——摘编自闻一《俄罗斯通史(1917-1991)》

- (2) 依据材料二并结合所学, 概括20世纪30年代苏联社会主义建设的成就并分析其影响。(4分)

28. (11分) 战争·和平·国际格局。阅读下列材料, 回答问题。

材料一 1870年, 法国向普鲁士宣战, 法军在色当战役遭到彻底失败, 法国皇帝拿破仑三世成为阶下囚。普鲁士军队围困巴黎。1871年, 巴黎人民举行起义。同年, 普鲁士国王威廉一世加冕为德意志帝国皇帝, 德意志帝国成立, 德意志民族统一完成。德法签订《法兰克福和约》: 法国割让阿尔萨斯和洛林; 向德国支付战争赔款50亿法郎, 三年内付清。意大利也利用法国战败的机会, 完成了国家统一。

——摘编自邢来顺《德国通史》第四卷《民族国家时代(1815-1918)》

- (1) 依据材料一并结合所学, 指出普法战争(1870-1871年)对欧洲历史发展的影响。(可从对德国、对法国、对欧洲国家关系等方面说明。3分)

材料二 第四十二条 德国在莱茵河之左岸或右岸，于该河以东五十公里所划界线之西不准保存或建筑要塞。

第四十三条 在第四十二条所定之区域内，无论永久或暂时，均不准存留或集合军队，以及举行任何演习与维持动员……

第四十五条 为补偿法国北境煤矿之损毁……德国将……萨尔流域煤矿完全并绝对之所有权，免除一切债务或义务，连同独占之开采权让与法国。

——《国际条约集（1917-1923）》

(2) 材料二的内容出自一份国际条约，它是\_\_\_\_\_。(从下列①②③中选择并在答题纸上填写对应的序号，1分)

①《凡尔赛条约》；②《开罗宣言》；③《波茨坦公告》。

(3) 依据材料并结合所学，说明第一次世界大战后，德国与法国之间领土主权变动的情况。(4分)

材料三 (1945年2月11日《雅尔塔会议公报》中指出) 根据已商得同意的计划，三国部队将各自占领德国的一个区域……法兰西如果愿意的话，三国当邀请它承受一个占领区，并参与管制委员会，作为第四委员……

我们决定要把德国一切武装力量解除武装，予以解散……使所有一切战争罪犯受到公正而迅速的膺惩……要扫灭纳粹党，纳粹的法律、组织和制度，从德国人民的公共机关中，从文化生活与经济生活中消除所有一切纳粹的和军国主义的影响。

——摘录自《国际条约集（1945-1947）》

(4) 对比材料二和材料三的内容，仿照示例，说明两次世界大战后处理战败的德国时所采取的措施有何不同。(2分) 谈谈你对处理纳粹德国措施的认识。(1分)

【示例】政治上：一战后，重新划分德国疆界；二战后，对德国进行分区占领。