

2021年春季学期九年级调研检测模拟试卷

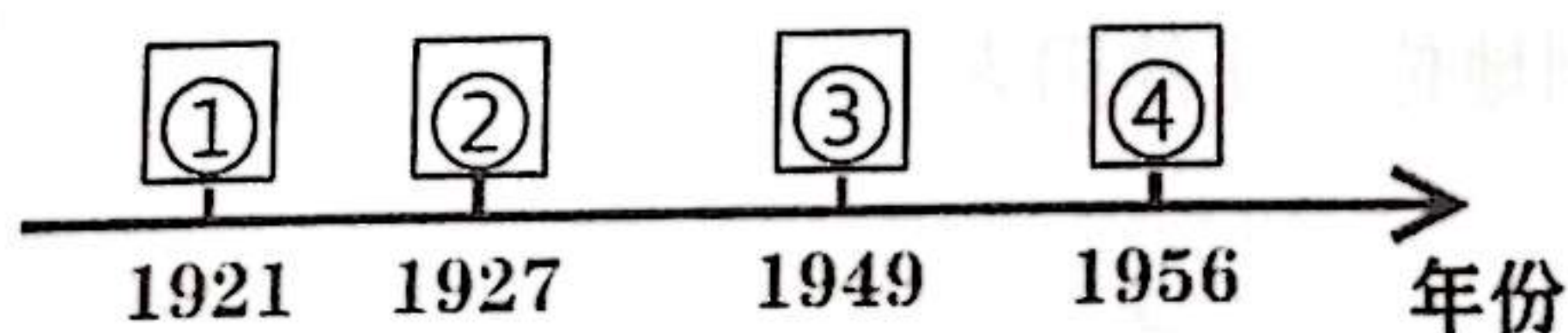
历史(四)

- 注意: 1. 本试题卷分第 I 卷和第 II 卷, 试卷满分为 60 分, 考试用时 60 分钟。
2. 考生必须在答题卡上作答, 在试题卷上作答无效。考试结束, 将本试题卷和答题卡一并交回。

第 I 卷 选择题

一、单项选择题(共 15 小题, 每小题 2 分, 共 30 分。各小题的备选项中, 只有一个最符合题意, 请你用 2B 铅笔在答题卡上将选定的答案标号涂黑。)

- 1、周朝虽历时很久, 但却未能建立稳固的中央政府。周朝有许多诸侯国, 他们无视周名义上的最高领主地位, 彼此征战不休。这一局面的出现是由于
A. 禅让制的推行
B. 世袭制的出现
C. 分封制的实行
D. 郡县制的推广
- 2、我国古代儒家主张“仁”“信”、法家主张以“法”治国; 社会主义核心价值观中有“和谐”“诚信”“友善”“法治”等内容。这表明社会主义核心价值观
A. 照搬了春秋战国时期的思想
B. 是现代中国建设的经验总结
C. 植根于优秀的中华优秀传统文化
D. 是马克思主义中国化的产物
- 3、秦朝开凿了沟通湘江和漓江的灵渠, 隋朝开凿了贯通南北的大运河。秦、隋两朝的这一举措都
A. 实现了经济重心的南移
B. 推动了对外文化的交流
C. 保障了两朝的长治久安
D. 有利于巩固国家的统一
- 4、有学者认为, 近代史上, 战前列强的主要侵华方式是“贸易+特权”, 战后则是“投资+特权”, 这里的战争是指
A. 鸦片战争
B. 甲午中日战争
C. 第二次鸦片战争
D. 八国联军侵华战争
- 5、中国近代史既是一部屈辱史, 又是一部抗争史。农民阶级反抗外来侵略的代表是
A. 洪秀全
B. 关天培
C. 左宗棠
D. 曾国藩
- 6、2020 年新年以来, 钟南山、张文宏、李文亮等广大的医护人员用自身的行动不断感动着我们。弘扬优秀人物的精神品质, 有利于实现教育的真正价值。下列时代人物与其事迹对应不正确的一组是
A. 李鸿章——洋务运动的代表人物, 创办了江南制造总局
B. 邓世昌——抗击日本侵略, 在黄海海战中壮烈殉国
C. 康有为——领导公车上书, 参与戊戌变法, 最后为变法而牺牲
D. 李大钊——新文化运动的代表人物, 是我国宣传马克思主义的先驱
- 7、郑超麟在其回忆录中说: “中华民国八年……中国的集体意识, 可以说, 是在这一年觉醒的”。材料中“中国的集体意识”指
A. 五四精神
B. “红船”精神
C. 长征精神
D. “铁人”精神
- 8、理清发展线索, 提炼关键词, 是学习掌握历史知识的有效方法之一。与以下“中国近现代史发展历程年代标尺”方框④对应的关键词是



- A. 井冈山烽火
B. 当家做主
C. 开天辟地
D. 社会主义

9. 深化农村土地制度改革是十九大报告中的重要内容,体现了中国共产党对农民土地问题的一贯重视。新中国成立后,党对土地政策进行了调整。下列表述不正确的是

- A. 土地改革的完成实现了农民土地所有制
- B. 农业生产合作社提升了当时农业生产能力
- C. 人民公社化运动为“一五”计划奠定了物质基础
- D. 家庭联产承包责任制的实施大大解放了农村生产力

10. 1992 年,深圳广大干部群众进一步解放思想、抓住机遇、加快发展的热情高涨。其原因是

- A. 中国加入世界贸易组织
- B. 香港、澳门胜利回归
- C. 中共十一届三中全会的召开
- D. 邓小平南方谈话的鼓舞

11. 获取和解读材料信息,是学习历史的基本能力。根据表格信息判断,该人物是


姓名	国籍	生卒年代	代表作
Leonardo da Vinci	意大利	1452-1519 年	《蒙娜丽莎》等

- A. 但丁
- B. 莎士比亚
- C. 达·芬奇
- D. 薄伽丘

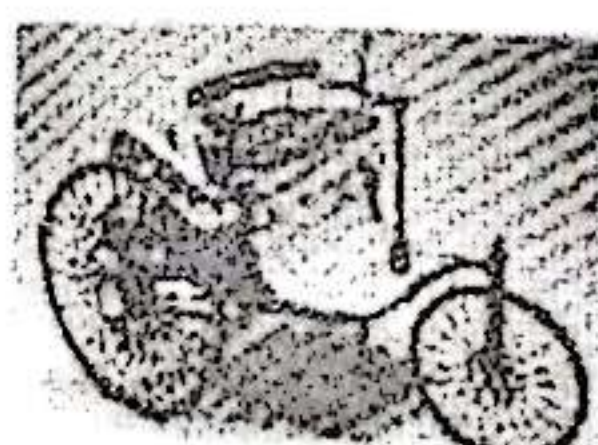
12. 这次革命是“幸福和光荣的革命,这是英国人的好运,从专制过渡到宪政是通过没有流血的方式进行的。”这次革命开启的新政治模式是

- A. 中央集权制
- B. 君主立宪制
- C. 联邦共和制
- D. 民主共和制

13. 科技发明改变了人们的出行方式,改善了人们的生活。下列发明属于第一次工业革命成果的是



图一 火车



图二 汽车



图三 飞机



图四 电灯

- A. 火车
- B. 汽车
- C. 飞机
- D. 电灯

14. “这次行动计划的周密、规模的宏大,在战争史上还从来没有过类似的先例”,“它迫使希特勒德国在两个战场上同时作战”。斯大林说的“这次行动”是指

- A. 斯大林格勒战役
- B. 凡尔登战役
- C. 诺曼底登陆战役
- D. 攻克柏林战役

15. 在英国的城乡人口结构中,1750 年城市人口占 21%、农村人口 79%,到 1850 年城市人口占 52%、农村人口占 48%。导致这种变化的主要原因是

- A. “光荣革命”的发动
- B. 工业革命的推动
- C. “电气时代”的到来
- D. 自由贸易的拓展

第 II 卷 非选择题

二、非选择题(共 3 小题,每小题 10 分,共 30 分。)

16. 每一个城市都有属于自己的故事,这些故事构成了中国历史。请你根据下列坐标城市,探寻中国历史发展的轨迹。

【盛世坐标——长安】

材料一 自古以来，中华民族就以“天下大同”“协和万邦”的宽广胸怀，自信而又大度地同域外民族交往和文化交流，从汉武帝到唐太宗，汉语、汉族深深融入了我们的血液之中，汉人、唐人成了我们的身份，还创造了万国衣冠会长安的盛唐气象，……变革和开放总体上是中国的历史常态。

(1) 请结合学过知识，指出使唐朝进入鼎盛时期的统治者是哪个？请列举汉唐“同域外民族交往和文化交流”的史实各一例。(3分)

【沧桑坐标——上海】

材料二 开埠后的上海迅速成为远东最繁华的港口和经济、金融中心，“是近代亚洲屈指可数的国际化大都市之一”，被称为“十里洋场”。淞沪会战中，中国军队阵亡14名少将以上高级军官，近千名校尉级以上军官，姚营全部殉城，姚子青被誉为“民族人格之表现”。

(2) 根据材料二和所学知识，概括指出近代上海被称为“十里洋场”的主要原因。上海“开埠”意味着中国的社会性质发生了什么变化？(2分)

(3) 淞沪会战中，上海虽然沦陷，但在当时起到怎样的作用？淞沪会战后，哪座城市称为日本的屠宰场？(2分)

【崛起坐标——深圳】

材料三

经济增长率

	1978年	2017年	1979-2017年 平均增速
世界	4.0%	3.0%	2.9%
中国	11.7%	6.9%	9.5%

对世界经济增长的贡献率

	1978年	2017年	1979-2017年 平均贡献率
中国	3.1%	27.8%	18.4%

自2006年以来，中国对世界经济增长的贡献率稳居世界第一位

(4) 材料三中我国经济快速增长的根本原因是什么？结合所学知识，谈一谈上述材料对实现中华民族伟大复兴的“中国梦”的启示。(3分)

17、(10分) 在历史发展的长河中，无数杰出人物熠熠生辉，影响着世界历史发展的进程，阅读下列材料，回答问题。

材料一 “我们革命的目的是为众生谋幸福，因不愿少数满洲人专利，故要民族革命；不愿君主一人专利，故要政治革命；不愿少数富人专利，故要社会革命。”……辛亥革命一度成功、中华民国临时政府建立后，孙中山认为民族、民权两主义已经实现，唯有民生主义尚未着手。

——摘自臧运祜《20世纪的中国与世界》

材料二 邓小平依据对二十多年社会主义经验教训的总结，提出贫穷不是社会主义，社会主义应当富裕……至此，中国人才彻底终结了自近代以来“走他人的路”的历史，开始独立自主地“走自己的路”。

——《近代中国社会发道路选择的历史考察及启示》

材料三 如果华盛顿是个法国人，而又生活在这样一个时期：内处崩溃边缘，外遭敌人侵略，我想他就不会是华盛顿……至于我，只是戴着王冠的华盛顿。

——拿破仑

请回答:

(1) 根据材料一并结合所学知识,说明“孙中山认为民族、民权两主义已经实现”的理由。(2分)孙中山打算如何“着手”民生主义?(1分)

(2) 根据材料二,结合所学知识,指出在终结了“走他人的路”的历史之后,中国走上样的道路?(1分)在祖国统一大业上,我们如何“走自己的路”? (1分)而在新民主主义革命时期,毛泽东开辟出一条怎样的革命道路?(1分)

(3) 根据材料三,结合所学知识,指出面对“这样一个时期”,拿破仑采取了哪些应对措施?(2分)与拿破仑不同,华盛顿在美国独立战争中的革命任务是什么?(1分)指出美国诞生的时间。(1分)

18. 阅读下列材料:

材料一 新航路发现以后,欧洲和亚洲、非洲、美洲之间的贸易日益发展,世界市场扩大了。……欧洲的贸易中心从地中海转移到大西洋沿岸。

——《世界史·近代史编》

材料二 19世纪后期,在这个整体发展的世界中,欧洲仍然保持着优势地位。经济上,欧洲是世界的工业工厂,工业产量占世界工业总产量的一半左右。……国际事务方面,几乎全部殖民地都掌握在欧洲国家手中,世界外交的中心舞台仍然在欧洲,世界各地的大部分事务都是在欧洲决定的。

——《世界通史》

材料三 第一次世界大战持续了4年3个多月,给欧洲带来了极其深刻的危机。欧洲的海外市场也由于在战争中发展起来的美洲和亚洲的工业竞争而不断萎缩。……欧洲对世界经济控制力不断减弱。……19世纪以来欧洲一直保持的世界中心地位受到了根本的动摇。

——《世界史·现代卷》

请回答:

(1) 材料一中,发现欧洲和美洲之间航路的航海家是谁?(1分)根据材料一,概括“新航路发现”的意义。(1分)

(2) 据材料二,列举欧洲保持“优势地位”的表现。(2分)结合所学知识,分析产生这些表现的原因。(2分)

(3) 请你写出第一次世界大战交战的一个军事集团名称。(1分)据材料三,归纳这场战争对欧洲的影响。(1分)

(4) 综上所述,概括19世纪以来影响欧洲地位变化的因素。(2分)