

中考历史模拟卷(三)

注意事项：

1. 本试卷分第Ⅰ卷(单项选择题)和第Ⅱ卷(非选择题),共8页,满分100分,考试时间60分钟。答卷前,考生务必用0.5毫米黑色签字笔将自己的姓名、准考证号、座号填写在试卷和答题卡规定的位置。考试结束后,将本试卷和答题卡一并交回。
2. 答题注意事项见答题卡,答在本试卷上不得分。

第Ⅰ卷(单项选择题 共50分)

第Ⅰ卷为单项选择题,共25道题,每题2分,共50分。在每题所列出的四个选项中,只有一项是最符合题目要求的。

1. 疫情期间,北京电视台联合周口店北京人遗址博物馆进行了一场名为“博物馆里重新发现北京:周口店遗址探秘寻踪”的网上参观直播活动。以下直播活动内容中,对我们科学研究北京人生活状况最有用的是()
- A. 周口店北京人遗址博物馆的导览图 B. 博物馆讲解员下发给学生的任务单
- C. 北京电视台有关此活动的新闻报道 D. 在北京人遗址中发现的烧石和烧骨
2. 夏曾佑说:“故中国之教,得孔子而后立。中国之政,得秦皇而后行。中国之境,得汉武而后定……譬如建屋,孔子奠其基,秦、汉君营其室。”“孔子奠其基”指的是()
- A. 创立的儒家思想奠定了封建文化基础 B. 创立君主专制主义中央集权制度
- C. 奠定了日后中原王朝的基本统治范围 D. 推动了中国封建社会生产力发展
3. 季羨林先生曾说:“在世界上延续时间长、真正形成独立体系的文化只有四个——中国、印度、阿拉伯和西欧。这四大文化体系汇流的地方只有一个,就是中国的新疆地区。其所以能够在这里汇流,则须归功于贯穿全区的丝绸之路。”这段话说明()
- A. 丝绸之路联通了古代世界四大文明古国
- B. 世界古老文化的源头就在中国的新疆地区
- C. 新疆是古代丝绸之路的中心,水陆交通发达
- D. 丝绸之路是一条世界多元文化融汇的通道
4. 2020年12月17日凌晨,嫦娥五号返回器历经23天成功携带月球样品返回地球,这是21世纪人类首次月球采样返回任务。南北朝时期我国有一位科学家,由他撰写的《大明历》是当时最科学最进步的历法,国际天文学家联合会把月球上的一座环形山以他的名字命名。“他”是()
- A. 祖冲之 B. 王羲之 C. 郦道元 D. 蔡伦
5. 蒙曼副教授在百家讲坛开讲《大隋风云》中说:“美国学者写过书,影响世界的百人名单中,中国两位皇帝榜上有名,秦始皇与隋文帝。”下列哪项不属于隋文帝的“丰功伟绩”()
- A. 开通运河 巩固统治 B. 结束分裂 统一全国

- C. 发展经济 编订户籍 D. 统一币制 加强集权
6. 认知和探究历史地图,从中提取有效信息,是学习和研究历史的重要方法。下列对图1所示历史事件的解读正确的是()
- ①宋辽之间发生澶州之战 ②此战之后双方长期休战 ③战后双方又持续恶战数十年 ④战后双方在边境设置榷场进行贸易
- A. ①②③ B. ②③④ C. ①②④ D. ①③④
7. 识读图表、提炼信息是学习历史的基本能力之一。表1所示赋粮比例信息说明,北宋熙宁年间()



图1

表1 北宋熙宁九年(1076年)赋粮南、北方所占比例

单位	总计	北方数	南方数	南方所占比例(%)
贯、石、匹、两	10018153	4414841	5603312	55.93

- A. 黄河流域战乱频繁 B. 南方经济地位重要
- C. 文化重心开始南移 D. 北民南迁速度加快
8. 先秦时代的山东号称齐鲁大地,秦朝统一后在山东主要划设临淄郡、胶东郡、济北郡、琅琊郡等郡,元代山东直属中书省,而清朝改称为山东省。山东省区划(名称)的变化反映出我国古代地方行政治理的哪些变动?()
- A. 从王位世袭制到分封制再到行省制 B. 从分封制到郡县制再到三省六部制
- C. 从分封制到郡县制再到行省制 D. 从中央集权制到分封制再到科举制
9. 美国历史学家对图2事件的描述:“已经达到了一个国家地位非常低落的阶段,低到只是保护了独立主权国家的极少的属性的地步了。”此时中国“国家地位非常低落”表现在()
- A. 清政府彻底堕落为了洋人的朝廷
- B. 帝国主义即将掀起瓜分中国的狂潮
- C. 中国的半殖民地化程度大大加深了
- D. 中国开始沦为半殖民地半封建社会
10. 宋教仁在《代草国民党之大政见》中指出:“今革命之事毕矣,而革命之目的则尚未全达,是何也?不良之政府虽倒,而良政治之建设,则未尝有也”。由此可见,宋教仁认为辛亥革命尚未实现的目标是()
- A. 没有彻底推翻清政府的统治 B. 没有建立起真正的民主国家
- C. 没有发动民众实现民生主义 D. 没有颁布资产阶级法律文件
11. 国家主席习近平在某次座谈会上指出:“这一伟大胜利,重新确立了中国在世界上的大国地位,使中国人民赢得了世界爱好和平人民的尊敬。这一伟大胜利,开辟了中华民族伟大复兴的光明前景,开启了古老中国凤凰涅槃、浴火重生的新征程。”这次胜利指的是()
- A. 三大红军会师,长征胜利 B. 抗日战争胜利,中华民族由衰败到振兴
- C. 解放战争胜利,新中国成立 D. 抗美援朝胜利,为经济建设保驾护航




图2 坐“龙椅”摆拍

12. 2021 年,某学校以“百年历程”为题筹办纪念中国共产党诞生一百周年的大型图片展。下列对中国共产党在图 3 所示会场召开的一次全国代表大会的解说,正确的是()
- A. 通过了武装反抗国民党反动统治的方针
- B. 确立了“思想建党、政治建军”的原则
- C. 标志着中国共产党从幼年走向成熟
- D. 为争取抗日战争的胜利和实现中国的光明前途准备了条件

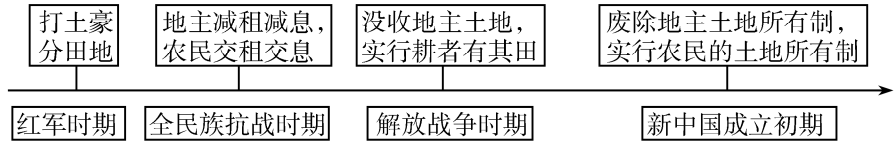


图 3

13. 某记者在报道中写到:“这是一个令人振奋的消息,标志着祖国大陆获得了统一,各族人民实现了大团结。”材料中的“消息”是()
- A. 渡江战役的胜利
- B. 开国大典的举行
- C. 西藏和平解放
- D. 海南岛获得解放
14. 2021 年是“十四五”开局之年,是中国现代化建设进程中具有特殊重要性的一年。某中学准备举办一场“一五”计划成果图片展,下列哪一图片不适合采用()



- A. 武汉长江大桥 B. 第一架喷气式飞机 C. 南京长江大桥 D. 第一辆解放牌汽车
15. 下列年代尺反映了中国共产党在不同时期的土地政策。这表明中国共产党()



- A. 不断扩大农村革命根据地
- B. 放弃攻打中心城市计划
- C. 建立根据地抗日民主政权
- D. 重视发挥农民阶级的作用
16. 近年来,中国特色大国外交全面推进,下列邮票反映出我国的外交()



二十国集团杭州峰会邮票



上海合作组织青岛峰会邮票



“一带一路”国际合作高峰论坛邮票

- A. 提出了“求同存异”的方针
- B. 出现了与各国建交的热潮
- C. 实现了中美关系的正常化
- D. 形成了全方位的外交布局
17. “古埃及文化的光辉成就,是在与周边文明的交往中吸收了不少有益的养分,得益丰富充实和壮大的结果。这一过程促使埃及文化的外向辐射与传播。”以下史实能够体现“埃及文化的外向辐射与传播”的是()
- A. 阿拉伯数字
- B. 儒略历
- C. 楔形文字
- D. 种姓制度

18. 图 4 是刘小明同学学习世界古代某一部法律文献时制作的知识卡片。请判断,他学习的是()
- A.《权利法案》
- B.《拿破仑法典》
- C.《罗马民法大全》
- D.《汉谟拉比法典》

时间: 公元6世纪二十年代
内容: 承认奴隶制,但在一定程度上改善了奴隶的地位,对财产、买卖、债务,契约关系等作出明确规定。
影响: 奠定了欧洲民法的基础

图 4

19. 托马斯·潘恩在 1776 年发表的《常识》中写道:“不列颠对这个大陆的统治,是一个迟早要结束的政权形式。”同一时期发表的一份文件与该书相互呼应,构成了磅礴的舆论氛围。此文件是()
- A.《权利法案》
- B.《独立宣言》
- C.《共产党宣言》
- D.《人权宣言》
- 20.《剑桥欧洲经济史》写道:“机器都在执行着一种新规律,纺工不再像过去那样在家里无拘无束地摇车纺纱了,织工也不能像过去那样在家里自由自在地投梭织布了。现在,他们必须在工厂中按照没有生命疲倦的机器设备所确定的速度工作。”材料主要说明了工业革命()
- A. 改变了生产生活方式
- B. 提高了社会生产力水平
- C. 改变了传统家庭结构
- D. 提高了人们的生活水平
21. 阅读并分析表 2,促成表中数据变化的原因是()

表 2 19 世纪六、七十年代俄国机器制造业统计表

时间	企业数(个)	工人数(人)	产值(千卢布)
1860 年	99	11600	7954
1879 年	187	42000	51937

- A. 废除农奴制改革
- B. 彼得一世改革
- C. 十月革命的胜利
- D. 社会主义工业化建设
22. “一个能思考的人,才真是一个力量无边的人”。他凭借这种精神创造出人类文学史上罕见的文学精品,被称为法国社会的“百科全书”,该文学作品是()
- A.《向日葵》
- B.《人间喜剧》
- C.《命运交响曲》
- D.《战争与和平》
23. 据法新社报道,美国总统拜登 2021 年 2 月 19 日在慕尼黑安全会议上表示,美国并不寻求回到“冷战的僵化阵营”中,国际社会必须在新冠疫情和气候变化等问题上共同努力。回顾历史,“冷战”开始的标志是()
- A. 丘吉尔发表“铁幕”演说
- B. 杜鲁门主义的提出
- C. 实施马歇尔计划
- D. 组建北大西洋公约组织
24. 斯塔夫里阿诺斯在《全球通史》中说:“一个崭新的世界政治格局开始出现。……欧洲(西欧)不再是世界棋盘上的一个卒子。”为了摆脱“卒子”的地位,二战后西欧()
- A. 实行不结盟的外交政策
- B. 接受美国的经济援助
- C. 与美苏展开激烈的竞争
- D. 走上联合发展的道路
25. 世界贸易组织总干事阿泽维多称,中美之间全面爆发的贸易战将“对全球经济产生严重

影响“，全球经济增长有可能“很快“下滑,这也让世界贸易组织面临“最艰难的时刻”。这说明了()

- A. 经济全球化造成各国之间经济发展不平等
- B. 贸易保护主义严重阻碍世界经济发展
- C. 经济全球化过程中发达国家必须加强合作
- D. 当今世界政治多极化趋势进一步加强

第Ⅱ卷(非选择题 共 50 分)

第Ⅱ卷为非选择题,共 4 道题,第 26 题 14 分,27 题 12 分,第 28 题 12 分,29 题 12 分,共 50 分。

26. (14 分)以习近平同志为核心的党中央对少数民族群众和地区特别关心,把“铸牢中华民族共同体意识”写入党章,推动我国民族工作进入新时代。阅读材料,回答问题。

材料一 孝文帝的汉化改革实在是关系到整个中华大地再次统一的重大事件,这是因为文明的内容与程度的相对接近才是国家统一昌盛的真正基础。

——李凭、袁刚《魏晋南北朝时期中华文明发展脉络》

(1)根据材料一并结合所学知识,分析孝文帝汉化改革的意义。(3 分)

材料二 贞观年间突厥既亡,其降唐者尚十万,诏群臣议区处之宜,……彦博曰:“孔子曰:若赦其死亡,授之生业,教之礼仪,数年之后,悉为吾民。”上卒用彦博策。

——摘自《资治通鉴》

(2)材料二中的“上”采取了怎样的民族政策? 贞观年间促成“汉藏一家亲”的是哪一件大事?(2 分)

材料三 元朝是中国历史上首个由少数民族建立的大一统王朝,疆域辽阔,民族众多。为加强对全国的统治,元朝采取了一系列措施,其中建立的地方行政制度一直沿用至今,对后世行政区划影响很大,并对不同地区实施有针对性的管理。

——《中国古代史史料汇编》

(3)阅读材料三并结合所学知识回答,元朝在地方上创立的影响后世的行政制度是什么? 元朝政府又是怎样加强对西藏地区行政管理的?(3 分)

材料四 清代的雍正皇帝曾说,“中国之一统,始于秦。塞外之一统,始于元,而极盛于我朝”。

——摘自刘晓东《“华夷一家”与新的“大一统”》

(4)结合所学知识,“塞外之一统,始于元,而极盛于我朝”中“我朝”对于西南边疆地区的管理措施有哪些?(3 分)

材料五 习近平总书记指出“多民族的大一统,各民族多元一体,是老祖宗留给我们的一

笔重要财富,也是我们国家的一个重要优势”。中国共产党把马克思主义民族理论同统一的多民族国家的国情相结合,创造性地探索出了解决我国民族问题的正确道路。

——摘自《学习强国》平台

(5)中国共产党创造性地探索出解决我国民族问题的正确道路是什么? 纵观中华民族的发展史,我们应该树立怎样的国家和民族观?(3 分)

27. (12 分)中国近现代史上,中国人民为争取民族独立,实现国家的繁荣富强的中国梦,进行了不懈的探索。阅读下列材料,回答问题。

材料一 19 世纪 70 年代,洋务派创办了一批民用工业。如李鸿章创办轮船招商局,张之洞创办汉阳铁厂。这些企业虽由官府控制,但吸收私人资本,产品投放市场。当时外商企业垄断民用工业,洋务派希望兴办民用工业同外国人竞争,“分洋商之利”,同时给军事工业提供资金、燃料。

——摘编自《中国近现代史》上册

(1)据材料一,指出洋务派创办民用企业的目的和民用企业的特点。(4 分)

材料二 民国早期的特征是道德沦落、军阀割据……明显地,采取共和体制而带来的政治面貌,并不足以革新国家,还需要有一些更基本的东西来唤醒国家及人民。受过西方教育或影响的新知识分子,进行一场激烈的社会变革。这场思想革命有时被描述为“中国的文艺复兴”。

——徐中约《中国近代史》

(2)材料二中“中国的文艺复兴”指的是哪一件事? 结合史实说明在这场变革中,新知识分子是如何“唤醒国家及人民”的?(3 分)

材料三 只有中国共产党的诞生和奋斗,才把中国从黑暗引向了光明。在整个中国革命中,中国共产党为了实现“中国梦”牺牲了数百万优秀共产党员,中华民族牺牲了上千万英雄儿女,英烈们的鲜血染红了五星红旗。对于这段历史、对于为这段历史而献身的先烈,中国人要永远铭记。

——摘自《百度百科——中国梦》

(3)结合材料三和所学知识,中国共产党通过找到一条怎样的正确道路“把中国从黑暗引向了光明”?(2 分)

材料四 实现中国梦必须走中国道路,这就是中国特色社会主义道路。这条道路来之不易,它是在改革开放 30 多年的伟大实践中走出来的,是在中华人民共和国成立 60 多年的持续探索中走出来的,是在对近代以来 170 多年中华民族发展历程的深刻总结中走出的。

——习近平《在第十二届全国人大第一次会议上的讲话》

(4)根据材料四,要实现“中国梦”必须以什么理论为指导? 作为新时代的中学生,谈谈

你对中国梦的实现做出哪些努力？（3分）

28.（12分）党的十九届四中全会指出，中国特色社会主义制度和国家治理体系是以马克思主义为指导、植根中国大地、具有深厚中华文化根基、深得人民拥护的制度和治理体系，是具有强大生命力和巨大优越性的制度和治理体系。阅读材料，回答问题。

材料一 虽然我国在对农业、手工业、资本主义工商业的社会主义改造目标模式，还是以苏联为榜样，但在具体的改造道路还是有中国自己特色的。中国共产党在实践中创造性地开辟了一条具有中国特色的社会主义改造道路。

——张岂之《中国历史·中华人民共和国史》

（1）材料一中，“在具体的改造道路”方面是如何体现“中国自己特色的”（试举一例）？社会主义改造哪一年完成的？有何重要意义。（4分）

材料二 图5 20世纪50-70年代我国经济发展曲线图

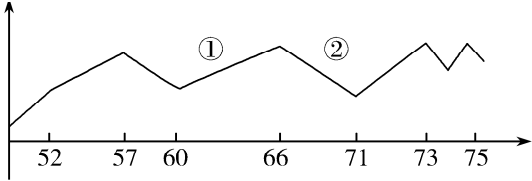


图5

（2）根据材料二提供的信息和所学知识回答，图5中①处代表六十年代前半期经济发展快速上升，这主要得益于1961年初开始实施的什么措施？1966年发生的造成图中②处经济大幅下降的重大历史事件是什么？（2分）

材料三 表3 中国改革开放若干大事

<u>A</u> 年	中共十一届三中全会提出“改革开放”的决策
1992 年	中共十四大确立 <u>B</u> 的改革目标
2001 年	中国正式加入 <u>C</u>
2013 年	全面深化改革；中国提出“一带一路”设想
2020 年	脱贫攻坚，全面建成小康社会
2021—2025	十四五规划

（3）改革是社会主义制度的自我完善和发展，根据所学知识填全表格3空格处内容。（3分）

材料四 站在“两个一百年”奋斗目标的历史交汇点上，这份新时代新征程的逐梦蓝图不仅关乎14亿中国人民的未来福祉，更将为全世界发展带来更多“中国机遇”！……在

我国全面建成小康社会之后，“十四五”将开启我国的新征程。

——学习强国

（4）2021年我们完成了第一个百年目标，材料四中下一个“我国的新征程”是什么？结合上述材料和所学知识，请你为实现这一新征程目标提出一条合理化建议。（3分）

29.（12分）2020年5月，美国明尼苏达州黑人男子被警员制服期间死亡，事件挑起了黑人及白人们大规模抗议示威和骚乱，重现了1992年洛杉矶种族骚乱的一幕。阅读材料，回答问题。

材料一 新航路开辟后，西欧国家的殖民扩张和掠夺，给殖民地人民带来了深重的灾难。在美洲，土著居民印第安人因殖民者的屠杀以及欧洲染病的侵袭，种族几乎灭绝。土著居民劳动力的锐减，又引起罪恶的黑奴贸易，时间长达三四百年。

——摘编自李其荣《世界通史》

（1）根据材料一，分析美洲当地劳动力锐减的主要原因。并根据所学知识指出，以贩卖黑奴为中心的贸易又被称为什么？（3分）

材料二 人人生而平等，他们都从他们的“造物主”那边被赋予了某些不可转让的权利，为了保障这些权利，所以才在人们中间成立政府。众议院议员人数及直接税额应按合众国所辖各州人口之多寡分配于各州。此项人口数目包括所有公民及五分之三非公民，但未被课税之印第安人不算。（注：黑人按五分之三比例加入州总人口来计算。）

——摘编自《美利坚合众国宪法》（1787年）

（2）根据材料二及所学知识，说明1787年美国宪法并未体现出“人人生而平等”的理由。（3分）

材料三 一百年前，一位伟大的美国人签署了《解放黑奴宣言》，今天我们就是在他雕像前集会。这一庄严宣言犹如灯塔的光芒，给千百万在那摧残生命的不义之火中受煎熬的黑奴带来了希望。它的到来犹如欢乐的黎明，结束了束缚黑人的漫漫长夜。

——摘编自马丁·路德·金著名演讲《我有一个梦想》

（3）材料三中，马丁·路德·金说的这位“伟大的美国人”是谁？他签署的宣言在当时起到了怎样的积极作用？美国内战后联邦获得新生，为美国在19世纪末20世纪初崛起为世界头号工业强国开辟了道路，可见美国内战的性质是什么？（4分）

材料四 习近平同志指出：“不同民族、不同文明多姿多彩，各有千秋，没有优劣之分，只有特色之别。”“今天，人类生活在不同文化、种族、宗教和不同社会制度所组成的世界里，各国人民形成了你中有我、我中有你的命运共同体。”

——摘编自《人民日报》（2019年5月15日）

（4）根据上述材料，谈谈你对世界“不同民族、不同文明”和谐共处的认识。（2分）