

中考历史模拟卷(四)

注意事项:

1. 本试卷分第 I 卷(单项选择题)和第 II 卷(非选择题),共 8 页,满分 100 分,考试时间 60 分钟。答卷前,考生务必用 0.5 毫米黑色签字笔将自己的姓名、准考证号、座号填写在试卷和答题卡规定的位置。考试结束后,将本试卷和答题卡一并交回。
2. 答题注意事项见答题卡,答在本试卷上不得分。

第 I 卷(单项选择题 共 50 分)

第 I 卷为单项选择题,共 25 道题,每题 2 分,共 50 分。在每题所列出的四个选项中,只有一项是最符合题目要求的。

1. 仰韶文化是新石器时代晚期的一种文化,因 1921 年首先在河南渑池仰韶村发现而得名。距今约 7000—5000 年,分布在陕西、河南、山西等地区,并分为不同的文化类型。下列哪一文化遗址最可能是考古学家研究仰韶文化类型的对象()
A. 元谋人遗址 B. 北京人遗址 C. 半坡遗址 D. 河姆渡遗址
2. “卫鞅亡(逃)魏入秦,(秦)孝公以为相,封之于商,号曰商君。商君治秦,法令至行,公平无私,罚不讳强大,赏不私亲近……期年之后,道不拾遗,民不妄取,兵革大强,诸侯畏惧。”材料反映出关于商鞅变法的信息有()
①商鞅得到秦孝公的赏识和支持 ②变法损害了旧贵族利益,商鞅遭贵族诬陷 ③商鞅变法执法严明、不徇私情 ④商鞅变法提高了军队战斗力,令诸侯畏惧
A. ①③④ B. ①②④ C. ②③④ D. ①②③
3. 历史地图直观地再现历史。图 1(见下面)反映的历史现象是()
A. 西周的分封制 B. 春秋争霸 C. 战国诸侯争霸 D. 三国鼎立
4. 图 2 是北魏陶俑,三位女乐俑都头戴十字髻,上身穿交领短衣,下着长裙。她们呈跪坐姿态,一人高歌,二人抚琴伴奏。从该文物可以获得的北魏信息不包括()
A. 文化生活 B. 民族交融 C. 重文轻武 D. 衣着服饰



图 1



图 2



图 3

5. 2021 年河南春晚《唐宫夜宴》(图 3)(见上面)火爆出圈,“鬓云欲度香腮雪,衣香袂影是盛唐”,将大唐盛世的锦绣繁华展现得淋漓尽致。下列对唐朝繁荣开放的社会风气表述不正确的是()

- A 社会风气开放,兼容并包
C. 刚健豪迈,尚武风气盛行
- B. 昂扬进取,积极向上的风貌
D. 城市繁荣,出现瓦子勾栏
6. 图4所示历史人物发动兵变,夺取前朝政权,建立新朝代。下列对他统治期间的相关史实表述正确的是()
- ①结束割据局面完成王朝大一统 ②采取分化事权的办法削弱相权
③解除禁军将领的兵权牢牢控制军队 ④用文臣掌握军政大权
- A. ②③④ B. ①②③ C. ①③④ D. ①②④
7. 元朝在地方实行行省制度,行省“掌国庶务,统郡县,镇边鄙……凡钱粮、兵甲、屯种、漕运、军国重事,无不领之……”,但地方官吏的选用主要由中书省和吏部负责。这表明元朝()
- A. 地方拥有适度权力 B. 地方缺乏实际权力
C. 行省权力集中专断 D. 君主专制得以加强
8. 一个有希望的民族,不能没有英雄。一个有前途的国家,不能没有先锋。中值得我们纪念的英雄。“永乐满朝人济济,西洋万里水茫茫。星牵沧海云纽带长。”;“封侯非我意,但愿海波平”。这两组诗句分别与下图中的关()



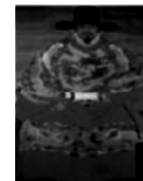
图 4



①鉴真



②郑和



③戚继光



④郑成功

- A. ①④ B. ②③ C. ②④ D. ③④
9. “《马关条约》的签订,给予中国的打击是世纪性的。领土的割让使中国经历半个世纪的分裂,巨额的赔款使清王朝无力自救……刺激了帝国主义列强对中国的侵略……”据此,可以得出的结论是()
- A. 中国的领土主权开始遭到破坏 B. 中国开始沦为半殖民地半封建社会
- C. 中国半殖民地化程度大大加深 D. 中国完全沦为半殖民地半封建社会
10. 费正清在《观察中国》中写道:“从 1901 年到 1937 年新征服者来临之前的这段时间,是外国人在北京少有的快乐时期,是一个外国人享有特权和特殊自由的时代,他们可以毫无阻碍地深入到中国人的生活中。”这一现象的出现主要是哪个事件的结果()
- A. 外国公使进驻北京 B. 《辛丑条约》的签订
- C. 甲午战争中国战败 D. 日本签订《二十一条》
11. 张謇说:“起而革命者,代不乏人,然不过一朝一姓之变革而已。孙中山之革命,则为国体之改革,与一朝一姓之变革迥然不同。”“孙中山之革命”的历史意义有()
- ①政治上否定了两千多年的封建帝制 ②经济上有利于民族资本主义的发展 ③思想上使民主共和观念深入人心 ④社会生活上有利于人民生活的近代化
- A. ①④ B. ①② C. ②③④ D. ①②③④
12. 1941 年 12 月 24 日至 1942 年 1 月 15 日,中国军队在第三次长沙会战中消灭日军数万人,取得大捷。此战役是珍珠港事件爆发后盟军对日军的首场胜利,引起了当时世界媒体的

广泛关注。美国总统罗斯福也称：“盟军的胜利全赖华军长沙大捷。”由此可知,此次长沙会战胜利()

- A. 提高了中国抗日战争的国际影响 B. 使中国抗日战争进入了相持阶段
C. 粉碎了日军“不可战胜”的神话 D. 是抗战以来正面战场最大的一场胜利

13. 城镇人口数量的变化能反映一个国家经济发展的状况。下列选项中与图 5 现象直接相关的是()

- A. “一五”计划实施
B. 新中国成立后进行土地改革
C. 大跃进和人民公社化运动的开展
D. 新时期工业发展的成就

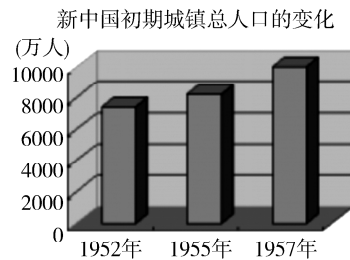


图 5

14. 宁可在《中国经济发展史》中说“我国的经济体制改革在经历了 80 年代初以农村政革为重点的第一阶段,80 年代中后期以城市为重点、城乡联动,……以中国共产党十四大为标志,改革进入了新阶段。”“改革进入了新阶段”的主要表现是()

- A. 建设有中国特色的社会主义 B. 建立社会主义市场经济体制
C. 为全面建设小康社会而奋斗 D. 全力实现中华民族伟大复兴

15. 习近平主席在世界经济论坛 2017 年年会开幕式上发表题为《共担时代责任,共促全球发展》的主旨演讲,在今年 1 月 25 日以视频方式出席世界经济论坛“达沃斯议程”对话会时又发表题为《让多边主义的火炬照亮人类前行之路》的特别致辞,在国际格局演变转折关头作出了重大宣示,发出了时代最强音。这说明,当前中国坚持的外交方针是()

- A. 促进全球化,践行多边主义 B. 坚持独立自主的和平外交方针
C. 全面推广和平共处五项原则 D. 求同存异,推进全方位外交

16. 20 世纪 50 年代,我国文化事业取得累累硕果。毛泽东在中共中央政治局扩大会议上说:“‘百花齐放,百家争鸣’,我看这应该成为我们的方针。”这一方针的提出主要是为了()

- A. 推动中国外交事业的新发展 B. 促进改革开放再上新台阶
C. 繁荣社会主义文艺科学事业 D. 加快社会主义的国防事业

17. 2021 年 1 月 1 日被称为“社会生活百科全书”的《中华人民共和国民法典》正式施行,宣告中国“民法典时代”正式到来。回望历史,1400 多年前的拜占庭帝国也曾编纂法典对财产、买卖、债务、契约关系等作出明确规定,奠定了欧洲民法的基础。该法典是()

- A. 《十二铜表法》 B. 《人权宣言》 C. 《拿破仑法典》 D. 《罗马民法大全》

18. 阿拉伯帝国地处欧、亚、非三大洲的交界处,阿拉伯学者在吸收、消化外来文化的基础上,创造了光辉灿烂的阿拉伯文化。观察图 6 所示的地图,图中 A 处是历史上第一个伊斯兰教国家建立的地点,A 处是()

- A. 麦地那
B. 麦加
C. 耶路撒冷
D. 开罗



阿拉伯的统一与扩张

图 6

19. 中世纪被称作欧洲历史的“黑暗时代”,传统上认为这是欧

洲文明史上发展比较缓慢的时期。但是,中世纪晚期欧洲有了新变化,主要表现在()

- A. 租地农场和庄园的出现 B. 手工工场和租地农场的出现
C. 庄园和大学的兴起 D. 手工工场和庄园的出现

20. 油画《拿破仑翻越阿尔卑斯山》(图 7),骑着高头大马的拿破仑化身外卖小哥,幸福千万家。从推进人类文明发展角度看,历史上拿破仑翻越阿尔卑斯山侵入意大利的同时也带货了。他带的“货”是()

- A. 推翻法兰西第一帝国的统治
B. 传播法国大革命思想和精神
C. 打败反法联盟,控制地中海
D. 压榨欧洲各国人民和掠夺资源



图 7

21. 图 8 为国际社会主义运动整体发展趋势示意图,其中②处对应的历史事件()

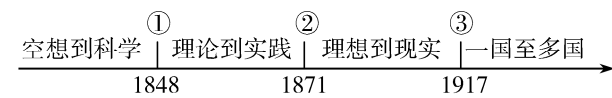


图 8

- A. 建立了世界上第一个无产阶级政权 B. 标志着科学社会主义的诞生
C. 建立了第一个无产阶级专政的国家 D. 推动了国际共产主义运动兴起和发展

22. 历史学家杜维运认为:“历史叙事和历史解释是历史的两大要素。所谓历史叙事,一般来讲,是叙述以往发生过的事件;所谓历史解释,大致是阐明历史发展的轨迹及其意义所在。”下列属于历史叙事的是()

- A. 明治维新使日本走上了发展资本主义的道路
B. 罗斯福新政增强了美国政府的宏观调控能力
C. 十月革命是人类历史上第一次胜利的社会主义革命
D. 1991 年 12 月 25 日,苏联红旗从克里姆林宫上空降下

23. 《全球通史》一书中写道:第二次世界大战后,不可阻挡的革命浪潮席卷诸殖民帝国,极其迅速地结束了欧洲的统治……战后的 30 多年,总共有 96 个国家赢得了独立。上述材料旨在说明第二次世界大战()

- A. 是人类历史上的一场浩劫 B. 粉碎了帝国主义称霸世界的野心
C. 瓦解了资本主义世界殖民体系 D. 对维护世界和平产生深远的影响

24. 2020 年 3 月 2 日起,中国成为联合国安理会轮值主席国。中方表示将把工作重点放在:加强多边主义,促进非洲和平与发展,发挥联合国维和行动关键作用等方面。这说明()

- A. 中国在联合国事务中发挥重要作用 B. 联合国安理会是联合国的主要机构
C. 中国恢复在联合国的一切合法权利 D. 疫情影响下世界地区冲突有所缓和

25. 图 9 漫画反映了美国发动贸易战大搞贸易保护主义并扬言要退出世界贸易组织的情形。漫画说明()

- A. 经济全球化是不可阻挡的发展趋势
B. 美国逆全球化的行为不利于世界经济的发展,并将自食其果
C. 在经济全球化的浪潮下,发达国家处于不利地位
D. 发展中国家应积极主动参与经济全球化进程



图 9

第Ⅱ卷(非选择题 共 50 分)

第Ⅱ卷为非选择题,共 4 道题,第 26 题 14 分,27 题 12 分,第 28 题 12 分,29 题 12 分,共 50 分。

26. (14 分)在中国几千年的文明史上,政治制度的确立、改革和不断完善,巩固了国家的统治和民族的统一。阅读下列材料,回答相关问题。

材料一 统一的第一个时期,大体是西周至秦。西周有一个中央政权,在中国北方黄河流域的范围之内发号施令,让自己的功臣、周室宗亲等等各种各样的人到东方去开辟土地。与周代的制度相比,秦汉所形成的统一否定了周的这个政治制度,但是又不是绝对否定。

——田余庆《中国古代史上的国家统一问题》

(1)材料一中,西周政权依靠什么政治制度开发了黄河流域的东部地区? 秦朝统一后否定了这个制度,在全国推行什么制度?(2 分)

材料二 汉兴之初,海内新定,同姓寡少,惩戒亡秦孤立之败,于是剖裂疆土,立二等之爵。功臣侯者,百有余邑;尊王子弟,大启九国……藩国大者,跨州兼郡,连城数十。然诸侯原本以大,末流滥以致溢,小者淫荒越法,大者睽孤横逆,以害身丧国。

——《汉书》

(2)据材料二指出汉初的地方行政制度发生了什么变化? 这一变化严重威胁了西汉中央集权。对此,汉武帝时采取了什么有效措施?(4 分)

材料三 从本质上看,宋代只不过是残唐五代的延续,宋代之所以国祚长久,没有短命而亡,只是因为宋太祖断绝了武人专政的传统……宋代的中央政府管理体系多头分权,效率并不很高。

——许倬云《大国霸业的兴废》

(3)结合所学知识,指出宋太祖为断绝“武人专政的传统”采取的政策。据材料三,指出这一政策的弊端。(4 分)

材料四 “自秦始置丞相,不旋踵而亡。汉唐宋因之,虽有贤相,然其间所用者,多有小人,专权乱政。今我朝罢丞相,设五府、六部……分理天下庶务,彼此颉颃(注:互相抗衡),不敢相压。事皆朝廷总之,所以稳当。”

——《明太祖实录》

(4)根据材料四和所学知识,明太祖采取了哪些措施加强皇权?(4 分)

27. (12 分)2021 年是中国共产党成立 100 周年,中国共产党诞生以来,从弱到强,历经风雨,从挫折中一步步走向胜利辉煌。阅读下列材料,回答相关问题。

材料一 五四运动以来的 100 年,是中国青年一代又一代持续奋斗、凯歌前行的 100 年

……在我们党领导人民进行革命、建设、改革的伟大历史进程中更是青年英雄辈出。中共一大召开时毛泽东是 28 岁,周恩来参加中国共产党时是 23 岁,邓小平参加旅欧中国少年共产党时是 18 岁……黄继光牺牲时是 21 岁……航天报国的嫦娥团队、神舟团队平均年龄是 33 岁……让青年英雄成为驱动中华民族加速迈向伟大复兴的蓬勃力量!

——习近平在纪念五四运动 100 周年大会上的讲话

(1)根据材料一并结合所学知识,指出“中共一大”召开的时间、地点? 材料强调了一百年来党的事业从弱到强一步步走向辉煌的重要因素是什么?(4 分)

材料二 陈云在 1935 年 10 月 15 日向共产国际报告遵义会议情况时就说:“我们撤换了‘靠铅笔指挥的战略家’,推选毛泽东同志担任领导。与此同时,在长征途中和毛泽东一起劈波斩浪的一批领袖人物,也在这危难时刻的风头浪尖上经受了锤炼。”

——摘自蒋健农《遵义会议后中国革命的历史性转折》

(2)根据材料二,结合所学知识指出遵义会议纠正了什么错误? 这次会议的召开有何标志性意义?(3 分)

材料三 “目前摆在中国人民面前的有两个前途。美帝国主义和国民党反动派,要使中国回到不独立、不自由、不民主、不统一、不富强的老状态里。这是个黑暗的前途。中国共产党和中国人民要彻底打败日本侵略者,把中国建设成为一个独立、自由、民主、统一、富强的新国家。这是个光明的前途。我们要努力争取实现光明的前途。”

——摘自毛泽东在中共七大上的报告《论联合政府》

(3)根据材料三并结合所学知识,指出在这次大会上制定的党的政治路线是什么?(2 分)

材料四 中国共产党具有建设自己、完善自己的能力,在不同的环境下,面对不同的问题,党都能实现自身的转变。20 世纪 30 年代和 70 年代,在面临严重的国难局面时,党召开了两次会议,及时纠正“左”倾错误,确立了新的领导核心,实现了历史性的转折。

——摘编自《学习强国》

(4)写出材料四中“20 世纪 70 年代召开的会议”的名称,结合所学知识,概括其实现了怎样的“历史性转折”? (3 分)

28. (12 分)21 世纪以来第 18 个指导“三农”工作的中央一号文件《中共中央国务院关于全面推进乡村振兴加快农业农村现代化的意见》2021 年 2 月 21 日由新华社授权发布,凸显了党对“三农”工作的全面领导。回顾历史,党和政府为解决“三农”问题,采取了一系列措施,取得了巨大成就,但也不乏沉痛的教训。阅读下列材料,回答问题。

材料一 土地改革的基本内容就是没收地主阶级的土地,分配给无地或少地的农民。这样,当作一个阶级来说,就是在社会上废除了地主这一个阶级,把封建剥削的土地所有制改变为农民的土地所有制。这样一种改革,诚然是中国历史上几千年来一次最大、最

彻底的改革。

——刘少奇《关于土地改革问题的报告》

(1) 根据材料一和所学知识,指出刘少奇说土地改革是“中国历史上几千年来一次最大、最彻底的改革”的依据是什么?(2 分)

材料二 《中共中央关于农业生产互助合作的决议(草案)》指出:“……必须提倡组织起来,按照自愿互利的原则发展农民的劳动积极性。”1953 年到 1955 年,农业互助合作社继续稳定发展,这时期建立起来的合作社,80% 以上增产增收,15% 持平,5% 减产减收。

——林志坚《新中国要事述评》

(2) 材料二反映了什么运动的开展? 据所学知识指出这场运动的重大意义。(4 分)

材料三 1958 年 5 月 27 日的《人民日报》上有这样的标题:《人有多大胆,地有多大产》《寿张北台社亩产 10546 斤》;1958 年 8 月 13 日的《人民日报》上有这样的标题:《麻城建国一社出现天下第一田,早稻亩产三万六千九百多斤》《福建海星社创花生亩产一万零五百斤纪录》。

材料四 1958 年 10 月,某县委书记作报告:“人人进入新乐园,吃喝穿不用花钱;鸡鸭鱼肉味道鲜,顿顿可吃四个盘;天天可以吃水果,各样衣服穿不完;人人谈论天堂好,天堂不如新乐园”。

——材料三、四均摘自《百度文库》

(3) 材料三和材料四分别反映了当时我国农村发生了什么历史事件? 这些事件在当时产生了怎样的影响?(4 分)

材料五 2013 年至 2016 年,我国现行标准下的农村贫困人口由 9899 万人减少至 4335 万人,年均减少 1391 万人。截至 2016 年底,自然村通电接近全覆盖,道路硬化达到 77.9% ,91.4% 的所在自然村有卫生站。中国改革开放 40 多年来,成功使 7 亿多人口摆脱贫困,对世界减贫贡献率超过 70% 。

——摘编自董铭胜《脱贫攻坚砥砺奋进的五年》

(4) 根据材料五,概括中国改革开放 40 多年脱贫攻坚取得的伟大成就。(2 分)

29. (12 分)“人类只有一个地球,人类也只有一个共同的未来”,面对危机和挑战,任何一个国家不可能“独善其身”。阅读下列材料,回答相关问题。

材料一 1929 年,在金融风暴的中心华尔街,投机活动高涨最终导致股票市场崩盘,引发旷日持久的经济大萧条。美国经济崩溃迅速对欧洲产生了不良影响,尤其是德国。……1933 年初,德国工业产量仅为 1929 年的一半,失业人数却是 1929 年的 3 倍,即有 600 万人失业。

——据[美]费利克斯·吉尔伯特、大卫·克莱·拉奇《现代欧洲史》

(1) 根据材料一并结合所学知识,美国、德国为走出困境分别采取了什么措施?(2 分)

材料二 30 年代的世界局势并未像美国所希望的那样向前发展,反而出现了越来越不利于美国的变化,最终迫使美国走上了反法西斯战争的道路。局势的变化首先表现在美国主张的“欧洲均势”政策被打破。……其次,美国在远东地区的利益日益受到威胁和损害。

——刘国玲《论二战中美国从中立到参战的原因及其影响》

(2) 根据材料二,请分析不利于美国“局势的变化”有哪些? 最终迫使美国走上了反法西斯战争的道路的事件是什么?(3 分)

材料三 20 世纪 90 年代初,随着东欧剧变和苏联解体,美苏对峙和争霸的两极格局崩溃,国际力量的对比发生了深刻的变化。战后欧洲合作与发展,是一个让人心动的选项,合作是从法国和德国这两个欧洲中西部面积最大的国家开始的,这两国是宿怨深厚的邻居,……历史给这两个持续对抗了几个世纪的国家两败俱伤的惨痛教训,也启迪了他们相逢一笑泯恩仇的政治智慧。

——摘自《大国崛起》解说词

(3) 根据材料三并结合所学知识,举例说明法国和德国“宿怨深厚”。他们“相逢一笑泯恩仇的政治智慧”指什么? 这一智慧发挥了什么作用?(3 分)

材料四 “当前,公平问题日益突出,南北差距有待弥合,可持续发展事业面临严峻挑战。疫情之下,各国经济复苏表现分化,南北发展差距面临扩大甚至固化风险。广大发展中国家普遍期望获得更多发展资源和空间,要求在全球经济治理中享有更多代表性和发言权。应该看到,发展中国家发展起来了……为发展中国家发展提供必要支持,保障发展中国家正当发展权益,促进权利平等、机会平等、规则平等,让各国人民共享发展机遇和成果。”

——习近平 2021 达沃斯世界经济论坛演讲

(4) 根据材料四结合所学知识回答,二战后,广大发展中国家已经国际政治舞台的一支重要力量的标志是什么? 当前广大发展中国家主要诉求是什么?(2 分)

材料五 “过去一年,突如其来的新冠肺炎疫情肆虐全球,全球公共卫生面临严重威胁,世界经济陷入深度衰退,人类经历了史上罕见的多重危机。……人类只有一个地球,人类也只有一个共同的未来。无论是应对眼下的危机,还是共创美好的未来,人类都需要同舟共济、团结合作。实践一再证明,任何以邻为壑的做法,任何单打独斗的思路,任何孤芳自赏的傲慢,最终都必然归于失败! 让我们携起手来,让多边主义火炬照亮人类前行之路,向着构建人类命运共同体不断迈进!”

——习近平 2021 达沃斯世界经济论坛演讲

(5) 根据材料五和所学知识,谈一下你对构建“人类命运共同体”的认识。(2 分)