

二年级数学

时间:60分钟 满分:100分

题号	一	二	三	四	五	六	总分
得分							

一、填空题。(每空1分,共34分)

1. 长方形和正方形都有()条边,()个角,这些角都是()角。长方形和平行四边形中,()边相等。

2. 在括号里填上合适的单位或时间。

奇奇今年8岁,身高1()20(),体重32()。他早上起床后,洗完脸,用长约2()的牙刷刷牙,然后吃早饭,妈妈准备的早饭里有一个质量是60()的鸡蛋。他早上7:20从家出发去上学,大约20分钟后到达学校,到达学校的时刻约是早上()。

3. (1)由4个一、2个十和7个百组成的数是(),这是一个()位数。

(2)1000的最高位是()位,它里边有()个100。

4. 在括号里填上合适的数。

4分米 = ()厘米 ()千克 = 1000克

100秒 = ()分()秒 ()米 = 300厘米

1时 = ()分 ()厘米 = 5米5分米

5. 在 $\square \div \bigcirc = 7 \cdots \blacklozenge$ 中,如果 $\bigcirc = 5$,则 \blacklozenge 最大是();如果 $\blacklozenge = 5$,则 \bigcirc 最小是()。

6. 找规律填数。

(1)230,260,290,(),()。

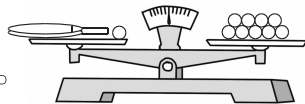
(2)880,860,(),(),800,()。

7. 超市要把60个粽子装进盒子里,每盒装8个,至少需要()个盒子才能全部装完。

8. 做同样的一张口算题卡,丫丫用了2分10秒,红红用了110秒,亮亮用了1分55秒,()做得最快。

9. 用4、0、2三个数字可以组成()个不同的三位数,其中最大的是(),最小的是()。

10. 一个小球的质量是10克,一个球拍的质量是()克。

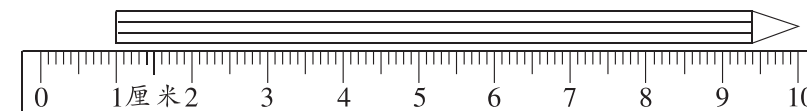


二、判断题。(对的画“√”,错的画“×”)(5分)

1. 平行四边形和正方形一样,四条边都相等。()
2. 所有三位数的最高位都是百位。()
3. 一瓶400克的果汁比2盒200g的牛奶重。()
4. 验算 $251 + 387 = 638$ 时,只能用 $387 + 251$ 来验算。()
5. 把28条金鱼放在鱼缸里,每个鱼缸可以放5条,求需要多少个鱼缸时可以列式为 $28 \div 5 = 5(\text{个}) \cdots 3(\text{条})$,所以需要5个鱼缸。()

三、选择题。(将正确答案的序号填在括号里)(10分)

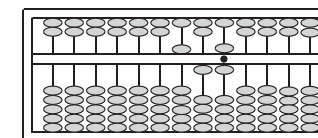
1. 下图中铅笔长()。



- ①10厘米 ②9厘米 ③10分米

2. 算盘上表示的数是()。

- ①112 ②512
③516



3. 钟面上,分针从数字3走到数字8,经过了()分钟。

- ①5 ②25 ③30

4. 从一张长30厘米、宽24厘米的长方形彩纸上剪下一个最大的正方形,这个正方形的边长是()。

- ①30厘米 ②24厘米 ③6厘米

5. 妈妈买来25枝鲜花,至少拿走()枝,剩下的可以平均插在三个花瓶里。

- ①1 ②3 ③4

四、计算题。(20分)

1. 直接写出得数。(4分)

$$80 - 36 = \quad 50 + 230 = \quad 290 - 40 = \quad 450 - 400 =$$

$$54 + 37 = \quad 76 \div 8 = \quad 130 + 600 = \quad 530 - 70 =$$

2. 列竖式计算。(带☆的要验算)(7分)


$$42 \div 8 = \quad 604 - 327 = \quad \star 634 + 267 =$$

3. 脱式计算。(9 分)

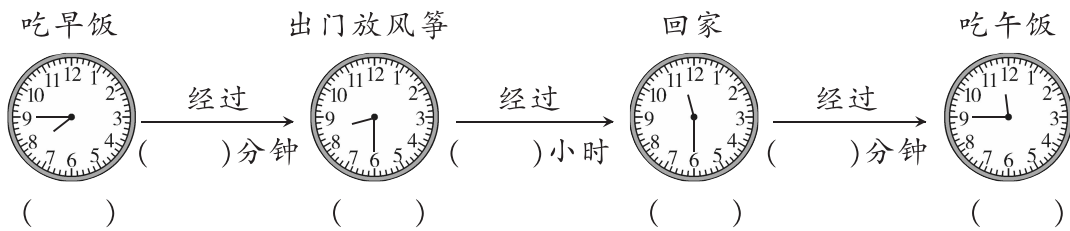
$478 - (151 + 49)$ $507 - 128 + 93$ $626 - 392 - 102$

五、操作题。(8 分)

1. 在下面的方格纸上画一个长方形、一个正方形和一个平行四边形。(3 分)



2. 下面是聪聪周日上午活动的时间安排。请你先写出钟面上的时间,再计算经过的时间。(5 分)



六、解决问题。(23 分)

1. 红红带 40 元钱去买笔记本,商店有两种不同价格的笔记本。

(1) 如果买每本 5 元的,可以买多少本?(3 分)



(2) 如果买每本 6 元的,最多可以买多少本,还剩多少钱?(3 分)

2. 李爷爷把自家的花放在购物网站上参加“买花助农”的活动,当天上午他接到 164 笔订单,下午接到 177 笔订单。这天一共接到了多少笔订单?(3 分)

3. 有“万里长城第一山”之称的角山,海拔 519 米。某天上午,角山景区接待了 359 名游客,中午离开了 198 名,下午又来了 284 名。下午角山景区内一共有多少名游客?(4 分)

4. 涉县花椒与核桃、柿子并称为“涉县三珍”。家住涉县的王叔叔去年卖出 336 千克花椒,今年比去年多卖出 192 千克。今年和去年一共卖出多少千克花椒?(4 分)

5.



原价:239 元
现价:205 元



原价:215 元
现价:197 元

(1) 裤子降价了多少元?(3 分)

(2) 商场在降价的基础上,还推出了“每满 400 元返还 100 元”的活动。买这样的一套衣服,实际上需要多少钱?(3 分)