

人教版数学一年级期末卷

一、填空题

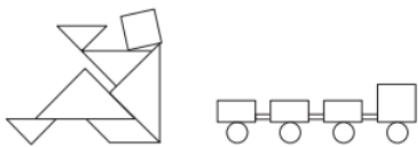
1.45里面有（ ）个十和（ ）个一；再添上（ ）个一就是50。

2.100表示（ ）个一，也可以表示（ ）个十，它比90多（ ）。

3.39前面的第三个数是（ ）。

4.用2、3、6这三数字中的两个组成一个两位数，可以组成的最大的数是（ ），最小的数是（ ）。

5.



	() 个
	() 个
	() 个
	() 个
	() 个

6.小朋友们排成一排做游戏，从左数小强是第8，从右数他是第9，这些小朋友一共有（ ）人。

- ①15
- ②16
- ③17

7.用（ ）个 可以拼成 。

- ①4
- ②6
- ③8

8.用 或 框出两个数，把它们相加。得数最小的是（ ），最大的是（ ）。（yòng huò kuàng chū liǎng gè shù , bǎ tā men xiāng jiā 。 dé shù zuì xiǎo de shì , zuì dà de shì）。

1	2	3
4	5	6
7	8	9


二、解答题

9.仔细想，认真填（*zǐ xì xiǎng, rèn zhēn tián*）。



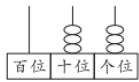
写作：__

读作：__



写作：__

读作：__



写作：__

读作：__

10.算一算。（*suàn yi suàn*）

$72-6-60=$

$34-(5+15)=$

$52-(21+9)=$

$28+7+30=$

$49+(19-9)=$

$40+(30+20)=$

$67+20-8=$

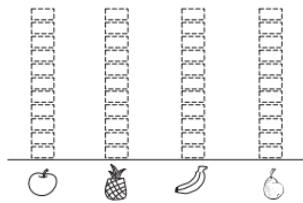
$30-(20-10)=$

$18-(17-8)=$

11.一（1）班同学最喜欢吃的水果情况如下图。（*yī (1) bān tóng xué zuì xǐ huān chī de shuǐ guǒ qíng kuàng rú xià tú.*）



1.分一分，数一数，再涂色。



2.最喜欢（ ）的人数最多，最喜欢（ ）的人数最少。

3.你还能提出其他数学问题并解答吗？

12.




(1) 一辆大巴车和一辆小汽车一共有多少个座位？

(2) 一辆中巴车比一辆大巴车少多少个座位？

(3) 17个学生最多可以坐满几辆小汽车？

13.



(1) 小华买一个 ，找回6元，他付了多少钱？

(2) 至少要花多少钱才能买到两样不同的东西？

14.小红一共买了22支笔，她可能买了哪两盒？

