

人教版数学一年级期末卷

一、填空题

1. 39里面有（ ）十和（ ）个一，它读作（ ），和它相邻的两个数是（ ）和（ ）。39再添上1个十是（ ）。

2. 18比6多（ ） 7比32少（ ）

3. 50角=（ ）元 15角=（ ）元（ ）角

1元-4角=（ ）角 9元=（ ）角

70分=（ ）角 12元-10角=（ ）元

4. 按规律填空。

(1) ☆ ○ ☆ ○ ○ ☆ ○ ○ ○ () () () () ()

(2) 50 48 46 44 () () ()

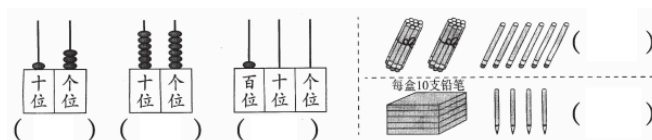
5. 在○里填上“>”“<”或“=”。

13-8○5 16-9○7 17-9-5○17-(9-5)

9个十○90个一 3元8角○35角 5元8角○60分

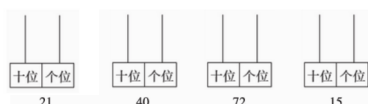
二、解答题

6. 看图写数，并把这些数按从大到小的顺序排列起来。



() > () > () > () > ()

7. 看数画珠子。



8. 直接写得数。

79-70=

80+5=

69-30=

14-8=

5+30=

32+8=

90-7=

65-9=

9.想一想，算一算。

14+6+37=

59-7-40=

64-7+20=

40+(11-5)=

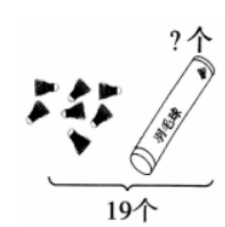
85-(30+20)=

46-(16-9)=

<i>suàn</i>	<i>yi</i>	<i>suàn</i>				
算	一	算				
被减数			56	57	100	69
减数			30		20	50
差				7	44	90

11.看图列式计算（*kàn tú liè shì jì suàn*）。

1.



□○□=□（个）

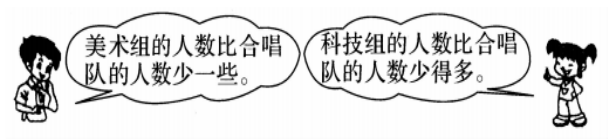
2.



□○□=□（只）

12. zài nǐ rèn wéi hé shì de dá àn xià miàn huà
在你认为合适的答案下面画“√”。

一年级合唱队有 30 人。

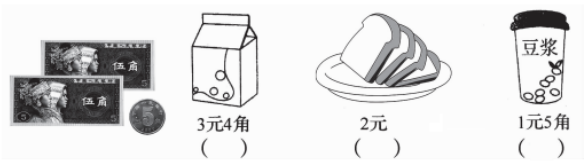


美术组可能有多少人? (画“√”) 科技组可能有多少人? (画“√”)

8 人	28 人	42 人

8 人	28 人	32 人

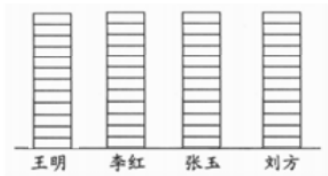
13. 下面给出的钱能买什么? 在能买的物品下面画“√”。



14. “学习小标兵”评比台。 (“xué xí xiǎo biāo bīng” píng bǐ tái。)

王明	●●●●●●●●
李红	●●●
张玉	●●●●●●●●●●●●●●
刘方	●●●●●

1. 完成下面的统计图。



2. 填写下面的统计表。

姓名	王明	李红	张玉	刘方
朵数				

3. 张玉比刘方多 () 朵, 李红比王明少 () 朵。

15. 小白兔一共收获了38个萝卜。


- (1) 如果送给山羊伯伯8个萝卜，那么还剩多少个？
- (2) 如果送给山羊伯伯30个萝卜，那么还剩多少个？



16.教师节那天，小朋友们准备了一些礼物送给老师，已经送出了27份，还剩9份没送，小朋友们一共准备了多少礼物？

哥哥比妹妹大几岁？

17.



哥哥比妹妹大几岁？

我是妹妹，今年9岁。

我是哥哥，今年15岁。

18.20个同学排成一排，小强的前面有8人，小强的后面有几人？