

# 人教版数学二年级期末卷

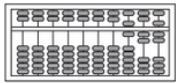
## 一、填空题

1. 看图写数、读数。（算盘最右边的一档作为个位）



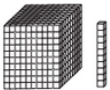
写作：（ ）

读作：（ ）



写作：（ ）

读作：（ ）



写作：（ ）

读作：（ ）

2. 与999相邻的两个数是（ ）和（ ）。

3. 2800里面有（ ）个百；45个十是（ ）；由8个千、2个十和4个一组成的数是（ ），它的近似数是（ ）。

4. 在（ ）里填上合适的质量单位。



300（ ）



150（ ）



62（ ）



4（ ）

5. 按○□□●●●○□□●●●○□□●.....这样的顺序排下去，第40个是（ ）。

6. 将下面的左图通过平移后可以得到的鱼图是（ ）。



①



②



③



7.下面各数中，最接近3000的是（）

①299

②3100

③2995

8.下面算式中，去掉小括号后并不改变计算结果的是（）。

① $(12-5) \times 2$

② $(3 \times 6) - 11$

③ $50 - (20 - 13)$

9.在计算 $\square \div 8 = 5 \dots \star$ 中，当余数最大时，被除数应是（）

①41


②47


③48


10.  +  = 8 千克

 +  = 5 千克

 +  = 9 千克

 = ( ) 千克

 = ( ) 千克

 = ( ) 千克

## 二、解答题

11.看谁算得对又快。

$45 \div 9 =$

$48 \div 6 =$

$340 - 80 =$

$350 + 70 =$

$680 - 600 =$

$63 \div 9 =$

$70 \div 8 =$

$28 \div 7 =$

$81 \div 9 =$

$20 \div 4 =$

$23 \div 7 =$

$52 \div 9 =$

$56 \div 8 =$

$60 \div 7 =$

$45 \div 5 =$

$9 \div 1 =$

12. 买电器。



小冰箱  
1000元



电视机  
5500元

- (1) 买一台小冰箱比买一台电视机便宜多少钱？
- (2) 买一台电视机和一台小冰箱，一共需要多少钱？


13. 乘车去机场。



大车限坐乘客7人



小车限坐乘客4人



- (1) 如果都坐大车，至少需要几辆车？
- (2) 如果都坐小车，至少需要几辆车？
- (3) 如果大车小车可以搭配乘坐，请给出一种乘车方案。