

人
教
版

2021年秋季学期素质教育期中测试卷

一年级数学 (期中)

总分: _____


(内容: 第2~58页; 时间: 60分钟; 满分: 100分)

一、我会填。(每空1分, 共26分)


1. 数一数, 在括号里填上合适的数。



()



()





()



()

2. 按顺序填数。



3. 在○里填上“>”、“<”或“=”。

$7 \bigcirc 5$

$6 \bigcirc 9$

$8 \bigcirc 6$

$2+1 \bigcirc 3$

$0 \bigcirc 3$

$1 \bigcirc 4$

$3 \bigcirc 6$



$8 \bigcirc 4-1$



4. 数一数, 填一填。










(1) 一共有 () 只动物。

(2) 把右边的第2只动物圈起来。

(3) 从左边数起,  排在第 _____ 个,  排在第 _____ 个。

(4) 从右边数起,  排在第 _____ 个,  排在第 _____ 个。

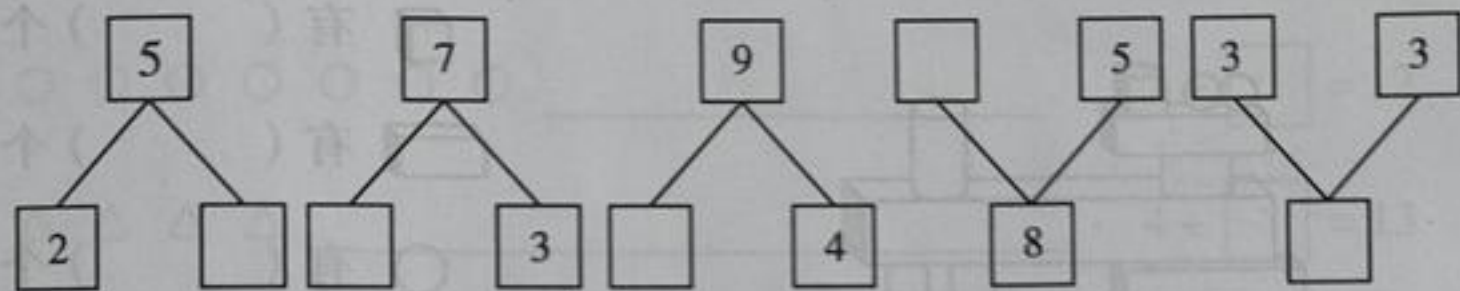


 比  多 () ;
 比  少 () ;
 再添上 () 个  ,
 和  同样多。



二、算一算。(共 27 分)

1. 在□里填上合适的数。(每空 1 分, 共 5 分)



2. 直接写出得数。(每空 1 分, 共 16 分)

$4 - 1 =$	$6 + 1 =$	$7 - 3 =$	$3 + 4 =$
$2 + 3 =$	$4 + 1 =$	$5 - 2 =$	$0 + 5 =$
$1 + 3 =$	$5 - 1 =$	$2 - 0 =$	$7 - 4 =$
$6 - 5 =$	$2 + 5 =$	$8 - 5 =$	$2 + 2 =$

3. 在 () 里填上合适的数。(每空 1 分, 共 6 分)

$3 + () = 5$	$() + 4 = 5$	$6 - () = 1$
$0 + () = 4$	$() + 1 = 4$	$8 - () = 2$

三、我会画。(共 10 分)

1. 看一看, 画一画。(6 分)

(1) 在☆的上面画○。

(2) 在☆的右边画△。

(3) 在◇的左边画□。



2. 按要求画图。(4分)

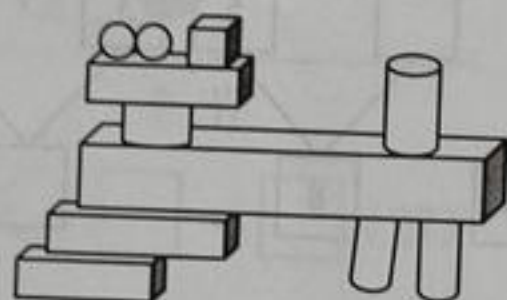
(1) 画□, 比△多3个。

△ △ △ △

(2) 画○, 比☆少2个。

☆ ☆ ☆ ☆ ☆ ☆ ☆ ☆

四、数一数, 填一填。(每空2分, 共8分)



□ 有 () 个

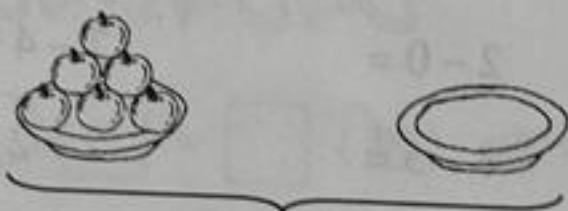
▬ 有 () 个

○ 有 () 个

◡ 有 () 个

五、看图填空。(12分)


1.



? 个


$$\square \bigcirc \square = \square (\text{个})$$

2.



$$\square \bigcirc \square = \square (\text{盆})$$

3.



? 只鸡

$$\square \bigcirc \square = \square (\text{只})$$

4.



? 只

$$\square \bigcirc \square = \square (\text{只})$$

六、解决问题。(每题4分,共17分)

1. 一共有6个苹果,还剩几个苹果?(4分)

$$\square \bigcirc \square = \square (\text{个})$$



我吃了2个。

2. (5分)



一共有_____只,

右边有_____只。

左边有几只?

$$\square \bigcirc \square = \square (\text{只})$$

3. (4分)



我采了5个蘑菇。

哎! 一个都没采到。

它们一共采了几个蘑菇?

$$\square \bigcirc \square = \square (\text{个})$$



4. 还剩下多少本?(4分)



$$\square \bigcirc \square = \square (\text{本})$$