

2020-2021学年湖南蒸湘区祝融小学一年级上学期 期中数学试卷

一、我是填空小能手

(本大题共6小题，共21分)

1. (1分) 在 3 , 5 , 7 , 0 , 8 中 , 大于 7 的数是 _____ .

2. (4分) 按规律填数 .



3. (8分)

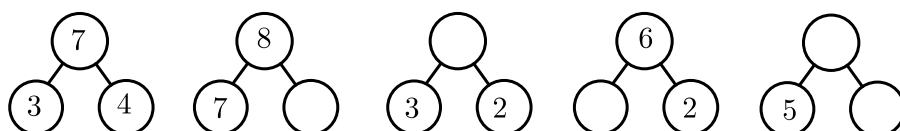


- (1) 从左往右数，小兔子排第 _____ 位，小狗排第 _____ 位 .
- (2) 从右往左数，排第四位的是 _____ ，排第五位的是 _____ .
- (3) 小鸭子前面有 _____ 只小动物，后面有 _____ 只小动物 .
- (4) 小马的前面是 _____ ，后面是 _____ .

4. (1分) $\{\quad\} < 7$, $\{\quad\}$ 里面可以填 _____ . (至少写 4 个)

5. (2分) 比 5 多 2 的数是 _____ , 比 5 少 2 的数是 _____ .

6. (5分) 填数 .



二、我会选

(本大题共5小题，每小题2分，共10分)

7. (2分) 比 6 小的数是 () .

A. 0

B. 6

C. 8

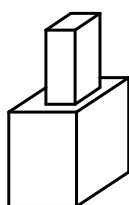
8. (2分) 下面能用 5 来表示的是 () .

A. $\phi\phi\phi$


B. $\nabla\nabla\nabla\nabla$

C. $\diamond\diamond\diamond$

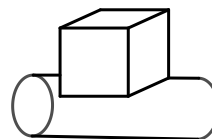
9. (2分) 下列图形中能放稳的是 () .



①



②



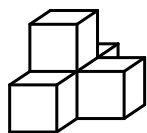
③

A. ②

B. ①

C. ③

10. (2分)



左图中一共有 () 个正方体 .

A. 5

B. 4

C. 6

11. (2分) () + 3 = 7 , 括号里填 () .

A. 5

B. 4

C. 6

三、计算大闯关

(本大题共2小题，共18分)

12. (12分) 别粗心，要全对！

(1) $3 + 3 =$

(2) $8 - 0 =$

(3) $6 - 2 =$

(4) $3 + 2 =$

(5) $2 + 4 =$

(6) $1 + 7 =$

(7) $4 + 4 =$


(8) $5 + 3 =$


(9) $6 - 6 =$


(10) $6 + 2 =$


(11) $9 - 3 =$


(12) $5 - 2 =$


13. (6分) 在  里填上 “>” “<” 或 “=” .

(1) $3 + 4$  7 .

(2) $5 - 3$  $3 + 1$.

(3) $8 - 3$  $5 + 2$.

(4) $9 - 6$  $8 - 7$.

(5) $4 + 2$  8 .

(6) 8  $4 + 4$.

四、我是画图小达人

(本大题共3小题，每小题2分，共6分)

14. (2分) 画 \triangle 与 \star 同样多 .

$\star\star\star\star$

15. (2分) 画 \bigcirc 比 \square 多 1 个 .

$\square\square\square\square$

16. (2分) 画 \square 比 \triangle 少 2 个 .


△△△△△△

五、我会简单的推理（连一连）


（本大题共1小题，共10分）

17. (10分) 我会简单的推理：花花的衣帽间。（连一连）

我在裙子的左边。



我在最上面。







我在最下面。



我在  的上面。




我在裙子的右边。

六、看图列式我在行

（本大题共4小题，每小题3分，共12分）

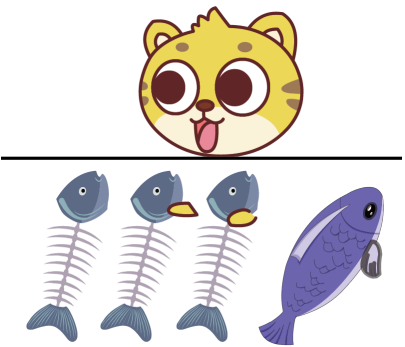
18. (3分) 看图列式我在行。




$\square + \square = \square$ （只）

19. (3分) 看图列式我在行。

$\square \bigcirc \square = \square$ （条）。




20. (3分) 看图列式我在行 .



$$\square \bigcirc \square = \square (\text{人})$$

21. (3分) 看图列式我在行 .



$$\square \bigcirc \square = \square (\text{只})$$

七、我会解决生活中的问题

(本大题共4小题，共23分)

22. (5分) 我会解决生活中的问题 .

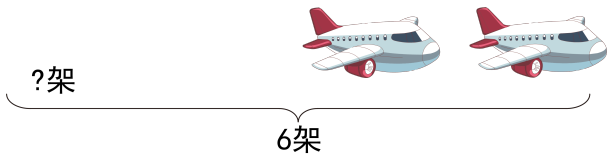
一共有 9 只  .



湖里还剩下几只天鹅 ?

$$\square \bigcirc \square = \square (\text{只}) .$$

23. (6分)



一共有 ____ 架飞机，飞走了 ____ 架飞机，还剩几架飞机？


$\square \bigcirc \square = \square$ (架)

24. (5分) 一共有 9 个大蘑菇，大树后面有几个？

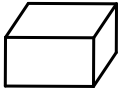
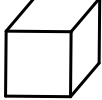




$\square \bigcirc \square = \square$ (个)

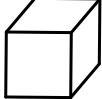
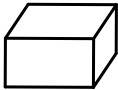
25. (7分) 数一数，填一填。



(1)

			
____ 个	____ 个	____ 个	____ 个

(2) ____ 和 ____ 同样多。

(3)  比  少 ____ 个。