


2020-2021学年衡阳市石鼓区一年级上学期 期中数学试卷

一、填空题

(本大题共6小题，共25分)

1. (3分) 数一数，写一写，

(1)



(2)

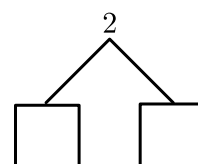


(3)



2. (7分) 填上合适的数 .

(1)

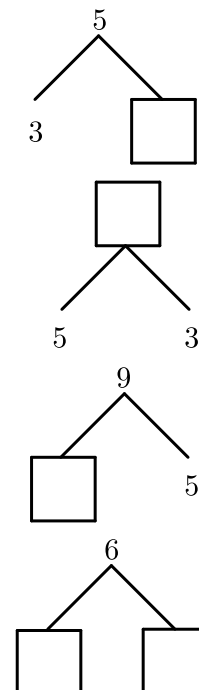


(2)

(3)

(4)

(5)



3. (5分) 按顺序填数 .

(1)

2		4	
---	--	---	--

(2)

	9		7	
--	---	--	---	--

4. (4分) 数一数 , 圈一圈 , 画一画 .



(1) 一共有 _____ 只小动物 , 从右数小兔排第 _____ .

(2) 把左边的 4 只小动物圈起来 , 在左边第 4 只小动物的头上画上 Δ .

5. (4分) 在横线里填上 “ + ” 或 “ - ” .

(1) 7 _____ $2 = 9$

(2) 9 _____ $4 = 5$

(3) 0 _____ $8 = 8$

(4) 10 _____ $4 = 6$

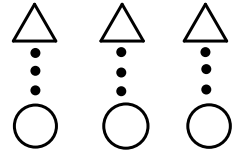
6. (2分) 8 的前面是 _____ , 8 的后面是 _____ .

二、比一比

(本大题共2小题 , 共15分)

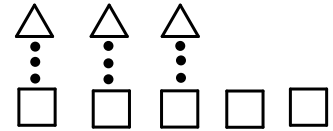
7. (5分) 比一比 .

(1)



_____ 和 _____ 同样多 .

(2)



_____ 比 _____ 多 , 多 _____ .

8. (5分) 在横线上填上 “>” “<” 或 “=” .

(1) 8 _____ 7

(2) 9 _____ 10

(3) $10 + 1$ _____ $10 - 1$

(4) $2 + 5$ _____ $8 - 1$

9. (5分) 请将下面的数按顺序排一排 .



_____ < _____ < _____ < _____ < _____

三、算一算

(本大题共2小题 , 共18分)

10. (10分) 口算 .

(1) $4 - 4 =$

(2) $7 + 2 =$

(3) $4 + 6 =$

(4) $10 - 3 =$

(5) $6 - 3 =$

(6) $1 + 5 + 3 =$

(7) $3 + 5 - 1 =$

(8) $4 + 3 + 0 =$

(9) $10 - 1 - 9 =$

(10) $5 - 5 + 3 =$

11. (8分) 在横线里填上合适的数 .

(1) $3 + \underline{\quad\quad} = 6 .$

(2) $\underline{\quad\quad} + 5 = 9 .$

(3) $8 - \underline{\quad\quad} = 5 .$

(4) $\underline{\quad\quad} - 2 = 0 .$

(5) $3 + \underline{\quad\quad} = 9$

(6) $\underline{\quad\quad} - 2 = 5$

(7) $\underline{\quad\quad} - 7 = 1 .$

(8) $6 = 4 + \underline{\quad\quad} .$

四、我会列式

(本大题共1小题 , 共4分)

12. (4分)



$\square + \square = \square$

$\square + \square = \square$

$\square - \square = \square$

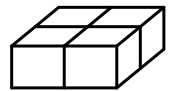
$\square - \square = \square$

五、数一数 , 画一画

(本大题共4小题 , 共20分)

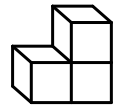
13. (6分) 数一数下图中分别有几个正方体 .

(1)



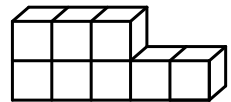
_____ 个 .

(2)



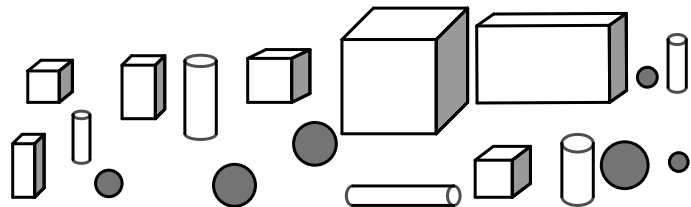
_____ 个 .

(3)



_____ 个 .

14. (8分) 按要求填空 .



正方体	圆柱	长方体	球
_____ 个	_____ 个	_____ 个	_____ 个

15. (4分) 画一画 .

(1) 画口比☆少3个 .

☆☆☆☆☆

(2) 画△, 比○多2个 .

○○○


16. (2分) 请圈出左手拿花的小朋友 .



六、看图列式

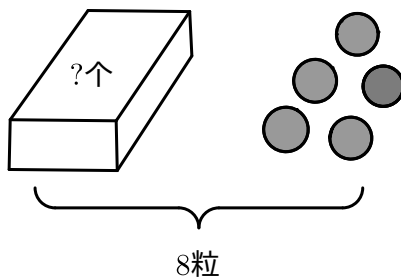
(本大题共6小题，每小题3分，共18分)

17. (3分)



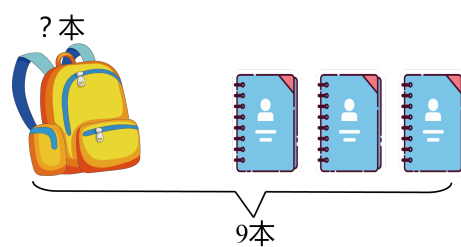
$$\square \bigcirc \square = \square (\text{只})$$

18. (3分)



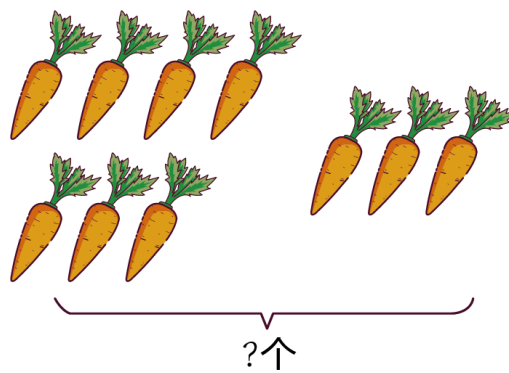
$$\square \bigcirc \square = \square (\text{粒}) .$$

19. (3分)




$$\square \bigcirc \square = \square (\text{本}) .$$

20. (3分) 看图列式计算 .

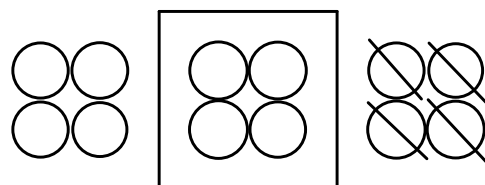


21. (3分)



$$\square \bigcirc \square \bigcirc \square = \square \text{ (只)}$$

22. (3分)



$$\square \bigcirc \square \bigcirc \square = \square$$

附加题

(本大题共1小题，共10分)

23. (10分) 小朋友排队，从前面数红红排第 3，从后面数也排第 3，这队共有多少人？