

2020-2021学年赣州市文清路小学二年级上学期 期中数学试卷

一、口算

(本大题共16小题 , 每小题1分 , 共16分)

1. (16分) 计算 .

(1) $80 + 2 =$

(2) $70 - 50 =$

(3) $5 + 78 =$

(4) $48 - 30 =$

(5) $79 - 8 =$

(6) $40 + 60 =$

(7) $47 + 4 =$

(8) $64 - 20 =$

(9) $73 - 5 =$

(10) $34 + 53 =$

(11) $53 - 32 =$

(12) $67 - 21 =$

(13) $2 + 5 =$

(14) $5 \times 5 =$

(15) $5 \times 3 =$

(16) $4 \times 5 =$

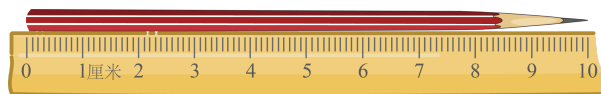
二、填空

(本大题共7小题 , 共21分)

2. (2分) 一个角有 _____ 个顶点 , _____ 条边 .

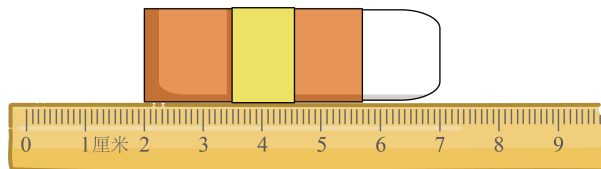
3. (4分) 下面的物体分别长几厘米 ?

(1)



笔长 _____ 厘米 .

(2)



橡皮长 _____ 厘米 .

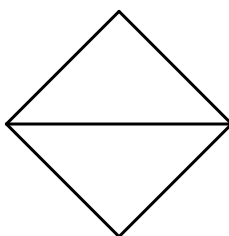
4. (4分) 下面的图形中分别能找出几条线段 ?

(1)



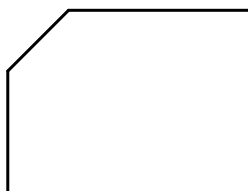
_____ 条

(2)



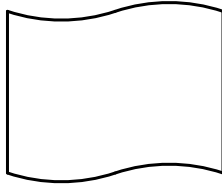
_____ 条

(3)



_____ 条

(4)



_____ 条

5. (3分) 算式 $5 \times 1 =$ _____ , 读作 _____ , 用口诀 _____ 来计算 .

6. (4分) 填一填 .

(1) $5\text{厘米} + 35\text{厘米} =$ _____ 厘米 .

(2) $62\text{米} - 7\text{米} =$ _____ 米 .

(3) $1\text{米} - 45\text{厘米} =$ _____ 厘米 .

(4) $36\text{厘米} + 64\text{厘米} =$ _____ 米 .

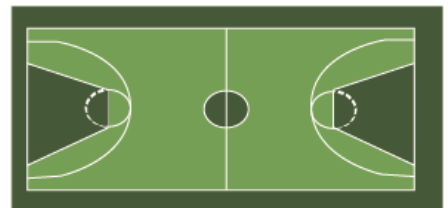
7. (3分) 在横线里填上合适的长度单位 .

(1)



旗杆高约 15 _____ .

(2)



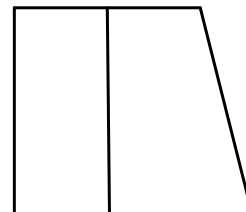
篮球场长约 28 _____ .

(3)



叶子长约 10 _____ .

8. (3分) 下图中, 有 _____ 个直角, _____ 个钝角, _____ 个锐角 .



三、笔算

(本大题共4小题，共14分)

9. (14分) 笔算 .

(1) $18 + 39 = .$

(2) $64 - 46 = .$

(3) $48 + 26 - 39 = .$

(4) $53 - (9 + 37) = .$

四、判断题

(本大题共5小题，每小题1分，共5分)

10. (5分) 判断题 . (对的打 “✓” ，错的打 “×”)

1. 100厘米的绳子比 1米的绳子长 . ()

2. 比 56多 9的数是 65 . ()

3. 课桌上的直角比三角尺上的直角大 . ()

4. 一个三角形中至少有两个锐角 . ()

5. 小明和 2个好友，每人带 5支笔，一共带了 10支笔 . ()

五、按要求画一画

(本大题共3小题，共16分)


11. (3分) 画一条比 6厘米短 2厘米的线段 .

12. (4分) 以下面的点为顶点，画出一个锐角；以给出的线为边，画一个钝角 .



13. (10分) 按要求画○，写一写。

(1) 每组画 2 个，画 3 组。




加法算式：_____

乘法算式：_____

或 _____

(2) 每组画 5 个，画 2 组。



加法算式：_____

乘法算式：_____


或 _____

六、解决问题

(本大题共5小题，共28分)

14. (5分) 小明的身高是 80 厘米，离 1 米还差多少厘米？

15. (5分) 在钟面上，每个大格有 5 个小格，4 大格有几小格？



16. (5分) 二(1)班有男生 19 人, 女生 24 人. 如果每人分一个苹果, 40 个苹果够分吗?

17. 一本故事书有 96 页. 小平第一天看了 29 页, 第二天看了 26 页, 还剩多少页没有看?

18. (8分)



小红

我得的星星比小林少 8 颗.

我得了 25 颗星星.



小林

(1) 小红得了几颗星星?

(2) 两人一共得了几颗星星?