


# 2020-2021学年宝鸡市经二路小学二年级上学期 期中数学试卷

## 一、填空题

( 本大题共9小题，共33分 )

1. 数一数，填一填 .



每盘有 \_\_\_\_\_ 个，有 \_\_\_\_\_ 盘，求一共有多少个果子，就是求 \_\_\_\_\_ 个 \_\_\_\_\_ 相加，写成加法算式是 \_\_\_\_\_，写成乘法算式是 \_\_\_\_\_ .

2.  $4 \times 9 = 36$  读作 \_\_\_\_\_，其中 4 和 9 是 \_\_\_\_\_，积是 \_\_\_\_\_ .

3. 一个星期有 7 天，4 个星期有 \_\_\_\_\_ 天 .

4. \_\_\_\_\_ 张  和 \_\_\_\_\_ 张  合起来能换 1 张 .



左图的人民币共 \_\_\_\_\_ 元 \_\_\_\_\_ 角 .

5. 将下面物品价格从低到高的顺序排列 . ( 填序号 )



18 元 9 角



16 元 5 角



48 元 3 角



12 元 4 角

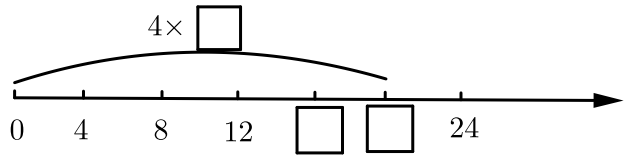


35 元 7 角

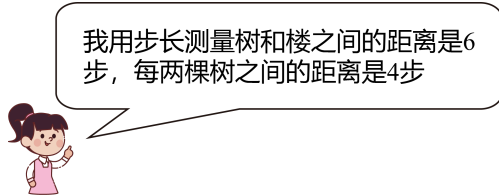
\_\_\_\_\_ < \_\_\_\_\_ < \_\_\_\_\_ < \_\_\_\_\_ < \_\_\_\_\_ .

6. 找规律，填一填 .

$$4 \times 6 = 4 \times 4 + 4 \times \square .$$



7. 如图，两栋楼之间的距离有 \_\_\_\_\_ 步。



8. 填空。

( 1 ) 8角 + 6角 = \_\_\_\_\_ 元 \_\_\_\_\_ 角。

( 2 ) 4元 = \_\_\_\_\_ 角。

( 3 ) 5元 8角 = \_\_\_\_\_ 角。

( 4 ) 5角 = \_\_\_\_\_ 分。

9. 根据口诀写算式。

三九二十七 \_\_\_\_\_

四八三十二 \_\_\_\_\_

五八四十 \_\_\_\_\_

## 二、选择正确答案的字母填在 ( ) 里。

( 本大题共5小题，每小题1分，共5分 )

10. (1分) 选择正确答案的字母填在括号里。

下面说法中不正确的是 ( )。

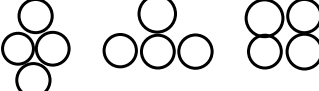
A. 一张  可以换 2张 

B. 一张  可以换 5张 

C. 一张  可以换 10枚 

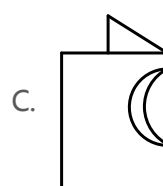
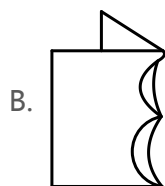
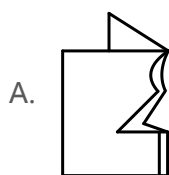
11. (1分) 下面 ( ) 个图形不能用  $4 \times 3$  表示。

A. 

B. 

C. ○○○ ○○○

12. (2分)  图案是从下面 ( ) 张纸上剪下来的。



13. (1分) 笑笑有 4元 6角钱，买橡皮用去 3元，还剩 ( )。

A. 4元 3角

B. 1元 3角

C. 1元 6角

14. (1分) 下面图形的运动，属于旋转的有 ( ) 个。



A. 1

B. 2

C. 3

### 三、判断

( 本大题共5小题，每小题1分，共5分 )

15. (5分) 判断。( 对的画 “√”，错的画 “×” )

1. 每句乘法口诀都能写出两道乘法算式。( )

2. 3个 5相加和 5个 3相加的意思不一样。( )

3.  $4 \times 9 = 36$ 表示 4个 9的积是 36。( )

4. 在计算  $5 \times 4$ 和  $4 \times 5$ 时都用乘法口诀 “四五二十”。( )

5. 因为  $2 \times 2 = 2 + 2$ ，所以  $3 \times 3 = 3 + 3$ 。( )

### 四、计算

( 本大题共3小题，共28分 )

16. (10分) 直接写出得数。

( 1 )  $90 - 45 =$

( 2 )  $23 + 19 =$

( 3 )  $3 \times 7 =$

( 4 )  $16 + 9 =$

( 5 )  $5 \times 5 =$

( 6 )  $28 + 7 =$

( 7 )  $5 \times 3 =$

( 8 )  $4 \times 9 =$

( 9 )  $23 - 7 =$

( 10 )  $4 \times 7 =$

17. (6分) 横线上能填几 .

( 1 )  $3 \times \underline{\quad\quad} = 15 .$

( 2 )  $\underline{\quad\quad} \times 8 = 24 .$

( 3 )  $9 \times \underline{\quad\quad} = 36 .$

( 4 )  $4 \times \underline{\quad\quad} = 6 \times 2 .$

( 5 )  $4 \times \underline{\quad\quad} = 2 \times 8 .$

( 6 )  $\underline{\quad\quad} \times 8 = 4 \times 6 .$

18. (12分) 竖式计算 .

( 1 )  $37 + 25 + 36 =$

( 2 )  $74 - 18 - 29 =$

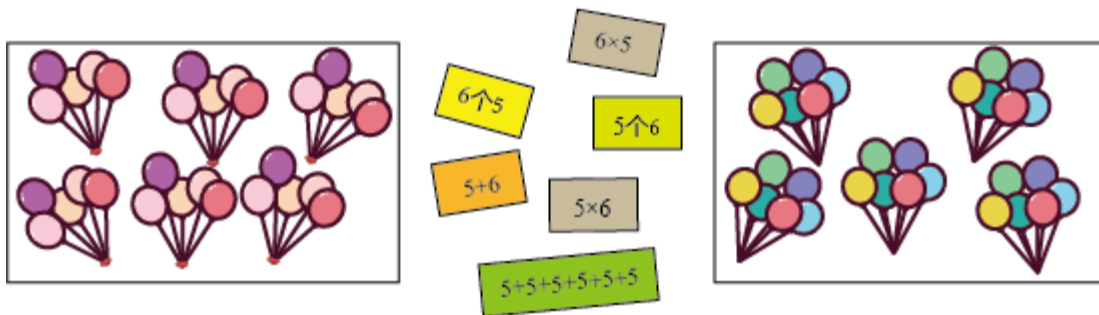
( 3 )  $90 - 26 + 23 =$

( 4 )  $36 + 62 - 47 =$

## 五、动手动脑

( 本大题共2小题 , 共8分 )

19. (6分) 想一想 , 连一连 .



20. (2分) 自己喜欢的图形画一画 .

例：  $3 \times 2$     ○○○    ○○○或○○ ○○ ○○

$4 \times 3$  .

## 六、解决问题

( 本大题共4小题，共21分 )

21. 采野果，小熊采的野果比刺猬的少 13个，小熊和松鼠一共采了多少个野果？

38个	16个	个

22. 买文具 .



书包56元

彩笔18元

转笔刀6元


文具盒9元

( 1 ) 淘气买 4只转笔刀花了多少元？

( 2 ) 笑笑买一个书包和一盒彩笔付了 100元，应找回多少元？


( 3 ) 奇思拿 50元去买两件不同文具，买 \_\_\_\_\_ 和 \_\_\_\_\_ 剩的钱最多 .

23. 32名同学去汽车博物馆参观，租用 5辆下面这样的车，够吗？



限乘坐 7人。

24. 淘气想买一件上衣，从下面人民币中取出他恰好所需的钱，请你帮淘气选一选，在选中的人民币下面的口内打“√”并用计算说明你这样选的理由。



上衣 66元



裤子 45元



裙子 88元

\_\_\_\_\_ = \_\_\_\_\_ (元)