

2021~2022学年海南海口二年级上学期期中数学试卷

一、口算

(本大题共1小题, 共20分)

1. 口算.

(1) $6 + 3 =$

(2) $43 - 30 =$

(3) $2 \times 6 =$

(4) $1 \times 5 =$

(5) $12 - 5 =$

(6) $32 + 8 =$

(7) $3 \times 3 =$

(8) $4 \times 2 =$

(9) $52 + 6 =$

(10) $27 - 7 =$

(11) $6 \times 3 =$

(12) $5 \times 4 =$

(13) $46 - 10 =$

(14) $80 - 62 =$

(15) $4 \times 2 =$

(16) $3 \times 1 =$

(17) $6 + 24 =$

(18) $9 + 53 =$

(19) $5 \times 6 =$

(20) $2 \times 3 =$

(21) $70 + 22 =$

(22) $45 - 5 =$

(23) $4 \times 3 =$

(24) $6 \times 4 =$

(25) $37 - 9 =$

(26) $36 + 30 =$

(27) $6 \times 6 =$

(28) $1 \times 2 =$

(29) $5 \times 4 + 4 =$

(30) $6 \times 3 - 9 =$

(31) $14 + 4 \times 2 =$

(32) $3 \times 5 - 7 =$

(33) $1 \times 5 + 8 =$


(34) $30 - 2 \times 6 =$

二、想一想，填一填

(本大题共8小题，共24分)

2. 先圈一圈，再填空.



10个，每2个分成1份，可以分成 _____ 份，算式是 _____，其中被除数是 _____，除数是 _____，商是 _____.


3.

(1) 6乘5写作 _____.

(2) $20 \div 4$ 读作 _____.

4. 72比28多 _____；3个6比4个6少 _____.

5. 照样子，找规律，填一填.

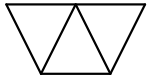


6. 小明要看一本80页的故事书，前4天每天看6页．第5天应从第 _____ 页开始看．

7. 小芳和小丽一起拍皮球，小芳拍了45下，小丽拍的比小芳多，小丽最少拍了 _____ 下．

8. 两个乘数都是4，积是 _____.

9. 左图中一共有 _____ 个四边形，其中有 _____ 个是平行四边形。



三、列竖式计算

(本大题共1小题，共9分)

10. 列竖式计算。

$$95 - 24 - 16 =$$

11. 列竖式计算。

$$37 + 48 + 9 =$$

12. 列竖式计算。

$$70 - 33 + 26 =$$

四、填空

(本大题共1小题，共12分)

13. 在横线上填上“<”“>”或“=”。

(1) $6 + 6$ _____ 6×6 .

(2) 6×3 _____ 3×6 .

(3) $7 + 20 + 36$ _____ 60 .

(4) 4×5 _____ 30 .

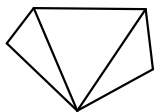
(5) $4 \times 2 + 4$ _____ 10 .

(6) $46 - 6 \times 4$ _____ 46 .

五、按要求分一分

(本大题共2小题，每小题3分，共6分)

14. 按要求分一分。



全部分成三角形，最少分成 _____ 个三角形。

15. 按要求分一分。

用一条直直的线分成一个三角形和一个五边形。



六、看图列算式

(本大题共2小题，每小题4分，共8分)

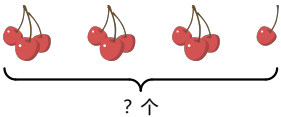
16. 看图列算式.



加法算式: _____

乘法算式: _____

17. 看图列算式.



$\square \bigcirc \square \bigcirc \square = \square (\quad)$.

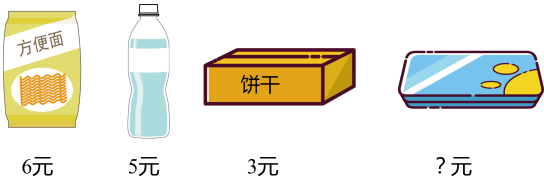
七、解决问题

(本大题共3小题，共21分)

18. 一辆公交车上原来有54人，经过某站台时下了19人，又上来21人。现在这辆公交车上有多少人？

19. 东东写了36个大字，再写8个就跟红红同样多了。红红写了多少个大字？

20.



(1) 一个文具盒比一包方便面贵29元，一个文具盒多少元？

(2) 买4瓶水和一盒饼干一共要花多少钱？