

准考证号: _____ 姓名: _____

(在此卷上答题无效)

2020—2021 学年(上)厦门市初三年质量检测

历史

本试卷分为第Ⅰ卷(选择题)和第Ⅱ卷(非选择题)两部分,第Ⅰ卷1至4页,第Ⅱ卷5至6页。满分100分。

注意事项:

1. 全卷两大题,共 34 小题,试卷共 6 页。
2. 答案一律写在答题卡上,否则不能得分,交卷时只交答题卡。

第 I 卷 选择题

一、选择题:本题共 30 小题,每小题 2 分,共 60 分。在每小题给出的四个选项中,只有一项最符合题目要求。

1. 图 1 中的文字是

- A. 象形文字
B. 楔形文字
C. 梵文
D. 拉丁字母



图 1 古埃及书记员

2.《汉谟拉比法典》诞生于

- A. 尼罗河流域 B. 两河流域 C. 印度河流域 D. 恒河流域

3. 这种以婆罗门为首的等级制度约束了变革,尤其是社会变革。该制度是

- A. 种姓制度 B. 封建制度 C. 幕府制度 D. 农奴制度

4. 小鹭认为图 2 不能用来反映伯里克利时期雅典公民大会的状况。主要原因在于

- A. 召开时间
B. 参会人员
C. 建筑风格
D. 装饰器物





图 2

5. “用最迅速最深入的方式将希腊文化灌注到亚洲”,而“东方的影响也以席卷一切之势涌入西方”。历史学家布恩的观点反映出亚历山大的扩张
- A. 使东方从属于西方 B. 改变了文明交流的方式
- C. 打通了亚欧商贸通道 D. 促进了东西方文明交流
6. “他完成了从共和国到君主国的转变,为罗马帝国注入了新的稳定性”。“他”是
- A. 苏格拉底 B. 亚里士多德 C. 凯撒 D. 屋大维
7. “到他们那个时代为止,古罗马人可能是人类历史上最杰出的建筑工程师”。下列不能证明这一说法的遗址是




A B C D

8. 凯撒对古罗马的历法进行了改革。改革后的历法被称为
- A. 太阳历 B. 太阴历 C. 儒略历 D. 俄历
9. 中世纪,法兰克国王克洛维通过皈依宗教巩固统治。该宗教是
- A. 佛教 B. 道教 C. 基督教 D. 伊斯兰教
10. “中世纪的骑士同时也是拥有田产的乡绅……他们的庄园里能够出产供吃、喝、穿的一切物品”。由此可以判断中世纪庄园的特征是
- A. 基本自给自足 B. 商品经济发达 C. 严格禁止竞争 D. 法律体系健全
11. 被称为中世纪教育“最美好的花朵”的是
- A. 教会 B. 庄园 C. 城市 D. 大学
12. 这部以东罗马帝国皇帝命名的法律代表了罗马法的复兴,是罗马留给世界的宝贵遗产之一。该法律是
- A. 《十二铜表法》 B. 《查士丁尼法典》 C. 《人权宣言》 D. 《拿破仑法典》
13. “他们采纳了唐朝的均田制,土地频繁地重新分配给公民,以保证公平”。材料中的现象可能发生在日本的
- A. 贞观年间 B. 大化年间 C. 开元年间 D. 明治年间
14. 孕育于阿拉伯文化的沃土,被认为是世界上最著名故事集的是
- A. 《荷马史诗》 B. 《天方夜谭》 C. 《哈姆雷特》 D. 《高老头》
15. 他是英国的“戏剧全才”,创作的《罗密欧与朱丽叶》等作品能深刻地描摹人类的精神状态。他是
- A. 但丁 B. 达·芬奇 C. 莎士比亚 D. 列夫·托尔斯泰
16. 法国大革命并非只是一场制度的变革,革命时期还制定了法语的使用规范,如发音标准、拼写和语法,废止了方言的使用。这说明法国大革命
- A. 摧毁法国君主统治 B. 传播自由民主思想
- C. 具有世界性的影响 D. 增强民族文化认同

17. 网上资料不乏常识性错误。图 4 中错误的是

拿破仑·波拿巴的一生事迹简介



在历史上，法国的拿破仑是个非常有名的人物。
①他打退了以英国为首的反法同盟，②建立了法兰西第一共和国。
③并颁布了第一部资产阶级民法典，④传播了大革命的成果。

<http://baijiahao.baidu.com/s? ...> 百度快照

图 4

- A. ① B. ② C. ③ D. ④

18. 玻利瓦尔说：“独立是唯一的赐福，要以其他一切为代价。”为此他领导了

- A. 斯巴达克起义 B. 美国南北战争 C. 拉丁美洲独立运动 D. 印度民族大起义

19. 图 5 简要描述了某位伟大

人物的一生。据此判断该

人物是

- A. 克伦威尔
B. 华盛顿
C. 马克思
D. 斯大林




图 5

20. 波戈金说：“彼得大帝把俄罗斯变成欧洲的一员，并开始为它赢得尊重。”卡拉姆津则认为

“我们变成了世界公民，但在某些方面却没有成为俄罗斯公民。这个过错是彼得的”。这

说明

- A. 历史是可以任意解释的 B. 后人对历史人物评价都是不正确的
C. 历史是绝对客观公正的 D. 人们可以从不同角度评价历史人物

21. 1861 年废除农奴制法令颁布后，俄国农民中流传着这样的说法——地主把“真正的解放”

藏起来了。这主要是因为该法令规定

- A. 无偿分配土地 B. 兴办手工工场 C. 农民需高价赎买份地 D. 鼓励西部耕种

22. 表 1 能够直接用来研究明治政府的

- A. 废藩置县
B. 殖产兴业
C. 文明开化
D. 地税改革

表1 日本明治时期工业成果（部分）

时间（年）	煤矿开采（吨）	蒸汽船数（艘）	铁路铺设（英里）
1873	600,000	26	18
1894	5,000,000	169	2100
1904	13,000,000	797	4700

23. 2020 年 6 月,数百名示威者聚集在林肯纪念堂前呼吁结束警察暴行,为黑人弗洛伊德伸张正义。他们选择这个集会地点是因为林肯

- A. 带领美国人民赢得独立
B. 签署了《宅地法》
C. 发表《解放黑人奴隶宣言》
D. 带领美国取得了一战的胜利

24. 1888 年,贝瑞塔·本茨带着她的孩子用 12 小时完成了 106 公里的驾驶,第一次展示了汽车这项发明,她购买汽油的店铺被认为是世界上第一个加油站。这辆汽车的发动机是

- A. 蒸汽机
B. 内燃机
C. 发电机
D. 电动机

25. 下列人物与成就搭配正确的是

- A. 贝多芬——《英雄交响曲》
B. 牛顿——进化论
C. 达尔文——万有引力定律
D. 爱迪生——炸药

26. 巴尔扎克将小说变成了一种伟大的艺术,使它能展现世间万物的所有色彩和细节。下列能证明这一说法的作品是

- A. 《向日葵》
B. 《复活》
C. 《战争与和平》
D. 《人间喜剧》

27. 一战后,戴维·洛创作了图 6 这幅漫画,其标题是

- A. 《来克星顿枪声》
B. 《攻占巴士底狱》
C. 《凡尔赛之锁》
D. 《华盛顿之围》




图 6

28. 《九国公约》签订后,一位记者形容了与会国家代表的心情。其中不贴切的是

- A. 中国代表欣喜若狂
B. 日本代表神情沮丧
C. 美国代表情绪高昂
D. 英国代表面无表情

29. “世界厌倦了流血,它在寻找解脱苦难的方法。我为印度独特的方式而骄傲,它教会世人如何摆脱暴力引起的混乱”。“方式”是

- A. 二月革命
B. 卡德纳斯改革
C. 华夫脱运动
D. 非暴力不合作运动

30. 图 7 所示为苏联某一时期社会结构的前后变化。导致这一变化的原因是

- A. 《和平法令》的颁布
B. 实行战时共产主义
C. 实行新经济政策
D. 苏联模式的影响

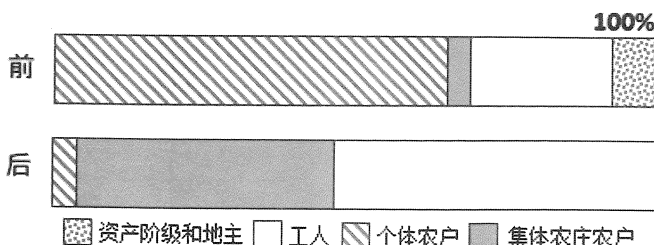


图 7

第Ⅱ卷 非选择题

二、材料解析与论述题:本大题共 4 小题,第 31 题 6 分,第 32 题 12 分,第 33 题 12 分,第 34 题 10 分,共 40 分。

31. (6 分) 阅读材料, 完成下列要求。

材料 20 世纪初欧洲主要列强形成了两个敌对阵营。尽管寻求盟友的时候是以国家利益为导向,但每一个国家都认为履行条约对自我保护至关重要。正是这种“应该参战支持盟国”的联盟体系,导致战争的来临。

——摘编自「美」本特利《新全球史》

(1)材料中两个敌对阵营的名称分别是什么?(2分)

(2) 你是否同意“正是这种‘应该参战支持盟国’的联盟体系,导致战争来临”这一观点?结合所学知识,简要说明理由。(4分)

32. (12 分) 阅读材料, 完成下列要求。

材料一

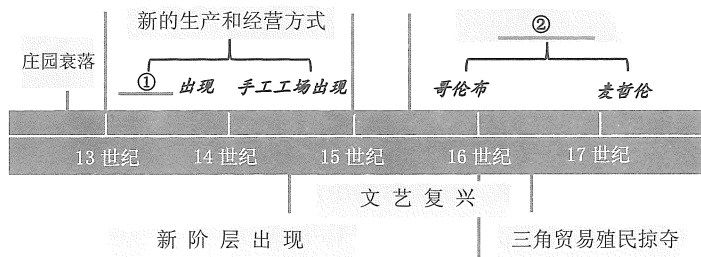


图 8 走向近代

——据马克垚《世界文明史》绘制

材料二 在意大利新的城市社会中,日益增长的财富,带来更多享受世间万物的机会,与之相伴而生的是世俗观念,以及重新看待“人”的观念。在文艺复兴时期,勇敢和好奇心被视为美德,海外探险者因此大受赞美。人们希望尽可能知道更多的事情,包括欧洲以外的世界。

——[美]斯皮瓦格尔《西方文明简史》

材料三

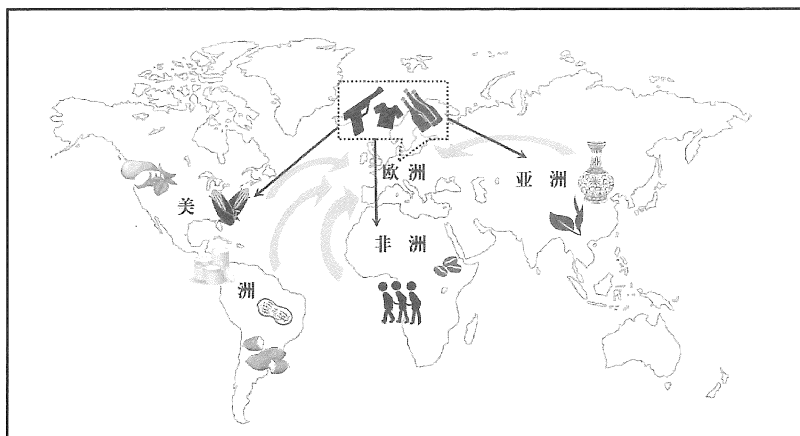


图 9 1500 年后世界物资和人员流动示意图 (部分)

——据〔美〕斯塔夫里阿诺斯《全球通史》绘制

(1)分别填写材料一中①和②的内容。(4分)

(2)材料二中的“观念”反映了哪一思潮?(2分)依据材料二概括这些“观念”的影响。(2分)

(3)分析材料三,得出一个历史结论。(2分)

(4)综合上述材料,归纳资本主义产生的条件。(2分)

33. (12 分) 阅读材料, 完成下列要求。

材料一 1689 年威廉和玛丽被宣布为英格兰国王和女王。在他们戴上王冠之前, 临时会议宣读了一个文件, 庄严地宣告: 国王不再设常备军, 不再有分配权, 不得再征收议会同意之外的税收。

——[英]西蒙·沙玛《英国史》

材料二 革命在当时不是新鲜事物, 但是一个民族如此庄严地解释他们反对压迫者、争取自己当家做主的权利, 并通过文件将这些权利宣告出来, 这是前所未有的。后来革命者们又通过立法、司法、行政分权的模式建构了他们的政府。

——[美]卡恩斯《美国通史》

材料三 沙皇政权一直依靠镇压和强迫治国, 因此政府陷入了孤立无援的境地。直到革命的洪流在 1917 年汹涌而出……彼得格勒武装起义的成功是因为它许诺给人民和平、面包、土地, 让工人成为工厂主人, 把权力交给人民——它创造了一种全新的国家和社会。

——[英]克肖《地狱之行: 1914 - 1949》

(1) 写出材料一中文件的名称。(2 分) 依据材料一简析这个文件颁布的目的。(2 分)

(2) 写出材料二中文件的名称。(2 分) 依据材料二并结合所学知识, 概括美国建构政府的原则。(2 分)

(3) 依据材料三并结合所学知识, 说明“全新的国家和社会”的含义。(2 分)

(4) 综合上述三则材料并结合所学知识, 分析三次革命的共同作用。(2 分)

34. (10 分) 阅读材料, 完成下列要求。

表 2

人物	发明与简单的经历	历史影响
凯伊	他出身贫寒, 做过钟表匠, 1733 年发明飞梭。他的邻居发现这种装置可以做两人的活, 担心这会剥夺他们的生计, 就捣毁了他的梭子。他被迫离开家乡, 在贫穷和孤独中死去。	后来他的发明还是被各地积极采用。
哈格里夫斯	他是贫穷的天才织工, 1764 年, 发明了第一台珍妮机。邻居发现并担心这一发明会夺走他们的工作, 就将珍妮机砍成了碎片。发明家夫妇被迫逃亡, 但他们还是努力改进珍妮机, 并于 1768 年获得国家专利。	慢慢地珍妮机的价值得到了认可。 1784 年英国有了 2 万多台珍妮机。
?	他身体虚弱, 喜欢摆弄机器, 曾经花费大量的时间和金钱改良蒸汽机, 经历多次失败, 于 1765 年终于成功。后来他同富商博尔顿建立了合作关系, 又申请了国家专利。晚年的他幸福而富足。	1783 年欧洲的很多煤矿都使用他改良的蒸汽机。

注: 1624 年前后英国颁布法律开始保护发明专利。

——据[美]哈特曼《全球通史》编制

(1) 材料中的“?”是谁?(2 分)

(2) 阅读材料, 提炼一个观点, 结合材料和所学知识加以论述。(8 分, 要求: 围绕主题, 观点明确, 史论结合, 逻辑清晰)